

思想政治试卷

考生须知	1. 考生要认真填写考场号和座位序号。
	2. 本试卷共 10 页, 分为两部分。第一部分选择题, 共 28 小题 (共 56 分); 第二部分非选择题, 三道大题 (共 44 分)。
	3. 试卷所有答案必须填涂或书写在答题卡上, 在试卷上作答无效。第一部分必须用 2B 铅笔作答; 第二部分必须用黑色字迹的签字笔作答。
	4. 考试结束后, 考生应将试卷和答题卡放在桌面上, 待监考员收回。

第一部分 选择题 (共 56 分)

一、选择题 在每小题列出的四个选项中, 只有一项是最符合题目要求的。本大题共 28 小题, 每小题 2 分, 共计 56 分。

垃圾分类, 利国利民。回答第 1~3 题。

1. 小波与家人一起野餐后, 准备将不同的垃圾放入印有不同标识的垃圾箱, 其中一次性塑料布应该投入印有_____标识的垃圾箱。



A



B



C



D

2. 曙光社区增设了新型再生资源回收柜, 居民只需要将垃圾分类打包, 贴上二维码, 投进回收柜, 即可获得“绿色账户”积分, 凭积分兑换生活用品、电话卡等。这一举措

- ①减少了社区生活垃圾的总体数量
- ②拓宽了居民参与民主监督的渠道
- ③利用激励机制, 引导了居民环保行为
- ④通过源头分拣, 降低了垃圾处理成本

A. ①②

B. ①③

C. ②④

D. ③④

3. 北京市某中学生设计了一款“闲置物品公益转让”APP (手机应用软件), 在符合国家卫生标准的前提下, 用户可以通过平台提供自己的闲置物品, 或找到自己需要的书籍、过期杂志和学习用品等。这一做法体现的理念是

- ①节约资源, 变废为宝
- ②绿色生活, 环保选购
- ③分类回收, 循环再生
- ④重复使用, 多次利用

A. ①②

B. ①④

C. ②③

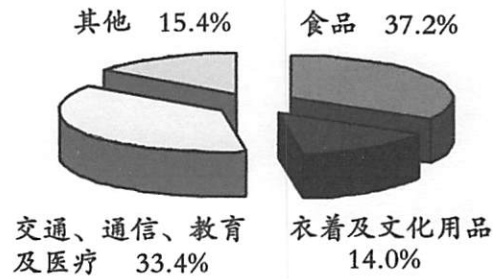
D. ③④

4. 暑假是出国旅游或游学的高峰期，很多同学都会趁此机会开阔眼界，增广见闻。出行前，如何准备好“钱袋子”，某银行给出了三点建议（右图）。这些建议的依据是



- ①信用卡集存款、消费等为一体，带来诸多便利
②旅行支票是活期存款的支付凭证，安全性更有保障
③“电子货币”具有世界货币职能，可畅通无阻
④使用现金受汇率影响，导致财富大幅缩水
- A. ①② B. ①③ C. ②④ D. ③④
5. 马铃薯（土豆），富含膳食纤维，脂肪含量低，以往多是百姓餐桌上的副食。2015 年国家启动马铃薯主粮化战略，实现这一战略需要
- ①国家制定相关政策扶持马铃薯的生产
②制定统一的市场价格保障种植户收益
③创新技术开发多种马铃薯主食产品
④加大马铃薯主粮化的宣传和引导力度
- A. ①②③ B. ①②④ C. ①③④ D. ②③④
6. “不要把所有的鸡蛋都放在同一个篮子里”的投资理念，强调的是要重视股票、债券等投资方式的
- A. 流动性 B. 灵活性 C. 风险性 D. 稳定性
7. “有形手，无形手，手拉手，向前走。”这句话在社会经济中比喻的是
- A. 市场调节同宏观调控要有机结合
B. 发展市场经济要充分发挥市场的作用
C. 发展市场经济必须建立和完善各项法律制度
D. 市场调节以宏观调控为基础，宏观调控以市场调节为取向
8. 在经济增长滞缓、经济运行主要受需求不足制约时，政府可以采取扩张性财政政策，通过增加经济建设支出，减少税收，刺激总需求增长，降低失业率，拉动经济增长。这突出体现了财政具有
- A. 改善人民生活的作用 B. 维护社会公平的作用
C. 促进资源合理配置的作用 D. 促进国民经济平稳运行的作用

9. 右图为某市居民家庭消费支出构成状况，
该图显示恩格尔系数为



- A. 14.0%
B. 37.2%
C. 33.4%
D. 15.4%
10. 在我国，公民参与管理国家和管理社会的基础和标志是，行使
- A. 监督权 B. 政治自由 C. 任免权 D. 选举权和被选举权
11. 北京市某中学 20 多名同学组建了一个“随手拍”微信群，随手拍下街头的非法小广告，通过微信传送给城管部门。城管部门接到照片核实后，会对违法行为人给予处罚。同学们的这一做法属于
- A. 通过社会公示制度参与城市治理 B. 公民依法履行社会建设的职能
C. 公民依法直接管理国家社会事务 D. 城市治理中的社会公共参与
12. “贤路当广而不当狭，言路当开而不当塞。”“大智兴邦，不过集众思。”这两句古语启示政府要
- ①审慎行使权力，坚持民主决策 ②密切联系群众，广泛集中民智
③坚持依法执政，提高执法水平 ④加大公共服务，提高行政效率
- A. ①② B. ①④ C. ②③ D. ③④
13. 我国多党合作的根本活动准则是
- A. 坚持中国共产党的领导 B. 长期共存，互相监督
C. 遵守宪法和法律 D. 肝胆相照，荣辱与共
14. 在当代国际社会，主权国家是最基本的成员。主权国家在国际社会中享有的基本权利是
- ①独立权 ②自由权 ③自卫权 ④管辖权
- A. ①②③ B. ①②④ C. ①③④ D. ②③④
15. 翻开中国历史画卷，我们发现，千百年来无论是杰出人物还是普通百姓，他们的生活方式和行为方式的背后，总印刻着儒家倡导的八目“格物、致知、诚意、正心、修身、齐家、治国、平天下”。这表明文化对人影响的特点是
- ①潜移默化 ②深远持久 ③愉悦精神 ④积极向上
- A. ①② B. ①③ C. ②④ D. ③④
16. 2016 年 11 月 30 日，中国“二十四节气”正式列入联合国教科文组织人类非物质文化遗产代表作名录。“二十四节气”是中国人通过观察太阳周年运动而形成的时间知识体

系及其实践。其中有一个节气，与我国一个传统节日和法定假日的名称相同，这个节气是

- A. 立春 B. 清明 C. 秋分 D. 冬至

17. 传统节日是一个民族或国家历史文化长期的积淀。了解自己的传统节日是公民素养的表现。对照下面节庆图片与节日名称，二者不一致的是



春节

A



元宵节

B



中秋节

C



重阳节

D

18. 张骞出使西域，玄奘西行，郑和下西洋，都带回了其他国家和民族的优秀文化，并为中华文化所吸收和借鉴。这突出体现了

- A. 中华文化源远流长 B. 中华文化的包容性
C. 中华文化一脉相承 D. 中华文化的继承性

19. “当我死时，葬我，在长江与黄河之间/枕我的头颅，白发盖着黑土/在中国，最美最母亲的国度/我便坦然睡去，睡整张大陆/听两侧，安魂曲起自长江，黄河/两管永生的音乐，滔滔，朝东……”台湾诗人余光中的这首诗，引起两岸同胞的共鸣。这种共鸣

- ①是实现中华文化创新的源泉和动力
②反映了中华文化是维系两岸同胞的精神纽带
③体现出爱国主义深深地植根于两岸同胞的心中
④体现了两岸同胞具有共同的文化认同感和归属感

- A. ①②③ B. ①②④ C. ①③④ D. ②③④

20. 某校为纪念红军长征胜利 80 周年，需要同学们搜集描写长征的诗句。以下诗句中，符合要求的是

- A. 金沙水拍云崖暖，大渡桥横铁索寒。更喜岷山千里雪，三军过后尽开颜
B. 为有牺牲多壮志，敢教日月换新天。喜看稻菽千重浪，遍地英雄下夕烟
C. 独有英雄驱虎豹，更无豪杰怕熊罴。梅花欢喜漫天雪，冻死苍蝇未足奇
D. 钟山风雨起苍黄，百万雄师过大江。虎踞龙盘今胜昔，天翻地覆慨而慷

21. 我们的思想能不能认识现实世界？我们能不能在我们关于现实世界的表象和概念中正确地反映现实？用哲学的语言来说，这个问题叫做

- A. 思维和存在有无同一性的问题 B. 思维和存在何为本原的问题
C. 物质和意识是否均是本原的问题 D. 物质是否依赖于意识的问题

22. 下列选项中，能够体现唯物论和辩证法统一的是

- A. 解放思想，实事求是
- B. 动中有静，静中有动
- C. 近朱者赤，近墨者黑
- D. 日有所思，夜有所梦

23. 右侧漫画中的做法没有正确认识到

- A. 规律是我们的感官可以直接感觉到的
- B. 规律并非都是事物本质的、必然的联系
- C. 认识规律才能改造规律
- D. 规律是客观的，不以人的意志为转移



24. 科学家具有天生好奇的品质，这种优秀的品质有助于他们

- ①透过现象认识事物的本质
 - ②发现消除矛盾的独特方法
 - ③创造事物之间的本质联系
 - ④认识和利用事物的内在联系
- A. ①② B. ①④ C. ②③ D. ③④

25.



哲学课上，老师提出这样一个问题：以上四个图形，哪一个图形与其他三个图形特征不同？请说明理由。四位同学发言如下：

甲：圆形，因为圆形是唯一没有角的图形。

乙：三角形，因为它是唯一全部由直线构成的。

丙：半圆形，因为它是唯一由直线和曲线组成的。

丁：第四个图形，因为它是唯一的不是轴对称的图形。

老师点评：大家说的都有道理。

这则材料表明

- A. 对同一个确定对象的认识，会有许多真理
- B. 事物是丰富多彩的，其性质根本无法确定
- C. 看问题的角度不同，对问题的认识会不同
- D. 价值判断是多样的，没有统一的衡量尺度

26. 记笔记有助于提高学习效率。右图为高二某同学的笔记本，“记录区”用来在上课时快速记录，“整理区”用来课后归纳重点、补充疑问，“提示区”用来写下整个笔记的提纲或延伸说明。原始的记录 → 逻辑的整理 → 关键的提示，这一方法体现的哲理主要是



- A. 运动与静止的关系
- B. 系统与要素的关系
- C. 量变与质变的关系
- D. 必然与偶然的关系

27. 中医认为感冒是风邪外袭、肺气失宣所致，大体可以分为风热型和风寒型。

	风热型	风寒型
症状	发热重、恶寒轻。表现为头胀痛、咽痛、咳吐黄痰等	发热轻、恶寒重。表现为头痛、四肢酸痛、鼻塞流涕等
用药	双黄连口服液、银翘解毒颗粒等	感冒清热颗粒、感冒软胶囊等

治疗感冒需要对症下药，这其中蕴涵的哲理是

- A. 矛盾具有普遍性
- B. 矛盾具有斗争性
- C. 矛盾具有同一性
- D. 矛盾具有特殊性

28. “苟利国家生死以，岂因祸福避趋之。”民族英雄林则徐的这一诗句，不仅激励了几代中国人抗击外国侵略、维护民族利益的斗争精神，而且在推进全面建成小康社会的今天，仍是宝贵的精神财富。这一诗句体现的人生价值观是

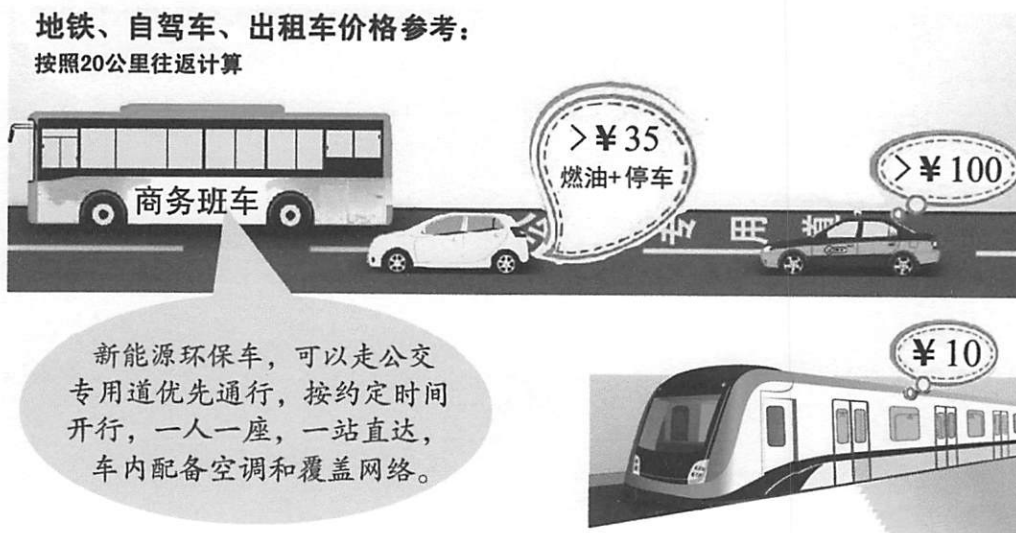
- ①人生的价值在于对社会的贡献
- ②有价值的人生不应考虑个人利益
- ③对社会的贡献大小决定人生价值的高低
- ④对一个人的评价主要看他的精神贡献

- A. ①②
- B. ①③
- C. ①④
- D. ③④

第二部分 非选择题（共 44 分）

二、问答题 根据题目要求作答。本大题共 4 小题，每小题 5 分，共计 20 分。

29. 小波家距离工作单位 20 公里，平时上班开私家车，或者坐地铁，偶尔乘出租车。几天前，他发现小区门口立起一块“商务班车”站牌，班车终点恰好在单位附近。小波上网查阅了“商务班车”的信息（下图），感觉很适合自己，但他不知道班车往返的票价。



分析上图信息，运用《经济生活》相关知识，帮助小波推测商务班车往返票价的合理区间，并从多角度说明理由。


30. 辩论通常指双方彼此用一定理由来说明自己对辩题的见解，揭露对方的矛盾，以得到正确的认识。辩论双方一辩的主要任务是开篇立论，简明扼要地阐明本方观点。

以“自身能力是青年成才的关键”（正方）VS“外部机遇是青年成才的关键”（反方）为辩题，任选正方或反方，运用《生活与哲学》相关知识，撰写一辩的辩词。

正方	反方
自身能力是青年成才的关键！理由如下：	外部机遇是青年成才的关键！理由如下：
第一，从理论依据看：_____	第一，从理论依据看：_____
_____	_____
第二，从现实生活看：_____	第二，从现实生活看：_____
_____	_____
理论和现实两方面都可以证明：自身能力是青年成才的关键！	理论和现实两方面都可以证明：外部机遇是青年成才的关键！

31. 材料一 党的十八届六中全会提出，必须筑牢拒腐防变的思想防线和制度防线，着力构建不敢腐、不能腐、不想腐的体制机制，保持党的肌体健康和队伍纯洁。

材料二 近年来网上高点击率的反腐、防腐图片：



结合材料并运用所学，从“不敢腐”“不能腐”中任选其一，提出具体措施或合理建议。

	措施或建议
不想腐	示例：加强党员理想信念教育，提升思想境界和道德水准，使之对腐败产生一种内在的厌恶感；完善工资制度、建立阳光化福利保障制度等，使之不必冒险利用公权牟取私利。
不敢腐	(请勿在此处答题)
不能腐	(请勿在此处答题)


32. 高二（1）班来了两位瑞士的交流生，他们对筷子产生了浓厚兴趣，请小泽给他们讲讲筷子中蕴涵的中国文化。为此，小泽查阅了相关资料：

- ◇ 筷子起源于中国，已有 3000 多年历史。筷子是两根，中国人称其为一双。筷子一定要直，便于夹取食物。筷子一头圆一头方，放置时才会稳定。使用筷子讲究协调配合，一根动，一根不动，才能夹得稳。两根筷子位置可以互换，主动的不是永远主动，在下的不是永远在下。
- ◇ 筷子不仅仅是餐具，还蕴涵着丰厚的优秀传统文化，折射出中国人的民族性格和价值取向，如崇尚协作、团结和谐的处世准则，天圆地方、天长地久的美好愿望，一中含二、合二为一的哲学智慧，刚正不阿、宁折不屈的精神气节，温文尔雅、内敛含蓄的精神气质……

为了让瑞士同学更清晰地感知筷子中蕴涵的中国优秀传统文化，小泽制作了一张卡片，但有两处尚未完成。请你梳理上面资料，帮助小泽完成卡片中的内容。

小筷子

- ◇ 两根筷子组成一双
- ◇ 筷子一定要直
- ◇ 筷子一头圆一头方
- ◇ _____ ② _____



大文化

一中含二、合二为一

刚正不阿、宁折不屈

① _____

崇尚协作、团结和谐

三、简答题 紧扣题意，简明扼要。本大题共 4 小题，每小题 3 分，共计 12 分。

33. “自信人生二百年，会当水击三千里。”一个拥有坚定自信的民族，才能聚集起强大的社会正能量。在提出坚定道路自信、理论自信、制度自信之后，中国共产党在建党 95 周年之际，又提出要坚持“_____自信”，这一自信是更基础、更广泛、更深厚的自信。
34. 下面表格左栏的内容是《政府工作报告》提出的 2016 年国民经济和社会发展的主要预期目标。请在右栏写出与之相应的宏观调控目标。

国民经济和社会发展的主要目标	宏观调控目标
居民消费价格涨幅 3%左右	示例：稳定物价
国内生产总值增长 6.5% —7%	①
城镇新增就业 1000 万人以上，城镇登记失业率 4.5%以内	②
国际收支基本平衡	③

35. 国家间在加强合作的同时, 竞争也在加剧。当前国际竞争的实质是以_____为基础的
综合国力的较量。

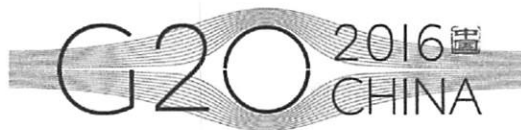
36. 人类基本的实践活动有三种。一是改造自然的_____, 即人们的物质生产活动, 这是
人类最基本的实践活动。二是变革社会的实践。三是探索世界规律的_____活动。

四、论述题 12 分。

37. 桥, 跨越东西, 连接南北。

【经济增长之桥】

当前, 世界经济站在了新的“十字路口”, 经济复苏乏力, 贸易保护主义有所抬头,
经济全球化进程在一定程度上受阻……面对多
重风险和挑战, 世界期待 G20 杭州峰会给出新
方案。



G20 杭州峰会会标(右图), 用 20 根线条构
筑出一个桥形轮廓, 形象地表达了解决世界经
济增长乏力的中国智慧。

(1) 结合材料并运用所学, 解读 G20 杭州峰会会标中“桥”的寓意。(3 分)

【民意畅通之桥】


2016 年, 我国进行了新一轮县乡两级人大换届选举工作, 9 亿多选民选举产生了 250
多万名县乡两级人大代表, 这是全国人民政治生活中的一件大事。

(2) 人大代表人民选, 人大代表为人民。结合《政治生活》相关知识, 说明人大代
表在产生和履职中应怎样架起与群众沟通之桥。(3 分)

【心灵沟通之桥】

微信是中学生主要聊天工具之一。据调查, 绝大部分家
长愿意加儿女为微信好友, 但部分中学生却持否定态度, 有
的甚至在加父母为好友后, 又将其拉入微信“黑名单”。

(3) 结合生活体验和《文化生活》相关知识, 说明家长
和子女如何共建心灵沟通之桥。(3 分)



【思想智慧之桥】

桥可有形, 亦可无形, 虽千差万别, 但价值趋同。

(4) 从共性与个性关系的角度, 概括桥的价值。(3 分)

2017 年北京市春季普通高中会考
思想政治试卷答案及评分参考

第一部分 选择题（共 56 分）

一、选择题 在每小题列出的四个选项中，只有一项是最符合题目要求的。本大题共 28 小题，每小题 2 分，共计 56 分。

题号	1	2	3	4	5	6	7	8	9	10
答案	B	D	B	A	C	C	A	D	B	D
题号	11	12	13	14	15	16	17	18	19	20
答案	D	A	C	C	A	B	C	B	D	A
题号	21	22	23	24	25	26	27	28		
答案	A	A	D	B	C	B	D	B		

第二部分 非选择题（共 44 分）

二、问答题 根据题目要求作答。本大题共 4 小题，每小题 5 分，共计 20 分。

29. 票价合理区间：大于 10 元，小于 35 元。（1 分）

说明理由的评分观察视角：能否从影响价格的多种因素，如运营成本、供求关系、相关商品价格，社会效益等多个维度，合乎逻辑地作出解释。

水平一 能够从多个维度说明，理论运用准确，阐述问题条理清楚，逻辑严密，显示出较高的学科素养。（3~4 分）

水平二 能够从一个维度说明，理论运用比较准确，阐述问题有条理，显示出基本的学科素养。（2 分）

水平三 理论运用存在明显欠缺。（1 分）

水平四 答非所问、观点错误，或没有应答。（0 分）

示例：

价值决定价格。商务班车运营的人均成本和服务低于私家车和出租车，高于地铁。

价格受多种因素影响。与私家车和出租车相比，商务班车符合绿色出行理念，有利于缓解交通拥堵，应以较优惠的价格吸引消费者；与地铁相比，商务班车提供更为多样的服务。

30. 从内部矛盾（内因）与外部矛盾（外因）的关系、主观与客观的关系等角度展开论述。

水平一 理论运用准确，阐述问题条理清楚，逻辑严密，事例恰当，显示出较高的学科素养。（4~5 分）

水平二 理论运用比较准确，阐述问题有条理，能用事例说明问题，显示出基本的学科素养。（2~3 分）

水平三 理论和事例存在明显欠缺。（1 分）

水平四 答非所问、观点错误，或没有应答。（0 分）

正方示例：

第一，内部矛盾是事物变化发展的根本原因，要着重抓住事物发展的内部矛盾。自身能力是内因，青年成才主要依靠自身能力。

第二，纵观中外历史，凡能成就大业者，无不具有很强的自身能力。牛顿见过的很多现象我们都见过，只有他发现了万有引力定律。无论是逆境下写出《史记》的司马迁，还是被誉为“抵得上美国海军陆战队五个师军力”的钱学森，在他们身上都可以看到自身能力的重要性。俗话说，机遇只给有准备的人。机遇再好，也要有把握机遇的能力。

反方示例：

第一，外部矛盾是事物变化发展的条件。这启示我们，外因在事物发展中不可或缺。从一定意义上说，青年成才是环境的孕育和时代的呼唤，关键在于外部机遇。

第二，人的成才脱离不了社会提供的外部机遇。韩愈《马说》中写道：世有伯乐，然后有千里马。三国时期的周瑜也曾慨叹过：万事俱备，只欠东风。比尔·盖茨正是抓住了加盟 IBM 公司的机遇，才为人类作出巨大的贡献。历史上很多才华出众、胸有经纶的人，皆因缺少机遇而郁郁。

31. 评分观察视角：能否提出具体措施或合理建议，体现学习理论的价值和法治素养。

不敢腐：建立具有强大约束力的事前监督与事后惩罚机制，（3 分）使腐败行为的成本大大提高等。（2 分）

或不能腐：完善现代市场经济制度，使腐败行为无机可乘；（3 分）建立权力清单制度，让人民知晓权力边界，健全各种监督机制。（2 分）

32. ①天圆地方、天长地久（3 分）

②使用筷子讲究协调配合，位置可以互换（2 分）

三、简答题 紧扣题意，简明扼要。本大题共 4 小题，每小题 3 分，共计 12 分。

33. 文化

34. ①促进经济增长 ②增加就业 ③保持国际收支平衡

35. 经济和科技实力

36. 生产实践 科学实验

四、论述题 12 分。

37. （1）本题答案不唯一，可从经济、政治、文化、哲学等角度解读。（3 分）

如全球经济增长之桥，国际社会合作之桥，面向未来的共赢之桥；等等。

（2）人大代表候选人通过演讲、答辩等方式，让选民了解自己；人大代表听取和反映人民群众的意见和要求，与人民群众保持密切联系。（3 分）

（3）文化具有多样性。共建心灵沟通之桥，家长和子女需要互相理解、互相尊重、互相包容。（3 分）

（4）矛盾的普遍性（共性）寓于特殊性（个性）之中，并通过特殊性表现出来。桥的共同价值在于：跨越障碍，互联互通。（3 分）