



2010 年北京市夏季普通高中会考

思想政治试卷

第一部分 选择题(共 56 分)

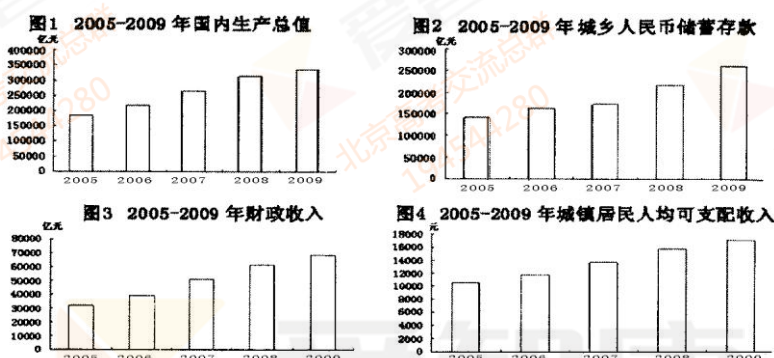
一、选择题在每小题列出的四个选项中。只有一项是最符合题目要求的。本大题共 28 小题，每小题 2 分，共计 56 分。

2009 年是新世纪以来我国经济发展最为困难的一年，全国各族人民在党和政府的正确领导下，从容应对国际金融危机冲击，在世界率先实现经济回升向好。回答 1~3 题。

1. 2009 年 GDP 比上年增长%。中国政府兑现了对人民的庄严承诺。

- A. 11.7 B. 11.4 C. 9 D. 8.7

2. GDP 是衡量一国经济增长水平的基本指标。下列反映我国 GDP 增长的图表是



- A. 图1 B. 图2 C. 图3 D. 图4

3. 分析图3与其他三幅图的关系，你认为对图3的增长起基础性作用的是

- A. 图1 B. 图2 C. 图1和图4 D. 图2和图4

关注民生、保障民生、改善民生，是政府“公仆”本色的集中体现。回答 4、5 题。

4. 下列选项中，属于政府解决民生问题的举措是

- ①免除义务教育阶段学杂费 ②推广商业保险
③建立健全廉租房制度 ④对药价“限高”

- A. ①②③ B. ①②④ C. ①③④ D. ②③④

5. 国家实行促进就业的长期战略和政策，将增加就业作为一项重要任务。就业问题之所以受到政府的高度重视，是因为

- ①市场无法调节就业 ②个人就业完全依靠政府解决
③就业是民生之本 ④增加就业是国家宏观调控的目标

- A. ①② B. ①③ C. ②④ D. ③④

“公平正义是社会稳定的基础，公平正义比太阳还要有光辉。”回答 6、7 题。


6. 下列选项中，有利于在收入分配中实现社会公平的措施是

- ①完善社会保障制度 ②提高增值税率
③个人所得税实行超额累进税率 ④提高最低工资标准

- A. ①②③ B. ①②④ C. ①③④ D. ②③④

7. 党的十七大报告指出：“在初次分配和再分配中都要处理好效率与公平的关系。”下面选项中，对我国社会主义市场经济条件下效率与公平的关系理解不正确的是

- A. 效率是公平的物质前提
B. 公平是提高效率的保证
C. 效率与公平二者具有一致性，又存在矛盾
D. 提高效率会损害公平，追求公平会降低效率



a



c

读上图，回答 8、9 题。

8. 雨伞最初的标价是二元，这“二元”是

- ①货币在执行流通手段的职能 ②观念上的货币
③货币在执行价值尺度的职能 ④现实的货币

A. ①③ B. ①④ C. ②③ D. ②④

9. 雨伞的价格由二元涨到二元七角五分，说明商品的价格

- A. 由商品的使用价值决定
B. 受供求关系的影响
C. 由货币的支付手段决定
D. 由商品的价值决定

阳春三月，十一届全国人大三次会议和全国政协十一届三次会议在北京召开。回答 10~13 题。

10. 本次全国人大会议通过的《全国人民代表大会关于修改〈中华人民共和国全国人民代表大会和地方各级人民代表大会选举法〉的决定》，规定城乡按相同人口比例选举人大代表。这一规定

- ①缩小了城乡居民收入差距 ②发展了社会主义民主政治
③更好地体现了人人平等的原则 ④进一步坚持和完善了人民代表大会制度

A. ①②③ B. ①②④ C. ①③④ D. ②③④

11. 在我国，行使_____公民参与管理国家和管理社会的基础和标志。

- A. 立法权 B. 选举权和被选举权 C. 任免权 D. 政治自由

12. 人大代表是人民权力的受托者，这种受托性质表明

- ①人大代表由人民直接选举产生
②人大代表代表人民的利益和意志
③人大代表拥有国家权力的“最终控制权”
④人大代表代表人民在国家权力机关行使国家权力

A. ①③ B. ①④ C. ②③ D. ②④

13. 根据出席十一届全国人大三次会议代表审议和全国政协十一届三次会议委员讨论提出的意见和建议，国务院对《政府工作报告》做了 15 处修改，其中比较重要的修改有 7 处。下列选项正确的是

- A. 国务院对全国人大和全国政协负责和报告工作
B. 全国人大与国务院是监督与被监督的关系
C. 全国人大与国务院是中央和地方的关系
D. 全国政协与国务院是领导与被领导的关系

14. 2010年4月14日,青海玉树发生强烈地震,给灾区人民生命财产和经济社会发展造成重大损失。胡锦涛总书记和温家宝总理在救灾现场多次强调:“抢救人的生命,是我们这次救灾工作的重中之重。”党中央和国务院高度重视灾区人民的生命安全,体现了

- ①依法治国的原则得到落实
②党和政府依法履行政府职能
③我国是人民民主专政的社会主义国家
④党的宗旨和国家机关坚持对人民负责的原则

A. ①② B. ①④ C. ②③ D. ③④

15.《国家中长期教育改革和发展规划纲要(2010—2020年)》是指导未来10年教育改革和发展的纲领性文件。规划纲要明确提出“一一”的战略目标。

- ①基本实现教育现代化 ②进入人力资源强国行列
③基本形成学习型社会 ④全面建设小康社会

A. ①②③ B. ①②④ C. ①③④ D. ②③④

世博会是人类文明成果荟萃的伟大盛会,每一届世博会都成为见证人类文明发展的重要驿站。回答16—18题。

16. 2010年5月1日,上海世界博览会正式开幕。本届世博会是第一次在_____举办的注册类世博会。

A. 发展中国家 B. 发达国家 C. 东亚国家 D. 亚洲国家

	几届世博会主题
2000年德国汉诺威	“人类,自然,技术”
2005年日本爱知	“自然的睿智”
2010年中国上海	“城市,让生活更美好”

17. 世博会主题是世博会的“灵魂”。上框几届世博会主题都反映了人类共同关注的重大问题,却各具特色,这体现了_____的相互关系。

A. 整体与部分 8. 共性与个性 C. 实践与认识 D. 多数与少数

18. 热情的上海喜迎八方来客。由于风俗习惯的不同,可能会产生误解,闹出笑话。如中国人待客时“聊备薄酒”的自谦,可能被外国人误解为“慢待客人”;西方人聚餐时各付各的账,往往被东方人视为吝啬小气。这说明文化的差异

- A. 体现了民族文化的先进性 B. 影响人们之间的交往
C. 反映了不同的意识形态 D. 是交往不可逾越的障碍

19. 2010年1月1日,_____自由贸易区正式启动。这是世界上人口最多的自由贸易区,是全球第三大自由贸易区,也是由发展中国家组成的最大的自由贸易区。

A. 中国—东盟 8. 北美 C. 中国—俄罗斯 D. 欧盟

名言警句能够千古传颂,重要原因在于它们都蕴涵深刻的哲学智慧。回答20—22题。

20. “勿以恶小而为之,勿以善小而不为。”这句古训至今仍有深刻的现实意义。它体现的哲学道理是

- A. 量的积累可以引起质变 B. 恶与善本身是不同质的事物
C. 主要矛盾和次要矛盾可以相互转化 D. 运动是绝对的,静止是相对的

21. 老子曰:“有无相生,难易相成。”下列诗句中与老子这一思想蕴涵相同哲理的是

- A. 读书破万卷,下笔如有神 B. 欲穷千里目,更上一层楼
C. 蝉噪林愈静,鸟鸣山更幽 D. 生当做人杰,死亦为鬼雄

22. 下列说法中体现辩证否定观的是

- A. 因地制宜,对症下药 B. 取其精华,去其糟粕
C. 水滴石穿,铁杵成针 D. 由此及彼,由表及里

23. 右图漫画中推广“外地经验”的人,虽然工作热情很高,但其做法值得商榷。从哲学上看,这样的人

- A. 坚持按客观规律办事
B. 思想僵化,缺乏灵活性
C. 思想解放,富有创造性
D. 做到了理论联系实际



生搬硬套 冯坤文 作 选自中宣部《时事》高中版



24. 胡杨树生长在中国西北浩瀚的沙漠中，它扎根深，抗干旱，迎风沙，耐盐碱，生命力极强。人们赞美它“生而千年不死，死而千年不倒，倒而千年不朽”，称其为“英雄树”，誉之为中华民族坚忍不拔精神的象征。我们之所以需要大力弘扬和培育民族精神，是因为

- A. 社会存在决定社会意识
- B. 人的精神力量决定人的行动的成败
- C. 社会意识对社会存在具有反作用
- D. 社会意识随着社会存在的发展而发展

25. 爱迪生试制白炽灯泡，失败了 1200 次。有人讥讽他一事无成。爱迪生则说：“我有了很大的成就，证明了 1200 种材料不适合做灯丝。”从爱迪生的回答可以看出

- ①人的认识随着实践的发展而深化
- ②意识能动作用比物质决定作用更重要
- ③认识的真理性的要靠实践来证明
- ④实践是有意识、有目的的能动性活动

- A. ①②③ B. ①②④ C. ①③④ D. ②③④

26. 下列选项中，属于发展中国特色社会主义文化方针的是

- A. 百花齐放，百家争鸣
- B. 发扬革命传统，争取更大光荣
- C. 努力研究，精益求精
- D. 实事求是，力戒空谈

27. 烽火狼烟，晨钟暮鼓，驿寄梅花，鸿雁传书。从这些古语中，我们能够看到

- ①人口迁徙是文化交流的重要途径
- ②大众传媒能够完全超越时空局限
- ③文化传播有多种媒介和多种手段
- ④文化传播总要通过一定媒介才能实现

- A. ①② B. ①③ C. ②④ D. ③④

28. 徐悲鸿擅长素描、油画、中国画，并把西方艺术手法融入中国画中。他融汇中西、纵贯古今，创造了新颖而独特的艺术风格，是绘画艺术创新的典范。对文化创新途径的正确理解是

- ①批判传统，独领风骚
- ②继承传统，推陈出新
- ③面向世界，博采众长
- ④薪火相传，一脉相承

- A. ①③ B. ①④ C. ②③ D. ②④

第二部分 非选择题(共 44 分)

二、问答题根据题目要求作答，紧扣题意，适当分析。本大题共 4 小题，每小题 5 分，共计 20 分。

29. 我国城乡居民理财意识不断增强，人们投资理财时常常在储蓄存款和其他方式之间进行比较。下表是小芳一家投资理财的方案，请填写与“选择理由”相对应的投资理财方式。

30.



美人鱼(丹麦)

思想者(法国)

面具雕(非洲)

清明上河图(中国)

漫步在上海世博园，你会欣赏到来自世界各国的文化精品，体会到世界文化的“美美与共，天下大同”。

谈谈你对“美美与共，天下大同”的认识。




31. 在某市开展的“我为建设节约型城市献一计”活动中，广大市民纷纷建言献策。一个月之内，市政府就收到 9000 多条建议。经过认真研究，很多合理化建议被政府采纳。
请你说说我国公民可以通过哪些方式参与民主决策。

32. 在人们选择前进目标和获得幸福感的关系上有三种状态：当目标唯一且难以达到时，幸福感往往很低，因为只有一条道路可通“罗马”；当目标不唯一且有多种选择时，幸福感会随之增加，因为有多条道路可通“罗马”；当目标切合实际且实现时，幸福感就会变为最大，因为走到哪里，那里就成为“罗马”。
三个“罗马”带来了三种“幸福感”，给我们什么哲学启示？

三、简答题 在横线上作答，紧扣题意，简明扼要。本大题共 4 小题，每小题 3 分，共计 12 分。

33. 在市场经济条件下，存在这样一种经济现象：



上图中，三个青年计划开办一家公司。依据我国有关规定，他们要开办的公司属于_____公司。

34. “宝剑锋从磨砺出，梅花香自苦寒来”；“书山有路勤为径，学海无涯苦作舟”。这两副对联说明的哲学道理是_____。

35. 右图中，某市领导公开述职，群众参与评议打分。这一做法，有利于我国公民对国家机关和国家工作人员行使_____权。



36. 推动社会主义文化大发展大繁荣，必须大力建设社会主义核心价值体系。马克思主义指导思想，中国特色社会主义共同理想，以_____为核心的民族精神和以改革创新为核心的时代精神，社会主义荣辱观，构成社会主义核心价值体系的基本内容。



四、论述题 12 分。

37. 低碳经济是以低能耗、低污染、低排放为基础的经济模式。发展低碳经济政府是主导，企业是主体；发展低碳经济是一个系统工程。读右图，回答下列问题。

(1) 运用《政治生活》的知识，分析图中的政府应该怎样履行

经济职能。(4 分)

(2) 结合《经济生活》的知识，谈谈企业如何按照低碳经济的要求经营与发展。(4 分)

要求经营与发展。(4 分)

(3) 发展低碳经济涉及生产、分配、交换和消费各个环节，需要的方法。请你简述这一方法的要点。(4 分)

要掌握“系统优化”



北京高考交流总群

194544280



思想政治试卷答案及评分参考

第一部分 选择题(共 56 分)

一、选择题在每小题列出的四个选项中，只有一项是最符合题目要求的。本大题共 28 小题，每小题 2 分，共计 56 分。

题号	1	2	3	4	5	6	7	8	9	10
答案	D	A	A	C	D	C	D	C	B	D
题号	11	12	13	14	15	16	17	18	19	20
答案	B	D	B	D	A	A	B	B	A	A
题号	21	22	23	24	25	26	27	28		
答案	C	B	B	C	C	A	D	C		

第二部分 非选择题(共 44 分)

二、问答题根据题目要求作答，紧扣题意，适当分析。本大题共 4 小题，每小题 5 分，共计 20 分。

29. 国债、商业保险、股票。(5 分)

30. 尊重文化的多样性是繁荣世界文化的必然要求。(3 分)在民族平等的基础上，保持文化的多样性，世界才会更加丰富多彩。(2 分)

31. 我国公民可以通过社情民意反映制度、专家咨询制度、重大事项社会公示制度、社会听证制度等方式参与民主决策。(5 分)

32. 选择前进目标，做到主观与客观的统一。(2 分)坚持辩证的观点，防止思想僵化。(3 分)(言之有理，持之有据，均可得分)

三、简答题 在横线上作答，紧扣题意，简明扼要。本大题共 4 小题，每小题 3 分，共计 12 分。

33. 有限责任

34. 发扬艰苦奋斗的精神

35. 监督(知情、参与、表达等)

36. 爱国主义

四、论述题 12 分。

37. (1)经济调节、市场监管、社会管理和公共服务。(4 分)

(2)企业要承担社会责任；企业要制定正确的经营战略，提高自主创新能力，依靠技术进步，科学管理，调整产品结构，节能减排。(4 分)

(3)掌握系统优化的方法，要着眼于事物的整体性，要注意遵循系统内部结构的有序性，要注重系统内部结构的优化趋向；系统优化的方法要求用综合的思维方式来认识事物。(4 分)