

## 2011 年北京市夏季普通高中会考

## 历史试卷


考生  
须知

1. 考生要认真填写考场号和座位序号。
2. 本试卷共 6 页，分为两个部分。第一部分为选择题，50 个小题（共 50 分）；第二部分为非选择题，三道大题（共 50 分）。
3. 试题所有答案必须填涂或书写在答题卡上，在试卷上作答无效。第一部分必须用 2B 铅笔作答；第二部分必须用黑色字迹的签字笔作答。
4. 考试结束后，考生应将试卷和答题卡放在桌面上，待监考员收回。

## 第一部分 选择题（每小题 1 分，共 50 分）

在下列各题的四个选项中，只有一项是符合题意的。

1. 西周实行的“封邦建国，广建诸侯”的制度是  
A. 禅让制 B. 宗法制 C. 分封制 D. 郡县制
2. 秦代中央机构中负责监察百官的是  
A. 丞相 B. 御史大夫 C. 太尉 D. 尚书
3. 清朝加强君主专制的主要措施是  
A. 实行三省六部制 B. 废除丞相 C. 设置内阁 D. 增设军机处
4. 下列近代人物中，最早提出具有资本主义色彩施政方案的是  
A. 洪秀全 B. 石达开 C. 陈玉成 D. 洪仁玕
5. 有人曾对中国近代一场战争后签订的条约发出这样的感慨：“这真是空前未有的亡国条约！从前我国还只是被西方大国打败过，现在竟被东方的小国打败了，而且失败得那样惨，条约又订得那样苛刻，这是多么大的耻辱啊！”该条约是指  
A. 《南京条约》 B. 《天津条约》  
C. 《马关条约》 D. 《辛丑条约》
6. 图 1 有“欧战和会，外交失败”“誓死力争，还我青岛”等文字。该档案材料可用于研究  
A. 虎门销烟  
B. 金田起义  
C. 义和团运动  
D. 五四运动
7. 国共两党第一次合作形成的标志是  
A. 中共二大的召开 B. 国民政府的建立  
C. 国民党一大的召开 D. 北伐战争的开始
8. 井冈山之所以有“中国革命的摇篮”之称，是因为在这里  
A. 成立了中国共产党 B. 取得了国民革命的胜利  
C. 创建了第一支人民军队 D. 建立了第一个农村革命根据地
9. 美国记者斯诺说：“每一场革命都有它自身的传奇。毛泽东率领数万工农红军所完成的战略转移，就是中国革命史上的伟大传奇。”他所说的“伟大传奇”是指  
A. 秋收起义 B. 二万五千里长征 C. 开辟敌后战场 D. 千里跃进大别山
10. 中国近代百年来第一次取得完全胜利的反侵略战争是  
A. 甲午战争 B. 抗日战争 C. 解放战争 D. 抗美援朝





11. 新中国外交政策成熟的标志是  
A. 提出“另起炉灶”方针 B. 提出和平共处五项原则  
C. 提出“求同存异”方针 D. 奉行不结盟政策
12. 明确提出“一国两制”伟大构想的国家领导人是  
A. 毛泽东 B. 周恩来 C. 邓小平 D. 江泽民
13. 奠定雅典民主政治基础的政治家是  
A. 梭伦 B. 克利斯提尼 C. 伯利克里 D. 亚历山大
14. 为英国君主立宪制确立提供法律依据的文献是  
A. 《十二铜表法》 B. 《大宪章》  
C. 《权利法案》 D. 《独立宣言》
15. 1848年《共产党宣言》的发表，标志着  
A. 空想社会主义思潮出现 B. 马克思主义诞生  
C. 社会主义阵营建立 D. 工人运动兴起
16. 二战后，美国通过经济援助，扶植、控制西欧国家的措施是  
A. 提出杜鲁门主义 B. 实施马歇尔计划  
C. 成立北大西洋公约组织 D. 成立华沙条约组织
17. 世界政治多极化的发展趋势日益明显，主要是因为  
A. 两极对峙局面的形成 B. 若干政治力量的发展壮大  
C. 联合国作用的加强 D. 多元文化的发展
18. 中国古代农耕中使用的曲辕犁最早出现于  
A. 战国 B. 西汉 C. 唐朝 D. 明朝
19. 中国是瓷器的故乡，古代著名的“瓷都”是  
A. 景德镇 B. 佛山镇 C. 唐山 D. 杭州
20. 宋代城市商业活动发生的重大变化是  
A. 打破了交易的时间和空间限制 B. “草市”盛行与集镇兴起  
C. 出现了大规模的长途贩运贸易 D. 政府加强对商业活动监管
21. 鸦片战争后，大量破产农民流入城市，这主要反映出  
A. 农村劳动人口过剩 B. 自然经济开始解体  
C. 城市功能发生变化 D. 民族工业初步发展
22. 洋务派为“求富”创办的民用企业是  
A. 安庆内军械所 B. 福州船政局  
C. 江南制造总局 D. 开平煤矿
23. 民国初期的一则报纸广告中有“敬告全国同胞乐用人人必需之国货”等字样。作为直接证据，它可以反映  
A. 外资企业出现 B. 洋务运动兴起  
C. 工人运动高涨 D. 实业救国热潮
24. 19世纪中期，一位英国商人想在中国开西餐馆，他最有可能选择的地方是  
A. 上海 B. 重庆 C. 北京 D. 兰州
25. 中国自建的第一条铁路是  
A. 淞沪铁路 B. 唐胥铁路 C. 京汉铁路 D. 京张铁路
26. 图2反映了大跃进时期  
A. 农业生产的真实情况 B. 经济建设的重大成就  
C. 农业科技的巨大进步 D. 不切实际的浮夸行为




图2 “一个萝卜千斤重，两头毛驴拉不动”

图2



27. “文革”结束后，决定将党和国家的工作重点转移到现代化建设上来的会议是  
A. 中共十一届三中全会 B. 中共十二大  
C. 中共十三大 D. 中共十四大
28. “一九七九年，那是一个春天，有一位老人在中国的南海边画了一个圈，神话般地崛起座座城，奇迹般地聚起座座金山”。文中“画了一个圈”是指  
A. 在广东、福建沿海设经济特区 B. 开发上海浦东新区  
C. 建立长江三角洲经济开放区 D. 建立环渤海经济区
29. 1492 年，意大利航海家哥伦布到达的地方是  
A. 亚洲 B. 非洲 C. 美洲 D. 大洋洲
30. 17 世纪具有“海上马车夫”称号的贸易强国是  
A. 西班牙 B. 葡萄牙 C. 英国 D. 荷兰
31. 1933 年就任美国总统，实行“新政”的是  
A. 华盛顿 B. 林肯 C. 胡佛 D. 罗斯福
32. 斯大林时期苏联经济体制的主要特点是  
A. 高度集中的计划经济 B. 计划经济与市场经济相结合  
C. 多种所有制并存 D. 扩大国营企业的自主权
33. 二战后，调整世界经济贸易和金融的三大支柱是  
①联合国 ②世界银行 ③国际货币基金组织 ④关贸总协定  
A. ①②③ B. ②③④ C. ①②④ D. ①③④
34. 20 世纪五六十年代，为缓解社会矛盾，许多西方国家  
A. 组成区域经济集团 B. 发展高科技产业  
C. 出售部分国有企业 D. 建立“福利国家”
35. 图 3 所示的图案应是  
A. 联合国标志  
B. 东盟标志  
C. APEC 会标  
D. 欧盟旗帜



图 3

36. 研究商代的原始文献，需要释读的汉字是  
A. 甲骨文 B. 小篆 C. 隶书 D. 楷书
37. 提出“罢黜百家，独尊儒术”的思想家是  
A. 荀况 B. 董仲舒 C. 朱熹 D. 陆九渊
38. 系统总结了 16 世纪以前中医药学成就，被誉为“东方药物巨典”的是  
A. 《黄帝内经》 B. 《伤寒杂病论》  
C. 《齐民要术》 D. 《本草纲目》
39. 明确指出君主是“天下之大害”的思想家是  
A. 李贽 B. 顾炎武 C. 黄宗羲 D. 王夫之
40. 在《海国图志》中提出“师夷长技以制夷”主张的是  
A. 魏源 B. 张之洞 C. 康有为 D. 梁启超
41. 揭开新文化运动序幕的是  
A. 《青年杂志》的创办 B. 《庶民的胜利》的发表  
C. 《狂人日记》的发表 D. 《文学改良刍议》的发表
42. 我国杂交水稻技术研究的开创者是  
A. 钱学森 B. 侯德榜 C. 袁隆平 D. 钱三强





43. 标志中国载人航天技术步入世界前列水平的是  
A. 第一颗原子弹试爆成功 B. 人造卫星“东方红一号”发射成功  
C. 第一颗氢弹试爆成功 D. “神舟五号”飞船发射成功
44. “文革”结束后，我国在教育方面拨乱反正的重大举措是  
A. 开展识字教育 B. 恢复高考制度  
C. 颁布《义务教育法》 D. 提出“科教兴国”战略
45. 提出“吾爱吾师，吾尤爱真理”的古希腊哲学家是  
A. 泰勒斯 B. 毕达哥拉斯 C. 亚里士多德 D. 柏拉图
46. 16 世纪的欧洲宗教改革始于  
A. 意大利 B. 德意志 C. 法兰西 D. 西班牙
47. 印象派绘画代表作《日出·印象》的作者是  
A. 莫奈 B. 塞尚 C. 凡·高 D. 毕加索
48. 发表《物种起源》，创立生物进化理论的科学家是  
A. 哥白尼 B. 伽利略 C. 达尔文 D. 赫胥黎
49. 20 世纪初，推动物理学发生革命性变化的是  
A. 蒸汽机的应用 B. 电的发明和利用  
C. 经典力学的创立 D. 相对论的提出
50. 19 世纪末制成活动电影机的是  
A. 贝尔德 B. 卢米埃尔兄弟 C. 格里菲斯 D. 卓别林

## 第二部分 非选择题（共 50 分）

一、民主政治是人类文明的重要成果。回答下列问题。（本题共 16 分）

1. 1787 年宪法是世界上第一部比较完整的资产阶级成文宪法，奠定了美国政治制度的法律基础。

结合所学，指出 1787 年美国宪法的主要内容。（4 分）

2. 为纪念辛亥革命 100 周年，某校学生搜集了大量的资料举办专题展览。请你从下列图片中任选一幅，撰写说明词。（应包括时间、基本内容、意义或性质）（6 分）



图 4 武昌起义浮雕




图 5 《中华民国临时约法》



3. 《中国人民政治协商会议共同纲领》规定：

第十二条 中华人民共和国的国家政权属于人民。人民行使国家政权的机关为各级人民代表大会和各级人民政府。各级人民代表大会由人民用普选方法产生之。

第十三条 中国人民政治协商会议为人民民主统一战线的组织形式。

第五十一条 各少数民族聚居的地区，应实行民族的区域自治，按照民族聚居的人口多少和区域大小，分别建立各种民族自治机关。

根据以上材料，指出新中国在民主政治建设中逐渐形成的三大制度。（6分）

二、经济的发展反映出时代的变迁。回答下列问题。（本题共 18 分）

1. 依据下列图文材料指出明清时期经济领域的新现象，并结合所学概括新现象出现的背景。（6分）



徽商遍布天下，以致世有“无徽不成镇”之谚。徽商是一支很有影响力的商人集团，其资产之盛、

图 6 苏州丝织业手工工场

2. 依据图 7 说明英国海外贸易的特点，结合所学分析其原因。（6分）

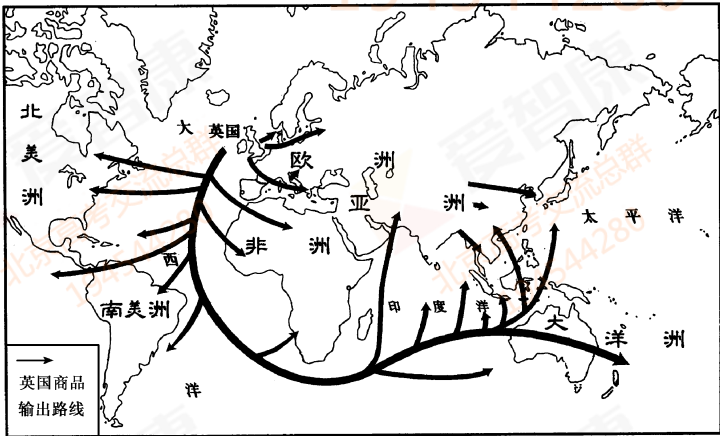


图 7 19 世纪后期英国海外贸易示意图



3. 20 世纪 90 年代以来，跨国公司得到了迅猛发展。截止 2006 年，近 7 万家跨国公司，其产值已经达到世界总产值的 40%，贸易额约占世界贸易总额的 60%，对外投资约占全球直接投资的 90%。

依据材料概括当今世界经济发展的趋势，简要说明这种趋势的利与弊。（6 分）

三、在历史进步的过程中，人们创造了绚烂多姿的文化。回答下列问题。（本题共 16 分）

1. 请将相对应的人名与名言前的字母用线条连接起来。（8 分）

A	老子	E	人生而自由
B	苏格拉底	F	无为而治
C	陈独秀	G	美德即知识
D	卢梭	H	科学与人权并重

2. 结合所学，判断下面的《圣母圣子像》哪一幅更能体现文艺复兴时期的人文主义思想，并说明理由。（4 分）



图 8



图 9

3. 2010 年，我国教育部将《论语》《孟子》《史记》《三字经》等列入中学生必读书目，请就如何对待传统文化谈谈你的看法。（4 分）