

苏教版四年级数学第一学期数学期末检测

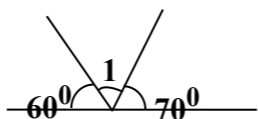
(90 分钟完卷)

一、填空。(20 分)

1. 3 分=_____秒 600 分=_____时
5 升=_____毫升 9000 毫升=_____升
2. $8\square8\div84$, 如果商是一位数, \square 里最大能填_____; 如果商是两位数, \square 里最小能填_____。

3. 计算 $594\div67$ 时, 可以把 67 看作_____来试商; 计算 $594\div63$ 时, 可以把 63 看作_____来试商。
4. $\bullet\div32=\blacksquare\cdots\blacktriangle$ 中 ($\blacktriangle\neq0$), 余数最大是_____, 最小是_____。
5. 珍珍计算一道除法算式, 在被除数和除数后面同时去掉 1 个“0”后, 算得的商和余数都是 9, 这道除法算式的商是_____, 余数是_____。

6. 钟面上 9 时整, 时针与分针所形成的角是_____角。
7. 右图中, $\angle 1$ 是_____°, 它是_____角。



8. 文具店卖出一种书包的数量和收入的钱数如下表:

卖出的数量/个	3	5	7	9	11
收入的钱数/元	78	130	182	234	286

每个书包的价钱是_____元。昨天卖出 6 个书包, 一共收入_____元, 今天卖书包的收入是 312 元, 今天卖出书包_____个。

9. $\square\square\circ\diamond\square\square\circ\diamond\square\square\circ\diamond\cdots$ 根据图形的排列规律, 第 40 个图形是_____, 第 43 个图形是_____。

二、选择合适的答案, 将序号填在()里。(10 分)

1. 哪道算式的商是两位数? ()
A. $61\div26$ B. $469\div57$ C. $532\div48$
2. 哪两道算式的商相等? ()
① $640\div40$ ② $640\div4$ ③ $6400\div400$ ④ $6400\div4$
A. ①和② B. ①和③ C. ③和④
3. 哪道算式的得数最大? ()
A. $100-(96+32)\div4$ B. $100-(96-32)\div4$ C. $(100-96+32)\div4$
4. $9400\div500$ 的余数是多少? ()

- A. 4 B. 40 C. 400
5. 下面哪个容器的容量比 1 升大?



6. 一只碗的容量大约是多少毫升? ()
A. 40 毫升 B. 400 毫升 C. 4000 毫升
7. 从一点到已知直线的所有连线中, 与已知直线垂直的线段有多少条? ()
A. 1 条 B. 2 条 C. 无数条

8. 小军从右边观察如右图所示的物体, 看到的是哪一个图形? ()



9. 计算 $172\div22$ 时, 把除数看作 20 试商, 商 8 后结果怎样? ()
A. 商大了 B. 商小了 C. 商是 8
10. 从每个口袋里任意摸 1 个球, 可能是白球的是哪个口袋? ()



三、计算题 (30 分)

- 1、直接写出得数 (12 分)

$$\begin{array}{cccc} 420\div70 = & 120\div60 = & 240\div60 = & 80\div20 = \\ 210\div30 = & 630\div70 = & 320\div40 = & 480\div80 = \\ 150-30 = & 200\div50 = & 720\div60 = & 630\div30 = \end{array}$$

- 2、用竖式计算, 并验算 (9 分)

$$127\div33= \qquad 938\div46= \qquad 4400\div70=$$

- 3、脱式计算 (9 分)

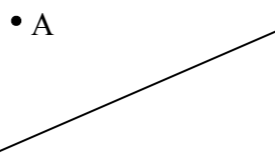
$$358-160\div80\times154 \quad 74\times(60-47)\div37 \quad 720\div[540\div(100-40)]$$

四、动手操作 (9 分)

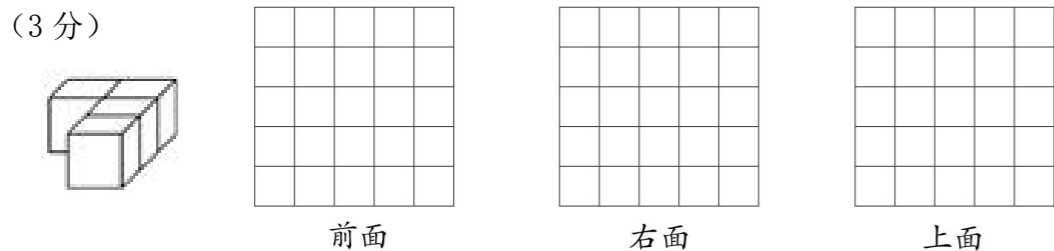
1. 量出下面每个角的度数, 再填出各是什么角。(4 分)



2. 过 A 点画已知直线的垂线和平行线。(2 分)




3. 从前面、右面和上面看左下图中的物体，看到的各是什么图形？在方格纸上画一画。(3 分)



五、解决实际问题。(31 分)

1. 张叔叔家今年收获了 960 千克萝卜，每筐装萝卜 24 千克。如果用平板车来运，每次可以运 4 筐，多少次可以把这些萝卜运完？(5 分)



(1) 赵老师要买 12 副围棋和 12 个围棋盘，准备 1000 元，够不够？(3 分)
 (2) 王老师买了 15 副围棋和 18 副中国象棋，买哪种棋用去的钱数多？多多少元？(3 分)

3. 刘阿姨家塑料大棚里种了 95 平方米小白菜，上星期卖掉 40 平方米，共收入 480 元。照这样计算，这些小白菜一共可以卖多少元？(5 分)

4. 同学们排队做操，如果每排 20 人，一共要排成 30 排；如果每排 25 人，一共要排成多少排？(5 分)

5. 四年级一班有 4 个小组，每组 12 人，一共收集了 240 个昆虫标本。平均每人收集多少个？(5 分)

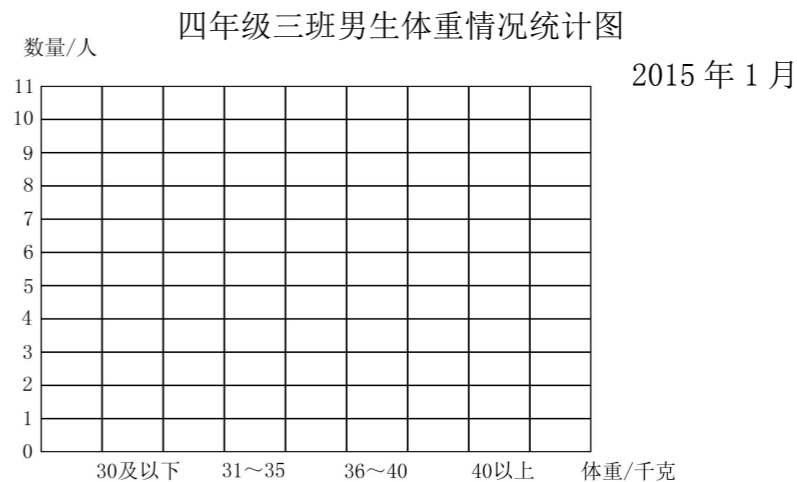
6. 四年级三班男生体重情况如下：(单位：千克)

32 29 39 35 37 33 34 28 39
 39 41 31 37 38 39 40 39 38

(1) 把上面的数据整理在表格里。(3 分)

体重/千克	合计	30 及以下	31~35	36~40	40 以上
数量/人					

(2) 根据表中数据，完成下面的统计图。(2 分)



3. 刘阿姨家塑料大棚里种了 95 平方米小白菜，上星期卖掉 40 平方米，共收入 480 元。照这样计算，这些小白菜一共可以卖多少元？(5 分)