

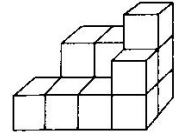
苏教版小学四年级数学上册期末测试

一、“认真细致”填一填：

- 1、一个长方形周长 48 厘米，其中长比宽多 4 厘米，这个长方形的宽是（ ）厘米
- 2、加工一批零件，4 个人做，要 24 小时完成。那么 6 个人做，要（ ）小时完成。
- 3、 $\square 59 \div 45$ 的商是两位数， \square 里最小填（ ），商是一位数， \square 里最大填（ ）。

- 4、过一点可以画（ ）条直线，过两点可以画（ ）条直线。
- 5、一个周角等于（ ）个直角，（ ）个 20 度的角的和是一个平角。

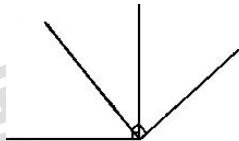
- 6、(右图)是由()个小正方体摆成的。




- 7、公路是垂直的，那么这条小路的长度是（ ）米。

- 8、某校选出 50 人参加作文和数学竞赛，作文竞赛有 14 人获奖，数学竞赛有 12 人获奖，有 3 人两项竞赛都获奖，有（ ）人两项竞赛都没获奖

- 9、右图中，有（ ）锐角，（ ）个直角，（ ）个钝角。



- 10、有两个书架，甲书架有书 80 本，乙书架有书 50 本，每次从甲书架拿出 3 本放入乙书架，拿（ ）次后两个书架的书相等。



- 11、小红串了一串黑白相间的珠子(如上图)，只有珠子的两端部分露出来，你知道（ ）色的珠子多，多（ ）颗。如果这串珠子中黑珠有 20 颗，那么白珠有（ ）颗。

二、“对号入座”选一选：(共 5 分)

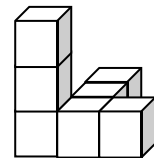
- 1、一个浴缸的容量大约有（ ）。 A、4 升 B、40 升 C、400 升

- 2、如右图，从右面看到形状与（ ）看到的形状相同。

- A、左面 B、上面 C、正面

- 3、下面说法正确的是（ ）。

- A、把一条线段向一端延长 100 米，就得到一条射线。
 B、上午 9 时 30 分，钟面上分钟和时针所夹的角是直角。
 C、 $810 \div 5 = (810 \times 2) \div (5 \times 2)$ 。




- 4、两人轮流掷小正方体，约定红面朝上算甲赢 1 分，黄面朝上算乙赢 1 分。用下面正方体（ ）掷是最公平的。 A、2 红 1 蓝 1 绿 2 黄 B、3 红 1 绿 2 黄 C、1 红 3 蓝 2 黄

三、“手脑并用”画一画：(共 5 分)

- (1) 量出下面这个角的度数。(2 分)

- (2) 过 A 点画出 l_1 的平行线，画出 l_2 的垂线。(3 分)



四、“走进生活”用一用：

1、小军参加冬季阳光体育长跑锻炼，前两天共跑了 1600 米。照这样计算，他一个星期（5 天）共可以跑多少千米？

2、周日妈妈带小明去体育用品商店，一个篮球 58 元，一个足球 46 元，问：

(1) 小明想买 1 个篮球和 2 只足球，应付多少元？

(2) 如果这些钱用来买 35 元一副的羽毛球拍，可以买几副？

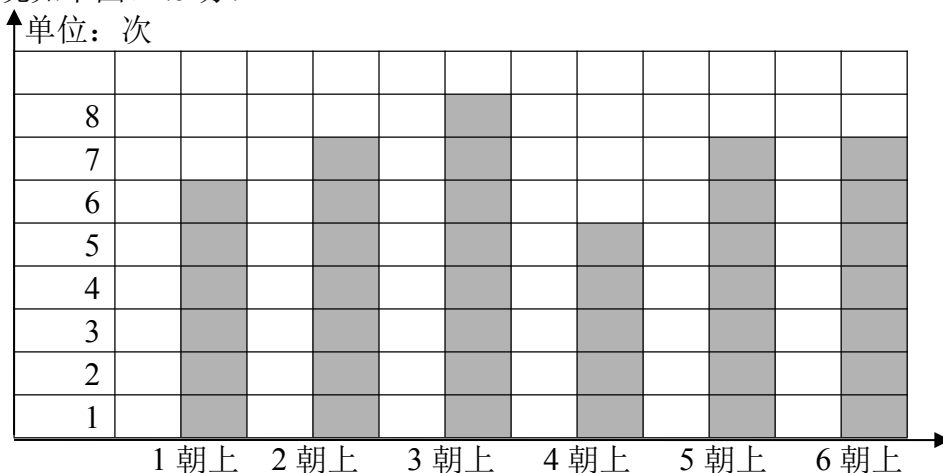
3、20 位老师带领 12 个班学生到蒋巷村社会实践基地体验生活，平均每班有学生 35 人，他们租的大客车一共有 420 个座位，车上的座位够不够坐？

4、四、五年级植树情况如下表：

共栽	四年级	3 个班	每班栽 28 棵
120 棵	五年级	4 个班	每班栽？ 棵

五年级平均每班栽多少棵？

5、小明和小刚做了一个正方体的6个面上分别写上1~6。他们把这个正方体任意抛40次，结果各数朝上的情况如下图。（5分）



- (1) 从图上可以看出，()朝上的次数最多，()朝上的次数最少。
 (2) 如果把正方体再抛40次，你认为“1”朝上的情况会怎么样？在合适的答案下面画“√”

次数最多	次数最少	无法确定
()	()	()

(3) 如果规定朝上的数大于3算小明赢，朝上的数小于3算小刚赢，这个游戏规则公平吗？如果不公平，可以怎样修改规则？

公平 ()	-----不用修改-----
不公平 ()	算小明赢
	算小刚赢