

# 石景山区 2017 年高三统一练习文科综合试题

## 第一部分（选择题共 140 分）

本部分共 35 小题，每小题 4 分，共 140 分。在每小题列出的四个选项中，选出最符合题目要求的一项。

北京时间 2016 年 11 月 13 日 19 时 2 分，新西兰东部近海发生 7.8 级地震，我国救援队于 15 日率先将中国 125 名被困游客全部安全救出。读图 1，完成 1~2 题。

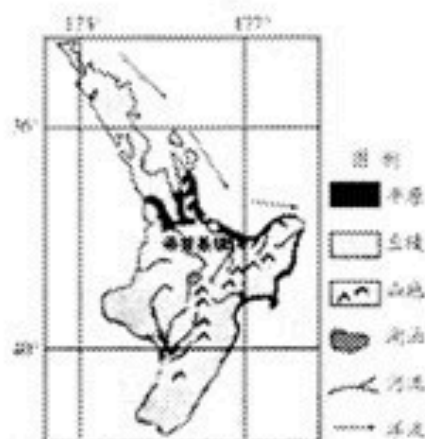


图 1

1. 关于该岛说法正确的是

- A. 东临太平洋，西临印度洋，气候湿润
- B. 图中洋流冬季对沿岸增温效果更明显
- C. 图中山脉走向对盛行风无明显阻挡
- D. 因地形起伏大河流自中部流向四周

2. 此期间

- A. 地震发生时当地华灯初上
- B. 适值我国立冬到小雪之间
- C. 南极地区极昼范围逐渐缩小
- D. 开普敦受西风影响温和多雨

沈括的《梦溪笔谈》记载：“太行而北，山崖之间，往往衔螺蚌壳……横亘石壁如带”。 据此完成第 3 题。

3. 该地“山崖”形成过程可能

- A.地壳下沉 沉积作用 固结成岩 地壳上升 风化侵蚀
- B. 固结成岩 地壳下沉 沉积作用 风化侵蚀 地壳上升
- C.地壳上升 固结成岩 地壳下沉 沉积作用 风化侵蚀
- D.沉积作用 风化侵蚀 地壳上升 固结成岩 地壳下沉

图 2 为某地锋面气旋示意图。读图 2，完成 4~5 题。

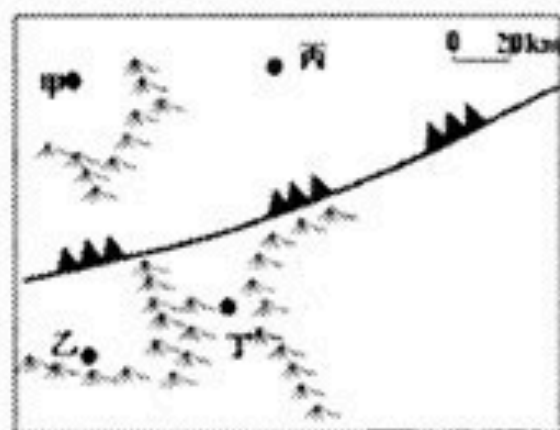


图 2

4. 图中
- A.该天气系统位于北半球
  - B.低压中心位于锋线西侧
  - C.锋面自西北向东南移动
  - D.甲地风向可能为西北风
5. 此时
- A.受地形影响丁地风力大于乙地
  - B. 受纬度影响乙地气温高于甲地
  - C. 甲、丙两地受锋面影响多阴雨天
  - D.丙、丁两地气流以上升运动为主

图 3 为“我国北方某沿海城市及周围环境状况示意图”。读图 3，完成第 6 题。

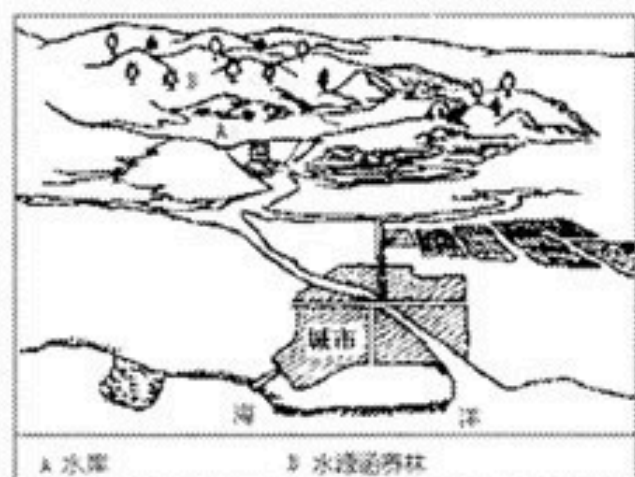


图 3

6. 图中

- A. 地物按 1:5 万比例尺描绘, 特征清晰
- B. 该城市位于河流的冲积扇, 地形平坦
- C. 水源涵养林为常绿阔叶林, 保持水土
- D. 水库建成后河流下游枯水期流量增大

图 4 为我国某铁路干线沿线气候资料图。读图 4, 完成 7~8 题。

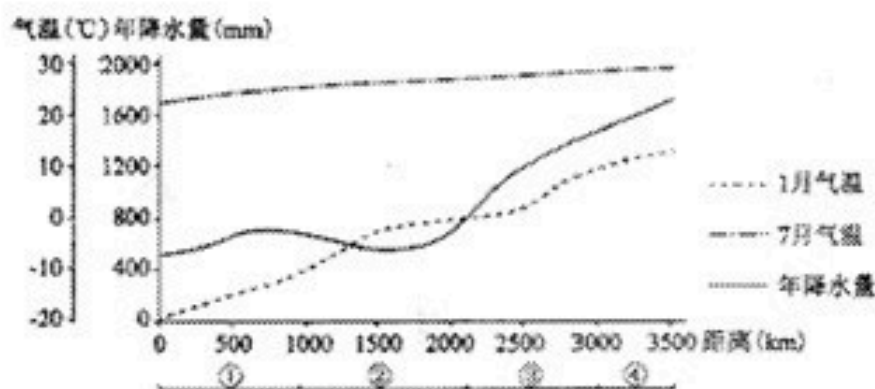


图 4

7. 该铁路干线可能穿过的城市

- A. 郑州—西安—兰州—乌鲁木齐
- B. 北京—太原—西宁—拉萨
- C. 北京—呼和浩特—银川—兰州
- D. 哈尔滨—北京—武汉—广州

8. 对列车运行影响最大的自然灾害是

- A. ①地春季的融雪泥石流
- B. ②地夏秋季节的风暴潮
- C. ③地夏秋季的洪涝灾害
- D. ④地冬春季的沙尘暴

京津冀一体化有利于推进汽车产业的协同发展。汽车产业链条长、关联企业多, 既

有整车生产的核心企业，又有与之相配合的零部件生产企业和销售服务等关联企业。图5为1996年和2010年京津冀都市圈汽车企业密度分布图。图中高密度区为主要核心企业集聚区，中低密度区为关联企业集聚区。读图5，完成9~10题

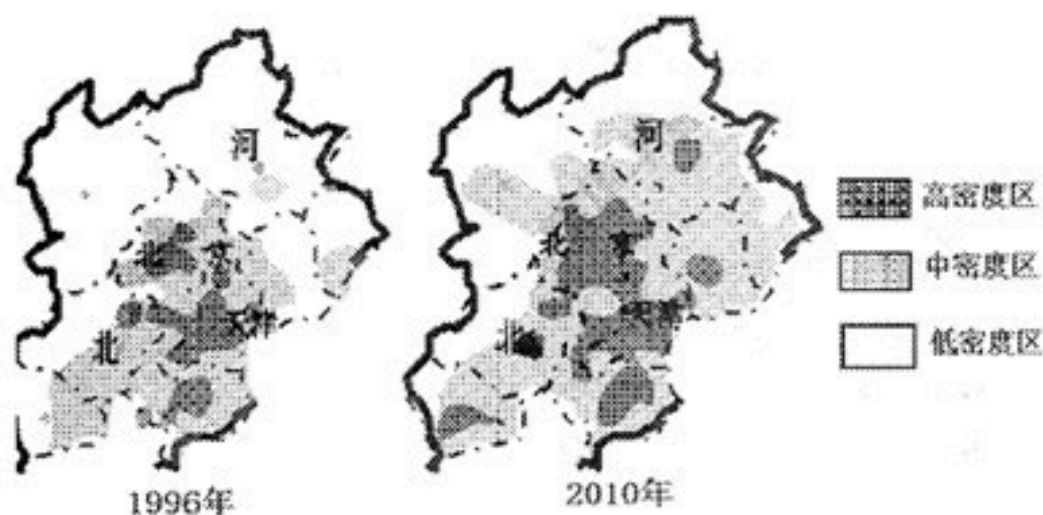


图5

9. 图5中汽车企业空间变化叙述正确的是

- A. 高密度区主要向东北拓展      B. 河北省低密度区面积变大  
C. 中密度区主要向东部拓展      D. 京、津高密度区面积变大

10. 据图推断

- A. 河北省科技水平高，承接了汽车核心企业  
B. 京津冀都市圈人口众多，汽车消费市场大  
C. 汽车制造业空间分布变化主要受地价影响  
D. 汽车核心企业的发展明显快于其关联企业

360大数据中心基于9亿用户春运的迁徙态势，发布了2017年春节“空城指数”图，图中四城市均有一半以上人口离开。读图6，完成第11题。

北京、上海、广州、深圳空了多少？



图6

11. 下列说法正确的是

- ①北京空城主要是因为居民外出旅游      ②上海空城指数高与其经济发展水平有关  
③广州空城指数最高，外来人口最多      ④深圳春节人口流动能促进产业结构调整

⑤四城市流出的人口以中青年为主体 ⑥春节人口流动有利于促进传统文化发展

A. ①③④ B. ②③⑤ C. ②⑤⑥ D. ①④⑥

12. 北京境内历史遗存丰富，人文景观众多。下列名胜古迹与中国古代宗法制直接相关的是



A. 故宫



B. 天坛



C. 太庙



D. 颐和园

13. 公元619年，唐政府颁布法令，规定百姓年满五十者，皆免课役。唐朝还规定，老男、残疾授口分田四十亩，寡妻妾授口分田三十亩。这表明唐朝前期

- A. 重视百姓的养老问题 B. 抑制豪强地主兼并土地  
C. 政府承认土地私有制 D. 百姓赋税徭役过于沉重

14. 注重个人修养，追求人格完善的传统美德在春秋战国时期形成，汉代以后尤其是历经宋明理学的发展，更进一步强化。下列不能反映这一传统美德的是

- A. “天行健，君子以自强不息”  
B. “富贵不能淫，贫贱不能移，威武不能屈”  
C. “己所不欲，勿施于人”  
D. “民为贵，社稷次之，君为轻”

15. 黄宗羲提出“今也天下之人怨恶其君，视之如寇仇，名之为独夫，固其所也。”顾炎武也说过“以天下之权，寄天下之人。”下列对他们主张的评述，正确的是

- A. 推崇先秦时期封建制度 B. 削弱了清初君主专制统治  
C. 反对古代中央集权制度 D. 对近代民权意识产生影响

16. 下为晚清财政收入结构表(单位:万两)，对该表所含信息正确的解读是

| 项目   | 农业税收收入 |    | 工商杂税收入 |    | 其他收入 |    | 总收入   |     |
|------|--------|----|--------|----|------|----|-------|-----|
|      | 数额     | 比重 | 数额     | 比重 | 数额   | 比重 | 数额    | 比重  |
| 1849 | 3281   | 77 | 969    | 23 |      |    | 4250  | 100 |
| 1885 | 3071   | 40 | 3923   | 51 | 714  | 9  | 7708  | 100 |
| 1911 | 4810   | 16 | 20441  | 69 | 4445 | 15 | 29696 | 100 |

- A. 中国古代以来的自然经济完全解体 B. 洋务运动成为晚清经济的主要来源  
C. 民族资本主义经济对清政府的影响 D. 外国资本主义经济对清政府的打击

17. 梁启超说：“吾敬李鸿章之才，吾惜李鸿章之识，吾悲李鸿章之遇。”最能证明李鸿章才识的史实是

- A. 绞杀太平天国运动                      B. 投身洋务运动  
C. 签订《马关条约》                      D. 创建淮军系列

18. 法国《世界报》评论：“这次代表大会似乎将成为世界共产主义历史上，特别是中国历史上有意义的日子。”美国《基督教科学箴言报》说：“这个党正在缓慢地，但却是相当有把握地领导着，把农业的中国推向工业化。”这次会议是指

- A. 中共七大      B. 七届二中全会      C. 中共八大      D. 十一届三中全会

19. 下列图片资料放在一起，如果给它们确定一个主题，你认为应该是



- A. 农村土地制度变革                      B. 城乡文化事业发展  
C. 农村民主政治建设                      D. 城乡经济体制改革

20. 古代罗马法被誉为“以私有制为基础的法律最完备的形式”，15-16 世纪，西欧各国普遍出现“采用罗马法”的热潮，这以现象出现的背景主要是

- A. 资本主义生产关系的兴起              B. 资产阶级政治斗争的需要  
C. 罗马法具有普遍的适应性              D. 人文主义精神在各国兴起

21. 马克思、恩格斯在《共产党宣言》中指出：必须用革命的暴力推翻资产阶级的统治，建立无产阶级的“政治统治”。成功实践了马克思、恩格斯这一理论的重大历史事件是

- A. 俄国二月革命      B. 新中国的成立      C. 俄国十月革命      D. 巴黎公社革命

22. 19 世纪英国政府颁布了部分法律：1843 年，《控制蒸汽机和炉灶排烟法》；1855 年，《有害物质去除法》；1876 年，《河流防污法》。其主要背景是

- A. 工厂发展规模需要限制                      B. 工业革命造成严重污染  
C. 多种疾病的发生和流行                      D. 英国社会普遍重视立法

23. 时下，“合作共赢”、“命运共同体”、“战略伙伴关系”等新型国际关系名词展见报端。“冷战”时期那种两极对立、剑拔弩张的紧张气氛已经改变。这种变化从根木上说明

- A. 当今世界国际政治经济新秩序已经形成  
B. 新时期各国外交政策发生实质性的变化

C. 和平与发展已成为世界各国的共同追求

D. 利益和实力的变化导致对外政策的变化

24. 位于石景山区翠微山麓的法海寺建于 570 多年前，寺中壁画是明代壁画的最高典范。然而，光线、空气、水汽等自然条件随时都对壁画进行着侵蚀。2016 年 8 月起，相关部门开始利用三维矩阵技术采集信息，合成高清影像，今后还将制作数字博物馆，让壁画“立体重现”并“走出去”交流展示。由此可见，现代技术手段

①有力推动了文化遗产的保护和开发

②可保证寺中的壁画永久地存在下去

③能超越时空局限实现文化资源共享

④已成为传统文化创新发展的原动力

A. ①②    B. ①③    C. ②④    D. ③④

25. 在长征胜利八十周年之际，一组名叫《长征路上小红军》的表情包在微信上线，并迅速成为移动网络端的爆款。该表情包由中国传媒大学的一支 90 后团队制作，人物形象的设计灵感源自小学课文《倔强的小红军》，每个表情既蕴含着一个长征故事或场景，又考虑到了使用者传达的情感。这组表情包受欢迎的原因在于创作团队



①抓住纪念长征的契机，使表情包成为方便人们有效沟通的方式

②既弘扬了长征主旋律，又满足了用户不同场景表达情感的需要

③丰富了长征精神的基本内涵，激励人们在新的征途上继续前进

④让作品兼具历史性和趣味性，选择新的表达方式诠释长征精神

A. ①②    B. ①③    C. ②④    D. ③④

26. 2000 多年前，亚里士多德曾提出一个力学定理：“物体下落的速度和物体的重量成正比。”1800 多年后，伽利略用实验证明，一切物体不论轻重都以同样的时间经过同样的距离坠落。牛顿在此基础上加以完善，以经典力学代替了亚里士多德力学。大约 200 年后，经典力学被爱因斯坦的狭义相对论力学所取代。此后不过 10 年，广义相对论诞生了。这表明



- ①实践活动是历史的发展着的
- ②认识有一个逐步深入的过程
- ③已经确定的真理可能被推翻
- ④真理在发展中不断超越自身

A.①③    B. ①④    C.②③    D.②④

27. 右侧漫画讽刺了一些人



- ①不理解实现人生价值，必须要敢于面对挫折和失败
- ②忽视了联系的多样性，找不到遭遇挫折的各种原因
- ③因为害怕困难和曲折，而丧失发展的动力和机遇
- ④不懂得只要总结经验，错误就是完全可以避免的

A.①②    B. ①③    C.②④    D.③④

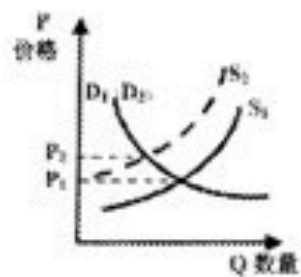
28. 近年来，运动饮料发展势头十分迅猛，不少人直接把运动饮料等同于健康营养饮料。事实上，运动饮料含有钠盐、钾盐、白砂糖和柠檬酸等成分，能补充运动所需的能量和无机盐，但对于不运动或运动量少的人来说，这些成分却存在着潜在风险，如喝多易长胖，导致心脏负荷加大、高钠血症等。这从哲学角度提示我们

- ①要一分为二地看待运动饮料的功能
- ②选择运动饮料须具体分析因人而异
- ③高强度运动者可大量饮用运动饮料
- ④运动饮料与健康营养饮料没有共性

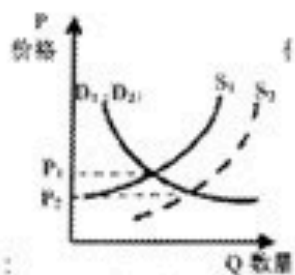
A.①②    B. ①③    C.②④    D.③④

29. 2016 年至今，大蒜价格持续上涨。本轮“蒜你狠”现象，主要是由 2015 年大蒜种植面积减少，加上冬季出现的阴雨大雪天气，产量有所下降所致。若用 S、D 分别表示供给和需求曲线，其他条件不变，下图正确反映本轮“蒜你狠”现象主要原因的是

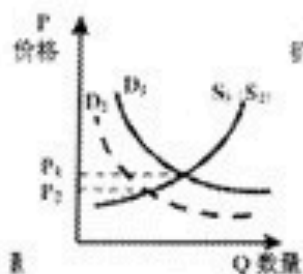




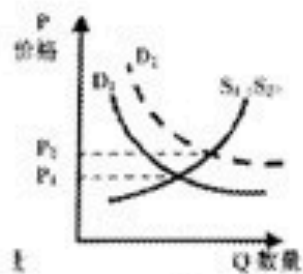
A



B



C



D

30. 市民通过“北京公交集团网站”提出自己的需求，公交集团就可以根据需求和客流情况设计出公交线路，这就是“定制公交”。“定制公交”可以走公交专用道，一人一座，车内有空调和 WiFi 网络，票价也在可以承受的范围之内。目前，北京市已开通定制公交线路 129 条，日均运送乘客 5000 余人次。“定制公交”表明

- ①政府运用产业政策等手段，配置公交资源
- ②公交集团通过调整供给侧，满足乘客需求
- ③乘客可享受公交优先资源，降低时间成本
- ④通过发挥市场的调节作用，破解拥堵难题

A. ①②    B. ①④    C. ②③    D. ③④

31. 中国历史上两汉时期，中央政府曾在京师长安设置名为“平准”的机构。该机构运用手中掌握的

大量物资和经济力量，当市场上某种商品价格上涨时，就以低价抛售；价格下跌时，则由平准收购。在现代经济生活中，下列做法与平准法性质类似的是


- A. 面对经济下行压力依然较大的状况，国务院继续实施积极的财政政策，促进经济稳健发展
- B. 某市政府在物价涨幅较大的前提下启动补贴机制，向城乡低保户等困难群众发放临时物价补贴
- C. 中央调整完善农业补贴政策，不断加大对粮食适度规模经营的支持力度，促进农业可持续发展
- D. 某市政府向连锁超市定点投放并降价销售政府储备冻猪肉，保障货源供应，应对肉价的高位运行

32. 2008 年全面爆发的国际金融危机持续至今，虽然一些国家经济开始有所好转，但世界经济仍未恢复到危机前的增长轨道。人们普遍认为，新自由主义是导致本轮危机的重要原因。下列选项中属于新自由主义基本主张的是

- ① 完全的市场最终导致市场失灵
- ② 私有制是市场经济的唯一基础
- ③ 应限制政府的活动和过度干预
- ④ 政府完全没有必要去干预经济

A. ①③    B. ①④    C. ②③    D. ②④

33. 目前，北京许多大街上的垃圾桶、路灯杆、指路牌等公共设施都贴上了二维码。市民用智能手机扫一下，不仅能了解设施的基本信息，还能在线公共设施存在的脏乱、破损等问题，并且短时间内就能收到反馈问题的处理结果。这一举措



- ① 能促使政府更好地改进城市生态环境
- ② 让市民更加便利地参与社区民主管理
- ③ 用信息技术提升了城市的精细化管理
- ④ 为公民行使民主监督权提供了新手段

A. ①②    B. ①③    C. ②④    D. ③④

34. 在中国传统文化中，为官之德被视作治国理政的主导因素，相关的经典论述内容丰富、数量繁多。下列选项中，古今表述内涵一致的是

- ① “不受虚言，不听浮术，不采华名，不兴伪事”——求真务实，力戒形式主义

1-588  
36.(36  
(1)(6  
乙地  
(2) (7  
为旱  
(3) (6  
含沙  
(4)  
其主  
水源  
(5) (8  
分):  
合发  
40.  
(2)  
措施:  
提高  
的法

38 (1) ①人类社会是一个客观的物质体系, 必须坚持从实际出发, 实事求是, 才能解决社会矛盾, 推动社会发展。中国共产党深入研究中国不同时期的国情, 探索出革命、建设和改革的道路; 其他探索者缺乏对国情的深入分析, 机械移植西方政治制度, 必然失败。

②矛盾的普遍性与特殊性相互联结, 中国共产党坚持共性与个性具体的历史的统一, 把马克思主义普遍原理与中国实际结合起来, 探索出中国革命、建设和改革的道路; 其他探索者缺乏对国情的具体分析, 忽视了中国和西方的差异, 割裂了共性与个性的关系。

③科学理论作为先进的社会意识, 对社会发展起积极的推进作用。中国共产党注重理论建设, 推动马克思主义中国化, 先后产生了毛泽东思想和中国特色社会主义理论, 成为中国人民和中华民族的精神支柱; 其他探索者则没有找到科学的理论指导实践, 单纯的民主自由思想也没有发挥出积极作用。

④人民群众是社会变革的决定力量。中国共产党坚持群众路线和群众路线, 在不同时期的政治主张都代表了广大人民群众和社会各阶层的利益, 受到人民的拥护和支持; 其他探索者没有意识到农民是当时中国革命运动的巨大力量, 各群运动和革命没有得到民众的心理认同和拥护支持。

(2) ①恪守和平共处五项原则, 在相互尊重、相互信任的基础上, 化解分歧, 增加利益交汇点; ②在对外活动中既维护本国主权、安全和发展利益, 又兼顾他国合理关切, 促进各国共同发展和繁荣; ③主动承担国际责任和义务, 在国际事务中发挥建设性作用。

④顺应和平、合作、发展的时代主流, 保证各国享有平等的发展权利, 推动国际秩序朝着更加公正合理的方向发展。

(3) ①加强中医院校的建设, 发挥教育在传承文化、教化和培育人方面的独特作用, 培养更多优秀的专业人才; ②树立文化自信和自信, 深入挖掘中医药文化内涵, 增强人民群众对中医药文化的了解; ③用多种鲜活形式宣传中医药文化知识与价值观念, 营造适宜中医药文化发展的社会环境; ④加强对媒体的管理和引导, 遏制虚假信息传播, 普及科学、高雅的中医药文化; ⑤拓展中医药文化对外交流渠道, 扩大中医药对外服务领域, 增进西方国家对中医药的理解和认同。

39. (1) “快递包装绿色化”指快递包装符合资源节约、环境友好、生态安全、可持续发展的要求, 防止过度包装, 采用环保材料, 实现包装循环利用等。

(2) 政府、消费者、物流企业 (答出其中任意两个主体即可得 2 分)

(4) 政府: 通过法律手段引导快递行业绿色发展, 加快制定出台有关商品包装得法律法规和行业标准; 通过税收杠杆调节快递包装材料得市场行为, 提高不可降解材料的使用成本; 尽快建立包

该区域主要  
产 (1 分):  
; 有河流,  
与线路 (2  
文化旅游融  
长产业链),  
开发与保护

(3) 鱼类经过春夏秋三季的生长, 产量高; 鱼类冬眠, 利于捕捞; 水质无污染, 鱼的品质好; 气候寒冷, 便于储存和运输; 湖冰厚, 捕捞安全; 临近春节, 市场需求量大; 冬捕习俗历史悠久。

装废弃物分类回收、循环再利用以及合理处置体系等。

消费者：树立保护环境、绿色消费的观念，减少对包装的过度在意；接受循环使用的快递包装，使网购消费行为更加低碳环保；积极承担包装分类的责任，不随意丢弃并循环利用包装等。物流企业：坚持诚信经营，遵守行业规范，实行文明分拣和投运；建立标准化体系，依靠科学技术和管埋，降低包装消耗等。（要求：方法有理有据，与主体对应准确）

41. (3) ①政府通过转变职能，为创新创业提供公共服务。②中关村园区管委会没有行政审批权，不干预企业运行，有利于充分发挥市场在资源配置中的决定性作用，发挥社会组织治理体系中的服务功能，为中关村的创新发展营造了良好的市场环境和政策环境，激发了企业的市场活力和社会创造力。

## 北京市石景山区 2017 届高三 3 月统一练习文综历史试题

### 参考答案

12-23: CADD C BCDAC BD

37. (34 分)

(1) (10 分) 背景: 北宋商品经济的发展; 四川交通险峻, 金属货币交易不便; 纸币发行者储备足够的金属货币保证纸币的信用。(6 分)

作用: 宋代文字流通, 便于民众携带; 有利于商品经济发展; 元朝滥印纸币, 造成货币贬值, 掠夺民众财富, 引发农民起义。(4 分)

(2) (12 分) 原因: 抵御西方经济危机的冲击, 防范日本经济侵略。(2 分)

措施: 通过立法手段进行; 建立专门机构负责。(2 分)

影响: 纸币政策实施之初, 实现了中国币制统一, 促进了国民政府统治前期经济的发展, 为抗日战争胜利奠定了基础。(4 分) 在抗日战争和解放战争期间, 国民政府采取通货膨胀政策, 导致了法币的贬值和崩溃, 使民族工业陷入困境, 广大民众的利益受到严重损害, 是国民党在解放战争中失败的重要原因之一。(4 分)

(3) (12 分) 20 世纪 30 年代经济危机严重影响了世界金融市场的稳定性, 加剧了世界紧张局势, 二战后西欧经济衰退, 美国经济实力空前膨胀, 以英镑为中心的资本主义世界货币体系难以维系, 在美国主导下成立了国际货币基金组织和国际复兴开发银行, 以美元为中心的布雷顿森林体系建立。(6 分)

20 世纪 70 年代西方主要国家尤其美国经济出现“滞胀”, 欧共体的成立大大增强了西欧国家的经济实力, 日本迅速崛起, 世界经济多极化趋势出现, 以美元为中心的布雷顿森林体系开始走向崩溃。(6 分)

40. (20 分)

(1) (8 分) 主要史实: 1931 年, 日本侵略者制造九·一八事变, 炮轰中国东北军驻地, 攻占沈阳, 不到半年侵占了整个东北。1932 年 1 月, 日本侵略者袭击中国上海, 制造了一·二八事变。1932 年 3 月, 日本帝国主义扶持清朝废帝溥仪做傀儡皇帝, 在中国东北建立伪满洲国。1935 年, 日本侵略者为侵占中国华北而蓄意制造了一连串事件, 总称“华北事变”, 大批日本关东军入关, 威逼平津。(每点 2 分, 最多不超过 6 分)

严重影响: 中国东北三省沦为日本的殖民地; 华北地区日趋殖民化; 中华民族危机加深。(2 分)

41. (26 分)

(1) (8 分) 对劳动力数量的需求变小(对劳动力素质的要求提高)(2 分), 对矿产资源的依赖降低(2 分), 对市场需求依赖度提高(2 分), 对网络信息的依赖度提高(2 分), 对科技要求提高(2 分); 对交通运输条件要求提高(2 分)(任答四项即可)。

(2) (10 分) 科技成就: 西门子研制发电机; 戴姆勒和本茨研制汽车。(2 分)

发展原因: 德国统一及君主立宪制的确立, 为工业发展提供了统一市场和制度保障; 通过普法战争获得煤矿区及巨额赔款, 为工业发展提供了资源和资金。交通运输与军事工业推动重工业的发展; 工业化起步较晚, 集中力量投资新兴产业; 科学技术成果直接应用于生产。(每点 2 分, 最多不超过 8 分)