

# 北京市海淀区 2016 年高三二模试卷

## 高三文科综合能力测试

### 历史

#### 第一部分（选择题 共 48 分）

12. 公元前 513 年，晋国赵鞅将刑书条文刻铸在铁鼎上，公之于众，史称“铸刑鼎”。孔子对此批评说：“晋其亡乎！”孔子认为，将治理民众的刑法铸于鼎上，混淆了贵贱尊卑的等级。“贵贱无序，何以为国？”这反映了

- A. “刑鼎”体现青铜器冶铸技术的进步      B. 孔子反对以严刑峻法治理国家  
C. “贵贱无序”会危及到君主专制统治      D. 孔子力图维护传统的等级秩序

13. 汉成帝建始元年（公元前 32 年）夏四月，天气异常，黄雾四塞终日。皇帝为之惊心，询问大臣，大臣回答这是因为“阴盛侵阳”，上天示警所致，“今太后诸弟皆以无功为侯”，不符合高祖皇帝留下的规矩。于是，太后之弟王凤不得不上书辞职。汉成帝也承认自己在这件事上是有过失的，因此造成了这种异常的天气。由此可知当时

- ①农业生产遭受严重破坏      ②“天人感应”说深入影响朝政  
③外戚专权引发朝臣不满      ④皇帝重用外戚力图削弱相权  
A. ①③      B. ②③      C. ②④      D. ①④

14. 下图为某同学总结的“中外经济文化交流”示意图，图中长方框中应填写

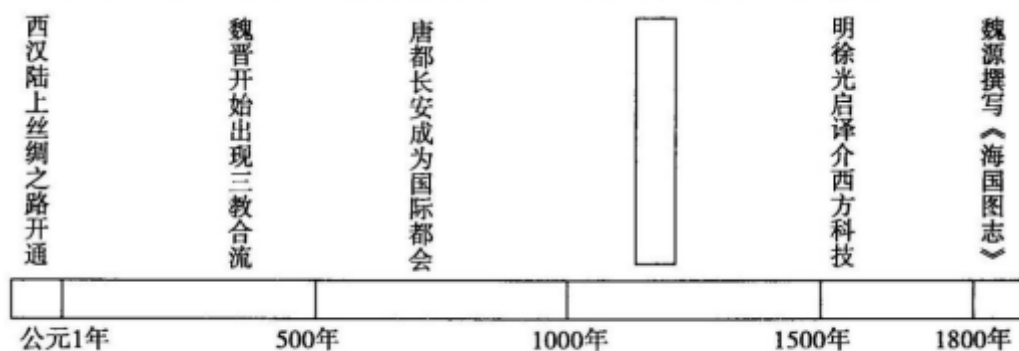


图 6

图 6

- A. 海上丝绸之路开通      B. 美洲白银大量进入中国  
C. 佛教思想融入儒学理论体系      D. 《本草纲目》翻译成外文出版

15. 梁启超说：“欲救中国……非择一举国所同戴而诚服者，则不足以结合其感情，而光大其本性。于是

乎以孔教复原为第一著手。”以下历史文献能够体现这一说法的是

- ①《新学伪经考》 ②《孔子改制考》 ③《变法通议》 ④《应诏统筹全局折》

- A. ①② B. ②④ C. ③④ D. ①④

16. 山东巡抚孙宝琦致清廷责任内阁电：“今日各省民情，如决江河。然察其所为，决非种族相仇，实渴望共和政体。依臣愚见，莫如毅然改计，俯顺輿情。”孙宝琦此电文的背景是

- A. 太平天国运动蓬勃兴起 B. 洋务运动在各省陆续展开  
C. 义和团运动在北方开展 D. 武昌起义后各省反清独立

17. 图 7 为张漾兮的版画《遗嘱》，该画中有如下文字：“我们奋斗牺牲，是争取你们的光荣生存。我遗留田地，你们要永世地保存完整。不准妥协、投降、卖国偷生。朝鲜、捷克是你们的明镜。”对此作品理解准确的是




图 7

- A. 描绘了北伐战争中士兵勇敢顽强的英雄气概 B. 再现农村革命根据地粉碎国民党围剿的决心  
C. 形象地表达了中华民族抗战到底的坚强意志 D. 生动地展现人民解放军不怕牺牲的革命精神

18. 图 8 所示的城市见证了新中国的发展。下列说法准确的是

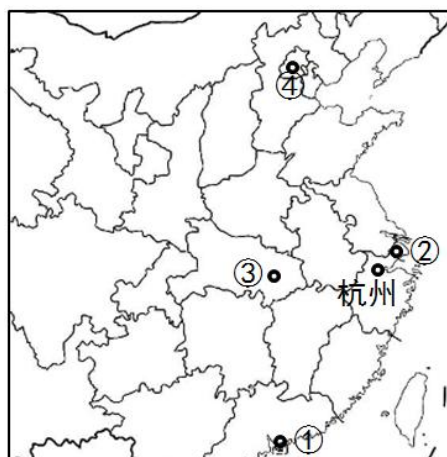


图 8

- A. 新中国航空工业在①起步                      B. APEC 首脑会议曾在②召开  
C. 农村经济体制改革在③首先开启              D. ④是对外开放最早的窗口

19. 据李维《罗马史》记载，在罗马共和国时期，“罗马人将在一年一度选出的官员的治理下，成为以法律取代个人治理的国家。”文中“以法律取代个人治理的国家”中的法律是指

- A. 习惯法              B. 《十二铜表法》              C. 万民法              D. 《查士丁尼法典》

20. 17 世纪的哲学家们认为真相是可知的，必须通过缜密的观察和实验这类运用人类理性的方法来发现。如果人类能发现真相，发现自然的规律，那么这些知识就能帮助我们创造一个更好的世界。以上观念产生的影响是

- A. 影响了新航路的开辟   B. 有利于文艺复兴的开展   C. 促进了宗教改革的发生   D. 推动了启蒙运动的兴起

21. 在罗斯福新政期间，从前属于州权范围的一些权力，如教育、卫生、社会福利、工业管制、劳资关系等等，均受到总统和联邦政府的干预。拨款和政策制定之权均在联邦，而州和地方只有执行和管理之权，甚至在州权范围内的事务也有了联邦政府插手的现象。以上现象表明

- ①联邦政府担负起稳定和发展经济的职责      ②新政扩大了总统和联邦政府的权力  
③新政结束了美国资本主义市场经济制度      ④新政改变了美国三权分立的政治体制

- A. ①②              B. ③④              C. ①④              D. ①③

22. 西方学者指出，“许多人认为，如果民族国家的发展为欧洲带来如此多的灾难，或许放弃发展民族国家，实行欧洲统一对欧洲的发展才是最有利的。此外，战争带来的破坏如此之大，许多欧洲人认为只有在合作、不竞争的氛围中，欧洲才可能会复苏。”对以上观点理解正确的是

- A. 反映了欧洲联合的发展趋势              B. 否定民族国家在欧洲历史中的作用  
C. 促成了战后欧洲经济的恢复              D. 主张以国家干预经济取代自由竞争

23. 与现实主义相比，现代主义艺术在对待社会、人、自然与自我的关系上失去了平衡，关系是扭曲的，采用的表现方式是荒诞、寓意和抽象的。以下美术作品属于现代主义绘画的是



A



B



C



D

## 第二部分（非选择题 共 52 分）

37. （32 分）货币金融体系不断发展演变，对人类社会产生了深远的影响。阅读材料，回答问题。

材料一 明朝末年，钱庄已成为一种金融机关，不但可以兑换铜钱和金银，而且积极地发放贷款。不过中国明末的钱庄，同欧洲中世纪的银行比较，不但规模小，营业范围也小。欧洲的银行，由兑换而发展出存贷款和汇兑的业务来；中国的钱庄，由兑换只发展出贷款业务。存款业务在明朝没有进展，不论公家或私人，都将白银埋在地下，实行窖藏，不能供人利用。因为存款业没有发展起来，导致钱庄规模小；贷款的数目也不大，只是个人间的通融，多供消费。存款业不发达，是由于当时的中国社会动荡，没有进步成一个法治国家；一个人的财产放在外面，毫无保障。

——摘编自彭信威《中国货币史》

(1) 依据材料一分析中国明代的钱庄与早期的西方银行相比有什么不同？说明不同的原因和影响。（10 分）

材料二 在中国近代历史上，外国银行在中国设立了大量机构，并发行货币。中国的资本市场长期为外国银行垄断。外汇市场更是基本上操纵在外国人的手里。外国银行垄断了国际汇兑，上海的外汇买卖业务 2/3 由英国汇丰银行经营，汇价也由汇丰银行决定。

金融市场本应该为工商业服务，但近代中国的金融市场和产业联系甚少，主要从事黄金、外汇的交易。金融市场上买卖证券多是国家债券，成为各路军阀维持统治，互相混战筹集资金的场所。东南沿海城市的金融市场产生早，发展较快，主要集中在上海、广州和天津等沿海大城市。内地金融市场产生较晚，发育程度也很低。抗战期间金融市场曾一度转移到重庆和西南、西北一些城市。抗战后，金融中心很快回到上海等沿海城市。

——摘编自赵津主编《中国近代经济史》



(2) 依据材料二，概括中国近代金融市场的特点。你如何认识以上特点。(10 分)

材料三 20 世纪中期以来，国际金融货币发生了巨大的变化。

1	1944 年	布雷顿森林会议确立了美元与黄金以固定比率挂钩、其他国家货币与美元挂钩的新国际货币制度，正式确立了美元在国际货币体系中的主导地位。
2	1945 年	国际货币基金组织和国际复兴开发银行正式成立。
3	1964 年	日本改变外汇业务全部以美元计值和由驻日外资银行代理做法，在国际商品和外汇交易中开始使用日元
4	1966 年	以美国和日本为主在菲律宾马尼拉成立了亚洲开发银行。
5	1971 年	美国宣布停止履行对外国政府或中央银行以美元向美国兑换黄金的义务。美联储拒绝向国外中央银行出售黄金，美元与黄金挂钩的体制名存实亡。
6	1973 年	西欧出现抛售美元和抢购黄金、马克的风潮，联邦德国、法国等国决定对美元开始实施“联合浮动”汇率，英国、意大利、爱尔兰实行单独浮动，固定汇率制度崩溃。
7	1980 年	日本政府修改《外汇法》，日元计值交易机会增加，到 1988 年期间，在日本的进出口结算中日元计值比率大幅上升，从而减少了汇率变动。
8	1997 年	泰国宣布放弃固定汇率制，实行浮动汇率制，引发亚洲金融风暴，许多国家经济受到影响。
9	1999 年	欧盟单一货币欧元正式问世。
10	2013 年	中国提出成立亚洲基础设施投资银行（Asian Infrastructure Investment Bank, AIIB），资本金 1000 亿美元，中国将支付一半、即 500 亿美元的资本金。

(3) 根据材料和所学知识，在上表中任选三条历史信息进行解读，主题自拟。(12 分)（要求：主题明确；提取信息充分；论证和分析逻辑清晰；抄写答案示例不得分）



40. (10 分)

材料一 由于长期的战争和经济凋敝，1949 年，城市经济陷入严重困难之中，失业严重。1950 年 7 月，仅登记失业的工人即达 166.4 万人，占当时城市职工总数的 21%。人民政府本着“三个人的饭五个人匀着吃”的精神，对官僚资本企业的工人实行了“包下来”的政策。由于城市失业人数太多，政府不可能都“包下来”，因此在努力恢复生产以增加就业的同时，实行“安置与救济并重”的政策。从 1950 年 4 月起，在全国开展了一场声势浩大的救济城市失业工人的活动。据不完全统计，从 1950 年 7 月到 1953 年底，以工代赈达 280 万人次，领取失业救济金者达 460 余万人次。到 1951 年底，城市有 220 万失业人员重新就业。1952 年，全国职工人数比 1949 年增加了 97.5%。

——摘编自武力主编《中华人民共和国经济简史》

(1) 阅读材料一，说明新中国建立之初，党和人民政府帮助城市平民改善生活状况的措施和成效。(10 分)

41. (10 分)

材料二 敦煌地区年降水量仅 37 毫米，农业生产完全依赖于水利灌溉。据敦煌文书记载，西魏邓彦所订立的用水灌田施行细则，“古老相传，用为法制”，迨至隋唐，一直施行，与政府的政令具有同等效力。敦煌文书《水部式》载：“沙州用水浇田，令县官检校。”每乡设“渠头”负责水利事宜。对各级管理人员，还备有奖、惩条款。敦煌当时的人口只有 6 万有余，其渠道之完备、管水配水制度之严密，令人赞叹。唐朝敦煌农业得到了长足发展。敦煌壁画中有许多农事活动的场面。敦煌“实边食，余粟转输灵州（今宁夏吴忠），漕下黄河，入太原仓，备关中凶年。”

——摘编自刘进宝《敦煌历史文化》

(2) 根据材料说明唐代敦煌水利事业发展的特点及形成此特点的原因与影响。(10 分)

## 参考答案

12	13	14	15	16	17	18	19	20	21	22	23
D	B	C	A	D	C	B	B	D	A	A	D

### 37. (32 分)

(1) (10 分) 不同：经营规模小；业务范围只有贷款和汇兑，没有存款业务。(4 分)

原因：中国古代在君主专制制度下，法制不健全；私有财产不受保护，大量白银货币处于窖藏状态。(3 分)

影响：大量资金不能进入流通和生产领域，不利于社会经济的发展。(3 分)

(2) (10 分) 特点：外国银行占据垄断地位，发行货币，控制外汇市场；金融市场和产业资金联系薄弱，成为维持军阀割据的资金来源；金融市场发展极不平衡，主要集中在东部沿海地区。(6 分)

认识：这种状况出现的原因是西方侵略使中国处于半殖民地状态，导致金融业无法对中国社会经济发展产生积极的促进作用。(言之有理，即可得分) (4 分)

(3) 解读评分标准 (12 分)

第一等 (12—9 分) ①观点明确；

②能有机结合材料并充分利用史实，多角度论证观点；

③逻辑严密，论述充分，表达清晰。

第二等 (8—5 分) ①观点较明确；

②能结合材料或利用相关史实论证；

③论述较充分，表达清晰。

第三等 (4—0 分) ①观点不明确；

②未能利用材料或史实解释观点；

③论述欠充分，表达不清晰。

答案示例：

主题：20 世纪 80 年代以来亚洲金融的发展改变世界金融格局

所选历史信息序号：第 7、8、10 条

解读：

20 世纪 80 年代，为推动经济的发展日本政府修改了《外汇法》，日本提出了“贸易立国”，“出口第一”的口号，稳定的汇率有利于日本外贸的发展，日元在对外贸易中得以广泛使用，日本成为仅次于美国的世界第二经济大国。

90 年代，因泰国实行浮动汇率引发了波及许多国家的亚洲金融风暴。这说明世界各国金融联系日益密切。



21 世纪，改革开放提升了中国综合国力，中国为主体成立亚洲基础设施投资银行，正在逐步改变西方国家为主导的国际金融体系。

综上所述，80 年代以来亚洲金融的发展改变了原有的国际金融格局，对世界经济新秩序的建立产生了广泛影响。

40. (10 分)

(1) (10 分)措施：“包下来”政策，创造更多就业机会。恢复生产增加就业。对失业工人实行救济和实行“以工代赈”。(6 分)

成效：失业人员重新就业。职工人数大量增加。城市人民生活水平得以改善。(4 分)

41. (10 分)

(2) 特点：主要利用河渠进行灌溉，制定法规严格水的分配和利用；设置专职官员和管理人员确保法规实施，注重节水与水资源的合理利用。(4 分)

原因：干旱少雨的自然环境，当地人与政府的充分重视。(2 分)

影响：促进敦煌农业经济的发展，有利于边疆地区的稳定和开发，为关中地区备荒提供粮食支持。(4 分)