

北京市西城区 2017 年高三一模试卷

高三文科综合能力测试

地理

第一部分（选择题 共 44 分）

“突然觉出‘凉爽’的一刹那，我怔了一怔。一瞬之间，不可思议，永远汗流浹背的身体干了……久久的苦熬居然真能结束……”（引自作家张承志描写北京市某一节气的散文）。据此，回答第 1、2 题。

- 该节气，我国北方
 - 柳絮纷飞
 - 秋高气爽
 - 漫山红叶
 - 鸿雁北归
- 在下个节气到来之前，北京
 - 日出时间提前
 - 正午太阳高度变大
 - 昼夜温差变大
 - 降水明显增多

2017 年 2 月 20—22 日中央气象台发布寒潮蓝色预警。图 1 是我国四个城市此次寒潮过程中降温、降水的统计数据。读图，回答第 3、4 题。

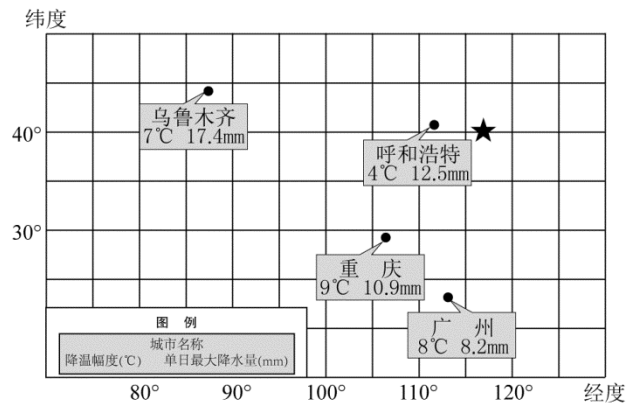


图 1

- 此次寒潮
 - 源地位于新疆的山地冰川
 - 西北地区降温的幅度大于南方
 - 移动路径总体自西北向东南
 - 冷气团饱含水汽，北方降水多
- 寒潮过境后
 - 新疆北部山区融雪侵蚀严重
 - 重庆市统计冻害造成的农业损失
 - 内蒙古高原上河流出现春汛
 - 广州市清理结冰路面，保证交通

图 2 是 2009—2011 年我国东部某城市各风向霾出现次数统计图（单位：次）。读图，回答第 5 题。

5. 该城市

- A. 西南部的空气质量最差
- B. 各风向出现霾均少于 50 次
- C. 污染源集中在东南、东北部
- D. 西北风势力弱，扩散效果好

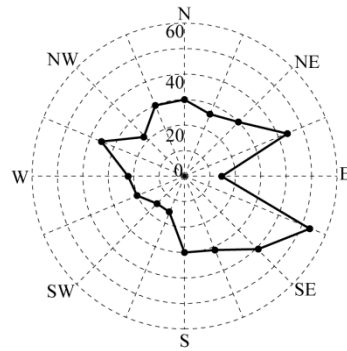


图 2

图 3 为贺兰山及附近自然景观示意图。读图，回答第 6、7 题。

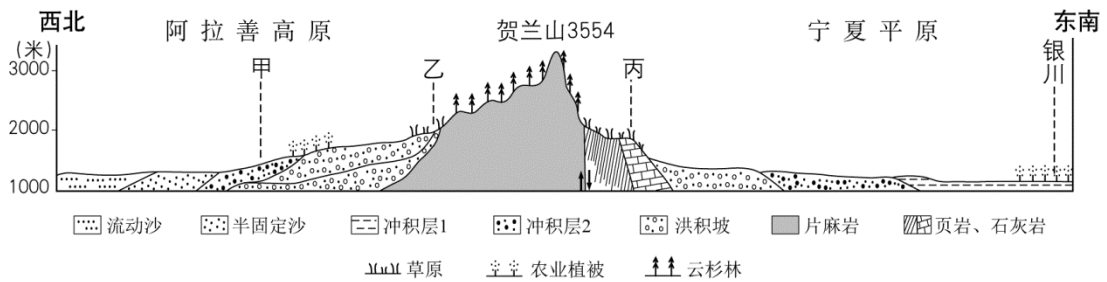


图 3

6. 图中

- A. 甲地是由风力沉积作用形成
- B. 乙地比丙地的冬季更加温暖
- C. 丙地会出现典型喀斯特地貌
- D. 冲积层 1 形成晚于冲积层 2

7. 图示地区

- A. 从干旱区向半干旱区过渡
- B. 平原形成过程仅与外力作用有关
- C. 农业靠冰川融水提供水源
- D. 山地植被丰富，发展木材加工业

图 4 为京津冀地区某汽车制造企业空间集聚与扩散示意图。读图，回答第 8、9 题。

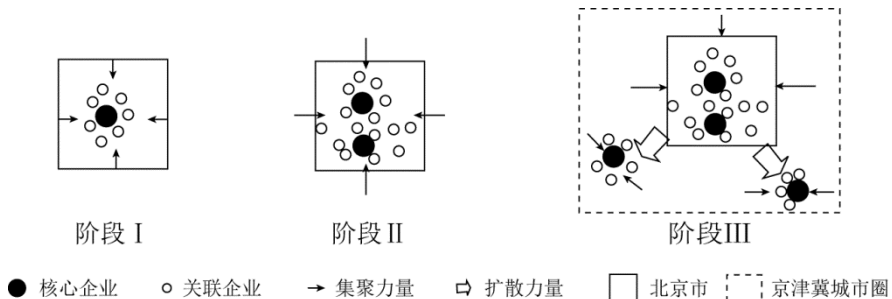


图 4

8. 该汽车制造企业

- A. 需要较强的配套生产
- B. 集中布局的效益最高
- C. 对劳动力素质要求高
- D. 布局主要受原料影响

9. 随着京津冀城市圈的建设，该汽车制造企业

- A. 将吸引大量劳动力向北京市城区聚集
- B. 发展会拉大区域内城市化水平的差距
- C. 分散布局的趋势得益于交通条件改善
- D. 主要利用天津港整车海运到南方市场

读图 5，回答第 10、11 题。

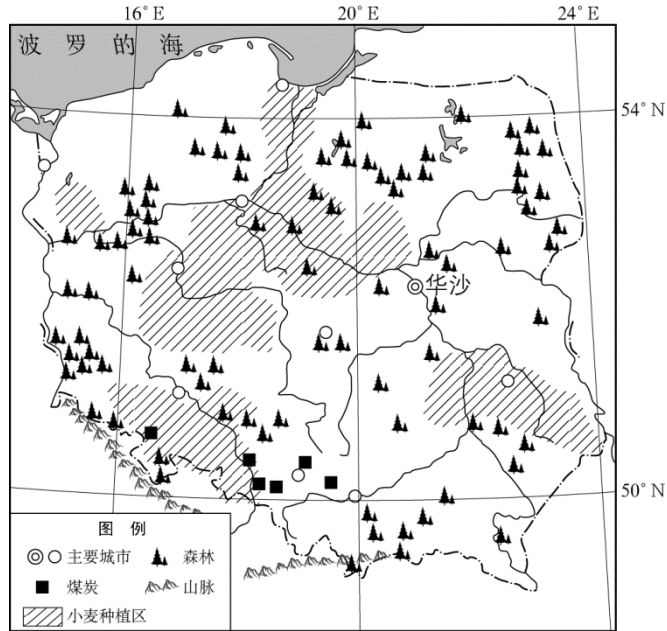


图 5

10. 波兰

- A. 地势南高北低，以外流河为主
- B. 位于大陆性气候区，降水稀少
- C. 北部沿海地区的人口密度较大
- D. 城市全部依靠水运兴起和发展

11. 该国农业生产中

- A. 小麦种植区靠近河流为方便运输
- B. 重点防治土地盐碱化问题
- C. 北部城市周边发展大牧场放牧业
- D. 糖料作物以种植甜菜为主

第二部分（非选择题 共 56 分）

36. (36 分) 读图 11，回答下列问题。

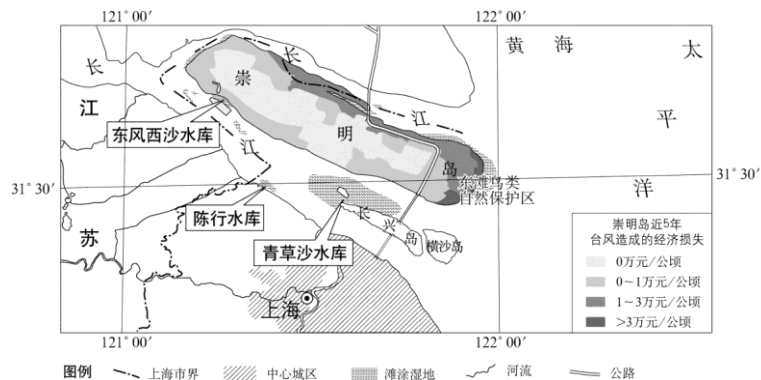


图 11

(1) 说明清朝新疆渔业生产的分布特点。(6分)

(2) 与现代相比,分析清朝新疆渔业繁荣的原因。(4分)

41. (10分) 2017年1月,中国国家主席习近平访问瑞士,出席世界经济论坛达沃斯年会。

瑞士被称为“创新之国”。瑞士联邦主席指出:国土资源的匮乏,使挖掘人的智慧成为我们经济社会发展的基础。读图13,回答第(1)题。

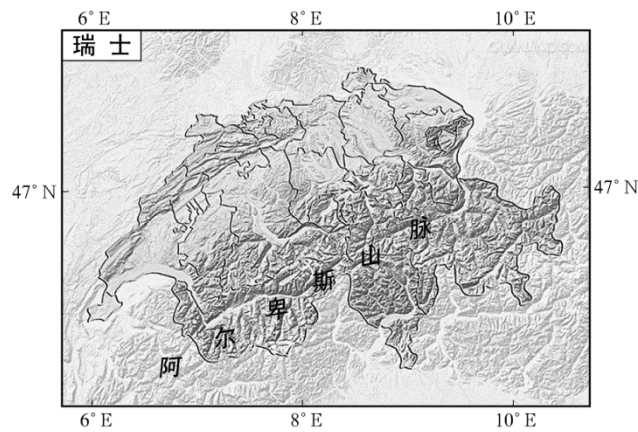


图 13

(1) 分析瑞士选择创新发展道路的原因。(10分)

参考答案

1	2	3	4	5	6	7	8	9	10	11
B	C	C	B	C	D	A	A	C	A	D

36. (36分)

(1) 崇明岛四面环水，夏季气温低于中心城区；岛上空气清新、环境优美（替换：旅游资源类型多样，基础设施完善）；距离上海市区近；有公路相连，交通便利。（8分）

(2) 崇明岛的东岸和北岸。（2分）沿海防护林可以起到防风的作用；减少海浪对岸线的侵蚀；为候鸟提供栖息地（替换：保护生物多样性）；形成旅游景观（替换：美化环境）。（8分）

(3) 保证上海市供水稳定、安全；新建水库靠近上游方向，水质较好；受海水倒灌影响小；湿地可以起到净化水质的作用；利用滩涂，占地成本低。（10分）

(4) 沿江（沿海）；空闲土地面积大，地价低；临近钢铁产区；政策支持。（8分）

（只替换政策一项：对环境影响小，历史悠久，工业基础好）

40. (10分)

(1) 产鱼地数量多，分布广（替换：分布不均）；天山、阿尔泰山山麓地带和塔里木盆地边缘（两者答其一即可）的河流、湖泊（两者答其一即可）。（6分）

(2) 河流多，河流水量丰沛（两者答其一即可）；渔业资源丰富。（4分）

41. (10分)

(1) 地处内陆（替换：缺少入海通道）；地形以高原、山地为主（替换：国土面积较小）；资源贫乏；国民素质高；政策支持。（人文因素替换：资金充足）（10分）