



西城区高三统一测试

文科综合

2018.4

本试卷共 17 页,共 300 分。考试时长 150 分钟。考生务必将答案答在答题卡上,在试卷上作答无效。考试结束后,将本试卷和答题卡一并交回。

第一部分 (选择题 共 140 分)

本部分共 35 小题,每小题 4 分,共计 140 分。在每小题列出的四个选项中,选出最符合题目要求的一项。

微信中的魅力中国 24 节气表情包,用时尚现代的传播方式,向世界推广中国优秀的传统文化。图 1 为立春和雨水的表情符号。读图,回答第 1 题。

1. 图中两节气期间

- A. 华北平原进入雨季
- B. 浙闽丘陵茶树萌发
- C. 赤道太阳高度变小
- D. 地球公转速度渐快



图 1

露点是指在固定气压下,大气中的气态水达到饱和而凝结成液态水,所需要降至的温度。图 2 为美洲局部地区某时天气图。读图,回答第 2、3 题。

2. 图中

- A. ①地气温低、降水少
- B. ②地气温高、露点高
- C. ③地风力弱、雾霾重
- D. ④地风力强、雷暴多

3. 图示区域

- A. 主要受盛行西风影响
- B. 西部为板块生长边界
- C. 东南部飓风活动多发
- D. 东北部为水稻种植区

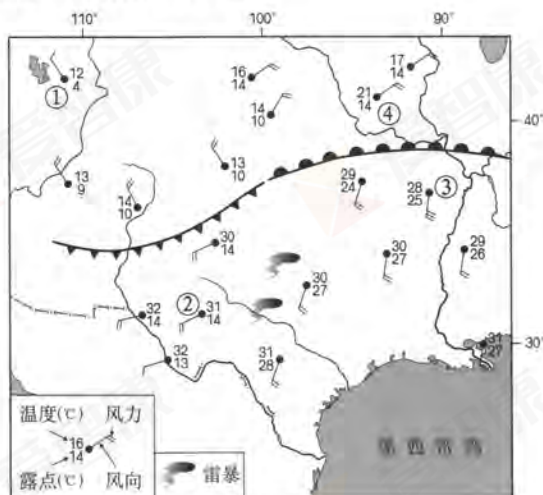


图 2



图3示意每5°纬度带世界海陆分布及平均温度年较差。读图,回答第4、5题。

4. 图中
- A. 图例甲表示海洋,乙表示陆地
 - B. 北半球高纬比低纬海洋面积大
 - C. 南回归线附近海陆面积相差最小
 - D. 40°S比40°N平均温度年较差小
5. 据图推断
- A. ①地针叶林面积广大
 - B. ②地为热带季风气候
 - C. ③地海陆间循环为主
 - D. ④地洋流自西向东流

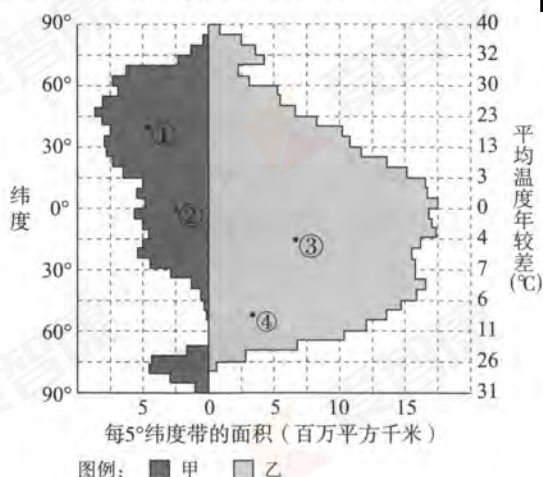


图3

随着电子商务的发展,网店数量集中的淘宝镇大量涌现。图4示意中国淘宝镇分布。读图,回答第6、7题。

6. 淘宝镇形成的主要优势区位条件有
- ①商业文化氛围较好
 - ②农业发展历史悠久
 - ③交通通信设施完善
 - ④科学技术实力雄厚
- A. ①③
 - B. ①④
 - C. ②③
 - D. ②④
7. 淘宝镇
- A. 均分布于东南沿海
 - B. 有明确的服务范围
 - C. 规模等级渐高于冀
 - D. 环境承载力粤最大



图4



蔓越莓生长在寒冷的湿地中。智利蔓越莓4月前后果实成熟，加工成蔓越莓干口味纯正，品质稳定，深受中国消费者青睐，我国正在致力于打造“东方蔓越莓之都”。据此，回答第8、9题。

8. 蔓越莓适合引种到我国的

- A. 三江平原
- B. 黄河三角洲
- C. 滇南谷地
- D. 吐鲁番盆地

9. 智利蔓越莓

- A. 生长在地中海气候区
- B. 收获期正值长江丰水期
- C. 加工厂靠近原料产地
- D. 大量鲜果海运出口我国

稳定灯光数据图是由地球观测站依据卫星获得数据制作的地图，该数据排除了因火灾等干扰因素引起的短暂亮光。图5为某校地理兴趣小组同学下载的东亚局部地区图像。读图，回答第10、11题。

10. 该图像

- A. 所示区域东部比西部时间晚
- B. 应用了遥感和地理信息系统
- C. 可提供精准的三维地理坐标
- D. 灯光暗淡地区云雾天气较多

11. 读图可知

- A. 发电站的分布状况
- B. 城市化水平的差异
- C. 各地人口增长模式
- D. 土地利用方式变化




图5

12. 图6为2018年入选《国家宝藏》的两件青铜器——商代皿天全方罍和西周大克鼎，它们分别是皿氏一族为祭祀父辈先人、大贵族克为祭祀祖父而铸造。以上文物信息反映出

- A. 中国先民敬重宗室血脉之情
- B. 商周时期“家国一体”的特色
- C. 先秦时期礼乐等级制度盛行
- D. 分封制下周王与诸侯的关系



图6

13. 文学折射时代。下列相关说法正确的是

- A. 《诗经》收录了宗庙祭祀的歌词，是浪漫主义的代表作
- B. 《离骚》抒发了作者忧国忧民之情，具有现实主义风格
- C. 汉赋和唐诗是国家统一、经济繁荣在思想文化上的体现
- D. 宋词、元曲和明清小说均为满足市民阶层文化生活而作



14. 图7为唐宋时期政府钱币与实物收入数量统计图。据此推断，这一时期经济发展的主要趋向是
- A. 官营手工业渐衰落
B. 经济重心逐步南移
C. 商品经济较快发展
D. 自然经济趋于解体

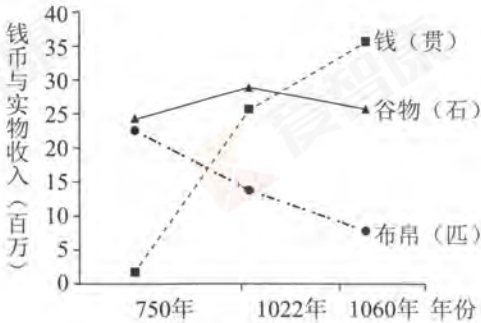


图7

15. 下表出示了不同人对宋朝王安石的评价。

人物	评价
司马光	文章节义过人处甚多，但性不晓事而喜遂非，致忠直疏远，谗佞辐辏，败坏百度，以至于此。
梁启超	若乃于三代下求完人，惟公庶足以当之矣。
列宁	王安石是中国十一世纪时的改革家，实行土地国有未成。

据此得出的认识，正确的是

- A. 对人物的评价受制于特定历史条件
B. 同时代人因有直观感受评价更加准确
C. 后人因掌握丰富资料评价较为全面
D. 外国人因文化背景不同评价更为客观
16. 明末清初，以黄宗羲、顾炎武、王夫之为代表的实学兴起，追求匡时济世、通经致用。晚清实学以曾国藩为代表，主张在固守圣人之道的前提下，学习西方技术，建立近代工业。这反映了实学
- A. 强调人与人的关系和等级，是社会变革的产物
B. 迎合统治者用思想统一来巩固政治统一的需求
C. 融合佛、道思想解释儒家义理，形成了新儒学
D. 摒弃“空谈”，强调“经世致用”，与时俱进

17. 图8漫画题目是“在中国商店里的日本人”。图中日本人已将“赔款二亿两”收入囊中，正在抢夺清朝官员手中“贸易的钥匙”。下列条款体现此意图的是

- ①开放沙市、重庆、杭州、苏州为商埠
②允许日本在中国通商口岸投资设厂
③割让台湾及其附属岛屿、澎湖列岛
④日本产品运销中国内地免收内地税

- A. ①②③
B. ①②④
C. ①③④
D. ②③④



图8



18. 国际风云变幻万千，中华人民共和国依靠一根“定海神针”，成功地处理了和社会主义国家、民族独立国家、西方发达国家等的关系。被喻为“神针”的是
- A. “一边倒”政策 B. 和平共处五项原则
- C. 不结盟政策 D. “一国两制”构想
19. 历史上许多学者对于“人是什么”“人的本质是什么”等哲学问题提出了自己的回答。下列主张按出现时间先后排序正确的是
- ① “人是万物的尺度” ② “有思想力的人是万物的尺度”
- ③ “人是自由的动物” ④ “人是一件多么了不起的杰作”
- A. ①②④③ B. ①③②④ C. ③①②④ D. ③④②①
20. 西罗马帝国灭亡后，12 世纪时罗马法出现于意大利和欧洲中部一些自治市的法典中，以解决自身的法律缺陷，罗马法的程序规则被整理并引入法庭中。这些现象出现源于罗马法
- A. 是成文法，有利于按律判决和量刑
- B. 发展过程始终伴随罗马国家的兴衰
- C. 保护私有财产和奴隶主的既得利益
- D. 体系完备、程序严谨有一定普适性
21. 图 9 为 18 世纪初国际贸易状况示意图。

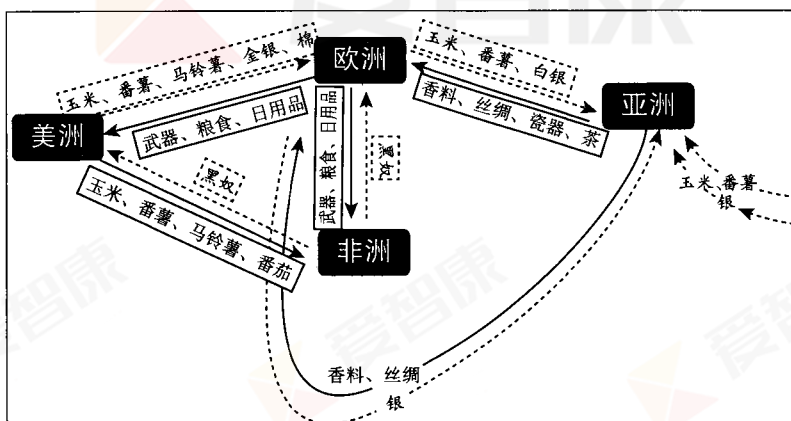


图 9

对其解读准确的是

- ① 欧洲同世界各地有直接的商业联系
- ② 欧洲完成工业革命主要出口工业品
- ③ 通过丝银贸易，大量白银流入中国
- ④ 玉米等作物通过不同路径传入亚洲
- A. ①②③ B. ①②④ C. ①③④ D. ②③④



22. 马克思和恩格斯针对不同时期的特点和不同国情,为《共产党宣言》在各国的出版撰写了七篇序言,强调这些原理的实际运用要以当时的历史条件为转移。以下史实符合此理念的是

- ①甘地倡导“非暴力不合作”反抗英国殖民统治
②列宁实施新经济政策取代战时共产主义政策
③孙中山将“三民主义”发展为“新三民主义”
④毛泽东探索出“农村包围城市”的革命道路

A. ①② B. ②③ C. ②④ D. ③④

23. 下表为某国《20世纪20-40年代工业总产值中生产资料 and 消费资料比例表》(单位:%)。它反映的史实可能是

年份	生产资料	消费资料
1928	39.5	60.5
1932	53.4	46.6
1937	57.8	42.2
1940	61.2	38.8

- A. 日本——明治维新中推行殖产兴业 B. 苏联——国家工业化迅速推进
C. 德国——采用第二次工业革命成果 D. 美国——罗斯福新政取得成效

“你来自泥土,头微微扬起,仿佛仰望天空……

人头壶,红陶材质,仰韶文化,制作于6000至6500年前……”这就是央视推出的纪录片《如果国宝会说话·人头壶——最初的凝望》。回答24、25题。

24. 人头壶是一件盛液体的生活用具,其造型古拙,手法简练,艺术价值极高。下列认识正确的有

- ①艺术必须忠实于材料,人头壶是泥土原貌的再现
②劳动促进了人的审美活动、艺术创造能力的萌生
③从原始艺术的生命力中,能感受到人的本质力量
④人类意识可以穿越时空阻隔,成为宇宙中的永恒

A. ①②
B. ①④
C. ②③
D. ③④





25. 这部纪录片没有渲染、猎奇和神秘的曲折表述，也避免了高冷的学术性叙事，在每集5分钟的讲述中，用通俗易懂的语言与观众交流，让文物“诉说”发生在自己身上的传奇。“5分钟、微记录”的表达形式顺应了短平快视频时代的潮流，迅速引起中国观众的共鸣。该纪录片
- A. 借助大众传媒来诠释中华优秀传统文化，创新了文化传播的途径
B. 展现了中华文化的源远流长，能增添中国观众的文化自信
C. 诉说了原始艺术背后的历史文化，使文物成为文化创新的动力
D. 以短小精悍、有内涵的方式讲述国宝，是中华文化四海传播的见证
26. 西城区陶然亭地区是京城重要的建党纪念地，革命遗址众多，陈独秀、李大钊、毛泽东、周恩来等人都在此留下过影响深远的革命足迹。某中学启动志愿服务活动项目，在陶然亭公园慈悲庵各个展室向观众义务讲解革命史迹，并提供助老助残、文明引导志愿服务。中学生参加这样的志愿服务活动
- ①能帮助观众了解中华民族伟大复兴的探索历程
②向他人传播着革命思想，同时又实现着自我教育
③显示了中华优秀传统文化的相对稳定性和鲜明民族性
④创造了社会主义精神文明创建活动的形式
- A. ①② B. ①④ C. ②③ D. ③④
27. “月宫一号”是我国第一个“空间基地生物再生生命保障系统地基实验装置”，由1个综合舱和2个植物舱组成，可以在高闭合度环境下栽培多种粮食作物、蔬菜、水果、蘑菇等，还可利用植物中人不吃的部分，比如作物的秸秆、蔬菜的败叶等培养黄粉虫。在“月宫一号”内全天候封闭、长期驻留的志愿者，要在舱内生活、学习，开展科研、娱乐等活动。对于这项实验，以下认识正确的有
- ①科学实验是探索未知的主观认识活动
②志愿者既是实践主体，又是实践对象
③科学研究追求的是真理，不允许谬误存在
④实验能深化、检验对生物再生生命保障系统的认识
- A. ①② B. ①③ C. ②④ D. ③④
28. 无数普通人的芳华，汇成了新时代的精彩。从西藏隆子县玉麦乡的乡亲们，到内蒙古苏尼特右旗乌兰牧骑的队员们，从西安交大西迁的老教授，到南开大学新入伍的大学生……一个个爱国奉献、无怨无悔的奋斗故事，勾勒出一幅为梦想拼搏的时代长卷。这些突出反映了
- A. 社会存在决定了思想潮流的演进
B. 人民群众的实践是历史发展的强大推动力
C. 意识形态对经济基础起着促进作用
D. 人的意志是社会历史进步的最终动因



29. 某地是红枣的故乡,种枣历史最早可追溯到 8000 多年前。甲镇政府及乙村委会因工程占地需要,在未办理采伐手续的情况下,违法移栽枣树 1870 棵,导致其中 680 棵树死亡。当地法院判决,甲镇政府及乙村委会补种 5 倍林木,赔偿 360 多万元,并向公众道歉,在当地设立警示标志。对这一案件的正确认识是



图 10

- ①镇政府 and 村委会的全部行政权力来源于人民
②公民可以选择司法途径,矫正错误的公共权力
③公民与镇政府、村委会的法律地位是平等的
④法院是法律监察机关,有责任对政府、村委会进行监督
- A. ①② B. ①③ C. ②③ D. ②④
30. 全国政协赴各地贫困地区的小学开展“改进校园餐食管理”调研。有调研组成员表示,国家贫困地区农村义务教育阶段营养改善计划的标准是每人每天 4 元,要确保这 4 元钱能一分不差地吃到孩子的嘴里。每到一处调研点,听取汇报、察看实情,“察言观色”必不可少;带着问题、发现问题、为解决问题献计献策,“鸡蛋里挑骨头”也是应有之义。这表明全国政协
- A. 履行民主协商职能,为公民权益提供制度保障
B. 履行政治协商职能,完善基层群众自治制度
C. 履行民主监督职能,助力贫困地区脱贫攻坚
D. 履行参政议政职能,督促各地政府增强责任意识
31. 互联网经济在中国拥有巨大的市场,无论是共享单车、电子商务、互联网金融,还是其他在“互联网+”基础上发展起来的各种新业态、新模式层出不穷。政府部门应该
- ①善于抓住市场变化趋势,审慎出台新的准入政策
②按照鼓励创新的原则,由市场自发形成营商环境
③秉持包容审慎的态度,探索社会共治的管理格局
④防范风险,为中央国有企业的发展创造优惠条件
- A. ①② B. ①③ C. ②④ D. ③④
32. 农民在推荐自产自销的农产品时,许多消费者持怀疑态度,担心农民自家吃的畜禽是喂粮食、蔬菜长大的,而卖向市场的鸡鸭鱼肉主要靠饲料添加剂。某贫困地区探索新模式,对农民自产自销的家禽实现数据管理,家禽收购价按养殖时间计算,不按重量计算,购买者扫描二维码可以追踪养殖时间等数据。农民调侃自己卖的鸡叫“时光鸡”,鸭叫“岁月鸭”。对这种“互联网+养殖”模式的正确认识有
- ①广泛推广该模式,有可能增强农民定价、议价的能力
②农民劳动生产率提高,导致了家禽收购价格水平的提高
③消费者与农民双方掌握的信息对称,能促进市场交易活动
④家禽喂养规模化,能使农村传统的生产方式得以延续
- A. ①③ B. ①④ C. ②③ D. ②④



33.《中华人民共和国环境保护税法》于2018年1月1日起施行。该法规定,纳税人排放应税大气污染物或者水污染物的浓度值低于国家和地方规定标准30%的,减按75%征收环境保护税;低于规定标准50%的,减按50%征收环境保护税。以下认识正确的是

- ①对污染产品征税,能普遍增强企业承担环境损害成本的意识
- ②立法设置两档减税优惠,是政府利用经济手段促使企业减排
- ③税率不变的情况下,环境保护税的规模最终会变得越来越大
- ④环境保护税带给企业的压力,可能成为催生环保产业的动力

A. ①② B. ①④ C. ②③ D. ③④

34.从一定意义上说,一部市场经济理论史就是一部对“政府与市场的关系”争论的历史。在以下说法中,正确的表述有

- ①古典经济学派崇尚通过自由市场竞争的方式来配置资源,反对封建制度和重商主义所主张的国家干预制度
- ②20世纪30年代经济大危机的爆发,彻底暴露了自由放任市场的严重弊端,凯恩斯主义主张用以总供给管理为核心的政策对经济实行干预
- ③伴随20世纪70年代“滞胀”现象的出现,反对政府对经济过多干预的新自由主义在西方发达国家兴起
- ④新自由主义各学派一般都否定经济人假设。2008年国际金融危机之后,对新自由主义的反思又成为了经济学的潮流

A. ①③ B. ①④ C. ②③ D. ②④

35.英国作为传统金融大国,在传统金融机构建设协调等方面有着丰富的经验。中国某团队前往英格兰银行进行考察,英方专家就宏观监管问题进行解答。在图11中问号处应该填写的主体与相关解释均正确的是

- A. 国王——英格兰银行行长的任免名单由国王提出,下院审议通过
- B. 议会——内阁要对议会负责,内阁通过财政部领导英格兰银行
- C. 首相——英格兰银行由首相直接领导,负责监管金融市场和发放商业贷款
- D. 内阁——与议会相比,内阁在财政、宏观监管等方面的实权越来越小



图 11 英国金融监管框架



第二部分 (非选择题 共 160 分)

36. (36 分) 读图 12, 回答下列问题。

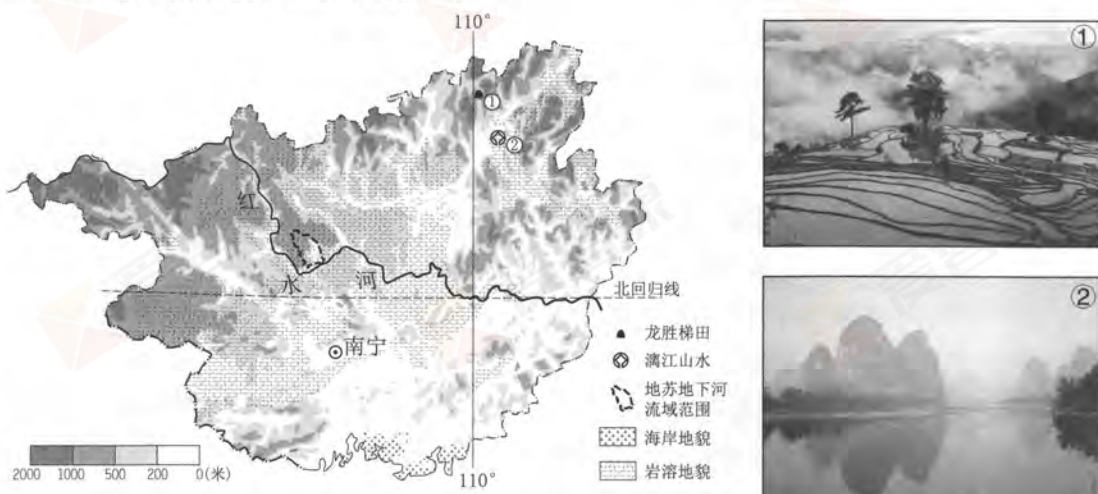


图 12

(1) 概述广西地形、地貌的分布特征。(8 分)

广西是我国重要的“南菜北运”生产基地之一。“百色一号”专列集装箱自备冷藏系统, 2017 年向北京输送绿色果蔬近万吨。

(2) 指出广西“南菜”输出量大的季节, 说明其“北运”的社会经济条件及对输出地的有利影响。(10 分)

旅游景观的形成和发育与该地区的岩石、气候、地形等条件密切相关, 是岩石圈、大气圈、水圈、生物圈相互作用的结果。

(3) 在①地景观和②地景观中任选其一, 分析其形成的主要原因, 说出观赏该景观的最佳方法。(10 分)



地苏地下河是我国长度最长、水量最大的一条地下河。以地苏地下河为纽带，各类溶地貌景观有序、集中地分布于地下河水系周边等地。通过天窗群、季节性地表河、竖井、落水洞等相互联系，形成了统一的地表-地下水文地质单元，呈现出“一河、百窗、千山”的形态(如图13)。

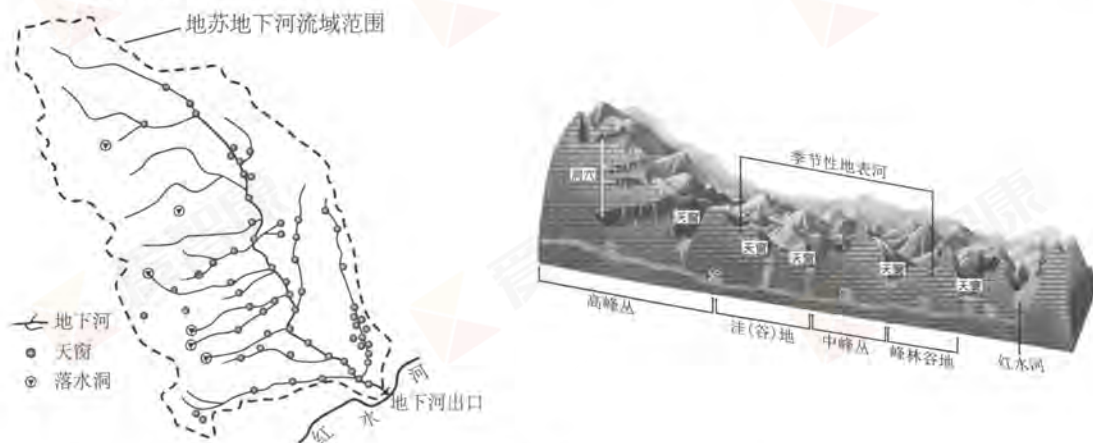


图13

(4) 结合图文材料，列举开发利用该地下河的合理方式。(8分)

37. (36分) 国家治理·民族觉醒·国际合作

材料一 甘肃省放马滩出土了七幅战国时期的秦国地图，反映出统一的图例和基本的比例。其中，邽县行政区图是已知最早的行政图。湖南省马王堆汉墓出土的《长沙国南部地形图》，描绘了长沙国南部的地理和政区状况。图中山脉坐落、山体轮廓和走向均用闭合曲线中填绘细平行线表示，是最早的科学的地貌表示方法。

1708—1718年，由康熙帝主持、来华传教士与清朝官员协作，采用西方三角测量法对清朝全境进行了大规模的经纬度测量，其范围南到海南岛，东北达黑龙江及朝鲜，东南到台湾，西至西藏和新疆，在此基础上绘制出完整的国家疆域政区地图——《皇舆全览图》。

(1) ①依据材料一并结合所学知识，概述从战国至西汉地方行政制度的演变。(6分)

②分析康熙时期能够绘制出完整的国家疆域政区地图的条件。(6分)

材料二 近代学者梁漱溟认为，受西方影响，19世纪90年代至20世纪30年代的中国民族自救运动分为两个阶段，其区分在第一次世界大战。此前目的在于建立一个“近代国家”；此后掉转头来打倒“帝国主义”。此外，中国民族自救运动明显呈现被动的特点。

——摘编自罗志田《西方的分裂：国际风云与五四前后中国思想的演变》

(2) 你如何看待梁漱溟关于中国民族自救运动的观点？运用中外历史发展进程中的重要史实加以论述。(12分)

要求：观点明确，史实充分，史论结合，逻辑清晰。



材料三

20 世纪中后期世界经济发展大事示意图

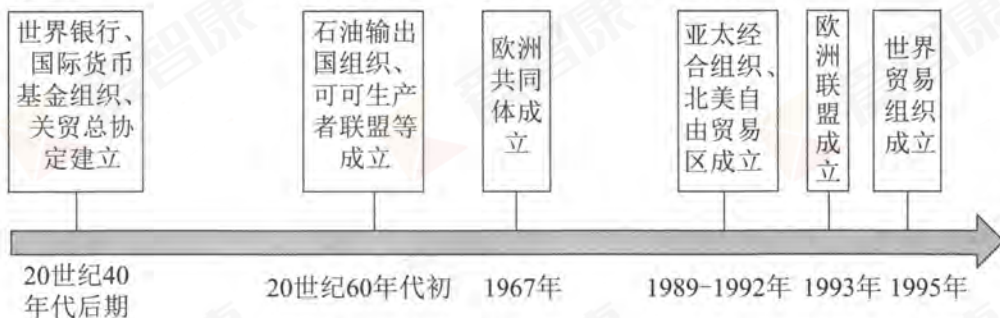


图 14

注：石油输出国组织包括沙特阿拉伯、尼日利亚、委内瑞拉等成员国，可可生产者联盟包括加纳、尼日利亚、巴西等主要可可生产国，这些组织的宗旨均是协调和统一成员国的相关政策，维护各自和共同的利益。

- (3) ①依据材料三并结合所学知识，简要评述二战后世界经济发展的趋势。(8分)
②概述发展中国家顺应此趋势的举措。(4分)

38. (32分) 要读懂中国经济，就要利用“劳动年龄人口”这把解决问题的钥匙。

材料一

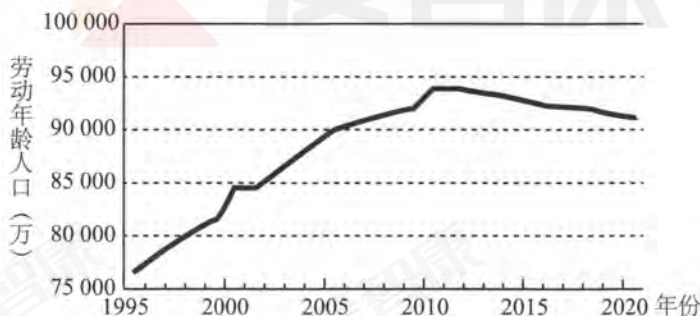


图 15 中国的劳动年龄人口 (15~59 岁)

材料二 号称“世界工厂”的中国东南沿海某地级市，云集了来自五湖四海的数百万打工者，这里是中国改革开放的先行地、全球最大的制造业基地之一。在这个陌生的城市，农民工们有欢笑、有泪水，更有对美好生活孜孜不倦的追求。农民工铁锤已经在这里打拼过很多年了，他清楚地记得，原来很多企业不怎么涨工资，仍有农民工源源不断地从农村涌入城市；后来，全国越来越多的地方闹上了“民工荒”，尽管企业一直涨工资，可就是难招上人来，自己所在的城市也不例外。

- (1) 根据材料一、二中的信息，分析我国的人口因素（在不考虑其他因素的条件下）是如何对经济增长产生影响的。(8分)



(2) 结合材料一、二，运用经济学知识，说明人均 GDP 低的发展中国家，能否与发达国家在国际市场上实现共赢。(6 分)

材料三 在东南沿海地区，有越来越多的工厂“用机器代替人”了，农民工铁锤和他的同伴们都渴望得到更多的职业培训机会。几年前，铁锤把家搬进了老家附近的镇里，他与其他家长一样，也梦想着孩子能享受更多的教育，有一个更美好的未来。

材料四 如果把教育视作一种投资，可以发现教育不仅能使家庭受益，还能给社会带来好处。与教育的私人回报率相比，教育的社会回报是更根本的、更具分享性的回报。但是，劳动力市场信号却倾向于忽略甚至掩盖教育的社会回报这一性质。

(3) 结合材料三、四，说明我国政府应尽量为不同年龄的人群创造教育机会。(6 分)

材料五



(4) 针对材料五中的观点，围绕人口问题，自选角度，运用哲学知识进行评议。(12 分)

要求：观点鲜明；可以就某一点深入剖析，也可以全面论证；知识运用恰当、准确；论述逻辑性强，条理清晰。



39. (14分) 某校高中生在社会实践活动中走进某区人大常委会, 以下是他们与区人大常委会负责人的部分对话。

同学甲: 请问咱们区人大有手机App——掌上交流平台了吗?

负责人: 我们正研究这个问题呢, 你们有好点子吗?

同学甲: 要是做App, 我们觉得可以设计这样几个版本:

第一个是人大及常委会版, 使用者是区人大及其常委会, 可以用来采集本区人大代表所提出建议意见, 发布人大信息, 解读法律法规, 显示代表议案办理情况, 等等。

第二个是人大代表版, 使用者是区人大代表, 可以用来查阅相关政策法规、文件资料, 记录代表在线学习情况, ①, 报送人大闭会期间的工作信息, 等等。(在①的位置, 填写一项其他具体内容。1分)

负责人: 嗯, 很有想法。要不要再增加一个版本?

同学乙: 我们之前讨论过, 确实应有第三个版本, 它的使用者是 ②, 可以用来 ③, 等等。(在②③位置, 分别填写一项具体内容。2分)

同学甲: 咱们可以利用大数据思维, 借鉴许多知名企业的做法, 通过App获取用户大数据, 弥补填写问卷等传统调查形式的不足。许多企业在用户安装App时, 都会索取用户的地理定位、电话、短信、通讯录、麦克风、相机、身体传感器等权限, 详尽地采集用户活动的地点和路线等信息, 读取用户发送、接收的语音、文字和图片等信息。利用大数据获取信息, 往往比问卷调查更真实可靠。

同学乙: 要是用户安装App时, 不同意授权呢?

同学甲: 可以把App安装授权的设置默认为“全部权限”, 要有细心的用户发现了这个默认设置, 允许他们取消与软件用途无关的授权。

负责人: 你们提到的这种做法, 在软件行业内并不少见。听说你们都学过经济学, 那我考考你们, 企业利用App过度采集用户数据信息的行为, 符合市场运行的要求吗? 谁来分析一下。

同学们: ④ (5分)

负责人: 2017年我国网民遇到的网络安全问题中, 遭遇个人信息泄露问题占比最高, 达到27.1%。如果从政治学的角度分析, 你们认为该怎样加强治理呢?

同学们: ⑤ (6分)





40. (18 分) 历史问题现实思考，现实问题历史借鉴。

2018 年中国第一批工业遗产保护名录公布，与张之洞相关的遗址有以下几处：

名称	始建时间	相关资料
大冶铁矿	1890 年	张之洞创办，中国第一家用机器开采的大型露天铁矿；大冶铁路是第一条长江、铁路联运通道。
汉阳铁厂	1890 年	张之洞创办，中国第一家用新式大型机械设备的钢铁煤联合企业。
汉口既济水电公司宗关水厂	1906 年	张之洞批准筹建，其批文写道：“各国洋商恳请揽办，本部堂以事关中国主权，概行谢绝未允。……由官提倡，应即筹拨官款 30 万元作为股东……。其用人理财诸事，官不干涉，以清权限。”

(1) 上述近代工业的创办与晚清哪些重大事件相关？(2 分) 依据表中相关资料，概括这些企业的特点。(6 分)

大冶铁矿遗址现为湖北省黄石国家矿山公园。其主要遗存东露天采场，坑底面积为 8150 平方米，最大垂直高差 444 米，规模位居亚洲第一，于 1958 年投入生产，2005 年结束露天开采。图 16 为东露天采场遗址景观。据图和材料回答第 (2) 题。



图 16

(2) 分析大冶露天采矿可能导致的具体环境问题及采取的生物治理措施。(10 分)



41. (24 分) 文明因交流而多彩, 文明因互鉴而丰富。

丝绸之路能够促进沿线国家与地区之间的经济文化交流。2017 年, 中俄两国提出要开展北极航道开发和利用合作, 共同打造穿越北极圈, 连接北美、东亚和西欧三大经济中心的“冰上丝绸之路”。图 17 为冰上丝绸之路示意图。据图和材料回答第 (1) 题。

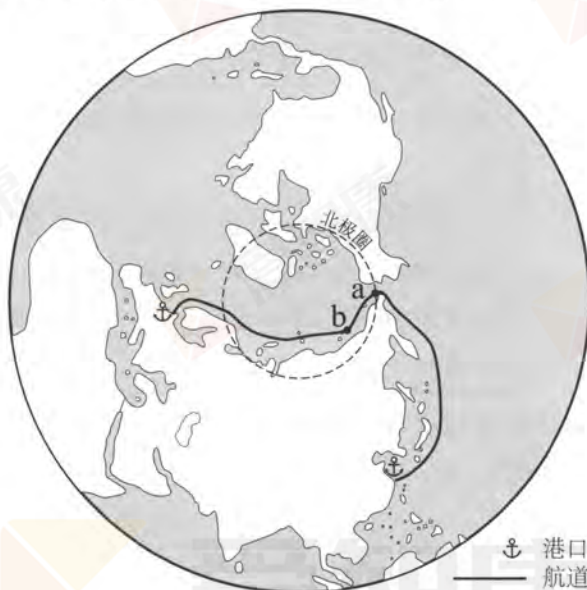


图 17

(1) 说出图中航道 ab 段的大致走向, 简述冰上丝绸之路通航对俄罗斯区域发展的影响。(10 分)

中世纪时, 欧洲书籍以手抄为主, 文化教育长期被教会所垄断。中国的活字印刷术经伊朗传至欧洲, 15 世纪中期, 德国的谷腾堡受此影响制造出印刷机。读书行为从上层社会扩展到下层百姓。路德的德语《新约》, 两年中印行了 14 版。启蒙运动是以一系列资产阶级著作的传播为标志的, 如法国伏尔泰的《牛顿哲学原理》、孟德斯鸠的《论法的精神》、卢梭的《民约论》等。

(2) 依据材料, 简述印刷术的传播对欧洲出版业及文化传播的影响。(8 分)



“四海同春”访问演出被称为“海外春晚”

十年来，国务院侨务办公室在每年春节期间组派“四海同春”艺术团分赴海外公益演出，将祥和、欢乐、和谐带给全球侨胞。“四海同春”成为春节文化“走出去”国家级重点品牌。

“四海同春”还面向“一带一路”沿线国家打造专属节目，演出场次一票难求成为海外侨社的“文化现象”。“四海同春”相关报道也常常登上主流媒体的主要版面。



“四海同春”春节庆典上的中国传统舞狮

2018年伦敦市特拉法加广场春节庆典，是亚洲以外地区规模最大的春节庆典，参与民众多达70万人。

春节庆典活动现场目光所及，到处是色彩缤纷、造型各异的吉祥狗。主持人动情地渲染狗年的吉祥寓意，并不时地引领高喊“旺、旺、旺”，观众群中，应和声响成一片。

(3) 结合材料，运用《文化生活》知识谈谈你对“四海同春”的理解。(6分)

要求：观点鲜明；可以就某一点深入剖析，也可以全面论证；知识运用恰当、准确；论述逻辑性强，条理清晰。

(考生务必将答案答在答题卡上，在试卷上作答无效)



西城区高三统一测试

文科综合参考 答案及评分标准

2018.4

第一部分共 35 小题，每小题 4 分，共 140 分。

- | | | | | | | | | | |
|------|------|------|------|------|------|------|------|------|------|
| 1.B | 2.A | 3.C | 4.D | 5.D | 6.A | 7.C | 8.A | 9.C | 10.B |
| 11.B | 12.A | 13.C | 14.C | 15.A | 16.D | 17.B | 18.B | 19.A | 20.D |
| 21.C | 22.C | 23.B | 24.C | 25.B | 26.A | 27.C | 28.B | 29.C | 30.C |
| 31.B | 32.A | 33.B | 34.A | 35.B | | | | | |

第二部分共 5 大题，共 160 分。

36. (36 分)

- (1) 山地分布在西北部；平原、丘陵分布在中南部；
海岸地貌分布在北部湾沿岸；岩溶地貌分布广。
- (2) 冬季；
条件：交通条件的改善，冷藏保鲜技术的提高，政策支持（市场需求量大）；
影响：增加农民收入（增加就业机会）。
- (3) ①地景观
形成原因：位于亚热带，地势起伏大，水热条件好，水源充足，因地制宜发展农业；
观赏方法：适宜距离，俯视。
- 或②地景观
形成原因：位于亚热带，气候湿热，石灰岩广布，流水溶蚀；
观赏方法：乘船游览，置身其中。
- (4) 利用天窗引水灌溉；地下河出口建坝蓄水；利用地下河落差发电；天窗、地下河等旅游观光（利用天窗网箱养殖等）。

37. (36 分)

- (1) ①演变：战国时期，分封制逐渐瓦解，一些诸侯国在新兼并地区设郡、县；秦统一后，将郡县制推广到全国，建构起完善的政区体系；西汉实行郡国并行制度。
- ②条件：政治方面，平定“三藩之乱”、收复台湾、平定噶尔丹之乱、抗击沙俄入侵；
技术方面，在中国古代先进制图技术的基础上，吸收近代西方技术。
- (2) 略。
- (3) ①趋势：集团化出现并发展；经济全球化趋势加快。
评价：世界经济向体系化、制度化、规范化方向发展，推动世界经济发展，优化资源配置；对发展中国家和世界环境带来巨大挑战。
- ②举措：发展中国家进行改革，适应市场经济的要求和全球化的趋势；加强团结合作，组成或加入相关经济集团；努力建立国际经济新秩序。



38. (32 分)

- (1) 1995 年~2010 年, 中国劳动年龄人口大幅度增加, 且在一段时期内, 农村剩余劳动力供给充足, 非农产业用较少工资也能吸纳大量农村剩余劳动力进入城镇, 企业用工成本低, 对经济增长有促进作用。

2010 年之后, 中国劳动年龄人口数量下降, 劳动力供给下降, 企业用工成本上升, 对经济增长有减速作用。

- (2) 本题可选择“能”、“不能”或“区分条件”等角度作答。

示例: 能。发展中国家在经济起步阶段, 由于劳动年龄人口不断从传统农业部门向较先进的非农业部门转移, 他们有劳动力数量多等比较优势, 而发达国家则有技术创新等比较优势, 双方可以通过国际分工和国际贸易来谋求共赢。

- (3) 教育回报的意义不限于家庭, 更有促进社会发展的意义。市场调节不是万能的, 政府应履行组织和发展教育的职能, 增加教育投入, 发展各级各类教育, 解决人民日益增长的美好生活需要和教育不平衡不充分的发展之间的矛盾, 尊重和保障人权, 增强国家软实力。

- (4) 可选择以下角度作答: 对不同历史发展阶段的矛盾特殊性的分析、人口数量与人口质量的对立统一关系、创新对社会发展的作用、实践与认识的关系等。

等级水平	等 级 描 述
水平 4	观点鲜明, 能辩证分析问题, 显示出质疑批判精神; 紧扣问题, 就某点深入分析, 或全面展开论证; 知识运用恰当、准确; 逻辑严密, 条理清晰
水平 3	观点比较明确, 能表达自己的见解; 能扣住问题展开论述, 或能就某点分析; 知识运用比较恰当、准确; 逻辑性较强, 有条理
水平 2	观点不明确; 论述不能集中指向问题, 罗列知识; 知识运用不正确; 表述缺乏逻辑, 条理性差
水平 1	应答与试题无关; 或重复试题内容; 或没有应答

39. (14 分)

- ①示例: 收集选民意见等

- ②公民、选民、公众或社会等

- ③示例: 公民版, 向人大反映情况等

- ④不符合。市场运行要有市场秩序, 良好的市场秩序依赖市场规则来维护, 企业必须遵循法律法规、行业规范和市场道德规范等形式的市场规则, 诚实守信, 不能过度采集数据信息, 侵害数据信息所有人的隐私权。

- ⑤示例: 加强党对国家信息安全工作的领导, 协调社会各方力量。人大制定保护个人信息的专门法律, 并监督法律实施。政府部门依法打击违法犯罪活动, 履行市场监管职能等。



40. (18 分)

- (1) 事件：洋务运动；清末新政。
特点：采用工业革命的成果；开矿—冶铁—运输一体；煤钢联营；维护经济主权；包括官办和“官督商办”。
- (2) 环境问题：毁坏地表景观，水土流失，造成“三废”污染，铁矿资源枯竭；
治理措施：恢复植被。

41. (24 分)

- (1) 走向：东南-西北向；
影响：促进北冰洋沿岸港口建设；扩大对外贸易额；促进文化交流；加大环境压力等。
- (2) 出版业：发明机械印刷；书籍得以大量印刷。
文化传播：读者范围扩大；打破教会对文化的垄断，普及文化；传播先进思想。
- (3) 可选择以下角度作答：中华文化海外传播、中华优秀传统文化传承、文化自觉和文化自信、创新、文化交流（公共外交）、文化多样性、文化的国际影响力等。

等级水平	等 级 描 述
水平 4	观点鲜明，能明确表达自己的见解；紧扣问题，就某点深入分析，或全面展开论证；知识运用恰当、准确；逻辑严密，条理清晰
水平 3	观点比较明确，能表达自己的见解；能扣住问题展开论述，或能就某点分析；知识运用比较恰当、准确；逻辑性较强，有条理
水平 2	观点不明确；论述不能集中指向问题，罗列知识；知识运用不正确；表述缺乏逻辑，条理性差
水平 1	应答与试题无关；或重复试题内容；或没有应答

