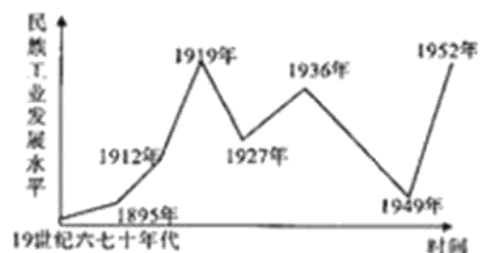


# 江宁区 2017 届初三历史一模试卷

## 一、单项选择题（每题只有一个正确答案，共 25 分）

1. 如今在云南省境内一些少数民族居住地还存有一些干栏式建筑，相似建筑最早曾发现于
- A. 元谋人遗址                      B. 北京人遗址  
C. 半坡遗址                         D. 河姆渡遗址
2. 今天山东文化传媒栏目多以“齐鲁××”名，而河北各栏目则以“燕赵××”定名，这源于西周实行的
- A. 禅让制                      B. 分封制                      C. 郡县制                      D. 行省制
3. 与“魏晋南北朝”、“南方安定”、“北人南迁”、“奠定基础”等关键词相近的历史事件是
- A. 赤壁之战                      B. 西晋短暂统一                      C. 江南地区的开发                      D. 孝文帝改革
4. 元朝是我国第一个统一全国的少数民族政权，下列事件发生在元朝的是
- ①成吉思汗统一蒙古 ②灭亡南宋 ③建立宣政院 ④设立锦衣卫 ⑤建立行省制度
- A. ①②④                      B. ①②③⑤                      C. ②③⑤                      D. ①②③④
5. 清朝翰林院徐骏因其诗集里有“清风不识字，何事乱翻书”等诗句而丢官丧命，这反映了清朝统治者
- A. 大兴文字狱                      B. 焚书坑儒  
C. 允许言论自由                      D. 罢黜百家，独尊儒术
6. 右图漫画反映的是中国近代史上遭受多国侵略的一场战争，这场战争是
- A. 鸦片战争                      B. 第二次鸦片战争  
C. 甲午中日战争                      D. 八国联军侵华战争
7. 1919 年在北洋军阀政府教育部主事的条陈中写道：“此次罢学风潮，近因由政治问题发生”。下列说法不能反映条陈中说的“罢学风潮”事件的是
- A. 最初爆发地点是北京                      B. 提出了“外争主权、内除国贼”的主张  
C. 初期运动的主力是学生                      D. 后期运动中心转移到了武汉
8. 2017 年 1 月教育部基础司发函要求全国中小学地方课程教材中全面落实“十四年抗战”概念，这里“十四年抗战”开始的标志性事件是
- A. 九一八事变                      B. 西安事变                      C. 卢沟桥事变                      D. 平型关大捷
9. 右图反映了我国近代民族工业发展的曲折历程，其中在 1919 年民族工业出现高峰的最主要原因是
- A. “实业救国”思想的鼓舞  
B. 帝国主义暂时放松对中国的经济侵略  
C. 中国民族工业实力雄厚  
D. 中华民国南京临时政府鼓励工商业发展
10. 习近平总书记指出：经历了近代以来 100 多年苦难斗争的中国人民，终于迎来中华民族浴火重生的曙光。追溯历史，中国人民摆脱屈辱，迎来“浴火重生的曙光”并成为国家的主人开始于
- A. 抗日战争的胜利                      B. 土地改革的完成  
C. 新中国的成立                      D. 三大改造的完成
11. 2017 年 4 月 1 日，中共中央、国务院决定设立国家级新区——中国河北雄安新区，一座现代化的新兴城市即将崛起。回顾中国改革开放的伟大历程，曾被外国人称为“一夜崛起之城”的是
- A. 上海                      B. 深圳                      C. 广州                      D. 厦门



12. 林郑月娥于 2017 年 3 月 26 日正式当选香港特别行政区第五任行政长官人选，经国务院批准将于今年 7 月 1 日香港回归 20 周年之际宣誓就职。香港回归祖国
- ①结束了英国在香港的殖民统治                      ②使中国人民洗雪了百年国耻  
③是“一国两制”构想的伟大实践                      ④标志着祖国统一大业的完成
- A. ①②③                      B. ②③④                      C. ①②④ D. ①③④

13. 周恩来总理曾在一次外交活动中说过：“中国代表是来求团结的，而不是来吵架的。我们是来求同的，而不是来立异的。”说这段话的时间是在
- A. 1953 年接见印度代表团时                      B. 1955 年出席万隆会议时  
C. 1971 年出席联合国大会时                      D. 1972 年会见尼克松时

14. 据法新社报道，多年政局混乱带来的影响正在慢慢消退，埃及旅游业在今年迎来了春天。在埃及旅游，最吸引游客去的古代遗迹是



A



B



C



D

15. 右边图表是某同学在历史学习时做的归纳，其中学习的主题可能是
- A. 大河流域是人类文明的摇篮  
B. 西方文明之源  
C. 亚洲的封建国家  
D. 中古欧洲社会

8 世纪前期	查理马特改革
8 世纪中期	丕平献土
10 世纪	西欧城市重新兴起
13 世纪	基督教会神权凌驾一切

16. 以下对世界古代文化的叙述，正确的是
- A. 佛教的创立者是乔达摩·悉达多    B. 伊斯兰教的经典是《圣经》  
C. 《俄底浦斯王》的作者是盲诗人荷马    D. 阿拉伯人创造发明了阿拉伯数字符号
17. “第一条，…立法权，全属合众国的国会；第二条，…行政权力赋予美利坚合众国总统；第三条，…司法权属于一个最高法院以及由国会随时下令设立的低级法院…”。这则材料应该选自
- A. 《独立宣言》    B. 《人权宣言》    C. 《解放黑人奴隶宣言》    D. 美国 1787 年宪法

18. 下列事件不是发生在法国大革命期间的是
- A. 颁布《人权宣言》                      B. 建立法兰西第一帝国  
C. 建立了法兰西第一共和国                      D. 雅各宾派上台

19. 搜集和整理资料、制作知识卡片是学习历史的一种重要方法。以下是某同学整理的《明治维新》资料卡片，卡片中表述错误的一项是

**明治维新**

时间：19 世纪 60-70 年代

人物：明治天皇

性质：资产阶级性质革命

内容：废藩置县、引进西方先进技术、文明开化

- A. 时间                      B. 人物                      C. 性质                      D. 内容

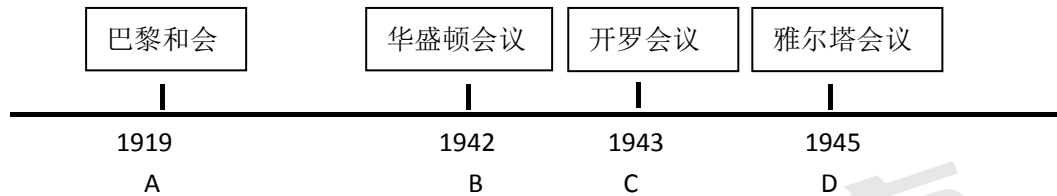
20. 到 1925 年，苏联国民经济已基本恢复到战前水平，人民群众的物质文化生活也有了初步好转。这主要得益于

- A. 十月革命的胜利 B. 新经济政策的实施  
C. 战时共产主义政策的执行 D. 集体农庄的建立

21. 罗斯福新政时期，先后整顿银行、缩减耕地、调整工业、大力兴建公共工程，这些措施体现了“新政”的突出特点是

- A. 实行自由经济政策 B. 国家干预经济 C. 实现社会主义 D. 建立法西斯专政

22. 设计知识简图也是学习历史的好方法。下图反映的是世界史上的一些重要会议。决定成立联合国的会议是



23. 二战后，非洲大陆的民族解放运动如火如荼，标志着帝国主义在非洲的殖民体系最终崩溃的事件是

- A. 印度独立 B. 埃及独立 C. 纳米比亚独立 D. 古巴独立

24. “一国经济运行的效率无论多高，总要受本国资源和市场的限制，只有全球资源和市场一体化，才能使一国经济在目前条件下最大限度地摆脱资源和市场的束缚。”这句话反映当今世界

- A. 政治多极化 B. 文化多元化 C. 经济全球化 D. 区域集团化

25. 现在朋友间请吃饭，很多人选择在美团网上预定团购套餐，既省时又省钱，这主要得益于第三次科技革命的发明成果。第三次科技革命的核心是

- A. 电子计算机的广泛使用 B. 原子能的广泛使用  
C. 生物工程的重大突破 D. 航天技术的重大突破

## 二、非选择题（共3题。第26题10分，第27题12分，第28题13分，共35分）

26. 习近平总书记提出，“要择天下英才而用之”，中国历史上各朝代都有重视人才的传统。阅读材料，回答相关问题。（10分）

秦始皇命丞相李斯等人用③书写了标准的文字范本，从而统一了文字。西汉武帝时，接受④的建议，解决了王国威胁中央的问题。

北宋时期，政治家、史学家司马光主持编纂的《⑦》是一部编年体的通史巨著。

明朝前期，为加强同海外各国的联系，⑧派遣郑和七下西洋。清朝前期，土尔扈特部在首领⑨的领导下回归祖国，为多民族国家的巩固和发展谱写了光辉的篇章。

春秋战国

秦汉

隋唐

宋元

明清

春秋时期，齐桓公任用①为相，积极改革内政，发展生产，成为春秋时期第一个霸主。战国时期，秦孝公支持商鞅实行变法，变法措施中对后世影响最深远的是②。


隋唐时期，主要通过⑤制度培养和选拔人才，其中唐朝完善该制度的关键人物有唐太宗、武则天、⑥。

纵观历朝历代对人才的重视，你对人才的选拔标准有何认识⑩？


27. 民主政治建设是一个国家实现现代化（近代化）的重要内容。近代以来，中国人民为实现民主政治作出了不懈的努力和探索。阅读材料，回答下列问题。（12分）

### 【学习西方，举步维艰】

材料一：



图一



图二

（1）材料一中图一两位人物领导的哪一场运动揭开了中国近代政治民主化的序幕？图二人物一生致力于民主革命，他追求民主政治的指导思想是什么？这两次追求民主政治的运动在学习内容上有何相似之处？（3分）

### 【寻求合作，不断探索】

材料二：…军校的创办，是国共合作的产物，它为国共两党培养了许多军事将领和军事骨干，为东征、北伐战争和抗日战争的胜利做出重要贡献……

——姜廷玉（军事博物馆研究员）

材料三：谈判的结果，国民党承认了和平团结的方针。……国民党再发动内战，他们就在全国和全世界面前输了理，我们就更有理由采取自卫战争，粉碎他们的进攻。

——毛泽东《关于重庆谈判》

（2）材料二中“国共合作”的标志是什么？材料三中“和平团结的方针”指的是谈判后签订的哪一文件？“国民党再发动内战”失败的标志是什么？（3分）

### 【初步建立，曲折前进】

材料四：中华人民共和国是工人阶级领导的、以工农联盟为基础的人民民主国家……中华人民共和国的一切权力属于人民。

——1954年《中华人民共和国宪法》

材料五：“把刘少奇永远开除出党，撤销其党内外的一切职务，并继续清算刘少奇及其同伙叛党叛国的罪行。”

——中共八届十二中全会公报

（3）材料四的文件是新中国成立后我国民主政治建设的重要成果，该文件的性质是什么？材料五中的事件发生在什么时期？该事件表明当时民主法制建设的现状如何？（3分）

### 【不断健全，日臻完善】

材料六：基本形成了以宪法为核心的中国特色的社会主义法律体系，初步实现了在政治生活、经济生活和社会文化生活等方面有法可依的局面……我国逐渐向依法治国的道路迈进。

——《中国历史》八年级上册

(4) 我国社会主义民主政治建设的新时期开始于哪一事件？该时期比较完善的宪法是哪一部？（2分）

(5) 纵观历史发展的进程，结合上述材料和所学，你认为我国近现代民主政治建设发展的趋势是什么？（1分）

28. 英国脱欧公投吸引了全世界的关注，让英国再次成为世界关注的焦点。阅读下列材料，回答问题。（13分）

阶段	阅读材料	探究问题
思想解放	材料一：“人是一件多么了不起的杰作！多么高贵的理性！多么伟大的力量！……宇宙的精华！万物的灵长！” ——莎士比亚《哈姆雷特》	(1) 材料一中莎士比亚是哪一运动的代表人物？他的戏剧《哈姆雷特》集中体现了什么精神？（2分）
制度引领	材料二：英国用光荣革命的非暴力手段，建立了一种新的政治制度……制度营造出一种宽松，自由和开放的环境。 ——钱乘旦《世界现代化历程》	(2) 材料二“光荣革命”的发动者主要是哪些人？此后英国建立的“新的政治制度”指的是什么制度？（3分）
经济辉煌	材料三：18世纪中期到19世纪中期……引起了欧洲生产的革命……英国引领了这一历史发展的潮流，取得了技冠群雄、傲视全球的辉煌成果。 ——中国经济网	(3) 材料三中“生产的革命”开始的标志是什么？为英国“技冠群雄”提供动力的机器是什么？英国在资本原始积累上“傲视全球”的主要途径是什么？（3分）
沉沦哀伤	材料四：1870年代以后，英国在经济总量上先后被美国和德国超越，20世纪的两次世界大战更严重削弱了英国国力，使其由世界的领导者变成了美国的小兄弟。 ——2016年07月02日《华夏时报》	(4) 材料四中英国被美国和德国超越源于哪一事件？列举一例20世纪40年代英国变成“美国的小兄弟”的具体表现。（2分）
合作共进	材料五：“考虑到结束欧洲大陆分裂的历史重要性……决心实现他们经济的强大和同步发展并依据本条约的规定建立一个包含一种单一及稳定的货币的经济和货币联盟。” ——1992年《马斯特里赫特条约》	(5) 英国签署《马斯特里赫特条约》后意味着英国正式成为了哪一组织的成员？加入该组织对英国最积极的影响是什么？（2分）
路在何方	材料六：2017年3月16日，英国女王伊丽莎白二世批准“脱欧”法案，授权英国首相特雷莎·梅正式启动脱欧程序。 ——网易新闻	(6) 纵观英国发展历程，结合材料和所学，你认为脱欧后的英国更应该在哪些方面寻求出路发展自己？（1分）

# 江宁区 2017 届初三历史一模试卷

## 参考答案及评分标准

### 一、单项选择题（25 分）

题号	1	2	3	4	5	6	7	8	9
答案	D	B	C	C	A	D	D	A	B
题号	10	11	12	13	14	15	16	17	18
答案	C	B	A	B	C	D	A	D	B
题号	19	20	21	22	23	24	25		
答案	C	B	B	D	C	C	A		

### 二、非选择题（35 分）

26.（10 分）

①管仲②建立县制③小篆④主父偃⑤科举⑥唐玄宗（李隆基）⑦资治通鉴⑧明成祖（朱棣）  
⑨渥巴锡⑩德才兼备、心系国家、民族利益等，言之有理即可。（10 分）

27.（12 分）

（1）戊戌变法或百日维新；三民主义（或民族、民权、民生）；学习西方的政治制度（3 分）

（2）国民党一大的召开；《双十协定》（国共双方代表《会谈纪要》）；南京解放（3 分）

（3）是我国第一部社会主义类型的宪法；文化大革命；民主法制建设遭到严重破坏（践踏）（3 分）

（4）十一届三中全会的召开；1982 年《中华人民共和国宪法》（第四部《中华人民共和国宪法》）（2 分）

（5）依法治国；加强民主、健全法制等（符合题意，言之有理即可）（1 分）

28.（13 分）

（1）文艺复兴；人文主义（2 分）

（2）资产阶级和新贵族；资本主义制度或者君主立宪制（3 分）

（3）珍妮机的发明；蒸汽机；殖民扩张（殖民掠夺、侵略）（3 分）

（4）第二次工业革命（科技革命）；追随美国在欧洲实行冷战（丘吉尔发表铁幕演说，成为冷战的信号）或接受美国援助欧洲的马歇尔计划或加入北大西洋公约组织等。（2 分）

（5）欧洲联盟（欧盟）；有利于经济的发展（促进、推动经济的发展）（2 分）

（6）解放思想；实行改革；发展科技；重视教育；远离战争；加强合作等（言之有理即可）（1 分）