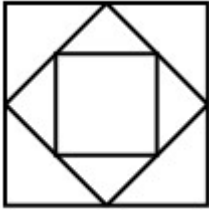




3.


七巧板中有 () 三角形。

4.

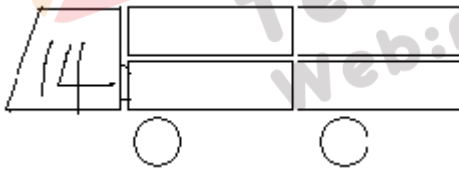


图中一共有 () 个正方形。

四、在方格纸上画一个正方形和一个平行四边形。(10分)



五、在 里填上算式，使得数和车头上的数相同，并填表。(6分)



<input type="text"/>	() 个
○	() 个
△	() 个

六、选一选 (4分)

把一张平行四边形纸对折可能得到下面哪个图形? ()

- ① ② ③

七、沿着虚线剪开，能剪出下面的图形各几个? 填入表中。(8分)

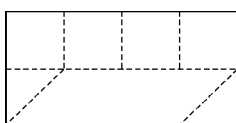


图 形	一 共	正 方 形	三 角 形	平 行 四 边 形
个 数				

八、动手动脑。(5分)

用学过的图形设计一幅图。

苏教版一年级数学下册第三单元试卷

班级_____姓名_____成绩_____

一、填空题（29分）

- (1) 80 里面有 () 个十。 100 个一是 ()。
- (2) 3 个一和 8 个十组成的数是 ()。
- (3) 10 个十组成的数是 ()。
- (4) 56 的十位上的数是 ()，表示 () 个 ()；个位上的数字是 ()，表示 () 个 ()。
- (5) 一个数个位是 7，十位是 4，这个数是 ()。
- (6) 100 里面有 () 个十。
- (7) 67 的前面一个数是 ()，后面一个数是 ()。
- (8) 计数器从右边起，第一位是 () 位，第二位是 () 位，第三位是 () 位。
- (9) 98 里面有 () 个一和 () 个十。
- (10) 在 45、54、67、89、21 和 100 中，单数有 ()、()、()、()，双数有 ()、()。按照从大到小的顺序把下面各数排列起来。
() > () > () > () > () > ()

二、看谁算得又对又快（21分）

$80-30=$	$8+70=$	$90-60=$	$8+20=$	$9+90=$	$45-10=$	$14-9+30=$
$30+4=$	$49-9=$	$75-5=$	$40+7=$	$8+40=$	$26-6=$	$87-7-50=$
$40+50=$	$58-8=$	$47-40=$	$20+80=$	$20+5=$	$40+60=$	$45-40+8=$

三、在○里填上 “>” “<” “=”（12分）

$100 \bigcirc 99+1$	$45-5 \bigcirc 46-6$	$70+6 \bigcirc 7+60$	$32-2 \bigcirc 32+2$
$80-40 \bigcirc 86-40$	$90-50 \bigcirc 6+50$	$30+20 \bigcirc 40+10$	$87+10 \bigcirc 78+10$

四、按规律填出 () 里的数。（6分）

- (1)、5、10、15、20、()、()、()。
- (2)、2、4、6、8、()、()。
- (3) 100、90、80、()、()。

五、解决实际问题。(32分)

1、兔妈妈采了46个蘑菇



(1) 兔哥哥可能采了多少个蘑菇？(画√)

42	38	21

(2) 兔妹妹可能采了多少个蘑菇？(画√)

50	70	92

2、一共要搬56张椅子，已经搬了50张，还要搬多少张？

$$\square \bigcirc \square = \square$$

3、二(1)班男生有30人，女生有20人。二(1)班一共有多少人？

$$\square \bigcirc \square = \square$$

4、二(1)有50人，其中女生有20人。二(1)班男生有多少人？

$$\square \bigcirc \square = \square$$

5、老猫和小猫一共钓了24条鱼。老猫钓了20条，小猫钓了多少条？

$$\square \bigcirc \square = \square$$

6、

	篮球	跳绳	毽子
原有	35个	43根	14个
借走	30个	3根	6个
还剩	()个	()根	()个





苏教版一年级数学（下册）第四单元试卷（A）

班级 _____ 姓名 _____ 得分 _____

一、填空题。（第5题4分，其余每空1分，共23分）

- 54比20多(),()比59少6。
- 有两张数字卡片6和2,用这两张卡片组成的最大的两位数是(),组成的最小的两位数是()。
- $\bigcirc + \bigcirc + 7 = 47$, \bigcirc 表示()。

4.

				
原有	73只	()个	90辆	()只
卖出	50只	22个	()辆	81只
还剩	()只	60个	50辆	7只

- 估一估下面的得数各是几十多,在你认为对的答案下面画线。
 $65 + 30$ (八十多 九十多) $66 - 40$ (六十多 二十多)
 $60 + 34$ (三十多 九十多) $4 + 24$ (二十多 六十多)

- 在 \bigcirc 里填上“>”“<”或“=”。

$96 - 50 \bigcirc 96 - 5$ $5 + 30 \bigcirc 30 + 5$

$78 - 40 \bigcirc 87 - 40$ $24 + 30 \bigcirc 24 - 3$

$2 + 47 \bigcirc 47 - 2$ $52 + 30 \bigcirc 25 + 30$

- 



苹果有()个,梨有()个。苹果比梨多()个,梨比苹果少

()个。