

2.  $45+29=$

3.  $71-43=$

$60-24=$

4.  $6+38=$

$18+42=$

四、文字叙述题(1-2 每题 3 分, 3-4 每题 4 分, 共 14 分)

1. 84 与 37 相差多少?

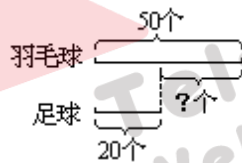
2. 一个加数是 26, 另一个加数是 58, 和是多少?

3. 甲数是 26, 乙数比甲数多 9, 乙数是多少?

4. 甲数是 43, 乙数比甲数少 25, 乙数是多少?

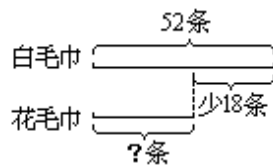
五、应用题(1-4 每题 3 分, 5-7 每题 6 分, 第 8 小题 10 分, 共 40 分)

1. 看图列式计算.



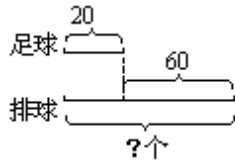
$\square \circ \square = \square$  (个)

2. 看图列式计算.



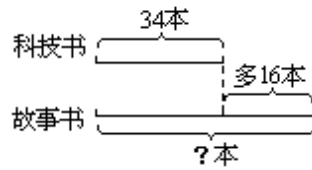
$\square \circ \square = \square$  (条)

3. 看图列式计算.



$$\square \bigcirc \square = \square (\text{个})$$

4. 看图列式计算.



$$\square \bigcirc \square = \square (\text{本})$$

5. 一双球鞋 21 元，一双布鞋比一双球鞋便宜 13 元，一双布鞋的价格是多少

元?

口答：一双布鞋的价格是\_\_\_\_\_元.

6. 弟弟比妹妹重 4 千克，妹妹体重 28 千克，弟弟体重是多少千克?

口答：弟弟重\_\_\_\_\_千克.

7. 庆祝新年学校买了 35 个红气球，30 个黄气球，黄气球再买几个就和红

气球同样多?

口答：黄气球再买\_\_\_\_\_个就和红气球同样多.

8. 商店里有各种玩具车，其中摩托车有 50 辆，汽车比摩托车多 20 辆，火车比摩托车少 30 辆.

(1)汽车有多少辆?

(2)火车有多少辆?

## 苏教版一年级数学(下册)第六单元自我检测 D

姓名\_\_\_\_\_ 得分\_\_\_\_\_

### 一、填空。(25分)

1. 从 42 里连续减去 8, 每次减得的差分别是( )、( )、( )、( )、( )。
2. 两个数分别是 36 和 28, 它们的和是( ), 它们的差是( )。
3. 被减数是 75, 减数是 57, 差是( )。
4. 46 比 57 少( ); 38 比( )多 17;  
( )比 29 多 48; ( )比( )少 22。
5. 买一个足球需 58 元, 小明带了 50 元, 还少( )元。
6. 在○里填上“>”、“<”或“=”。

$29+37 \bigcirc 67$

$89 \bigcirc 34+54$

$72-18 \bigcirc 72-20$

$62-26 \bigcirc 36$

$44 \bigcirc 26+17$

$89-36 \bigcirc 86-39$

7. 将下列算式按得数从大到小的顺序排列起来。

$42+19$

$87-15$

$23+37$

$43+25$

$79-28$

\_\_\_\_\_ > \_\_\_\_\_ > \_\_\_\_\_ > \_\_\_\_\_

### 二、各写出四道算式, 使等号两边的得数相等。(8分)

$84 = \begin{cases} \square + \square \\ \square + \square \\ \square - \square \\ \square - \square \end{cases}$

$63 - 27 = \begin{cases} \square + \square \\ \square + \square \\ \square - \square \\ \square - \square \end{cases}$

### 三、计算。(28分)

#### 1. 口算。(20分)

$92-7=$

$34+4=$

$34+40=$

$63+7=$

$62-8=$

$8+43=$

$37+30=$

$63-60=$

$33-9=$

$44+40=$

$59+4=$

$59+40=$

$79+6=$

$29+60=$

$33+21=$

$86-15=$

$90 - 30 + 8 =$

$41 - 7 + 30 =$

$28 + 10 - 5 =$

$31 + 12 - 13 =$

2. 列竖式计算。(8分)

$$\begin{array}{r} 79 \\ + 12 \\ \hline \end{array}$$

$$\begin{array}{r} 84 \\ - 28 \\ \hline \end{array}$$

$$\begin{array}{r} 73 \\ + 19 \\ \hline \end{array}$$

$$\begin{array}{r} 38 \\ - 29 \\ \hline \end{array}$$

四、按要求把算式写在指定的方框中。(8分)

$78 - 29$

$43 + 27$

$76 - 45$

$84 - 65$

$27 + 24$

$48 - 19$

$67 - 38$

$54 - 23$

$96 - 45$

$71 - 23$

得数大于 50 的

得数小于 30 的

五、在□里填上合适的数。(8分)

$73 - \square < 38 + 23$

$27 + \square = 85$

$\square - 29 > 43 + 18$

$\square - 23 = 58$

六、解决问题。(23分)

1. 下表是小军统计出的班里同学喜欢看哪种书的情况。

童话书	连环画	科普书
21人	13人	17人

(1) 这个班一共有多少人?

(2) 喜欢看科普书的人数比喜欢看童话书的人数少几人?