

2. 一辆大客车上共有 45 个座位,已经坐了 27 人,还有多少个座位空着?

3. 水果店里有 52 筐橘子,卖掉一些后还有 14 筐,卖掉了多少筐?

4. 同学们栽了 38 棵松树,栽了 52 棵杨树。

(1)再栽多少棵松树就和杨树一样多?

(2)同学们一共栽了多少棵树?

5. 选择合适的条件把应用题补充完整,再解答。



有 39 只

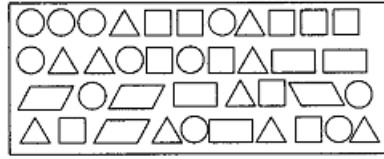


有 72 只

(1)山羊有 58 只, _____, 绵羊比山羊少多少只?

(2)山羊有 58 只, _____, 绵羊比山羊多多少只?

一、数一数。(共 20 分)



1. 用你自己喜欢的方法数上面的图形。

○	
△	
□	
▭	
▭	

2. 你能把整理的结果填在下面的表格里吗?

图 形	圆	三角形	正方形	长方形	平行四边形	一共
个 数						

3. (1) ○有()个, △有()个, ▭有()个。

(2) ○比△多()个, △比▭多()个。

(3) 你从表中还知道了什么?

二、填一填。(共 24 分)




一班花卉种植统计表

		
24 棵	18 棵	27 棵





























二班花卉种植统计表




		
26 棵	18 棵	29 棵







根据以上两个统计表把下表填写完整。

				一共
一班				
二班				
一共				

三、你能统计出下面每种水果的个数吗？(共 18 分)

水果				合计
个数				

-  比  多几个？ $\square \bigcirc \square = \square$ (个)
-  比  少几个？ $\square \bigcirc \square = \square$ (个)
-  和  一共有多少个？ $\square \bigcirc \square = \square$ (个)

四、下面是某市 2011 年五月份的天气情况，请将统计表填完整，并回答问题。(共 18 分)

天气	晴天	阴天	雨天	一共
天数	18	6		31

- 五月份一共有多少天没有下雨？
- 五月份哪种天气的天数最少？哪种天气的天数最多？
- 阴天比晴天少多少天，晴天比雨天多多少天？

五、下表是一(1)班每名同学各人最喜爱的一种球类活动,结果如下。

(共 20 分)

乒乓球:⊙

羽毛球:🏸

足球:⚽

学号	爱好	学号	爱好	学号	爱好	学号	爱好	学号	爱好
1	⊙	8	⚽	15	🏸	22	⊙	29	⊙
2	⊙	9	⊙	16	⊙	23	⊙	30	⚽
3	🏸	10	⊙	17	⚽	24	🏸	31	⊙
4	⚽	11	⚽	18	⊙	25	⊙	32	🏸
5	⊙	12	🏸	19	⚽	26	⚽	33	⊙
6	⚽	13	⊙	20	⊙	27	⊙	34	⚽
7	⊙	14	⊙	21	⊙	28	🏸	35	⚽

1. 从表中不容易看出同学们喜爱球类活动的情况,请用你最喜欢的方法将上面的数据分类、整理。

⊙	
🏸	
⚽	

2. 将统计的结果填到下表里。

球类	乒乓球	羽毛球	足球	一共
人数				

3. 回答下列问题。

(1)每种球类各有多少人参加?

(2)你估计班级组织什么球类比赛最受欢迎?

(3)你还想到些什么?