



海淀区高三年级第二学期期末练习

文科综合能力测试

2018.5

第一部分(选择题,共140分)

本部分共 35 小题,每小题 4 分,共 140 分。在每小题列出的四个选项中,选出最符合题目要求的一项。

2018 年寒假,北京的康同学到东非攀登乞力马扎罗山,从山脚下的 Moshi 镇出发,一周后,于当地时间 2 月 15 日 8:00 成功登顶,当日正值中国春节除夕。图 1 为东非地区图,图 2 为康同学在登山过程中手绘的乞力马扎罗山植被分布示意图。

读图,回答第 1~3 题。

1. 康同学攀登乞力马扎罗山期间

- A. 恰逢中国农历惊蛰节气前后
- B. 登顶时刻恰好看到日出东南地平线
- C. 当地正午太阳高度逐渐变大
- D. 登顶时刻北京的家人开始收看春晚

2. 图 2 信息显示

- A. 登山线路所在坡向的基带为热带雨林带
- B. M 区域的自然植被类型可能是常绿阔叶林
- C. 从山麓到山顶,热量和水分条件逐渐变差
- D. 海拔越低,人类对植被开发利用强度越大

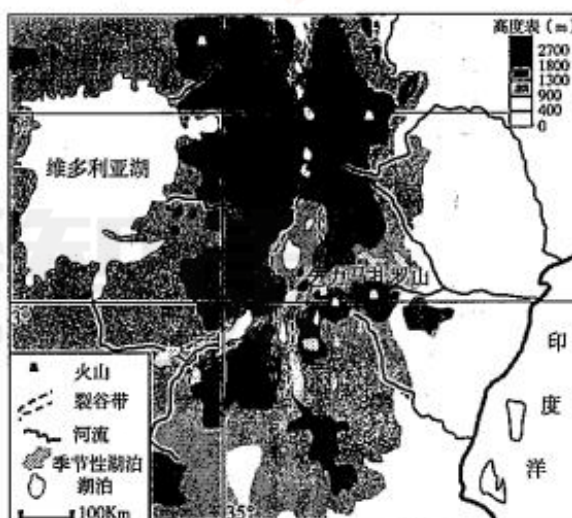


图 1




图 2



3. 图1所示地区

- A. 裂谷带位于印度洋板块和非洲板块消亡边界
- B. 山地多为断块山, 山顶岩石主要受风力作用
- C. 季节性湖泊水位的变化主要受山地融雪影响
- D. 受地形起伏的影响, 河流水系形态呈放射状

读表1和图3, 回答第4、5题。

表1 我国某地连续三日天气状况

日期	天气现象	最高气温/最低气温	风
5月4日		27℃/14℃	F
5月5日		21℃/11℃	F
5月6日		29℃/12℃	F

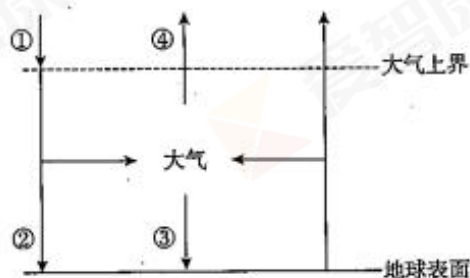


图3 大气受热过程示意图

4. 表1中信息显示

- A. 5月4日气温高, 对流强烈, 阴雨
- B. 5月5日西北风强劲, 空气质量好
- C. 5月6日昼夜温差大, 需预防寒潮
- D. 该地天气变化可能为冷锋过境造成

5. 5月6日与5月5日相比, 图3中

- A. ①减弱
- B. ②减弱
- C. ③增强
- D. ④减弱

茶树原产长江以南山区。1959年我国在青岛市崂山区进行“南茶北引”移植试验, 经多地试验失败后, 终于在素有“小江南”之称的太清宫景区引种成功。由于自然条件优越, 加上全部采用人工采摘, 崂山茶品质极佳、声名远扬。图4为青岛市崂山区太清宫附近等高线(米)分布图。读图, 回答第6、7题。

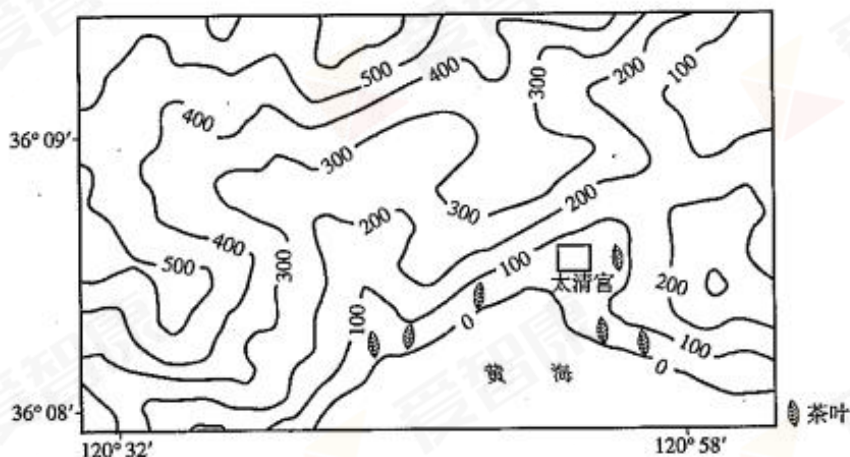


图4



6. 太清宫景区引种茶叶取得成功的主要自然原因是
- 位于夏季风迎风坡, 降水丰沛, 水分条件好
 - 位于沿海地区低山丘陵区的阴坡, 光照较弱
 - 受地形阻挡, 冷空气影响弱, 热量条件较好
 - 位于山前坡地, 地势平坦, 利于大规模种植
7. 近年来, 崂山茶叶生产成本不断攀升的主要原因是
- 人力成本上升
 - 种植面积增大
 - 运输成本提高
 - 市场需求扩大

《北京城市总体规划(2016年-2035年)》对北京城市的发展进行了定位。读图5, 回答第8、9题。

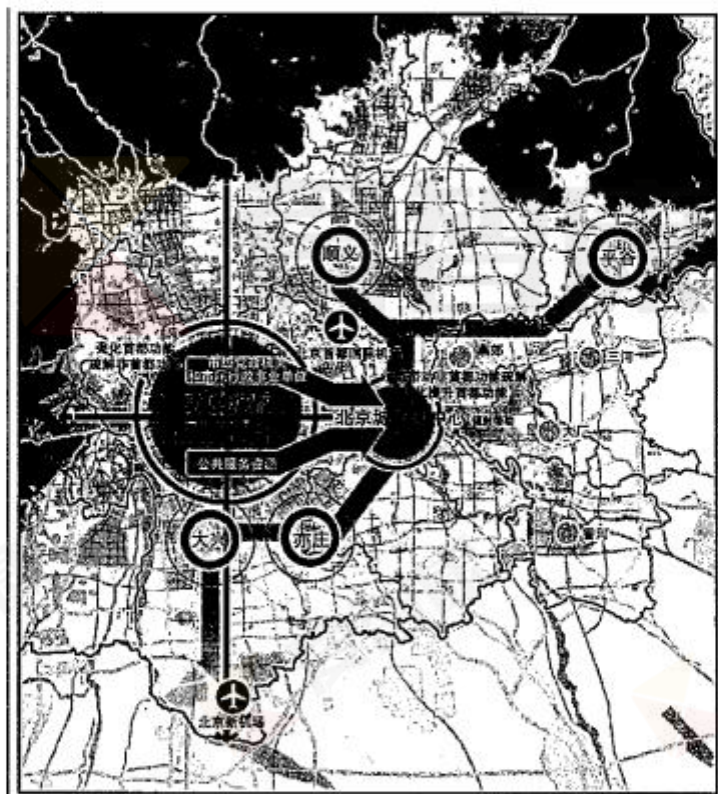


图5

8. 北京城市总体规划限制了中心城区的
- 服务种类
 - 服务等级
 - 服务范围
 - 服务质量
9. 北京建立城市副中心的主要目的是
- 加快北京市逆城市化进程
 - 降低北京市城市人口比重
 - 减轻中心城区的人口压力
 - 提高东部城镇的土地价格



读图 6 某地貌剖面示意图, 回答第 10、11 题。

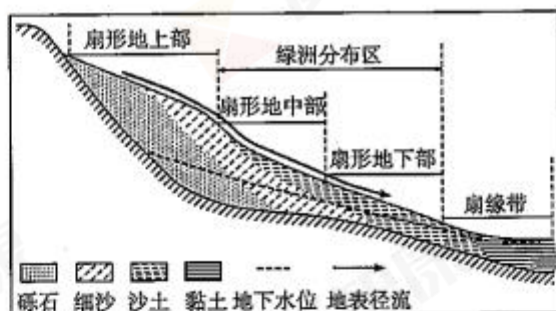


图 6

10. 由图可知
 - A. 该地貌属于流水侵蚀地貌
 - B. 由扇形地上部到扇缘带, 沉积物颗粒逐渐变大
 - C. 扇形地中下部土壤较肥沃, 排水条件良好, 适合农耕
 - D. 扇缘带地下水埋藏深
11. 该地貌最可能形成于
 - A. 河流入海口
 - B. 山间河谷出口
 - C. 大江大河中下游
 - D. 盆地中心
12. 《左传》载, 楚昭王病, 卜官认为是河神作祟, 大臣建议祭祀, 昭王拒绝。孔子对此赞曰: “楚昭王知大道矣。其不失国也, 宜哉!” 孔子下列言论与他这一评价一致的是
 - A. “获罪于天, 不可祷也”
 - B. “礼有五经, 莫重于祭”
 - C. “非先王之德行不敢行”
 - D. “不语怪、力、乱、神”
13. 北朝杨街之《洛阳伽蓝记》记载了洛阳寺庙的盛况。其中写道: “光宅嵩洛 (迁都洛阳), 笃信弥繁, 法教愈盛。王侯贵臣, 弃象马 (捐财产) 如脱屣, 庶士豪家, 舍资财若遗迹。” 材料中现象出现的原因是
 - A. 孝文帝移风易俗的改革
 - B. 官吏搜刮百姓贪污成风
 - C. 儒家已丧失其正统地位
 - D. 佛教在各阶层广泛传播
14. 《唐律疏议》规定: 均田制下授田有定额, “老、小、寡妻受田各有等级, 非宽闲之乡不得限外更占” (注: 占有土地数量不能超过国家规定的标准), 并且只有受田不足才可以向私人买人。这表明唐代均田制
 - A. 具有抑制兼并的意图
 - B. 增加农民的赋税负担
 - C. 适应人口增长的需要
 - D. 没收地主的超额占田
15. 明朝人章潢论中国经济地区差异时说: “秦汉以前, 西北壮而东南稚也。魏晋而下, 壮者之齿益衰, 稚者之年方长。至于宋朝, 而壮者已老, 稚者已壮矣!” 造成以上经济现象的主要原因是
 - A. 北方地区经过长期开发而资源耗竭
 - B. 人口和生产技术向南方的不断迁移
 - C. 政治中心由西北地区转向东部地区
 - D. 海上丝绸之路取代了陆路丝绸之路



21. 法国思想家狄德罗、卢梭等人编写的《百科全书》于 1751 年到 1772 年共计出版 17 卷文字和 11 卷图解。该书编者的信念是人类具有可完善性, 通过不断扩充知识能够实现人类进步。该书的编撰反映了
- A. 启蒙运动理性与科学的主张
- B. 法国大革命促进文化的普及
- C. 工业革命推进印刷技术发展
- D. 世界市场对文化发展的推动

22. 1873—1879 年日本各类学校数量统计表(单位:所)

年度	小学校	中学校	师范学校	专门学校（外国教师授课）
1873 年	12597	20		26
1875 年	24303	116	82	110
1879 年	28025	784	87	108

从上表可以看出,明治政府

- ①致力于发展近代教育 ②完成义务教育普及
③重视学校教师的培养 ④重视引进外国科技
- A. ①②③ B. ②③④ C. ①③④ D. ①②④
23. 1921年3月16日，土耳其和苏俄签定了《俄土友好条约》，致力于改善双边关系。此时两国面临的共同问题是
- A. 加快国家工业化建设 B. 反对帝国主义的威胁
C. 发展传统的友好关系 D. 反对大国的霸权主义
24. 有网友将2017年热点新闻话题设计成一套字体（图8），以新颖独特又充满趣味的方式对2017年进行了年度回顾

雄安新区 香港 博尔特

中共中央、国务院决定在河北省雄县、容城、安新3县及周边区域设立雄安新区

香港回归 20 周年

赛道闪电博尔特，宣布退役，传奇从此画上句号

88

对这一表现形式理解正确的有

- ①文字与思想是推动文化发展的根本动力
②只有抓住事物的直接联系才能把握事物的本质
③可以通过字体的创新设计反映时代生活
④创新思维是设计者建立现实与作品之间联系的重要条件
- A. ①② B. ①④ C. ②③

高三年級(文科綜合能力) 第6頁(共16頁)





25. AR 技术(增强现实技术)可以赋予博物馆藏品以“活力”,人们用手机扫描 AR 卡片即可在手机屏幕中获取文物的三维模型以及声音、文字和特效等,还可以把文物“带回家”收藏或向朋友展示,具有较高的互动性和参与性。AR 技术融入文物展示
- ①推动了文化传播形式的创新
②能够超越时空局限实现文化资源的共享
③丰富了博物馆藏品的历史内涵和文化价值
④预示着 AR 技术将成为文物收藏的主要形式
- A. ①② B. ①④ C. ②③ D. ③④
26. 要帮助贫困地区改变落后面貌,既要在经济上加强扶持,也要进行文化扶贫,以提高当地人民素质,尽快摆脱贫困。下列不属于“文化扶贫”的是
- A. 根据文化资源类型和社会状况,科学编制贫困地区文化发展专项规划
B. 建设农业产业园,吸引当地农民工返乡就业,将特色农产品销往世界各地
C. 开展“报刊下乡”工程,向贫困地区赠阅报刊,丰富农村群众的业余生活
D. 开展“千名绣娘”培育工程,让非物质文化遗产带动更多当地群众致富
27. 每到岁末年初,国家主席都会对全国人民发表新年贺词,以下是网友总结的近五年新年贺词中的“金句”:
- 2014 年,“成功总是属于积极进取、不懈追求的人们”;
2015 年,“各级干部也是蛮拼的”;
2016 年,“有付出,就会有收获”;
2017 年,“大家撸起袖子加油干”;
2018 年,“幸福都是奋斗出来的”。
- 这些贺词
- A. 是建设中国特色社会主义的物质力量
B. 具有鲜明的时代特征,体现了个性寓于共性之中
C. 倡导人们在劳动和奉献中实现人生价值
D. 表明改革是发展中国特色社会主义的强大动力
28. 温馨惬意的旅馆型书店、舒适方便的餐厅型书店、科技感十足的 VR 书店……虽然近年来实体书店备受网络书店的冲击,但还是有很多实体书店因个性突出、匠心独运,契合了读者需求,成为城市的新名片。由此可以看出
- A. 建立与现代生活的新联系是实体书店发展的重要途径
B. 创意和个性是影响实体书店经营成败的唯一因素
C. 实体书店在对自身的全盘否定中焕发活力
D. 实体书店的创新发展必须依靠现代科技



29. 为引导学生正确地进行人生规划,某校开设了生涯规划课程,其课程的教育基本理念如下图

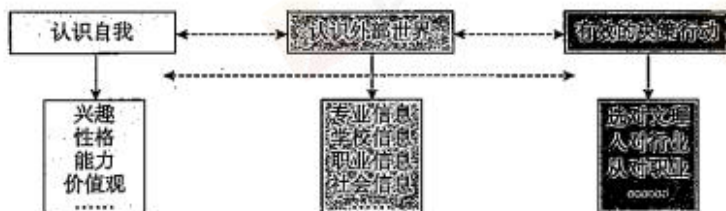


图 9

这一理念启示我们

- ①生涯规划决定着人们的实践活动
- ②生涯规划的最终目的是形成合理的短期目标
- ③制定生涯规划要处理好认识世界与决策行动的关系
- ④制定生涯规划应当充分发挥意识的主动创造性

A. ①② B. ①④ C. ②③ D. ③④

30. 在北京市政府召开的“保护历史文化名城,加快全国文化中心建设”座谈会上,有政协委员建议把北京建城以来的历史沿革编成宣传册,让更多人可以在短时间内了解北京;也有政协委员建议打造北京精品文化项目,创作出一批“叫得响、立得住、推广得出去”的文化作品。政协委员建言献策体现了

- ①政协委员积极管理国家事务
- ②政协委员履行参政议政职能
- ③政协委员对人民和政府负责
- ④我国政治制度的特点和优势

A. ①② B. ①③ C. ②④ D. ③④

31. 雪域高原好干部,带头创业致富,藏汉团结一家亲;国产大飞机翱翔蓝天,幕后有这样一位爱穿工装的锡伯族英雄……全面实现小康,一个民族都不能少。微视频《56个民族儿女寄语十九大》采访56位各民族代表,通过讲述他们的故事,展示各民族和衷共济、和睦相处、和谐发展的良好局面。这从一个侧面表明

- ①我国消除了各民族间经济发展不平衡的状况
- ②我国形成了平等团结互助和谐的社会主义民族关系
- ③民族平等是全面建成小康社会的物质保障
- ④民族精神是推动中华民族伟大复兴的强大精神动力

A. ①② B. ①③ C. ②④ D. ③④



32. 3月5日,中国邮政发行了1枚纪念邮票(图10),采用剪影的手法表现宪法宣誓仪式。新一届国家领导人在当选之后进行宪法宣誓,彰显了作为人民公仆的国家公职人员履职的责任感和使命感。我国首次举行宪法宣誓仪式



图 10

- ①说明行使公权力的国家公职人员要依法履职
- ②说明国家机关及其工作人员由全国人大产生
- ③彰显了宪法权威,有利于全面推进依法治国
- ④拓展了全国人大立法权,完善了权力机关体系

A. ①② B. ①③ C. ②④ D. ③④

33. 股票期权是上市公司给予企业高级管理人员和技术骨干的一种权利。这些人员可以在一定期限内以事先约定的价格购买公司股票,当股票价格上涨时,其将获得更多收益。对企业而言,这种激励方式

- ①创新了企业内部组织结构,能够显著降低企业生产成本
- ②将贡献和收入紧密相连,有利于调动骨干员工的积极性
- ③实现了初次分配与再分配的统一,有利于促进收入分配公平
- ④使骨干员工和企业发展紧密结合,实现利益共享、风险共担

A. ①② B. ①③ C. ②④ D. ③④

34. 个人所得税是国家对个人所得征收的一种税。提高个人所得税起征点,能够

- ①促进社会公平,改善人民生活
- ②加快形成合理有序的收入分配格局
- ③增加就业,提高社会保障水平
- ④提高劳动报酬在初次分配中的比重

A. ①② B. ①③ C. ②④ D. ③④

35. 高三某班同学以“经济运行需要政府宏观调控”为主题撰写短评,以下观点中最适合用来支持该主题的是

- A. 个人的本性都是利己的。应该允许每个人在利己的动机下按照自愿的原则从事各种经济活动,并从中获得个人利益
- B. 如果财政部把用过的瓶子塞满钞票,把它放在已开采过的矿井中,再用城市垃圾把矿井填平,然后听任私有企业根据自由放任的原则把钞票再挖出来,那失业问题就不会存在
- C. 试图完全禁止、堵塞一切私人的非国营的交换的发展……就是在干蠢事,就是自杀。说它在干蠢事,是因为这种政策在经济上行不通;说它在自杀,是因为试行这类政策的政党,必然会遭到失败
- D. 每个人都不断为他自己所能支配的资本找到最有利的用途。固然,他所考虑的不是社会的利益,而是他自身的利益,但他对自身利益的研究自然或者毋宁说必然会引导他选定最有利于社会的用途



第二部分(非选择题,共160分)

36. (36分) 阅读图文资料,回答下列问题。

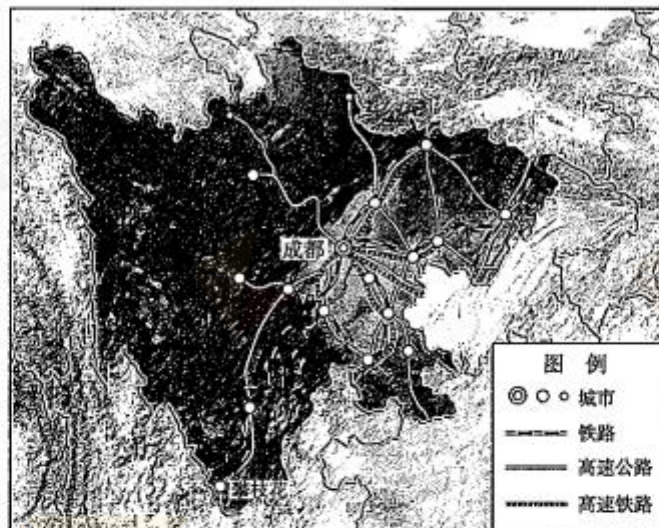


图 11

(1) 读图 11,说出与四川省西部地区相比较,东部地区交通条件的特点,并说明其成因。(10分)

日照时数是重要的气象要素之一,指太阳在一地实际照射地面的时间,以小时为单位,根据太阳每天的辐射强度超过或等于 $120\text{W}/\text{m}^2$ 的时间长度来确定。图 12 中数据表示成都和攀枝花各月平均日照时数。

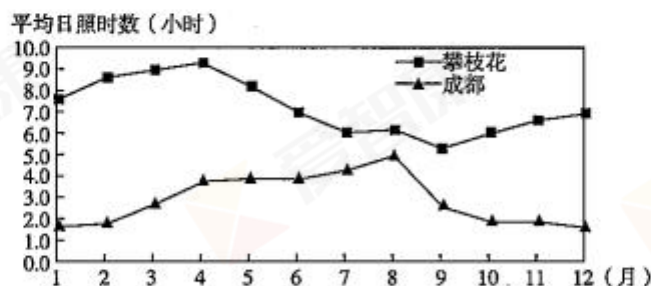


图 12

(2) 说出与成都相比较,攀枝花平均日照时数的总体特点,并说明其成因。(8分)

2018年2月,“国家现代农业产业科技创新中心”落户成都,依据规划该中心将建设成为集农业科研、国际交流、产业孵化、综合服务四大功能于一体的生态农业“硅谷”。

(3) 说明成都吸引“国家现代农业产业科技创新中心”落户的地理条件。(8分)



20世纪60年代起,我国在四川西部山区陆续建设了300多个以国防科技工业为主的工业企业,带动了一批工业城市的兴起。近年来,当地的许多工业企业面临资源枯竭、污染严重、市场萎缩等问题,部分工业城市出现衰落。

以万县市为例,1951年万县市工业企业仅10余家。受国家战略决策影响,1960年后万县市开始进行以船舶制造为主的工业布局,逐步形成较为完整的生产能力。经济实力的增强也带来了交通的发展。目前,军转民战略决策实施后,万县市军工企业在民品生产方面也做出非常大的成绩。

(4)说明当年国防科技工业建设对四川省社会经济发展的意义,并对目前该地区工业企业的发展提出合理建议。(10分)

37. (34分) 2017年,中国GDP约12万亿美元,欧元区19国GDP总和仅比中国多出约5千亿美元;2018年中国GDP将超过欧元区的总和。西方经济学家感叹:中国经济的发展将使“全球经济重返历史大部分时间持续的状态,过去150年西方经济超过东方的局面只是特例”。

材料一 罗马与秦汉帝国,都将广大地区组织于一个庞大的经济体系中。但是罗马各地物产的交流,还是在地方性的市场圈内解决;而汉代中国,通过一个道路系统紧密联系为互相依存的整体。中国经济体系一旦编织成形,可以扩展,却难以裂解。中国历史上,国家分裂时经济的重新整合,常早于政权的统一。罗马则不然,地区之间无须依赖一个固定的交通网和固定的资源供求。因此,罗马的经济体系一旦破裂,便没有再求重整的需要。中国的大帝国、文化圈与经济网络,彼此叠合,互相加强,遂有强固的凝聚力。罗马帝国秩序的稳定性不如中国,罗马帝国之后,欧洲、中东、北非裂解为多文化、多族群的列国体制。

——摘编自许倬云《万古江河:中国历史文化的转折与开展》

(1)依据材料,比较古代中国和古代罗马经济体系的差异,(8分)据此谈谈你的认识。(2分)

材料二

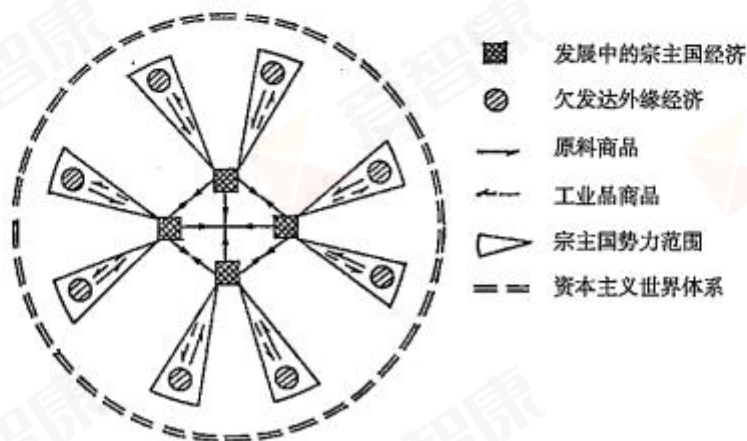


图13

——摘自罗荣渠《开拓世界史的新视野》

注:“宗主国”指近现代世界历史上占领并统治殖民地的西方殖民国家。例如,印度独立以前是英国殖民地,这一时期,英国就是印度的宗主国。

高三年级(文科综合能力)第11页(共16页)



- (2) 近代西方经济超越东方有多方面的原因；图 13 呈现了其中一个方面的原因。结合图 13 和所学对此方面的原因进行说明。(10 分)

材料三 “一五”计划优先发展重工业，目的是建立基础工业体系，奠定中国工业化初步基础。经过“一五”计划，中国工业生产能力大幅度提高，工业化基础初步建立。改革开放最初 20 年，发展最快的是轻工业，纺织、食品等部门在外向型经济的带动下加快增长。进入 21 世纪，消费结构升级，汽车、住房等需求旺盛，拉动产业结构再次出现重工业化的趋势。中共中央提出走中国特色新型工业化道路，促进经济增长由依靠投资，出口拉动向依靠消费、投资、出口协调拉动转变。以信息化进行传统工业改造，走一条科技含量高、经济效益好、资源消耗低、环境污染少的工业化新路径。

当今中国是全球第二大经济体、第一大商品贸易国、第一大外汇储备国、第二大对外投资国，并成为约 130 个国家的最大贸易伙伴。中国已进入工业化的成熟期，拥有大量优势产业和富余产能。中国钢铁、水泥、汽车等 220 多种工业品产量居世界首位。中国机床产量占世界的 40% 以上，发电设备产量占 60% 以上。这些产能不是落后产能，而是富有竞争力的优势产能。中国的优质产能已经跨出国门，走向全球。中国为世界经济提供强劲的增长动力，成为对世界经济增长贡献最大的国家。

——摘编自陈勇勤《中国经济史》等

- (3) 阅读材料，结合所学，以中国的工业化及其世界地位为视角，对材料所蕴含的历史信息进行解读。(14 分)

38. (34 分) 走进海淀人的生活，你会爱上海淀。

爱上她的高度：创新发展

2018 年，是中关村创新发展 40 周年。

为抓住契机，不断激发创新发展活力，中共海淀区委提出要聚焦中关村科学城，构建创新生态体系和新型城市形态，着力解决发展中存在的不平衡不充分问题，努力把海淀建设成为具有全球影响力的科学智慧之城、创新引领之城、人文活力之城、生态优美之城、和谐宜居之城，成为支撑和引领首都“四个中心”

功能建设的现代化国际化创新型宜居宜业城区，成为新时代具有全球影响力的全国科技创新中心核心区，为建设国际一流和谐宜居之都和创新型国家贡献海淀力量。

2035 年，海淀将成为人民幸福安康的美好家园，走出一条高质量创新发展的“海淀之路”，率先全面进入现代化。

- (1) 运用《政治生活》知识，说明中共海淀区委谋划“海淀之路”的理论依据。(10 分)



图 14



爱上她的温度：便民利民

海淀区正在打造社区商业e中心，着力提升生活服务业品质，更好满足群众日常生活需要，增强居民的获得感。

社区商业e中心以服务社区居民为核心，在提供菜篮子、超市便利店、洗染、美容美发等多项基础便民服务的同时，根据社区特色和居民需求来拓展延伸其他选择性的商业服务功能。

e中心还与一些网络平台开展合作，推出了网上下单送货上门的代购业务。“e”含有电商概念，另一方面还与“易”谐音，为居民提供一站式简易便捷服务。

海淀区目前已经在田村、八里庄、羊坊店等地建成了多家社区商业e中心。力争到2020年，29个街镇各建成一个具有海淀特色的社区商业e中心。

(2) 大学生小海准备在毕业后自主创业。他打算在社区商业e中心选择一个项目进行投资。

除了菜篮子、超市便利店、洗染、美容美发外，他还可以选择哪些项目？请为他推荐一个，并运用所学经济学知识说明理由。(8分)

(3) 请为他的项目经营提出两条具体建议。(6分)



图 15

爱上她的风度：多彩文化

海淀区历史悠久，文化资源丰富，拥有著名的皇家园林及名胜古迹，众多的图书馆、博物馆和演出场所，以及多家高等院校、科研院所、艺术团体和创意机构等。

(4) 高二某班同学计划利用假期进行“海淀一日游”活动，请你选择一个或多个地点，帮他们设计一条有主题的“一日游”线路。

(10分)

线路主题：_____

选择地点：_____

(选择一个或多个地点。所选地点应与主题相符合，可从以下地点中选择，也可另选其他)

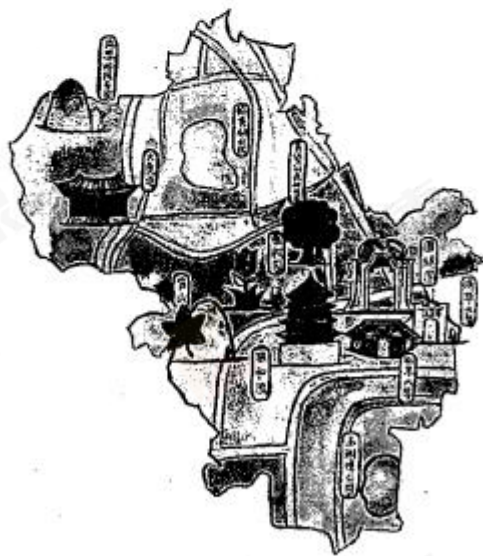


图 16 (袁澜宁 绘)



备选地点：清华大学、北京大学、玉渊潭公园、香山、翠湖湿地、中关村创业园区、颐和园、圆明园、李大钊烈士陵园、大觉寺、国家图书馆、中关村软件园、中国人民革命军事博物馆

推荐理由：_____

(结合个人体验和《文化生活》知识，阐述线路的文化价值，150字左右)

39. (12分) 一个书包，蕴藏着一个学生的梦想，寄托着一个家庭的希望，承载着整个社会的未来。

为增强学生的社会责任感，海淀区某高中组织了“书包的成长”公益社会实践活动，前往河北多地，为当地初中生上一堂课，走访留守学生，开展学习经验分享。活动结束后，学生和家长分享了自己的感受：

小伊：这次活动，印象最深的就是我们变身成为一名“小老师”，通过师生共同备课、小组共同讲课，从中深刻体会到作为老师的辛苦，每节课从设计到上课每个环节都凝结着老师的心血，我以后也要珍惜老师给我们上的每节课。

小晔：给我感触最深的就是走访留守学生家庭了。那是一个初三的男生，他家生活非常困难，但他在班上名列前茅，未来想当一名机械工程师。他在这样的生活环境下，都能够坚持自己的梦想，那条件优越的我们，又怎能轻言放弃呢？

石头：从北京来的哥哥姐姐真好，他们带着我们一起玩，告诉我们好多有意思的事。他们离开的时候，好多同学都哭了，谢谢这些支教“小老师”们，让我们了解不一样的东西。长大后，我也要接过他们爱心的接力棒，建设自己的家乡，服务更多的人。

小华家长：这次活动让孩子与社会成功连接，感受到自己肩上的责任。不求回报的贡献，让孩子体会到自己的价值。期待他们在体验中成长，将来继续为社会贡献自己的一份力量！

结合材料，运用《生活与哲学》相关知识，自拟题目，撰写一篇200~300字的短文，谈谈“书包的成长”公益社会实践活动对学生成长的益处。

要求：观点鲜明；可以就某一点深入分析，也可以全面论述；知识运用准确、贴切；论述合乎逻辑，条理清晰。



40. (18分) 珍爱河湖, 保护生态, 建设美好家园。

永定河在历史上曾称为“无定河”, 经常泛滥成灾, 威胁北京地区的安全。三藩战事刚刚结束, 北边及台湾问题尚未解决, 康熙就开始关注永定河的治理。对准噶尔部战事获胜后, 康熙下令根治水患, “浚河百四十五里, 筑南北堤百八十余里, 赐名永定”。

在治理永定河的过程中, 康熙本人不仅是组织者, 而且是直接领导者。作为一位热爱学习西方科技的帝王, 他曾在冰面上亲自测量, 发现河床已经高于堤外地面, 所以河水经常泛滥, 决定开掘新的河道。康熙还多次视察治河工程, 参与规划、督修。这次工程杜绝了河水漫流改道的可能, 使北京城受洪水威胁的频率大大降低, 但也出现了地下水位下降、水质恶化等环境问题。

——摘编自吴文涛《北京水利史》等

(1) 阅读材料, 概括康熙治理永定河的条件和影响。(8分)

洞庭湖是湖南省生态安全的重要屏障。在《绿色湖南建设纲要》中提出了湖南省发展的绿色环境指标(如图17所示)。



图 17

(2) 说明实现图中所示的环境指标对洞庭湖生态环境的改善作用。(4分)

(3) 说出洞庭湖的生态环境效益。(6分)

41. (26分) 当今世界各国既相互竞争又相互依存。

第二次世界大战后西欧国家的对外政策

20 世纪 50 年代	西欧出于经济上和军事上对美国的依赖, 在外交上亦步亦趋, 追随美国的冷战政策。
20 世纪 60 年代	1964 年, 法国主动与中国建立外交关系, 成为与新中国正式建交的第一个西方大国。 1966 年, 法国宣布退出北约军事一体化体系, 提出对苏联、东欧国家“缓和、谅解、合作”的原则。 1969 年, 联邦德国勃兰特政府提出“新东方政策”, 实现了同苏联、东欧国家的关系正常化。
20 世纪 70 年代	改善与发展中国家的经济关系。在中东、南部非洲和中美洲等问题上, 违背美国的旨意, 支持第三世界。

——摘编自李景治主编《当代世界经济与政治》

(1) 依据材料和所学, 分析第二次世界大战后西欧国家对外政策特点的变化及其原因。(10分)



2018年是土耳其·中国旅游年。土耳其作为横跨欧亚大陆、拥有独特文化和异域风光的国家，每年都吸引着全世界各地上千万元的游客前往。

线路推荐

享受地中海阳光、沙滩、蓝天、碧海，乘船游览博斯普鲁斯海峡，体验梦幻棉花堡的白色地貌与天然温泉，乘热气球飞跃奇岩地貌，欣赏露天洞穴博物馆，漫步古老奥斯曼风情小镇，感受世界七大奇迹之一阿尔忒弥斯神庙的雄伟，领略伊斯坦布尔老城区、番红花城、特洛伊古迹等世界遗产的魅力。(每日平均车程约6小时)

行程安排



- D1 北京—伊斯坦布尔
- D2 安卡拉
- D3 番红花城
- D4 卡帕多奇亚
- D5 孔亚
- D6 安塔利亚
- D7 帕姆卡莱
- D8 艾菲索斯、伊兹密尔
- D9 伊斯坦布尔
- D10 伊斯坦布尔—北京

图 18

(2) 图 18 为某旅行社设计的“土耳其精华揽胜十日游”线路，对该旅游线路进行评价。(10分)

联合国人权理事会于 2018 年 3 月通过了中国提出的“在人权领域促进合作共赢”决议。决议呼吁各国共同努力，构建相互尊重、公平正义、合作共赢的新型国际关系，构建人类命运共同体，强调各国要坚持多边主义，加强人权领域对话与合作，实现合作共赢。

这项决议得到了各国特别是广大发展中国家的支持和拥护。发展中国家代表表示，决议充分反映了国际社会的共同愿望，有助于提升发展中国家在国际人权领域话语权和议程设置权，将有力推动全球人权事业健康发展。

(3) 运用《政治生活》或《国家和国际组织常识》的知识，说明这项决议为何得到广泛支持和拥护?(6分)



海淀区高三年级第二学期期末练习

文科综合能力测试参考答案

2018.5

第一部分 选择题 (35 个小题, 每小题 4 分, 共 140 分)

题号	1	2	3	4	5	6	7	8	9	10	11
答案	C	B	D	D	C	C	A	A	C	C	B
题号	12	13	14	15	16	17	18	19	20	21	22
答案	D	D	A	B	C	B	A	D	C	A	C
题号	23	24	25	26	27	28	29	30	31	32	33
答案	B	D	A	B	C	A	D	C	C	B	C
题号	34	35									
答案	A	B									

第二部分 非选择题 (共 160 分)

36. (36 分)

(1) (10 分)

特点: 交通运输方式多样, 交通线路密度大 (或数量多), 交通线路分布形成网络形态 (或以成都为中心呈放射状) 等

成因: 东部地区地势较平坦, 人口、城市较多, 经济较发达, 运输需求量大等

(2) (8 分)

特点: 攀枝花日照时数多, 冬春季节较多、夏秋季节较少等

成因: 地势较高, 削弱作用较弱; 纬度较低, 太阳高度角较大; 晴朗天气较多等

(3) (8 分)

农业基础好, 交通便利, 基础设施较完善, 科技水平较高, 有国家政策的支持等

(4) (10 分)

意义: 加强基础设施建设, 增加就业机会, 推动工业化、城镇化进程, 带动区域经济发展等

方向: 调整产业结构 (发展高新技术产业、新兴产业、第三产业等), 推动产业升级, 进行工业转型等

37. (34 分)

(1) (10 分)

差异: 古代中国形成了一个整体性很强全国性的经济体系, 稳定性强 (联系紧密); 促成了经济、政治、文化的高度统一, 是自古以来中国作为一个不可分割的统一整体的重要基础。(4 分)

罗马经济体系呈现地域性的特点, 稳定性差; 无助于政权的统一, 罗马帝国灭亡后就永久分裂为不同的文化和民族体系。(4 分)

认识: 中国古代统一的经济和政治格局是东方经济长期领先于西方的基础。(2 分)

(2) (10 分)

新航路开辟后西方国家大肆进行殖民掠夺, 促进了资本的原始积累, 为工业革命准备条件, 造成了东方的贫困和落后。工业革命后, 西方经济超越东方, 东方国家成为西方的原料产地和商品市场, 资本主义世界体系形成。



(3) (14分)

评分标准:

水平四(14—12分):能够充分理解和运用材料,准确、全面地概括中华人民共和国工业化历程及影响,结合所学,多角度分析其与中华人民共和国政策、经济发展情况的关联。史论结合,逻辑严密,论述完整,语言规范。

水平三(11—8分):能够理解和运用材料,基本概括出中华人民共和国工业化历程及影响。能够结合所学,分析其与中华人民共和国政策、经济发展情况的关联。史论结合,逻辑清楚,但论述不够完整,语言不够规范。

水平二(7—4分):能够运用材料概括出中华人民共和国工业化历程及影响,但不够深入或不够准确。结合所学分析其与中华人民共和国政策、经济发展情况的关联,论述不完整或逻辑性不强,语言不规范。

水平一(3—0分):不能运用材料概括中华人民共和国工业化历程及影响。分析与论述其与中华人民共和国政策、经济发展情况的关联,逻辑混乱或没有论述和分析。

38. (34分)

(1) (10分) 中国共产党是我国的执政党,是中国特色社会主义事业的领导核心,海淀区委对“海淀之路”的规划设计,充分体现了党对中关村发展建设的领导。坚持科学执政,从中关村具体实际出发,依托中关村科技创新优势,对“海淀之路”进行科学规划。海淀区委在谋划“海淀之路”时,始终把最广大人民的根本利益作为工作的出发点和落脚点,着力解决发展中存在的不平衡不充分问题,将海淀建设成为人民幸福安康的美好家园。(其他答案言之有理,可酌情给分)

(2) (8分) 答案要点:

项目:家政、维修、鲜花、再生资源回收等。

理由:可从市场需求、经营成本、政策支持等方面进行分析。

(3) (6分) 评分标准:能结合所推荐的项目,具备可操作性。

(4) (10分) 评分标准:

等级	等级描述
水平 4 (9—10 分)	能将个人文化体验与学科知识有机结合,准确运用《文化生活》知识说明所设计线路的文化价值,情景理交融。
水平 3 (6—8 分)	能在一定程度上结合个人文化体验,较为准确地运用《文化生活》知识说明所设计线路的文化价值,但不够具体充分。
水平 2 (3—5 分)	能在一定程度上结合个人文化体验,一定程度上运用《文化生活》知识说明所设计线路的文化价值,但不够准确。
水平 1 (0—2 分)	重复试题内容;应答与试题无关或没有应答。

答案示例:

线路主题:感受中华文化的意蕴

选择地点:颐和园

推荐理由:

颐和园被誉为世界上造景最丰富、建筑最集中、保存最完整的皇家园林。

它是历史之园。文化遗产是一个国家历史文化成就的重要标志,对于研究人类文明的演进具有重



要意义，对于展现世界文化的多样性具有独特作用。颐和园展现了中华民族诸多方面的工艺成就，也蕴含着丰富的社会历史信息。

它是智慧之园。建筑是凝固的艺术，是展现中国传统文化的重要标志。以传统工艺所构筑的颐和园既有恢弘的皇家气势，又充满自然之趣，高度体现了“虽由人作，宛自天开”的中国传统造园准则。

它是文化之园。颐和园有大量文化信息丰厚、艺术价值极高的艺术珍品。例如长廊彩画故事出自神话传说、古典文学，内容丰富，向世人展现着中华文化的源远流长、博大精深。

颐和园所承载的优秀传统文化是中华民族历史的根脉，在这里，我们能够深刻感受到中华文化的意蕴。

39. (12分)

评分标准：

等级	等级描述
水平 4 (10-12 分)	观点明确，能够运用辩证思维分析问题，从多个角度展开论证，阐释观点，逻辑严密；能够准确运用学科知识，术语表述科学。
水平 3 (7-9 分)	观点比较明确，能够从多个角度展开论证，阐释观点，前后逻辑比较一致；能够比较准确地运用学科知识，论述基本合理，但不够完整或内容有瑕疵。
水平 2 (4-6 分)	观点不够明确，能够从某一角度展开论证；能够简单运用学科知识阐述观点，语义不完整、不连贯，堆砌不相关知识。
水平 1 (0-3 分)	重复试题内容；应答与试题无关或没有应答。

40. (18分)

(1) (8分)

条件：统一多民族国家的巩固；康熙皇帝重视水利建设；西方科技的应用。(4分)

影响：稳定了永定河的流向；保证了北京城的安全；也带来一些环境问题。(4分)

(2) (4分)

减少湖泊泥沙淤积，净化湖泊水质等

(3) (6分)

调节河流流量，减轻洪涝灾害，调节局地气候，保护生物多样性等

41. (26分)

(1) (10分)

变化：从追随美国到奉行独立自主的外交政策。(4分)

原因：战后西欧联合趋势不断加强；经济实力增长；在美苏两极“冷战”格局中维护自身独立与发展；第三世界力量的兴起。(6分)

(2) (10分)

从旅游资源、线路主题、旅游行程及时间等角度进行评价，言之有理并符合学科逻辑即可

(3) (6分)

这项决议倡导合作共赢，顺应了国际社会的普遍愿望，契合当今时代发展趋势，符合联合国宪章的宗旨和原则，有利于增强各国间相互尊重、相互理解 and 政治互信，推进构建相互尊重、公平正义、合作共赢的新型国际关系。中国为全球人权治理积极贡献中国智慧和中国方案，有助于提升发展中国家在国际人权领域话语权，将有力推动全球人权事业健康发展。(其他答案言之有理，可酌情给分)