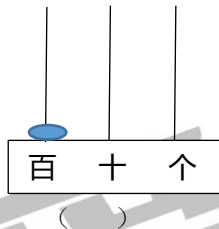
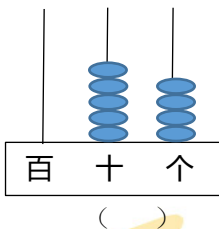
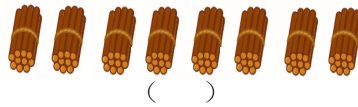
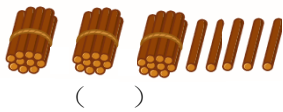




瑞金路小学 2017-2018 学年度第二学期数学

学科一年级阶段性检测试卷

一、看图写数 (4分)



【答案】

35 80
54 100

二、直接写得数 (18分)

13-8=	12-6=	11-4=	13-5=
17-9=	28-5=	44+6=	10-6=
27-5=	63-50=	88-6=	50+50=
80-40=	43+20=	6+63=	34-20=
40+34-4=		34-20+5=	

【答案】

5	6	7	8
8	23	50	4
22	13	82	100
40	63	69	14
70	19		

三、填空 (29分)

1. 9个十是(), 100里面有()个十。
()个一和()个十合起来是63。

【答案】

90 10
3 6



2. 从右边起，第一位是个位，第二位是（ ）位，第（ ）位是百位

【答案】十 三

3. 按规律写一写

55			70	75	
----	--	--	----	----	--

	80		60	50	
--	----	--	----	----	--

【答案】

60 65 80; 90 70 40

4. 49 前面一个数是（ ），后面一个数是（ ）。和 79 相邻的两个数是（ ）和（ ）。

【答案】48 50; 78 90

5. 在已经认识的数中，比 50 大、比 60 小的一共有（ ）个。

【答案】9

6. 比 50 多 5 的数是（ ），比 50 少（ ）的数是 46。

【答案】55 4

7. 把 12, 36, 95, 50, 63, 39 这些数按从小到大的顺序排列。

【答案】 $12 < 36 < 39 < 50 < 63 < 95$

8. 王医生正在给第 78 号病人看病，他已经看了（ ）个病人。

【答案】77

9. 在○里填上“>”、“<”或“=”

$100 \bigcirc 97$

$65 \bigcirc 60$

$30 - 10 \bigcirc 24$

$78 \bigcirc 28 + 50$

$21 + 8 \bigcirc 30$

$5 + 41 \bigcirc 41 + 7$

【答案】

>

>

<

=

<

<

10. 爷爷的年龄比 60 岁大比 70 岁小，而且是一个双数，爷爷可能是（ ）岁。

【答案】62 64 66 68

四、选一选 (5分)

1. 在合适的答案下面画“√”。

(1) 第一组栽了 48 棵，第二组栽的棵树和第一组差不多。

第二组可能栽了多少棵？

30 棵	50 棵	70 棵



【答案】

30 棵	50 棵	70 棵
	√	

(2) 鸡有 20 只，鸭的只数比鸡多得多，鸭可能有多少只？

83 只	25 只	15 只

【答案】

83 只	25 只	15 只
√		

2. 最大的两位数比最小的两位数多多少？

90

89

99

【答案】

89

3. 绿化小组的同学去浇花，已经浇了 45 盆，快要浇好了。小花园里有多少盆花？

43 盆

70 盆

50 盆

【答案】

50 盆

4. 在得数大于 50 的算式后面画“√”

$43+6$

$46+7$


$54-8$

【答案】

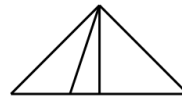

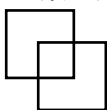
$46+7$

五、操作 (6 分)

(1) 在下面的方格纸上分别画一个长方形、一个正方形和一个三角形。



(2) 数一数



() 个正方形

() 个长方形

() 个三角形






【答案】

(1) 略




(2) 3 3 6

六、解决问题 (38分)

1. (6分)

			
原有	37 个	() 个	53 副
卖出	7 个	34 个	() 副
还剩	() 个	5 个	20 副

【答案】

			
原有	37 个	(39) 个	53 副
卖出	7 个	34 个	(33) 副
还剩	(30) 个	5 个	20 副

2.

		合计
5 个	7 个	() 个

有 () 个菠萝，
有 () 个西瓜。
一共有多少个水果？

$$\square \bigcirc \square = \square \text{ (个)}$$

【答案】

$$5 \quad 7 \quad 5+7=12 \text{ (个)}$$

$$5 \quad 12-5=7 \text{ (个)}$$

		合计
5 个	() 个	12 个

一共有多少个水果，
其中菠萝有 () 个，
西瓜有多少个？

$$\square \bigcirc \square = \square \text{ (个)}$$

3. 小红和小芳踢毽子，小红踢了 30 个，小芳和她踢得同样多。两人一共踢了多少个？

(4分)

$$\square \bigcirc \square = \square \text{ (个)}$$



【答案】

$30+30=60$ (个)

4. 妈妈一共买了 48 个苹果，小伙伴们吃掉一些后还剩 20 个，吃掉了多少个？（4 分）

$\square \bigcirc \square = \square$ (个)

【答案】

$48-20=28$ (个)

5. 每张桌子配一把椅子，现在有 46 张课桌和 6 把椅子，还需要多少把椅子来配课桌呢？（4 分）

$\square \bigcirc \square = \square$ (个)

【答案】

$46-6=40$ (个)

6.

小刚

小强

小丽

小亮

我有 20 本课外书



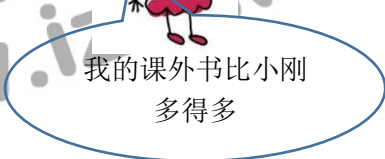
我的课外书和小刚同样多



我有 42 本课外书



我的课外书比小刚多得多



(1) 小丽可能有多少本课外书？在合适的答案下面画“√”。（2 分）

18 本	25 本	78 本

(2) 小刚和小强一共有多少本课外书？（3 分）

$\square \bigcirc \square = \square$ ()

(3) 小亮的课外书比小强多多少本？（3 分）

$\square \bigcirc \square = \square$ (个)



【答案】

(1)

18 本	25 本	78 本
		√

(2) $20+20=40$ (本)

(3) $42-20=22$ (本)



爱智康
Tel:4000-121-121
www.izhikang.com