



西城区高三模拟测试
文科综合（地理）

2018.5

全球十大航天发射基地中，有四个分布于北纬 28° - 32° 之间。图1示意这四个航天发射基地的地理位置。读图，回答第1题。

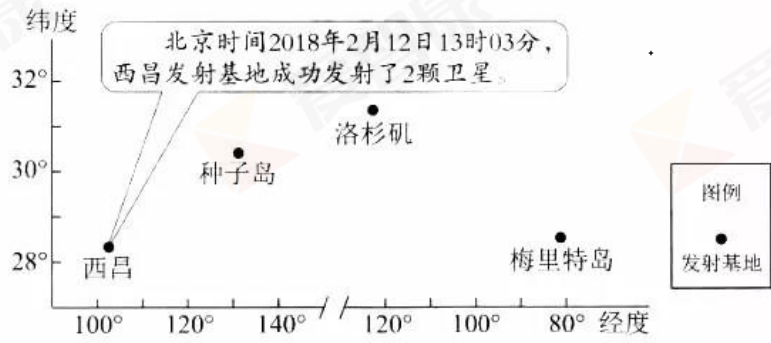


图1

1. 图中

- A. 西昌自转角速度最大，节省能源
- B. 种子岛比梅里特岛太阳高度角大
- C. 梅里特岛日出东南方，昼长夜短
- D. 洛杉矶区时为2月11日21时03分

气团是指气象要素（主要指温度和湿度）水平分布比较均匀并具有一定垂直稳定度的较大空气团。图2示意世界局部地区气团源地和移动路径。读图，回答第2、3题。




图2

2. 甲气团

- A. 移动方向与地球自转方向相反
- B. 为来自中纬度的冷湿气团
- C. 给巴西高原带来狂风暴雨天气
- D. 生成于太平洋的热带洋面

3. 影响乙气团移动路径的主要是



- A. 东南信风 B. 副极地低压 C. 中纬西风 D. 西风漂流

图3为我国关中盆地地形地质剖面图。读图，回答第4、5题。

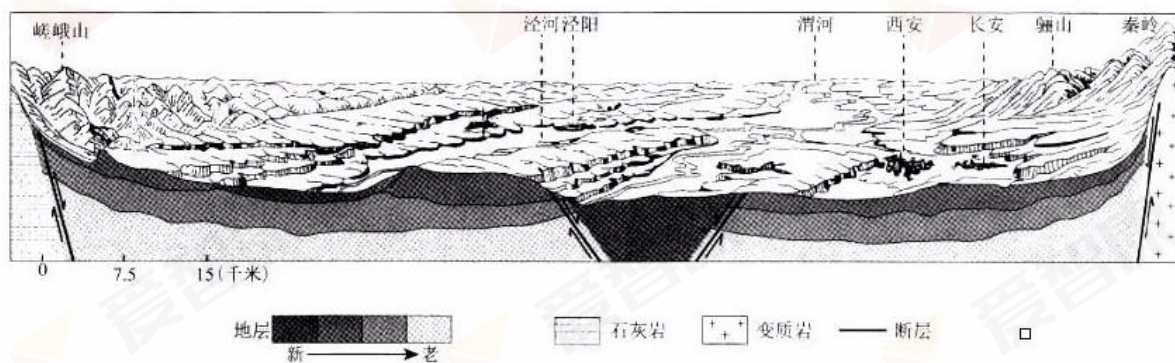


图3

4. 图中河流

- A. 河道弯曲。右岸侵蚀强烈 B. 流量年际变化小
C. 含沙量太，季节整异明显 D. 冬末春初多凌汛

5. 图示区域

- A. 受秦岭阻挡，盆地内冻害少 B. 聚落多分布在平原或谷地
C. 岩层断裂处，油气资源丰富 D. 骊山与崃嵯山均为褶皱山

图4为我国局部地面沉降示意图。读图，回答第6、7题。

6. 图中地面沉降

- A. 保定比沧州严重 B. 幅度鲁比冀更大 C. 渤海湾沿岸地区小
D. 从城市向四周扩展

7. 造成地面沉降的主要原因是

- A. 气候变暖导致蒸发加剧 B. 大量的人口迁移到城市
C. 人类过度开采地下资源 D. 城市服务范围不断扩大

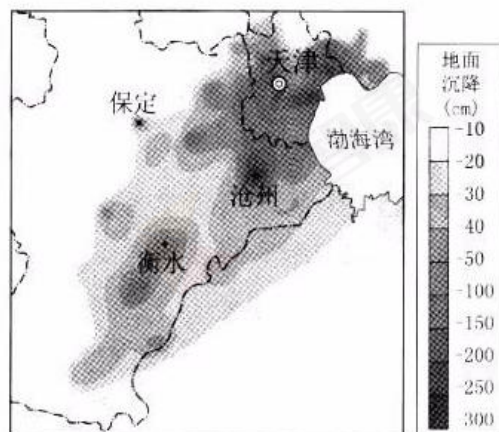


图4

“良渚古城遗址”被确定为国家2019年世界文化遗产中报项目，良渚文化距今约5300年，农业生产以犁耕为主。

并且拥有大型水利系统，所处的长江下游太湖地区是我国稻作农业的最早起源地之一。据此回答第8、9题。

8. 历史上良渚地区种植水稻的优势区位条件有

- ①耕作技术先进 ②水源充足 ③全年高温多雨 ④台风频次少



- A. ①② B. ①③ C. ②④ D. ③④

9. 该水利系统的主要功能是

- A. 运输和供水 B. 护城和旅游 C. 排水和灌溉 D. 提水和蓄水

《中国农村扶贫开发纲要(2011-2020)》明确了国家扶贫攻坚的主战场，全面实施精准款贫方略。

图 5 为我国扶贫攻坚主战场分布示意图。读图，回答第 10、11 题。



图 5

10. 扶贫攻坚主战场主要分布在

- A. 地势第三阶梯 B. 东部经济地带 C. 内流区 D. 季风区

11. 精准扶贫过程中

- A. 甲地打造商品棉基地 B. 乙地可实施生态移民
C. 丙地应发展立体农业 D. 丁地防治土地盐渍化



第二部分（非选择题共 160 分）

36.（36 分）读图 12，回答下列问题。

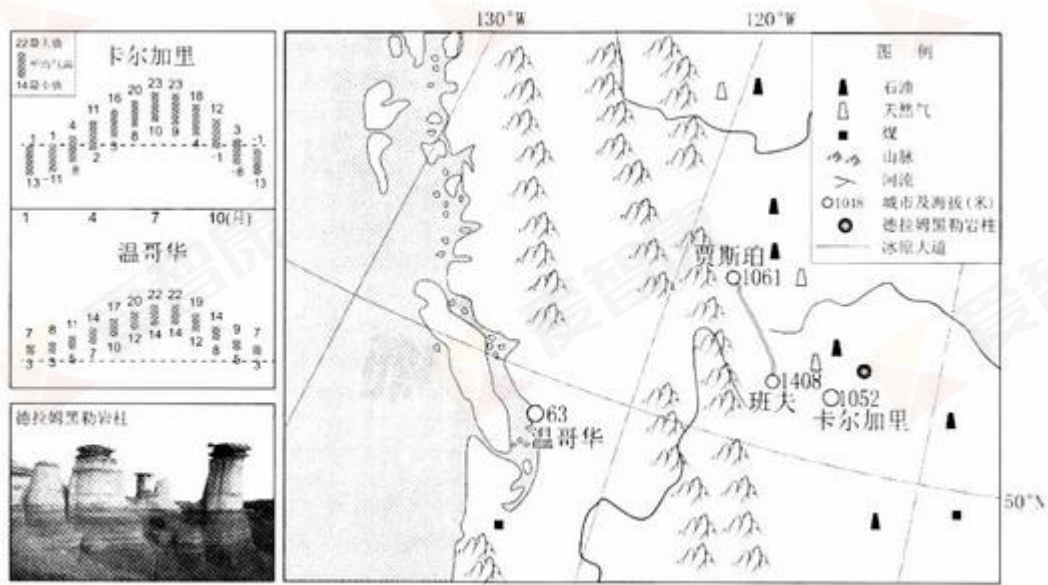


图 12

(1) 比较卡尔加里和温哥华两地气温差异，任选一地分析原因。（12 分）

卡尔加里是加拿大的能源中心，在能源开发和供应上因地制宜对石油、天然气、煤炭、核能及风能进行综合开发利用，实行整体能源战略，将尖端能源技术和服务业输出到 100 多个国家。卡尔加里的工程师数量居该国前列。

(2) 简述卡尔加里发展尖端能源技术和服务业的优势条件。（8 分）

德拉姆黑勒岩柱是卡尔加里著名的旅游景点，景区内随处可见一个个 5-7 米像蘑菇一样的岩柱。

(3) 说出德拉姆黑勒岩柱形成的主要内外力作用表现形式，并具体说明该景区应采取的旅游安全防范措施。（6 分）

加拿大“冰原大道”得名于哥伦比亚冰原，因宏伟壮丽的景色而闻名遐迩，该公路穿过大面积的荒野，沿途有海拔 3747 米的高山和美丽的冰川，迷人的湖泊与壮观的幕布，无边无际的原始森林以及种类丰富的野生动物。被誉为世界上最美的公路之一。

(4) 从自然地理环境角度阐述“冰原大道”最美的原因，概述该公路对当地社会经济发展的有利影响。（10 分）

40.（18 分）开放创新的亚洲，繁荣发展的世界。

博鳌亚洲论坛 2018 年年会上，京东物流作为唯一受邀的电商物流企业参会，放、共生态理念。京东物流响应国家“一带一路”倡议，积极布局海外业务，首站选印度尼西亚。当时，该国城市化率低，定单配送时效平均在 5—7 天。目前，京东物流印度尼西亚建成当地最大的电商物流网络，服务范围覆盖



7 大岛屿，随着仓库布局的善。85% 的订单可在 1 天内收到。读图 14，回答第(1)题。

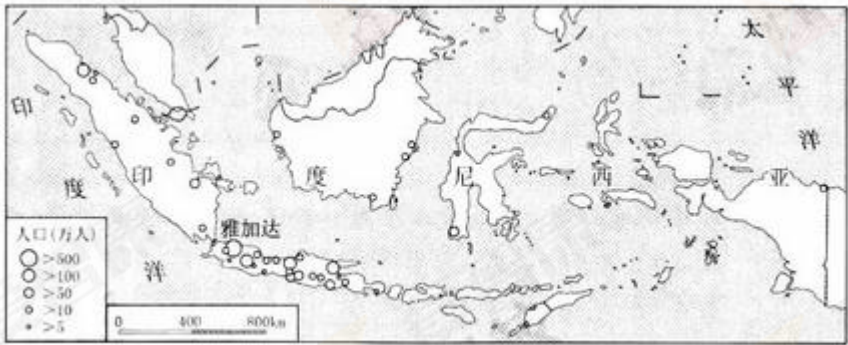


图 14

(1) 评价京东物流布局印度尼西亚的条件。(10 分)

41. 地图给人们提供了一个看世界的视角，也在利用过程中引发了人们的反思。

北斗地图 APP 是一款基于北斗卫星精准导航服务的基础位置服务工具，可为广大用户提供移动、实时的定位和导航以致卫星影像。在北斗卫星导航系统赋能之下，智慧城市、自动驾驶、智慧物流等都将实现大规模商用。

(2) 指出研发北斗地图 APP 所需要的地理信息技术，概括其在定位导航中的应用。(10 分)

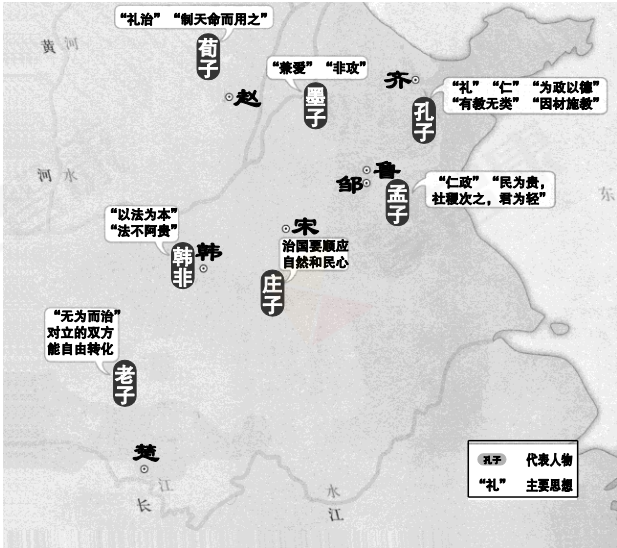


西城区高三模拟测试
文科综合（历史）

2018.5

12. 右图为《诸子百家示意图》，标记了主要学派的代表人物及其重要思想。据此并结合所学判断，下列解释正确的是

- A. 思想家们围绕社会变革提出政治主张
- B. 战国时期儒家学说成为社会主流思想
- C. 各派学说都成为当时改革的指导思想
- D. 生产力水平较高的地区思想较为活跃



13. 中国古代为监察和约束官员而设计出了相应的制度。以下官职的设置能体现此目的的是

- A. 秦朝丞相 汉朝中书令
- B. 秦朝太尉 唐朝节度使
- C. 秦朝御史大夫 宋朝通判
- D. 宋朝枢密使 明朝殿阁大学士

14. 有学者认为，汉代结束后，经过数百年的时间，中国南北的物产和人力资源的配置由东西整合转向南北整合。以下为其提供便利的工程是

- A. 都江堰 B. 灵渠 C. 驰道 D. 大运河

15. 元朝王祯为官“惠民有为”，其所著《农书》中绘制有 100 多种农具，《农器图谱》占全书的 4/5。结合所学判断，该书

- A. 关注民生，注重生产工具的推广
- B. 是我国现存最早、最完整的农书
- C. 首先提出了“重农抑商”的思想
- D. 标志着中国古代科技发展到顶峰

16. 明末清初思想家王夫之撰写了许多阐述民族大义著作，但长期遭到忽视。清末其思想始见盛行，受到了维新派和革命派的推崇。下列表述正确的是

- A. 王夫之的思想严重脱离明末清初的社会现实
- B. 王夫之最早提出“天下兴亡，匹夫有责”
- C. 康有为借鉴王夫之的思想阐释维新的合理性
- D. 孙中山三民主义与王夫之思想有内在一致性

17. 下表搜集了重要的资产阶级文献首次完整出现在中国的概况。它表明

名称	时间	书刊
《美国独立宣言》	1901 年	《国民报》第 1 期
《法国人权宣言》	1903 年	与其他文件合成《政治思想之源》一书印行
《英国权利法案》	1907 年	《新译界》第 6 号

- A. 欧美资产阶级革命成果首次传入中国
- B. 中国人已关注到西方制度背后的理念
- C. 清政府开始实践“师夷长技”的主张
- D. 西方民主科学观念通过报刊深入人心



18. 1938 年-1940 年，四百多家工厂和上万名技术人员撤退到四川和陕西等内地。战前工业以制造消费资料为主，而在战时新工业中，有 50% 制造与军事有关的产品。对以上材料解释正确的是

- ①抗战时期中国的工业布局发生了较大变化 ②服务于抗战需要，中国被迫调整产品结构
③此举奠定了大西南在中国工业的核心地位 ④日本发动侵华战争延缓了中国工业化进程

A. ①②③ B. ①②④ C. ①③④ D. ②③④

19. 伯利克里上台后，计划重建被希波战争摧毁的雅典卫城。尽管遭到贵族派的反对，但他仍获得了公民大会的支持，赋予其建造卫城之权。这反映出

- A. 伯利克里时期贵族的公民权被彻底铲除 B. 雅典民主政治的突出特点是“轮番而治”
C. 公民大会是雅典事实上的最高权力机构 D. 伯利克里因设五百人议事会而广受支持

20. 分权思想源出古希腊的亚里士多德。近代启蒙运动期间，明确阐述分权学说的是英国的洛克，法国的孟德斯鸠发展了洛克的学说，系统地提出三权分立原则。美国率先将此原则付诸实践。由此推断启蒙运动

- A. 借复兴古希腊罗马文化之名宣传新思想 B. 激化国王与议会的矛盾，引发英国革命
C. 促使法国共和派和君主派最终达成妥协 D. 提倡的一些原则被写入了美国联邦宪法

21. 右图是创作于 1854 年的版画《英格兰的“白人奴隶”》，反映了纺织厂里发生的现象。据此可以判断

- A. 奴隶贸易对欧洲影响较深远
B. 工业革命提高妇女政治地位
C. 英国工人阶级工作环境恶劣
D. 此画体现了现代主义的风格



22. 1871 年颁布的《德意志帝国宪法》规定帝国议会和联邦议会的立法权涉及迁徙居住和公民权、海关与贸易、帝国赋税、度量衡与货币

制度、铁路、邮政和电报等范围，还规定联邦法律高于各邦法律的制度。以上规定起到的作用是

- ①有利于建设统一强大的国家 ②促进德国资本主义迅速发展
③强化普鲁士的军国主义传统 ④加强君主专制中央集权制度

A. ①② B. ①③ C. ②③ D. ③④

23. 右图是 2017 年 6 月 15 日出版的美国《科学》杂志的封面：中国量子卫星“墨子号”从星空向地面发出两道光，标志着我国在世界上首次实现卫星和地面之间的量子通信。关于量子的理论研究和技术应用，以下评述正确的是

- A. 量子论继承了经典力学关于时空的认识
B. 德国科学家爱因斯坦最早提出量子假说
C. 量子力学的成果推动人类进入电气时代
D. 中国在量子通信领域取得突破后来居上





37. (38分) 新材料·新视野·新方法

材料一 由于传统史书对于殷商历史叙述过于简略，故一度有人质疑其是否存在。甲骨文发现后，殷商的历史得以证实。甲骨文记载的商王世系继承与《史记》所载不尽相同，并出现类似“嫡”“庶”的词语；甲骨文反映出商代祭祀分为不同等级，祭祀对象有祖先和天帝、日、月、云、星、山川河流等诸神，祭祀祖先的规模和频率超过了其它神；甲骨文还记载了商王与其它地区的朝聘贡巡之礼、军事联盟之礼、贵族之间的通婚之礼等。

——摘编自陈戌国《中国礼制史》

(1) ①依据材料一，指出甲骨文反映了商代哪些社会状况？(6分)

②简述甲骨文的发现对历史研究的意义(4分)。

材料二 “世界史”和“全球史”是人们研究和认识历史的两种不同视角。严格意义的“世界史”在人们具备全球性地理知识后就出现了。它以政治、军事和外交为框架，把各区域、国家、民族的历史简单拼凑在一起，近代欧洲的发展使得众多史学家把欧洲视为先进和文明的样板。“全球史”出现于20世纪后半期，是当代全球化趋势在历史研究中的反映。它研究的重点是不同国家、地区和文明之间的差别以及他们之间的相互作用和影响，提倡全面客观地看待不同地区、民族的历史，肯定所有民族对人类文明的贡献。

材料三 截止至20世纪末，关于人类全球化进程的起源主要有以下两种观点：

观点	起源
全球化500年	从新航路开辟算起
全球化150年	从工业革命的传播算起

(2) ①依据材料二，比较“世界史”与“全球史”两种研究视角的不同点。(6分)

②阅读材料三，表明你赞同哪种观点(也可提出新观点)，并运用“全球史”的视角简要说明。(8分)

材料四 在中国古代，官修史书占据主要地位，君臣纪传构成史书的主题内容，儒家思想成为判断是非的标准。统治者读经书和史书，“经则守之而治身，史则考之而应变”。

近代中国的史学研究出现了新变化。20世纪初，梁启超指出传统史学存在“知有朝廷而不知有国家，知有个人而不知有群体”等弊端。社会经济受到广泛重视，对边疆地区和世界历史的研究日益增多。进化论、唯物史观等先后成为史学研究的指导思想和研究方法。许多史学家编写历史教科书。

20世纪七、八十年代以来，一批史籍整理出来，历史读物出版繁荣，史学研究呈现出百花齐放的局面，除坚持唯物史观外，西方社会学、统计学等方法也被广泛运用，经济史持续成为研究热点，“现代化”等问题成为研究的新领域。




(3) 阅读材料四，对中国史学不同发展阶段的特点进行解读。(14 分)

要求:提取信息充分; 总结和归纳准确、完整; 解释和分析逻辑清晰。

40. (分) 开放创新的亚洲，繁荣发展的世界。

习近平总书记指出：“周总理是新中国孕育、诞生、成长和取得崇高国际威望历史的一个生动缩影。”下面有关周恩来的一组文献和人物照片正是此评价的形象反映。



① 1949 年主持起草《中国人民政治协商会议共同纲领》(草案) 的修改稿

②1951 年主持编写一五计划的设想，1953 年组织一五计划的实施



③1955 年率领中国代表团出 ④1964 年 10 月 16 日，作为主要决策人之一和度尼西亚万隆举行的亚非会 组织与管理者宣布我国第一颗原子弹爆炸成功

(2) 从上述照片中任选两个，分别简述周恩来所参与的相关事件在“新中国诞生、成长和取得崇高国际威望”中的重大意义。(8 分)

41. (分) 地图给人们提供了一个看世界的视角，也在利用过程中引发了人们的反思。

19 世纪末至 20 世纪制图业发展大事记

时间	重大事件
1884 年	国际会议决定以通过英国格林尼治天文台的子午线为零度经线。
1891 年	国际地理会议通过合作编制国际百万分之一地图的提案。
1910 年	莱特从飞机上拍摄了第一张照片，航空摄影测量制图改变了传统的地面测图技术。
20 世纪 50-70 年代	苏联和美国竞相发射卫星，人类开始从地球外空间进行全球性遥感制图。
20 世纪 50 年代以来	计算机技术应用于地图测绘，手工制图向自动制图转变，数字地图成为最现代化的地图品种，提供气象、导航等各类服务。



(1) 概括促进 1884 年以来制图业发展的主要因素。(6 分)





西城区高三模拟测试 文科综合（政治）

2018.5

24



有什么不开心，大声喊出来就好了

飙歌现场

看，我们老两口上直播了

图 X

在《阿呆的欢喜——京津冀系列民俗文化展》上，河北农村小男孩“阿呆”和“他们村里人”(图 X)一起走进北京，向全国人民展示出社会主义新农村的风貌，以及十九大之后，京津冀大地欢乐祥和的气息。以下认识正确的有

- ①文化艺术可以反映原生态的农村生活，以及人民群众对美好生活的憧憬
- ②泥塑以表情欢喜、古拙憨厚的人物造型，表达了远离尘世的古代传统智慧
- ③作品的标题、解说无不充满意趣，启示人们只有娱乐文化才是值得倡导的文化
- ④展览有助于城市观众感受乡土氛围，理解社会主义新农村建设和乡村振兴战略的实施

A. ①② B. ①④ C. ②③ D. ③④

25. 中华民族精神产生于先秦时期，到汉代基本确立，此后不断发展。《史记》正好是先秦至汉武帝时代中国历史最为丰富的载体。《史记》所记的屈原爱祖国、宁死不屈，蔺相如在渑池会上奋不顾身维护国家尊严，霍去病为国家忘自家、克己奉公，卜式输财助边、济国家之困，李广反击匈奴、保家卫国等，这些都

- A. 积淀在中国长期发展的历史进程中，体现了中华文化特有的包容性
- B. 成为能脱离社会的一种抽象存在，铸造了中华民族的精神世界



- C. 是中华民族生存和发展的物质财富，需要在新时代续写新的篇章
- D. 体现了忧患爱国的精神，在实现中华民族伟大复兴的征程中应大力弘扬
26. 邓小平同志在总结刘邓大军打仗经验时说，刘伯承同志经常讲一句四川话：“黄猫、黑猫，只要捉住老鼠就是好猫。”“黄猫黑猫”这句俗语，渊源颇为古老。清代蒲松龄在《聊斋志异》里曾有评语：“黄狸（指狸猫）黑狸，得鼠者雄。”据《聊斋》注本说，此俗语源出唐代李荃的《黄帝阴符经》。若按此说法，这句俗语的源头就可上推至唐代了。从一句俗语的流传，可以看到
- A. 中国文化的发展是通过创新实现的
- B. 逻辑证明是检验认识的真理性的标准
- C. 中国自古就有重视实践效果的思想
- D. 思想解放是社会变革的强大驱动力
27. 山水林田湖是一个生命共同体。人的命脉在田，田的命脉在水，水的命脉在山，山的命脉在土，土的命脉在树。人们在用途管制和生态修复方面必须遵循自然规律，对山水林田湖进行统一保护、统一修复。上述观点
- ①体现了现代人尊重生命的绿色价值观
- ②强调山水林田湖是依赖于人类的一种存在物
- ③表达了人与自然共生共荣的本质诉求
- ④从整体和部分的关系角度诠释了人是自然界的征服者
- A.①③ B.①④ C.②③ D.②④
28. 1848年马克思和恩格斯合著的《共产党宣言》在伦敦第一次出版。在这本2万多字的文献中，马克思、恩格斯用诗一般的语言，以气吞山河之势，开启了一个全新的时代。宣言第一次全面系统地阐述了科学社会主义理论，从此共产主义运动成为不可抗拒的历史潮流。以下认识正确的有



- ①思想是时代之母，理论是实践之源
- ②马克思主义是一座思想的富矿，它指导了共产主义运动的实践
- ③人类思想库中的各种“宣言”都是推动社会进步的有力武器
- ④中国共产党人要不断开辟马克思主义中国化的新境界

A.①② B.①③ C.②④ D.③④

29. 有媒体报道，某社区是一个成立只有3年多的新社区，常住居民3万多人，其中四分之三来自市内外，5.5%的居民来自外省市，对社区缺乏认同感和归属感，更没兴趣参与社区公共事务管理。针对这个问题，该社区将国学融入社区生活，以“耕、读、居、养、礼、乐”为内容，密集开展“一平米菜园”、太极拳、负离子体验、小剧场等活动，让居民有了沟通交流的平台，邻里矛盾纠纷明显下降，治安环境明显改善。如果请你给这则报道起个标题，下列选项中适宜的是

- A.推广新“六艺”，党员发挥先锋模范作用
- B.政府提供贴心服务，做好社区“好管家”
- C.创新社会治理，撑起群众生活“幸福伞”
- D.普法宣传进万家，探索治安管理专业化

30. 监察委员会作为行使国家监察职能的专责机关，与党的纪律检查机关合署办公，既是党的机构，又是国家机构。监察委员会依法对所有行使公权力的公职人员进行监察，调查职务违法和职务犯罪，开展廉政建设和反腐败工作，维护宪法和法律的尊严。以下认识正确的是

- ①组建专司监察的机构，有利于维护人民的根本利益
- ②实现党内监督和国家监察的统一，可以提升国家治理能力
- ③监察对象范围限定在政府领导，是为了确保依法履职、秉公用权
- ④监察委员会的监察职能，与人大的监督权相同

A.①② B.①③ C.②④ D.③④



31. 读图?。美国总统以优先考虑本国利益为由,签署具有贸易保护主义色彩的行政令,要求美国政府最大限度地购买美国国内生产的产品,更多地雇佣美国工人。以下认识正确的是

- ①不遵守自由贸易的原则会对世界经济产生不利影响
- ②发达国家利用世贸组织的规则是霸权主义的表现
- ③各国追求“单边绝对优势”才能切实维护自身利益
- ④一国在维护自身利益的同时,应兼顾他国合理关切

A.①③ B.①④ C.②③ D.②④

32. 美国联邦政府的财政预算案,需要由参众两院投票都通过后,联邦政府才会“到账”开工。对此认识正确的是

- ①联邦制的最大问题是各自为政、效率不高
- ②两党在具体议题上,主张不可能达成一致
- ③权力分立和权力制衡,有利于防止少数人专权
- ④国会与行政机关相互扯皮,可能导致政府“停摆”

A.①② B.①④ C.②③ D.③④

33. 在中国市场营业额一直上升的方便面行业,2013年到2016年下跌了16.7%。某研究团队到高校学生宿舍进行调研,发现有越来越多的学生选择外卖送餐服务。这倒并不是因为他们觉得外卖比方便面有营养或者便宜,而是因为方便面需要打(烧)开水和泡面,外卖则能最大限度地提供便利、节约时间。这个案例可以启示物流企业



- A. 高品质消费是当下消费升级的大趋势
- B. 快速响应、配送高效是重要的竞争要素
- C. 要提高质量、安全等方面的服务能力
- D. 消费者的需求是由机器人、自动分拣系统决定的

34. 2017 年我国城镇居民人均名义消费支出 24445 元，只比上年增长了 5.9%，而 2016 年的增速为 7.9%。有研究指出，上述消费现象的出现，与图 X 反映的问题有密切关系。(注：中位数是按顺序排列的一组数据中居于中间位置的数) 据此适宜向国家提出的政策建议是

- A. 下调汽车的进口关税
- B. 加强国家创新体系建设
- C. 提高个人所得税起征点
- D. 惩处侵害消费者权益的行为

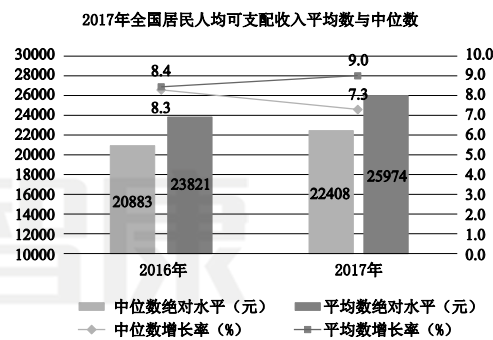


图 X

35. 当很多人唱衰实体零售时，其实实体零售并没有想象中的“活得那么艰难”。以某知名电子商务平台为例，很多商家为了留住顾客，单件利润可能仅有几元钱甚至几角钱。电商获取的客户群体占行业的 90%，却只获得 10% 的利润。据此可以推断

- ① 商品价格出现线上、线下差异的根本原因，在于商品质量的差异
- ② 商品生产企业的劳动生产率，会因为线上商品价格低廉而大幅提高
- ③ 在实体零售仍占优势的情况下，投资者不会贸然把大量资金投向电商
- ④ 随着电商价格竞争加剧，某些电商可能加紧抢占新的市场

- A. ①②
- B. ①④
- C. ②③
- D. ③④



38 . (30 分) 党中央、国务院积极推进供给侧结构性改革、助力实体企业转型升级,采取了“降成本”的重要举措。某班同学对此进行探究与交流。

第一小组

2014~2016 年全国样本企业研发支出占营业收入的比重

年份	2014	2015	2016
比重	1.71%	1.82%	1.89%

注:调研行业涉及有色金属冶炼、机械制造、化工、电子科技等多产业领域,相当于人们通常所称的“实体经济”。

我们查到了这样一些信息:第一,上表是企业研发支出占营业收入的比重,通过它可以衡量企业的创新意愿;第二,另有资料显示,上述样本企业的原材料、用能用地、人工、物流、融资等成本,在同期全都是上升的。

(1) 分析第一小组的资料所反映的问题。(4 分) 并说明在这个发现问题的过程中,可以指导你有效思考的哲学观点。(列举一项即可 , 3 分)

第二小组 以下是我们找到的中央文件规定,还有政策落实的结果。

2015 年党的十八届五中全会提出,开展降低实体经济企业成本行动,限制政府对企业经营决策的干预,减少行政审批事项,等等。

2016 年国务院针对“降成本”这项任务,提出经过 1~2 年努力取得初步成效,经过 3 年左右使实体经济企业综合成本合理下降。

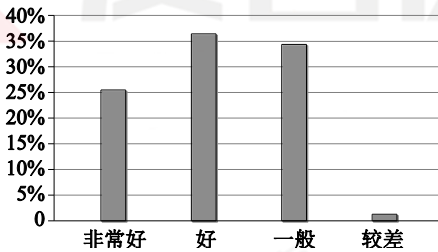


图 样本企业对于 2016 年降低制度性交易成本取得成效的评价

注:降低制度性交易成本,包括政府的政策透明、办事程序简化等。

(2) 结合第二小组的资料,运用《政治生活》知识说明“降成本”任务的提出和实现。(11 分)

第三小组 2018 年政府提出进一步为企业“减税降费”。除此之外,我们还搜集到社会上其他一些“降成本”的意见。请根据下表提示,说说你的想法。

(3) 在下表中填写相应的内容。(12 分)






	降低企业成本的办法	是否同意	经济学理由
①	通过降职工工资的办法,降低企业用工成本		
②	通过降物质投入的办法,如减少使用环保设备,降低企		



	业的环境保护成本		
③	通过打破行业垄断的办法，降低企业能源使用、融资、物流等成本		

39 . (16 分) 旅游景区是满足人们文化生活需求的重要载体。

材料一

	北京故宫博物院 (受游客欢迎程度★★★★★)	某市主题公园 (受游客欢迎程度★★★★★)
票价和 价格政策	 大门票价格： 60 元旺季/40 元淡季  主开放区优惠政策： 大、中、小学生可购学生票， 20 元/人	 全价票： 240 元旺季/200 元淡季
特点说明	 它是全国爱国主义教育示范基地、北京市中小学生社会大课堂资源单位，是为公众及学生提供社会教育的教育场所	 它是新一代文化主题公园，可以满足不同人群休闲娱乐的需要，是市级文化创意产业基地，对地方经济发展的贡献明显

(1) 故宫大门票价格应否上调到上述主题公园全价票的水平，甚至更高？故宫主开放区学生票价是
否也应翻两番？运用经济学知识说明理由。(7 分)

材料二 主题公园进入中国 20 多年来，全国约 2500 个主题公园，其中 70%处于亏损状态，20%持平，只有 10%左右盈利。

上世纪 80、90 年代，那些简单模仿国外的主题公园，包括科学科幻、机动游乐、动物观赏等，以及“西游记宫”“大观园”“三国城”等人造景观，大都好景不长，陆续关门倒闭。经历了漫长的沉寂期后，经过洗牌和转型，我国某些本土品牌迅速崛起，几家国际巨头也抢滩中国内地，这几年主题公园的投资热潮再度掀起。

近年来，抢滩中国内地的两家国际巨头，都是主题公园的成功代表，他们的共同点是有电影故事、卡通形象等文化内容作为基础，主题公园完全是基于文化内容打造的。例如其中一家主题公园对卡通虚拟人物、电影虚拟人物做了细化分组管理，把消费人群划分为“女孩组”“男孩组”“男性成年人组”“通吃组”等，进而根据这些组别决定衍生品（如带有卡通虚拟人物形象的纪念品、玩具、服饰等）的开发市场。这些国际主题公园 60%的收益来自衍生品等二次消费，与之相比，中国本土主题公园大多缺乏文化内容基础，收益的 90%来自单一的门票。

(2) 结合材料二，运用《文化生活》知识，围绕“主题公园”的话题，自选角度，提出你的核心观点，
然后进行阐释。(9 分)

要求：观点鲜明；可以就某一点深入剖析，也可以全面论证；知识运用恰当、准确；论述逻辑



性强，条理清晰。

41. (分) 地图给人们提供了一个看世界的视角，也在利用过程中引发了人们的反思。

如今“汽车行驶路线规划”应用程序早已成为许多国家驾驶人员的标配。人们通过手机获取交通数据，可以说，驾驶人员比以往任何时候都更了解交通和道路状况。

但一项研究表明，在国外某些城市，当大量的人都为节省时间，根据应用程序的提示而驶入小道之后，常会导致小道堵塞，结果使整个城市大交通变得更加混乱。这个问题长久以来一直被人们忽视。

“汽车行驶路线规划”技术的应用，或许只是让城市交通变得更糟的开始。

(3) 有人认为，新的技术应用带来的往往是“帮倒忙”。请从哲学角度谈谈你的见解。(6分)

要求：观点鲜明；可以就某一点深入剖析，也可以全面论证；知识运用恰当、准确；论述逻辑

性强，条理清晰。





地理参考答案:

1. D 2. B 3. A 4. C 5. B 6. D 7. C 8. A 9. C 10. D 11. B

36. (36 分)

- (1) 卡尔加里比温哥华: 各月温差大, 年较差大, 冬季气温较低;
原因: 卡尔加里纬度高; 地处内陆, 气候大陆性强; 海拔高; 无山脉阻挡, 冬季冷空气可以长驱直入。
或: 温哥华比卡尔加里: 各月温差小, 年较差小; 冬季气温较高;
原因: 温哥华纬度低; 地处沿海, 气候海洋性强; 海拔低; 沿岸暖流有增温作用。
- (2) 石油、天然气、煤炭资源丰富, 政策支持, 国际市场广阔, 技术人才集中等。
- (3) 地壳运动, 风化作用, 侵蚀作用;
竖立危险警示牌等。
- (4) 地势起伏大, 冰川、湖泊众多, 动植物资源丰富;
带动相关产业, 增加就业机会等。

40. (1) 一带一路, 政策支持; 印尼人口数量多, 市场广阔; 廉价劳动力丰富; 基础设施不完善; 岛屿众多, 交通通达度较差。

41. (2) 北斗卫星导航系统, 遥感, 地理信息系统;
交通、旅游等。

历史——参考答案

12. D 13. C 14. D 15. A 16. D 17. B 18. B 19. C 20. D 21. C 22. A 23. D

37. (38 分)

(1) 状况: 出现王位世袭制; 宗法制(或嫡长子继承制)雏形出现; 存在等级差异; 重视祖先; 重鬼事神的意识浓厚; 商与周边部族存在松散的政治联系; 王室与贵族间有联姻; 存在各种礼仪。

意义: 证实商代历史存在; 印证文献史料或订正其错误; 开辟新的研究领域。

(2) ①不同点:

对比项	世界史	全球史
产生时间	16 世纪前后	20 世纪后半期
产生背景	新航路开辟	当代全球化趋势
空间关系	各个国家或地区之间关系较为松散	突出人类历史发展空间上的整体性
研究重点	政治、军事和外交	各区域文明之间互动
评价标准	以欧洲为评价参照物	全面客观地看待各民族的历史

②示例一: 赞同第一种观点, 全球化起源于 1500 年前后, 新航路开辟, 西欧国家进行殖民扩张。各地相对孤立的状态结束, 文明开始汇合交融, 世界日益连成一个整体, 世界市场雏形出现。航海技术的进步, 地理知识的丰富, 为联系提供了条件。欧洲与各地区建立直接的商业联系, 促进了物种交流和人口迁徙。

示例二: 赞同第二种观点, 全球化起源于 19 世纪中后期, 英国率先完成工业革命, 后来法、美等国也相继完成工业革命。世界各地的联系日益紧密, 世界市场基本形成。蒸汽机车、汽船等交通工具, 为世界各地的联系提供了条件。越来越多的地区纳入资本主义世界市场, 原料、工业品、资本和技术在更大范围内流通。

(3) 评分标准

水平	分值	等级描述
----	----	------



水平 4	14-11 分	史料史实充分，史料与论述内在联系紧密。结合史实阐释观点，论述合理分析深入，结构完整，逻辑严密。
水平 3	10-7 分	史料史实较充分，论述较合理，分析较深入，结构较完整，逻辑清楚。
水平 2	6-4 分	史料运用不充分，或有史实错误，或论述联系不严谨；论述欠合理，或没有分析，结构不完整，或逻辑不太清楚。
水平 1	3-0 分	没有运用史料，或史料存在明显史实错误，论述结构很不完整，逻辑混乱。

40. (2) (8 分)
- ①《共同纲领》确立了中国历史上新型国家的架构；在中华人民共和国宪法颁布之前，实际起到了代宪法的作用。
 - ②一五计划的编写成为发展国民经济的指导纲要；一五计划超额完成，使我国开始改变工业落后面貌，向社会主义工业化迈进。
 - ③提出“求同存异”方针，推动中国和广大亚非国家友好往来；有利于新中国进一步迈向世界外交舞台。
 - ④打破美、苏等国对核武器的垄断，加强中国的国防能力；提高国际影响力。
41. (1) 采用国际标准；加强国际合作；第二、三次科技革命；美苏争霸推动高科技的竞争；人们生产生活需求的推动。(6 分)

西城区高三统一测试参考答案及评分标准

文科综合 2018.5

第一部分共 35 小题，每小题 4 分，共 140 分。

24.B 25.D 26.C 27.A 28.C 29.C 30.A 31.B 32.D 33.B 34.C 35.D

第二部分共 5 大题，共 160 分。

38. (30 分)
- (1) ①2014~2016 年样本企业研发支出占营业收入的比重呈上升趋势，表明企业创新意愿在上升，但企业成本全面上升成为创新活动的制约，所以企业有降低成本的客观需要。(4 分)
- ②略。(3 分)
- (2) 为助力实体企业转型升级，党中央坚持以人民为中心的发展思想，集中统一领导经济工作，提出“降成本”任务。政府贯彻落实党中央的决策部署，坚持对人民负责的原则，进一步转变职能，简政放权，不断优化营商环境。多数企业对“降成本”表示认可，“降成本”举措取得阶段性成效。(11 分)





(3) ①否(1分)

理由示例：提高人民生活水平是社会主义市场经济发展的目标之一，这就要不断提高居民收入水平。通过降工资来降成本，总体来看不可行。(3分)

②否(1分)

理由示例：生态文明建设是中华民族永续发展的千年大计，必须坚持环境保护，推进绿色发展。不能为解决企业眼前困难，允许随意破坏环境(3分)

③是(1分)

理由示例：打破垄断，有利于保护市场公平竞争，提高经济运行效率，维护社会公共利益，促进社会主义市场经济健康发展(3分)

39.(16分)

(1) ①不应该。(1分)故宫博物院提供的服务具有一定的公共物品性质。提供社会教育资源，有明显的公益价值。所以，故宫应少收费，力争全民共享。(4分)

②不应该。(1分)故宫门票方案应向学生、学校等重点受教育人群和组织倾斜，以达到最大的公益效果。(1分)

(2) 核心观点。(3分)

“核心观点”与“阐释”在逻辑上应保持同一性。本小问可选择以下角度作答：文化产业发展、经济与文化相互交融、中华优秀传统文化继承、对外来文化借鉴、文化创新、文化自觉等。

等级水平	等级描述	分值
水平4	观点鲜明，能辩证分析问题，显示出独立思考与批判的精神；紧扣问题，就某点深入分析，或全面展开论证；知识运用恰当、准确；逻辑严密，条理清晰	5~6分
水平3	观点比较明确，能表达自己的见解；能扣住问题展开论述，	3~4分



41.

	或能就某点分析 ;知识运用比较恰当、准确 ;逻辑性较强 , 有条理	
水平 2	观点不明确 ;论述不能集中指向问题 ,罗列知识 ;知识运 用不正确 ;表述缺乏逻辑 ,条理性差	1~2 分
水平 1	应答与试题无关 ;或重复试题内容 ;或没有应答	0 分

(3)
本 小
问 可
选 择

以下角度作答：用发展的观点看问题、辩证否定、新事物、矛盾动力、实践与认识的关系等。

等级水平	等 级 描 述	分值
水平 4	观点鲜明 ,能辩证分析问题 ,显示出独立思考与批判的精 神 ;紧扣问题 ,就某点深入分析 ,或全面展开论证 ;知识 运用恰当、准确 ;逻辑严密 ,条理清晰	5~6 分
水平 3	观点比较明确 ,能表达自己的见解 ;能扣住问题展开论述 , 或能就某点分析 ;知识运用比较恰当、准确 ;逻辑性较强 , 有条理	3~4 分
水平 2	观点不明确 ;论述不能集中指向问题 ,罗列知识 ;知识运 用不正确 ;表述缺乏逻辑 ,条理性差	1~2 分
水平 1	应答与试题无关 ;或重复试题内容 ;或没有应答	0 分





西城区高三模拟测试
文科综合（政治）

2018.5

24



有什么不开心，大声喊出来就好了

飙歌现场

看，我们老两口上直播了

图 X

在《阿呆的欢喜——京津冀系列民俗文化展》上，河北农村小男孩“阿呆”和“他们村里人”(图 X)一起走进北京，向全国人民展示出社会主义新农村的风貌，以及十九大之后，京津冀大地欢乐祥和的气息。以下认识正确的有

- ①文化艺术可以反映原生态的农村生活，以及人民群众对美好生活的憧憬
- ②泥塑以表情欢喜、古拙憨厚的人物造型，表达了远离尘世的古代传统智慧
- ③作品的标题、解说无不充满意趣，启示人们只有娱乐文化才是值得倡导的文化
- ④展览有助于城市观众感受乡土氛围，理解社会主义新农村建设和乡村振兴战略的实施

A. ①② B. ①④ C. ②③ D. ③④

25. 中华民族精神产生于先秦时期，到汉代基本确立，此后不断发展。《史记》正好是先秦至汉武帝时代中国历史最为丰富的载体。《史记》所记的屈原爱祖国、宁死不屈，蔺相如在渑池会上奋不



顾身维护国家尊严，霍去病为国家忘自家、克己奉公，卜式输财助边、济国家之困，李广反击匈奴、保家卫国等，这些都

- A. 积淀在中国长期发展的历史进程中，体现了中华文化特有的包容性
- B. 成为能脱离社会的一种抽象存在，铸造了中华民族的精神世界
- C. 是中华民族生存和发展的物质财富，需要在新时代续写新的篇章
- D. 体现了忧患爱国的精神，在实现中华民族伟大复兴的征程中应大力弘扬

26. 邓小平同志在总结刘邓大军打仗经验时说，刘伯承同志经常讲一句四川话：“黄猫、黑猫，只要捉住老鼠就是好猫。”“黄猫黑猫”这句俗语，渊源颇为古老。清代蒲松龄在《聊斋志异》里曾有评语：“黄狸（指狸猫）黑狸，得鼠者雄。”据《聊斋》注本说，此俗语源出唐代李荃的《黄帝阴符经》。若按此说法，这句俗语的源头就可上推至唐代了。从一句俗语的流传，可以看到

- A. 中国文化的发展是通过创新实现的
- B. 逻辑证明是检验认识的真理性的标准
- C. 中国自古就有重视实践效果的思想
- D. 思想解放是社会变革的强大驱动力量

27. 山水林田湖是一个生命共同体。人的命脉在田，田的命脉在水，水的命脉在山，山的命脉在土，土的命脉在树。人们在用途管制和生态修复方面必须遵循自然规律，对山水林田湖进行统一保护、统一修复。上述观点

- ①体现了现代人尊重生命的绿色价值观
- ②强调山水林田湖是依赖于人类的一种存在物
- ③表达了人与自然共生共荣的本质诉求
- ④从整体和部分的关系角度诠释了人是自然界的征服者

- A. ①③ B. ①④ C. ②③ D. ②④



28. 1848 年马克思和恩格斯合著的《共产党宣言》在伦敦第一次出版。在这本 2 万多字的文献中，

马克思、恩格斯用诗一般的语言，以气吞山河之势，开启了一个全新的时代。宣言第一次全面系统地阐述了科学社会主义理论，从此共产主义运动成为不可抗拒的历史潮流。以下认识正确的有

- ①思想是时代之母，理论是实践之源
- ②马克思主义是一座思想的富矿，它指导了共产主义运动的实践
- ③人类思想库中的各种“宣言”都是推动社会进步的有力武器
- ④中国共产党人要不断开辟马克思主义中国化的新境界

A.①② B.①③ C.②④ D.③④

29. 有媒体报道，某社区是一个成立只有 3 年多的新社区，常住居民 3 万多人，其中四分之三来自

市内外，5.5%的居民来自外省市，对社区缺乏认同感和归属感，更没兴趣参与社区公共事务管理。针对这个问题，该社区将国学融入社区生活，以“耕、读、居、养、礼、乐”为内容，密集开展“一平米菜园”、太极拳、负离子体验、小剧场等活动，让居民有了沟通交流的平台，邻里矛盾纠纷明显下降，治安环境明显改善。如果请你给这则报道起个标题，下列选项中适宜的是

- A.推广新“六艺”，党员发挥先锋模范作用
- B.政府提供贴心服务，做好社区“好管家”
- C.创新社会治理，撑起群众生活“幸福伞”
- D.普法宣传进万家，探索治安管理专业化

30. 监察委员会作为行使国家监察职能的专责机关，与党的纪律检查机关合署办公，既是党的机构，

又是国家机构。监察委员会依法对所有行使公权力的公职人员进行监察，调查职务违法和职务犯罪，开展廉政建设和反腐败工作，维护宪法和法律的尊严。以下认识正确的是

- ①组建专司监察的机构，有利于维护人民的根本利益



- ②实现党内监督和国家监察的统一，可以提升国家治理能力
- ③监察对象范围限定在政府领导，是为了确保依法履职、秉公用权
- ④监察委员会的监察职能，与人大的监督权相同

A.①② B.①③ C.②④ D.③④



31. 读图？。美国总统以优先考虑本国利益为由，签署具有贸易保护主义色彩的行政令，要求美国政府最大限度地购买美国国内生产的产品，更多地雇佣美国工人。以下认识正确的是

- ①不遵守自由贸易的原则会对世界经济产生不利影响
- ②发达国家利用世贸组织的规则是霸权主义的表现
- ③各国追求“单边绝对优势”才能切实维护自身利益
- ④一国在维护自身利益的同时，应兼顾他国合理关切

A.①③ B.①④ C.②③ D.②④



32. 美国联邦政府的财政预算案，需要由参众两院投票都通过后，联邦政府才会“到账”开工。对此认识正确的是

- ①联邦制的最大问题是各自为政、效率不高
- ②两党在具体议题上，主张不可能达成一致
- ③权力分立和权力制衡，有利于防止少数人专权
- ④国会与行政机关相互扯皮，可能导致政府“停摆”

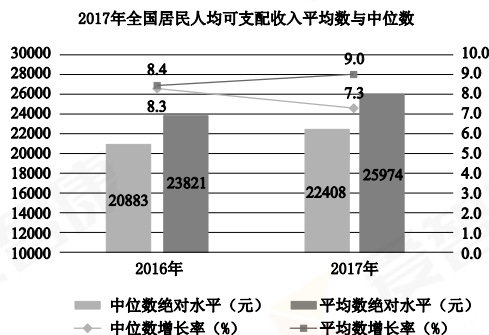
A. ①② B. ①④ C. ②③ D. ③④

33. 在中国市场营业额一直上升的方便面行业，2013 年到 2016 年下跌了 16.7%。某研究团队到高校学生宿舍进行调研，发现有越来越多的学生选择外卖送餐服务。这倒并不是因为他们觉得外卖比方便面有营养或者便宜，而是因为方便面需要打（烧）开水和泡面，外卖则能最大限度地提供便利、节约时间。这个案例可以启示物流企业

- A. 高品质消费是当下消费升级的大趋势
- B. 快速响应、配送高效是重要的竞争要素
- C. 要提高质量、安全等方面的服务能力
- D. 消费者的需求是由机器人、自动分拣系统决定的

34. 2017 年我国城镇居民人均名义消费支出

元，只比上年增长了 5.9%，而 2016 年的增长 7.9%。有研究指出，上述消费现象的出现，反映的问题有密切关系。（注：中位数是按顺序的一组数据中居于中间位置的数）据此适宜提出的政策建议是



24445

速为

与图？

序排列

向国家



- A. 下调汽车的进口关税
- B. 加强国家创新体系建设
- C. 提高个人所得税起征点

图 X

- D. 惩处侵害消费者权益的行为

35. 当很多人唱衰实体零售时，其实实体零售并没有想象中的“活得那么艰难”。以某知名电子商务平台为例，很多商家为了留住顾客，单件利润可能仅有几元钱甚至几角钱。电商获取的客户群体占行业的 90%，却只获得 10% 的利润。据此可以推断

- ① 商品价格出现线上、线下差异的根本原因，在于商品质量的差异
- ② 商品生产企业的劳动生产率，会因为线上商品价格低廉而大幅提高
- ③ 在实体零售仍占优势的情况下，投资者不会贸然把大量资金投向电商
- ④ 随着电商价格竞争加剧，某些电商可能加紧抢占新的市场

- A. ①②
- B. ①④
- C. ②③
- D. ③④



38 . (30 分) 党中央、国务院积极推进供给侧结构性改革、助力实体企业转型升级,采取了“降成本”的重要举措。某班同学对此进行探究与交流。

第一小组

2014~2016 年全国样本企业研发支出占营业收入的比重

年份	2014	2015	2016
比重	1.71%	1.82%	1.89%

注:调研行业涉及有色金属冶炼、机械制造、化工、电子科技等多产业领域,相当于人们通常所称的“实体经济”。

我们查到了这样一些信息:第一,上表是企业研发支出占营业收入的比重,通过它可以衡量企业的创新意愿;第二,另有资料显示,上述样本企业的原材料、用能用地、人工、物流、融资等成本,在同期全都是上升的。

(1) 分析第一小组的资料所反映的问题。(4 分) 并说明在这个发现问题的过程中,可以指导你有效思考的哲学观点。(列举一项即可 , 3 分)

第二小组 以下是我们找到的中央文件规定,还有政策落实的结果。

2015 年党的十八届五中全会提出,开展降低实体经济企业成本行动,限制政府对企业经营决策的干预,减少行政审批事项,等等。

2016 年国务院针对“降成本”这项任务,提出经过 1~2 年努力取得初步成效,经过 3 年左右使实体经济企业综合成本合理下降。

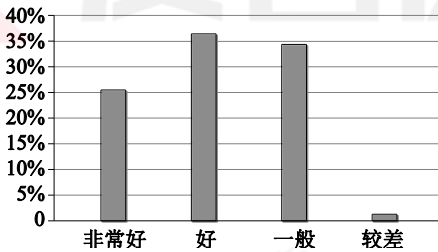


图 样本企业对于 2016 年降低制度性交易成本取得成效的评价

注:降低制度性交易成本,包括政府的政策透明、办事程序简化等。

(2) 结合第二小组的资料,运用《政治生活》知识说明“降成本”任务的提出和实现。(11 分)

第三小组 2018 年政府提出进一步为企业“减税降费”。除此之外,我们还搜集到社会上其他一些“降成本”的意见。请根据下表提示,说说你的想法。

(3) 在下表中填写相应的内容。(12 分)






	降低企业成本的办法	是否同意	经济学理由
①	通过降职工工资的办法,降低企业用工成本		
②	通过降物质投入的办法,如减少使用环保设备,降低企		



	业的环境保护成本		
③	通过打破行业垄断的办法，降低企业能源使用、融资、物流等成本		

39 . (16 分) 旅游景区是满足人们文化生活需求的重要载体。

材料一

	北京故宫博物院 (受游客欢迎程度★★★★★)	某市主题公园 (受游客欢迎程度★★★★★)
票价和 价格政策	 大门票价格： 60 元旺季/40 元淡季  主开放区优惠政策： 大、中、小学生可购学生票， 20 元/人	 全价票： 240 元旺季/200 元淡季
特点说明	 它是全国爱国主义教育示范基地、北京市中小学生社会大课堂资源单位，是为公众及学生提供社会教育的教育场所	 它是新一代文化主题公园，可以满足不同人群休闲娱乐的需要，是市级文化创意产业基地，对地方经济发展的贡献明显

(1) 故宫大门票价格应否上调到上述主题公园全价票的水平，甚至更高？故宫主开放区学生票价是
否也应翻两番？运用经济学知识说明理由。(7 分)

材料二 主题公园进入中国 20 多年来，全国约 2500 个主题公园，其中 70%处于亏损状态，20%持平，只有 10%左右盈利。

上世纪 80、90 年代，那些简单模仿国外的主题公园，包括科学科幻、机动游乐、动物观赏等，以及“西游记宫”“大观园”“三国城”等人造景观，大都好景不长，陆续关门倒闭。经历了漫长的沉寂期后，经过洗牌和转型，我国某些本土品牌迅速崛起，几家国际巨头也抢滩中国内地，这几年主题公园的投资热潮再度掀起。

近年来，抢滩中国内地的两家国际巨头，都是主题公园的成功代表，他们的共同点是有电影故事、卡通形象等文化内容作为基础，主题公园完全是基于文化内容打造的。例如其中一家主题公园对卡通虚拟人物、电影虚拟人物做了细化分组管理，把消费人群划分为“女孩组”“男孩组”“男性成年人组”“通吃组”等，进而根据这些组别决定衍生品（如带有卡通虚拟人物形象的纪念品、玩具、服饰等）的开发市场。这些国际主题公园 60%的收益来自衍生品等二次消费，与之相比，中国本土主题公园大多缺乏文化内容基础，收益的 90%来自单一的门票。

(2) 结合材料二，运用《文化生活》知识，围绕“主题公园”的话题，自选角度，提出你的核心观点，
然后进行阐释。(9 分)

要求：观点鲜明；可以就某一点深入剖析，也可以全面论证；知识运用恰当、准确；论述逻辑



性强，条理清晰。

41. (分) 地图给人们提供了一个看世界的视角，也在利用过程中引发了人们的反思。

如今“汽车行驶路线规划”应用程序早已成为许多国家驾驶人员的标配。人们通过手机获取交通数据，可以说，驾驶人员比以往任何时候都更了解交通和道路状况。

但一项研究表明，在国外某些城市，当大量的人都为节省时间，根据应用程序的提示而驶入小道之后，常会导致小道堵塞，结果使整个城市大交通变得更加混乱。这个问题长久以来一直被人们忽视。“汽车行驶路线规划”技术的应用，或许只是让城市交通变得更糟的开始。

(3) 有人认为，新的技术应用带来的往往是“帮倒忙”。请从哲学角度谈谈你的见解。(6分)

要求：观点鲜明；可以就某一点深入剖析，也可以全面论证；知识运用恰当、准确；论述逻辑

性强，条理清晰。

西城区高三统一测试参考答案及评分标准

文科综合 2018.5

第一部分共35小题，每小题4分，共140分。

24.B 25.D 26.C 27.A 28.C 29.C 30.A 31.B 32.D 33.B 34.C 35.D

第二部分共5大题，共160分。

38. (30分)

(1) ①2014~2016年样本企业研发支出占营业收入的比重呈上升趋势，表明企业创新意愿在

上升，但企业成本全面上升成为创新活动的制约，所以企业有降低成本的客观需要。(4分)

②略。(3分)

(2) 为助力实体企业转型升级，党中央坚持以人民为中心的发展思想，集中统一领导经济工作，

提出“降成本”任务。政府贯彻落实党中央的决策部署，坚持对人民负责的原则，进一步转变职能，简政放权，不断优化营商环境。多数企业对“降成本”表示认可，“降成本”举措取得阶段性成效。(11分)



(3) ①否 (1分)

理由示例：提高人民生活水平是社会主义市场经济发展的目标之一，这就要不断提高居民收入水平。通过降工资来降成本，总体来看不可行。(3分)

②否 (1分)

理由示例：生态文明建设是中华民族永续发展的千年大计，必须坚持环境保护，推进绿色发展。不能为解决企业眼前困难，允许随意破坏环境(3分)

③是 (1分)

理由示例：打破垄断，有利于保护市场公平竞争，提高经济运行效率，维护社会公共利益，促进社会主义市场经济健康发展(3分)

39. (16分)

(1) ①不应该。(1分) 故宫博物院提供的服务具有一定的公共物品性质。提供社会教育资源，有明显的公益价值。所以，故宫应少收费，力争全民共享。(4分)

②不应该。(1分) 故宫门票方案应向学生、学校等重点受教育人群和组织倾斜，以达到最大的公益效果。(1分)

(2) 核心观点。(3分)

“核心观点”与“阐释”在逻辑上应保持同一性。本小问可选择以下角度作答：文化产业发展、经济与文化相互交融、中华优秀传统文化继承、对外来文化借鉴、文化创新、文化自觉等。

等级水平	等 级 描 述	分值
水平 4	观点鲜明，能辩证分析问题，显示出独立思考与批判的精神；紧扣问题，就某点深入分析，或全面展开论证；知识运用恰当、准确；逻辑严密，条理清晰	5~6 分
水平 3	观点比较明确，能表达自己的见解，能扣住问题展开论述，	3~4 分



41.

	或能就某点分析 ;知识运用比较恰当、准确 ;逻辑性较强 , 有条理	
水平 2	观点不明确 ;论述不能集中指向问题 ,罗列知识 ;知识运 用不正确 ;表述缺乏逻辑 ,条理性差	1~2 分
水平 1	应答与试题无关 ;或重复试题内容 ;或没有应答	0 分

(3)
本 小
问 可
选 择

以下角度作答：用发展的观点看问题、辩证否定、新事物、矛盾动力、实践与认识的关系等。

等级水平	等 级 描 述	分值
水平 4	观点鲜明 ,能辩证分析问题 ,显示出独立思考与批判的精 神 ;紧扣问题 ,就某点深入分析 ,或全面展开论证 ;知识 运用恰当、准确 ;逻辑严密 ,条理清晰	5~6 分
水平 3	观点比较明确 ,能表达自己的见解 ;能扣住问题展开论述 , 或能就某点分析 ;知识运用比较恰当、准确 ;逻辑性较强 , 有条理	3~4 分
水平 2	观点不明确 ;论述不能集中指向问题 ,罗列知识 ;知识运 用不正确 ;表述缺乏逻辑 ,条理性差	1~2 分
水平 1	应答与试题无关 ;或重复试题内容 ;或没有应答	0 分

