


$$\square \bigcirc \square = \square$$

3. 一共有几根小棒?




$$\square \bigcirc \square = \square$$

四、圈出不是同类的那一个



1.

2.



五、想一想

1. 下面的时间对吗? 正确的画“√”, 错误的在()中写出正确的时间。



7:30

()



5:30

()



6:00

()



8:00

()

2. 连一连。



5:00



11:30



8:00



7:30

六、按要求填一填

1. 分一分



3, 0, 6, 9, 2, 8, 7, 4

大于 5 的数



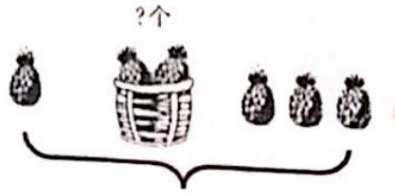
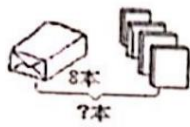
小于 5 的数

2. 1, 3, 5 在上面一行; 5 在中间, 1 在 5 的左边, 3 在最右边; 2, 4, 6 在下面一行, 2 在左数第三个, 6 在右数第二个, 6 的左边是 4.

七、解决问题

1. 一共有几本?

2. 篮子里有几个?



10个

$$\square\square\square\square\square=\square$$

$$\square\square\square=\square$$

3. 汽车。




$$\square\square\square\square\square=\square$$

4. 排队。

小明的左边有 3 个同学，右边有 4 个同学，这一排一共有多少人？

(1) 画一画。

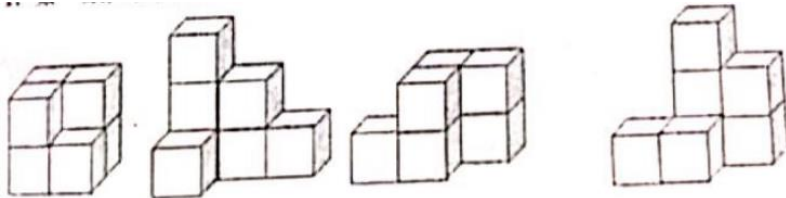


(2) 算一算。

$$\square\square\square\square\square=\square$$

附加题

1. 数一数，每个图形是由几个□组成的



- (1) () (2) () (3) () (4) ()

2. $13-5=(\quad)$ ，想一想，算一算，并验证你的答案。（可以用画图等方式来验证你的想法）

$$13-5=(\quad)$$