

2016-2017 学年成都武侯区小学数学一年级(上册)

学业质量测评试题

(时间: 60 分钟)

题号	一	二	三	四	五	六	七	八	总分
得分									

一、算一算。

1. 口算。

$2+1=$	$0+6=$	$5-4=$	$16-5=$
$4+2=$	$17-4=$	$3+8=$	$7+9=$
$5-3=$	$4+4=$	$2+5=$	$8-2=$
$10-7=$	$14-4=$	$7-6=$	$9+4=$
$12+2=$	$2+7=$	$10+5=$	$7-7=$

2. 按要求写得数。

$\underbrace{5-2}_{( )}+4=( )$

$\underbrace{7-4}_{( )}-1=( )$

3. 在□里填上适当的数。

$\square+2=8$        $5-\square=4$        $\square-2=2$        $8+\square>15$


4. 在○里填上“>、<或=”

$9\bigcirc 10$        $4+8\bigcirc 12$   
 $3+7\bigcirc 2+7$        $3+1\bigcirc 10-4$

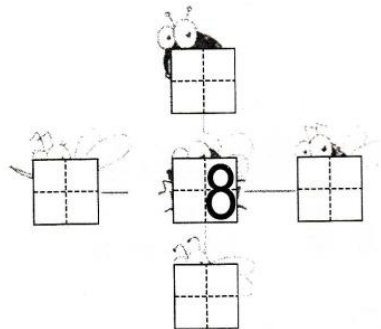
二、填空。

1. 13 的十位上是 (      ), 个位上是 (      )。  
 16 里面有 (      ) 个十和 (      ) 个一。  
 1 个十和 8 个一合起来是 (      )。  
 和 19 相邻的两个数是 (      ) 和 (      )。

2. 按规律填数。



3. 按要求在田字格里填数。




- 8 的左边是 6,  
 8 的右边是 3,  
 8 的上边是 7,  
 8 的下边是 2.

4.







从右数， 是第 6 只，一共有 ( ) 个小动物。

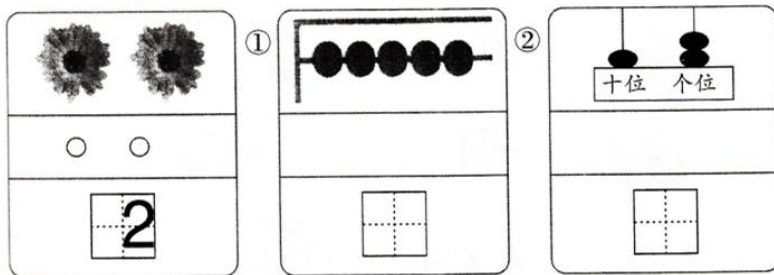
三、数一数，画一画，写一写。



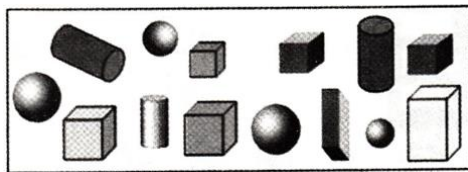
(1) 画○，比  多 \_\_\_\_\_

(2) 画△，比  少 \_\_\_\_\_

2. 例：





四、数数图形的数量。



正方体有 ( ) 个，  
长方体有 ( ) 个，  
球有 ( ) 个，  
圆柱有 ( ) 个。

五、连一连。



1 时

10 时半

3 时

11 时半


5 时半

六、分类 (填序号)。

交通工具

服装


文具



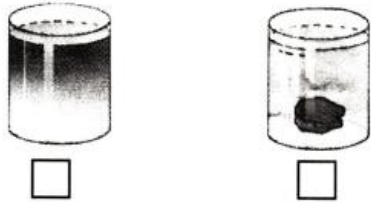


七、按要求选一选。

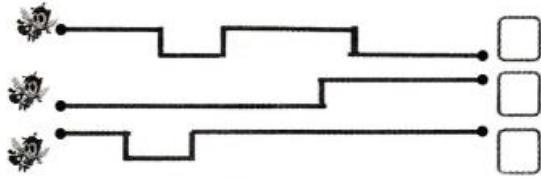
1. 动物旅馆。每个动物住一间，够吗？画“√”。



2. 哪个杯里水少些？在少的下面画“√”。



3. 在最长的绳子下面“√”，最短的画“×”。



八、看图列式计算。

1. 和 一共有多少个？



$$\square \bigcirc \square = \square \text{ (个)}$$

2. 还剩多少个苹果？



$$\square \bigcirc \square = \square \text{ (个)}$$

3. 一共有多少只 ？



$$\square \bigcirc \square = \square \text{ (只)}$$

4. 一共有 10 颗糖，袋子里有几颗糖？



$$\square \bigcirc \square = \square \text{ (颗)}$$

5. 一个动物坐一把椅子，还差几把？



$$\square \bigcirc \square = \square \text{ (把)}$$



6.

还剩多少个？  $\square \bigcirc \square \bigcirc \square = \square \text{ (个)}$