

## 2017~2018学年北京海淀区北京一零一中学高二上学期期末地理试卷

### 选择题

1. 下列关于我国疆域及地理位置的叙述正确的是
  - A. 我国位于亚洲东部，西临太平洋，海陆兼备
  - B. 我国领土所跨经度广，领土总面积居于世界第四位
  - C. 我国位于北半球、东半球，地域辽阔，不同区域之间差异显著
  - D. 我国领土地跨热带、北温带、北寒带，有利于农业开展多种经营
2. 关于我国疆域四至点的叙述中，正确的是
  - A. 最南端是海南岛
  - B. 最北端是黑河
  - C. 最西端是青藏高原
  - D. 最东端是黑瞎子岛
3. 属于我国内海的是：
  - A. 东海
  - B. 黄海
  - C. 琼州海峡
  - D. 台湾海峡
4. 下列国家中，与我国陆陆相连，且均为内陆国的是
  - A. 朝鲜、菲律宾、阿富汗
  - B. 印度、越南、缅甸
  - C. 俄罗斯、韩国、巴基斯坦
  - D. 蒙古、不丹、尼泊尔
5. 下列国家中，与西藏自治区相邻的是
  - A. 蒙古
  - B. 印度
  - C. 朝鲜

D. 越南

6. 下列省级行政区中，不是位于边疆的是：

- A. 皖
- B. 云
- C. 新
- D. 辽

7. 下列省级行政区中，不临海的是：

- A. 沪
- B. 苏
- C. 鄂
- D. 津

8. 下列省份与濒临的海的连线，正确的是

- A. 辽宁、河北、山东——渤海
- B. 辽宁、山东、江苏——东海
- C. 江苏、安徽、山东——黄海
- D. 浙江、广东、广西——南海

9. 下图示意不同类型餐馆在我国部分地区的分布状况。读图，回答下题。

①②③④依次示意



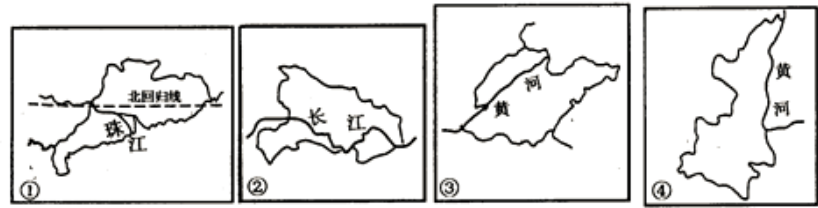
- A. 川菜馆、湘菜馆、粤菜馆、西餐馆
- B. 粤菜馆、西餐馆、川菜馆、湘菜馆
- C. 西餐馆、川菜馆、湘菜馆、粤菜馆
- D. 湘菜馆、粤菜馆、西餐馆、川菜馆

10. 成语“得蜀望陇”和“秦晋之好”中涉及的省级行政区是

- A. 山东、山西、青海、四川
- B. 陕西、湖北、甘肃、山东
- C. 四川、甘肃、陕西、山西

D. 青海、河北、云南、江苏

11. 关于图中的四个省级行政区，叙述正确的是

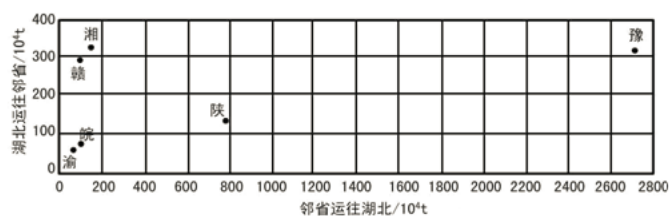


- A. ①和③两省都位于北温带
- B. ②省和④省互为邻省
- C. 四省中①纬度最低，位置最东
- D. ③和④两省均位于第二级阶梯

12. 下列叙述正确的是

- A. 30°N 穿过秦岭 - 淮河
- B. 80°E穿过塔里木盆地、巫山
- C. 120°E穿过北京、上海
- D. 北回归线穿过滇、桂、粤、台

13. 下图显示某年湖北省与相邻省级行政区往来货物的铁路运输量差异。接受湖北输出货运量最多的邻省（直辖市）位于湖北以：



- A. 北
  - B. 南
  - C. 西
  - D. 东
14. 2010年上海世博会是多元文化交流的盛会。我国各省级行政区都展示了各自鲜明的自然和人文特色。其中四个省展馆的主题分别是：中华水塔三江源；人文长安之旅；水润天府生命之舟；丝路城歌。各展馆依次对应的省级行政区的行政中心是：
- A. 乌鲁木齐、兰州、重庆、太原
  - B. 拉萨、哈尔滨、武汉、合肥
  - C. 西宁、西安、成都、兰州
  - D. 南宁、郑州、昆明、长沙

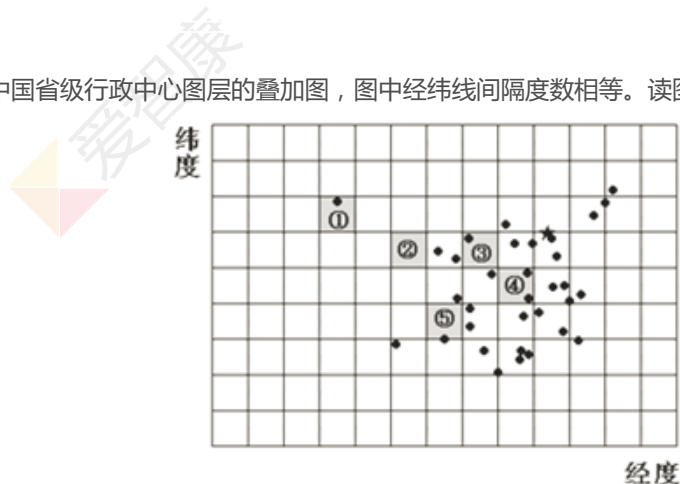
15. 关于我国的人口，下列说法中正确的是：

- A. 我国北部人口多，南部人口少
- B. 34个省级行政单位的人口密度相差不大
- C. 我国人口的分布以黑龙江的漠河和云南的腾冲为界，东多西少
- D. 我国实施了计划生育政策后人口增长速度放缓，但目前总人口数仍在上升

16. 关于我国的少数民族，下列说法中不正确的是：

- A. 我国共有55个少数民族
- B. 我国实行民族区域自治的民族政策
- C. 我国东北、东南、西北少数民族相对集中
- D. 少数民族的分布特点是“大散居，小聚居，交错杂居”

17. 下图是经纬网图层和中国省级行政中心图层的叠加图，图中经纬线间隔度数相等。读图回答下面小题。



(1) 经纬网的纬线间距为

- A. 3°
- B. 5°
- C. 8°
- D. 10°

(2) 图上标出的经纬网格区中

- A. ④和③都位于一级阶梯上
- B. ②与③都处于中纬度地带
- C. ①②⑤都位于古丝绸之路路上
- D. 五地之中，只有⑤位于热带

(3) 人口密度差值最大的两个网格区是

- A. ①和④
- B. ②和③
- C. ③和⑤
- D. ④和⑤

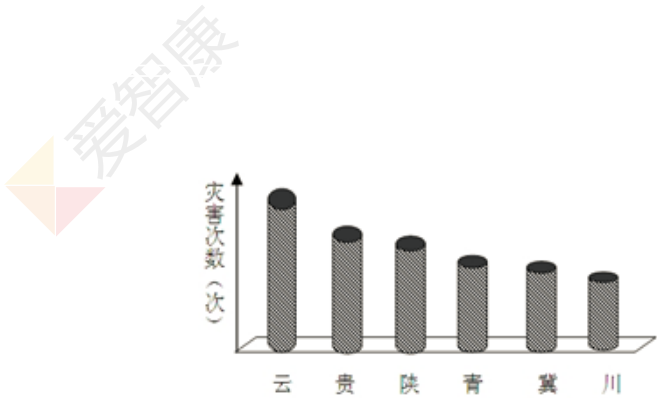
18. 平均海拔由高到低的省区依次是

- A. 湘、辽、宁
- B. 台、鲁、苏
- C. 青、粤、晋
- D. 桂、甘、豫

19. 位于我国地势第二、三级阶梯分界线上，呈东北—西南走向，又是华北平原和黄土高原的分界线的山脉是

- A. 大兴安岭
- B. 天山
- C. 昆仑山
- D. 太行山

20. 下图为某年中



生地震滑坡泥石流等地质地貌灾害次数最多的6个省级行政区。该年发生地质地貌灾害次数最多的山地可能是

- A. 横断山和秦岭
- B. 太行山和雪峰山
- C. 大巴山和巫山
- D. 祁连山和喜马拉雅山

21. 下列山脉中，位置最东的是

- A. 长白山脉
- B. 台湾山脉
- C. 小兴安岭
- D. 武夷山脉

22. 山脉是省级行政区的天然界线，下图为“我国四条山脉位置示意图”，关于图中的四条山脉叙述正确的是



- A. A山脉以东的地区土壤盐碱化严重

- B. B山脉是四川盆地与东南丘陵的分界线
- C. C山脉是长江水系和珠江水系的分水岭
- D. D山脉山高谷深，阻断了东西方向交通

23. 关于秦岭 - 淮河一线，下列说法不正确的是：

- A. 1月0℃等温线经过该线
- B. 800 mm等年降水量线经过该线
- C. 水田和旱地的分布界线
- D. 亚热带与热带的分界线

24. “千沟万壑” 是以下哪一地形区的主要地形特征：

- A. 内蒙古高原
- B. 云贵高原
- C. 黄土高原
- D. 青藏高原

25. 从 “风吹草低见牛羊” 到 “风沙茫茫大如天” ，描述的是

- A. 内蒙古高原从东向西的景观变化
- B. 青藏高原的垂直变化
- C. 长江中下游平原从春到秋的变化
- D. 东北平原从南向北的景观变化

26. “山路长，样样东西用肩扛，半世光阴路上忙” 反映的哪一地形区交通的困难

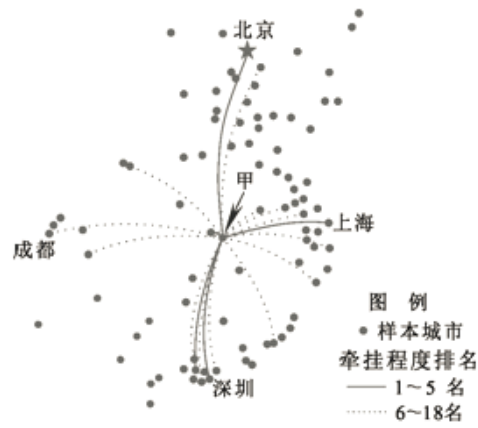
- A. 内蒙古高原
- B. 云贵高原
- C. 华北平原
- D. 山东丘陵

27. 从北京坐火车到拉萨，不会经过以下哪些地形区：

- A. 华北平原
- B. 柴达木盆地
- C. 四川盆地
- D. 青藏高原

28.

下图为某网上商城通过大数据分析绘制的“城市牵挂”示意图。由于迁出人口比例较高，甲地网购收货量中，由异地下订单寄达甲地的商品所占比例最高，从而成为2014年全国最受异地牵挂的城市。据图可以推断，甲地人口迁出比例

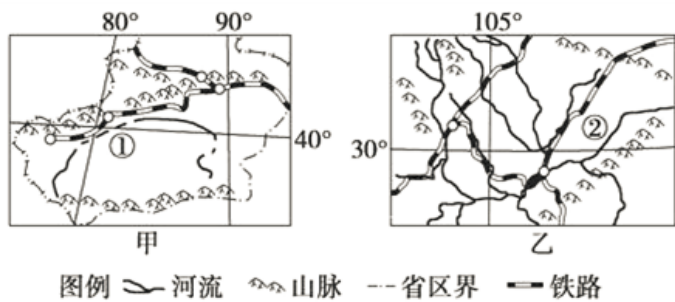


- A. 北方地区比南方地区高
- B. 直辖市比省级行政中心高
- C. 珠江三角洲比四川盆地高
- D. 内陆城市比沿海城市高

29. 关于青藏高原和长江中下游平原的异同点，叙述正确的是

- A. 都受到季风影响，季风的源地相同
- B. 都位于中纬度，距海远近差异大
- C. 都地形平坦，海拔高度差异大
- D. 都湖泊众多，湖水盐度不同

30. 读下图，回答下面小题。



(1) 下列关于图中两个盆地叙述正确的是

- A. 甲盆地太阳能资源比乙丰富
- B. 乙盆地年降水量比甲盆地少
- C. 甲盆地土壤比乙盆地肥沃
- D. 乙盆地人口密度比甲盆地小

(2) 下列关于图中两条河流叙述正确的是

- A. ①河水主要来自于冰雪融水
- B. ②河水量丰富，水运发达

C. ②河流域水土流失全国最严重

D. ②河支流众多，冰冻期长

31. 某点以东是西半球，以西是东半球，以南有极昼极夜现象，回答下面小题。

(1) 该点地理坐标为

A. (23°26'N, 180°)

B. (66°34'N, 20°W)

C. (23°26'N, 0°)

D. (66°34'S, 160°E)

(2) 该点位于新加坡 (1°16'N, 103°50'E) 的

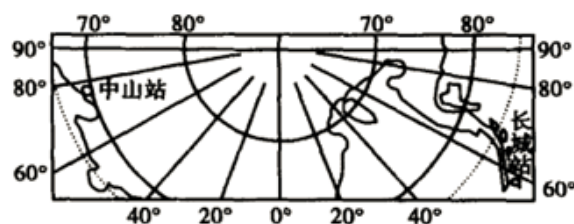
A. 东北方

B. 东南方

C. 西南方

D. 西北方

32. 读图，中国南极考察站中山站到南极点的直线距离约为



A. 2070千米

B. 2270千米

C. 2570千米

D. 2670千米

33. 若不考虑地形起伏，某人从赤道出发，依次朝正东、正南、正西、正北走100千米。最后此人位于

A. 出发点

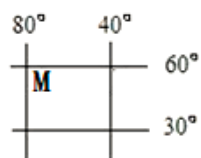
B. 出发点以西

C. 出发点西北

D. 出发点以东

34. 读图，若一架飞机从M点出发，以1110km/h的速度向北飞越北极点后，继续沿经线圈飞行，8小时后到达的地理位置是





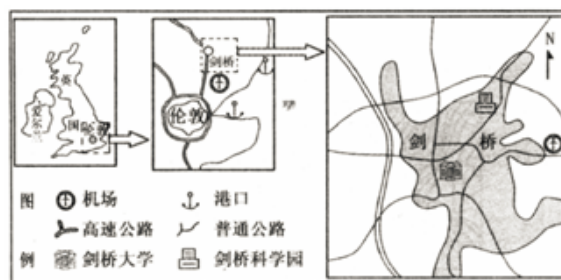
- A. 无法确定
- B. 120°E , 50°N
- C. 100°E , 40°N
- D. 120°W , 50°N

35. 下图为地球星瓣图，图中a点为陆地相对集中的“陆半球”的极点（38°N，0°），与陆半球对应的“水半球”的极点应是图中的哪一点？



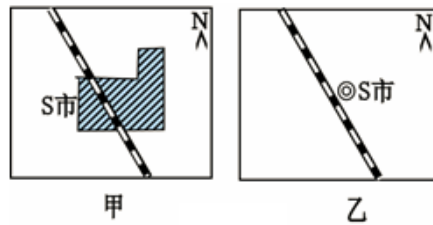
- A. ①
- B. ②
- C. ③
- D. ④

36. 读图，剑桥科学园位于



- A. 英国的西南、伦敦的西北
- B. 英国的西南、伦敦的东北
- C. 英国的东南、伦敦的东北
- D. 英国的东南、伦敦的西北

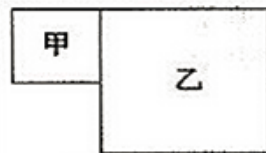
37. 在图幅大小相同、比例尺不同的两幅地图中，同一个城市S分别用点状和面状两种符号表示。据图判断，下列说法正确的是



- ①甲图的比例尺大于乙图的比例尺
- ②甲图反映的区域范围比乙图小
- ③甲图中的S市的面积比乙图大
- ④甲、乙两图中铁路的长度相等

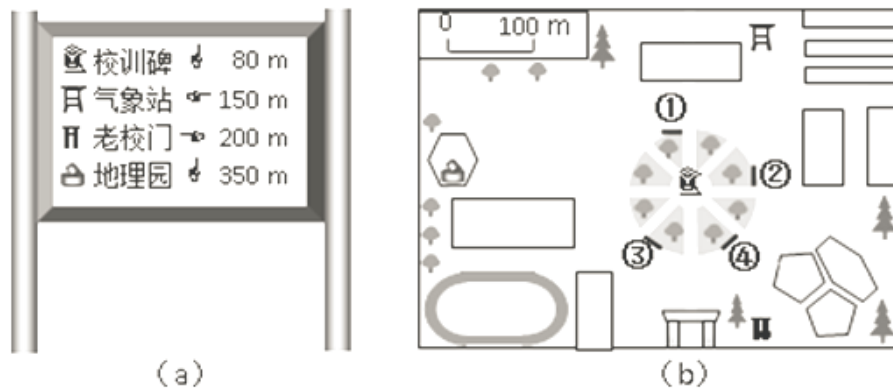
- A. ①②
- B. ③④
- C. ①③
- D. ②④

38. 图中的两幅图表示的区域范围相同，甲图的比例尺为：1：100000，则



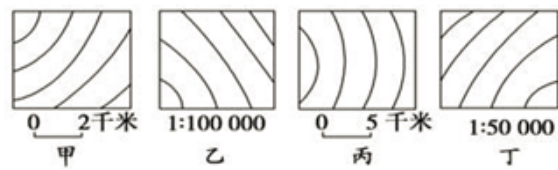
- A. 乙图的比例尺为1：200000
- B. 乙图的比例尺为1：400000
- C. 乙图表示的事物较甲图详细
- D. 甲图比例尺是乙图的4倍

39. 下图中，（a）为某校地理小组设计的校园景观指示牌，（b）为校园图局部。指示牌在（b）中的位置是



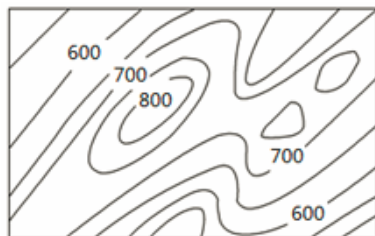
- A. ①
- B. ②
- C. ③
- D. ④

40. 下图中，甲、乙、丙、丁四图的等高距相同，其中坡度最大的是



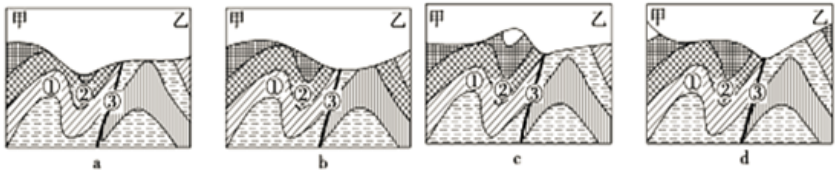
- A. 甲
- B. 乙
- C. 丙
- D. 丁

41. 下图是某地区等高线地形示意图。据此完成下面小题。

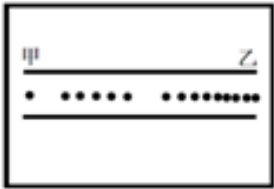


- (1) 图中所示地区山脊的基本走向为
- A. 东北 - 西南向
  - B. 东西向
  - C. 西北 - 东南向
  - D. 南北向
- (2) 图示山体主峰的西北坡地形特征是
- A. 上、下部均陡峭
  - B. 上、下部均平缓
  - C. 上部较陡，下部较缓
  - D. 上部较缓，下部较陡
42. 某地举办攀岩比赛，委托广告公司以所攀登的陡崖的剖面图为主体，设计比赛的宣传海报。在海报完成第一稿之后，举办方认为陡崖的特征表现得不够显著。为使陡崖“险峻”的效果更为突出，绘制第二稿的剖面图时，应采用的做法是
- A. 比例尺不变，适当扩大图幅
  - B. 水平比例尺不变，适当扩大垂直比例尺
  - C. 比例尺不变，适当缩小图幅
  - D. 垂直比例尺不变，适当扩大水平比例尺

某同学骑自行车自甲地向乙地持续行进，该同学利用GPS接收机每间隔60秒自动记录一次位置。图一是考察线路地质剖面图，图二是GPS所记录的位置分布图。据此回答下面小题。



图一



图二

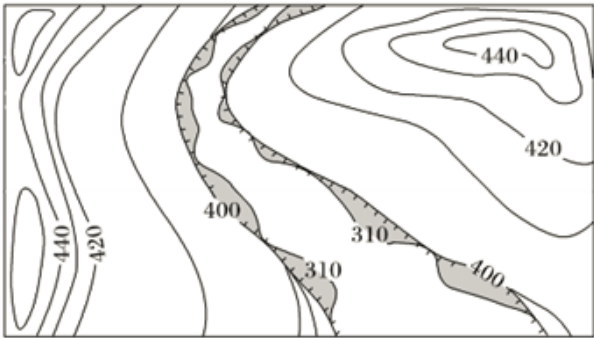
(1) 图一中①、②、③所对应的地质构造依次是

- A. 向斜、背斜和断层
- B. 断层、向斜和背斜
- C. 背斜、向斜和断层
- D. 背斜、断层和向斜

(2) 图一中与图二相对应的剖面图是

- A. a图
- B. b图
- C. c图
- D. d图

44. 等高线图可以反映一个地区的地貌特征，下图为某地区等高线（单位：m）图。读图回答下面小题。



(1) 图中两条400米等高线之间部分表示的地形是

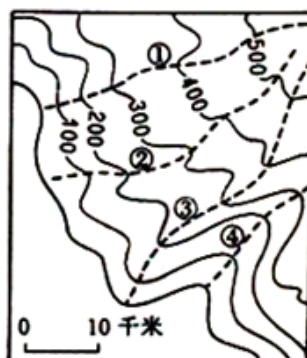
- A. 山脊
- B. 陡崖
- C. 峡谷
- D. 盆地

(2) 图中310米等高线相邻的灰色部分最可能是

- ① 崩塌堆积物
- ② 突出的岩体
- ③ 河中的沙洲
- ④ 低矮的山峰

- A. ①②
- B. ②③
- C. ③④
- D. ①④

45. 读“某区域等高线图”回答第下面小题。



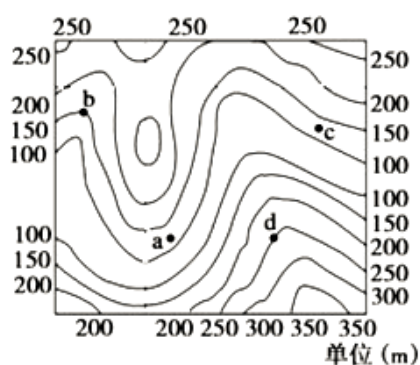
(1) 图示地区

- A. ③线适合筑路
- B. ④地适合晒盐
- C. 河流多为自北向南流
- D. 地貌为岭谷相间分布

(2) 图中虚线为流域界线的是

- A. ①②
- B. ③④
- C. ①③
- D. ②④

46. 读图完成下面小题。



(1) 图中a、b、c、d四点中，可能形成小溪的是

- A. a
- B. b
- C. c
- D. d

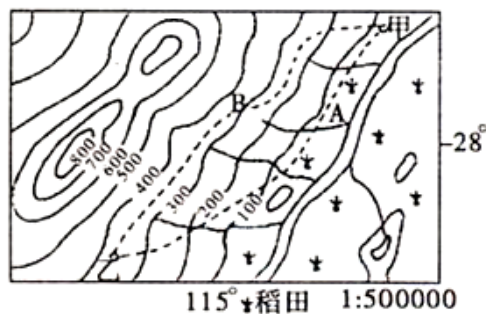
(2) 若该地位于某水库库区，水库蓄水达到155米后，该图范围内将出现的情况是

- A. 小部分面积被淹，将出现一个岛
- B. a、b、c、d四地居民都不必搬迁
- C. 出现两个小岛，b、c、d三地被水淹没
- D. a、b、c、d四个居民点中，d居民点可以不搬迁

47. 新疆天山的牧民季节性地在冬、夏牧场之间转场。下图中四条转场线路最合理的是

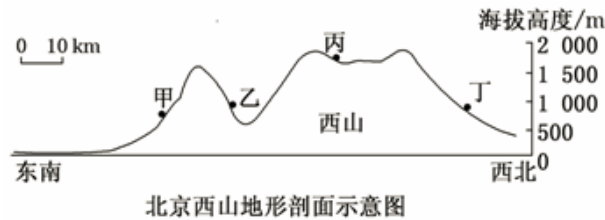
- A. ①
- B. ②
- C. ③
- D. ④

48. 下图为我国某区域等高线地形图（虚线表示拟建的公路线），在甲、乙两城镇之间修建一条公路，有A线和B线两个方案，与A线相比，B线的有利条件是



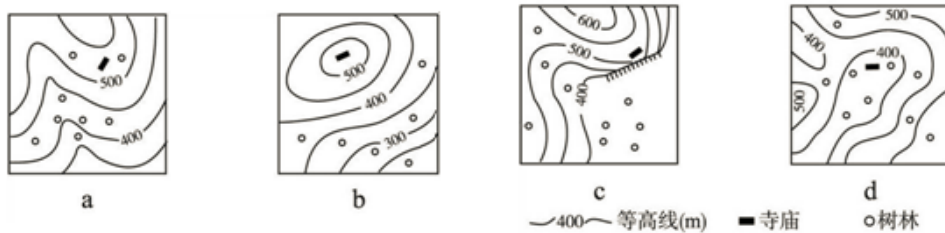
- A. 海拔较低
- B. 线路较短，工程量小
- C. 不用修大型桥梁，少占耕地
- D. 连接多个居民点，社会效益大

49. 板栗属于喜光、喜暖的落叶阔叶树种，是北京西山地区重要的经济林木。在图中，甲、乙、丙、丁四地之中，最适宜大面积栽种板栗的是



- A. 甲
- B. 乙
- C. 丙
- D. 丁

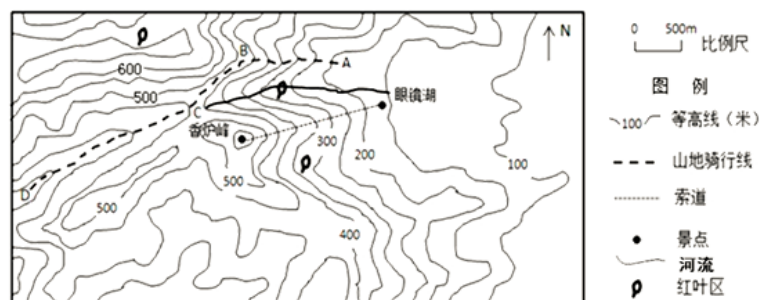
50. 下图的四幅等高线地形图中，能体现“深山藏古寺”意境的是



- A. a
- B. b
- C. c
- D. d

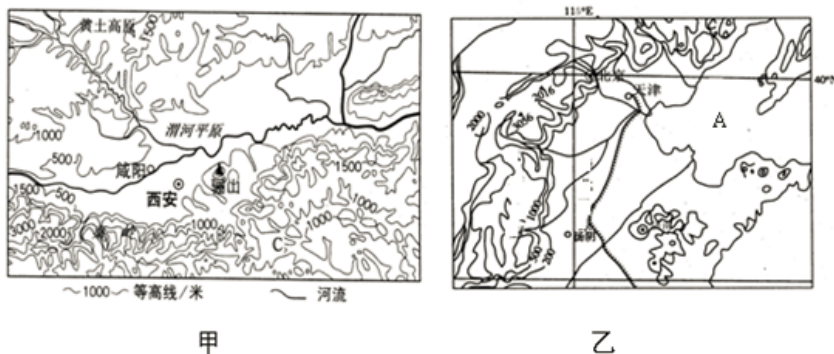
## 材料题

51. 香山是北京著名的森林公园，是登山、赏红叶的胜地之一。下图为香山地区地形图。读图回答下列问题。



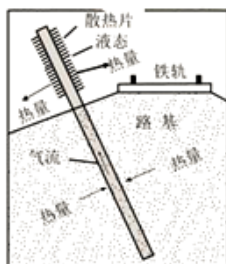
- (1) 量算图中索道的水平实际距离，并估算其相对高度的数值范围。
- (2) 图中的河流由C处流入眼镜湖。由C到红叶区的河段与由红叶区到眼睛湖的河段相比，哪一个河段流速较快？
- (3) 估算香炉峰顶的海拔高度。游客站在香炉峰顶环视一周，判断游客能否看到三个方向的红叶景区，并说明原因。
- (4) 有户外运动爱好者设计了一条自A点开始依次经过B、C、D三点的山地骑行路线，分别说出AB段和CD段所经过的地形部位。
- (5) 骑手保持匀速骑行，AB段的骑行时间较CD段长。说明AB段骑行时间较长的原因。

52. 根据图和资料, 回答下列问题。



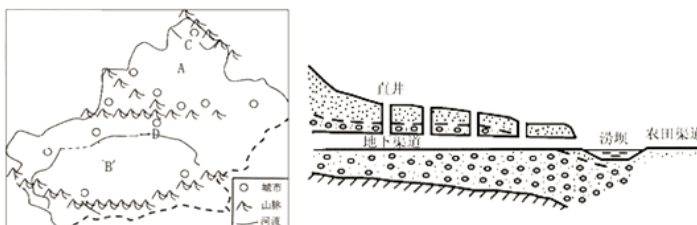
- (1) 描述甲图所示区域地形区分布特征。
- (2) 说出图乙中A海区的名称。
- (3) 指出乙图中山脉重要的地理界线意义。

53. 读图，回答问题。



- (1) 左图中阴影部分为我国三江源自然保护区，该自然保护区位于哪一个省级行政区？\_\_\_\_\_（填省级行政区的简称）。A、B、C中表示长江的是：\_\_\_\_\_；该区域成为众多大河发源地的主要原因是\_\_\_\_\_。
- (2) D河流的名称：\_\_\_\_\_，该河流谷地处于地壳运动活跃的地带，与地壳活动相关的清洁能源是\_\_\_\_\_。左图所示区域清洁能源资源丰富，除了上述能源外，该区域还有哪些清洁能源？\_\_\_\_\_、\_\_\_\_\_。
- (3) 左图所示区域居民日常衣着最显著的特征是袖子宽长，白天多脱掉一袖或双袖，盘扎于腰间。这样穿着的目的是为了适应当地\_\_\_\_\_（选择填空）。
- A. 气候寒冷的特点                      B. 气候干旱的特点
- C. 昼夜温差大的特点                      D. 日照强烈的特点
- (4) 左图中的铁路线为\_\_\_\_\_线，该线路采取了热棒技术克服路基变形问题。右图为热棒的工作原理，通过上下端吸热散热，实现“主动降温，冷却路基”。该路段路基容易变形的原因是\_\_\_\_\_。

**54.** 读“中国山脉示意图”及“坎儿井原理图”，完成下列要求。





- (1) A地形区南侧山脉的名称为 \_\_\_\_\_，该山脉的迎风坡降水较丰富，水汽主要来源于 \_\_\_\_\_ 和 \_\_\_\_\_。
- (2) B地形区内有我国最大沙漠 \_\_\_\_\_，该地形区沙漠广布的主要原因是 \_\_\_\_\_。
- (3) C河和D河之中，属于内流河的是 \_\_\_\_\_。
- (4) B地形区的城市主要分布在 \_\_\_\_\_。坎儿井是当地古老的引水工程，坎儿井由直井、地下暗渠等部分组成，直井用于开掘时出土和通风；地下暗渠则用以输水供人饮用或发展农业生产。坎儿井中的水主要来自 \_\_\_\_\_，用地下暗渠输水，而不是直接在地上开明渠输水的目的是 \_\_\_\_\_。