

2017~2018学年北京西城区北京师范大学附属实验中学高二上学期期末历史试卷

选择题

1. 观察下图，下列选项中不符合本时期的史实是



- A. 泉州被誉为世界第一大港
B. 地方实行行省制
C. 赵孟頫的行书备受世人喜爱
D. 古代经济重心没有完全南移

2. 春秋战国时期是重大的社会转型期，这一时期的变化有

- ①从土地国有到土地私有
②从石器锄耕到铁犁牛耕
③从贵族政治到官僚政治
④从学在官府到学在民间

- A. ①②④
B. ①②③
C. ①③④
D. ①②③④

3. “士”原是西周贵族的一个等级，到春秋战国时期该阶层发生了很大变化。士阶层的崛起从本质上反映了

- A. 养士之风盛行
B. 百家争鸣局面的出现
C. 宗法制，分封制的瓦解
D. 私学的兴起

4. 战国时一位思想家认为：挺直的木材，不需要矫直，因为它的本性挺直；弯曲的木材，必定需要蒸烤、矫揉，才能挺直。一般人的本性恶劣，必定需要圣人的礼义教化，才能归于善良。这位思想家是

- A. 孟子
B. 韩非子
C. 荀子
D. 庄子

5.

某古代水利工程“旱时引水浸润，雨则杜塞水门”，“水旱从人，不知饥馑”。后来三国时蜀相诸葛亮“征丁十二百人护之”，据此判断，这项水利工程是

- A. 都江堰 B. 郑国渠 C. 灵渠 D. 芍陂

6. 柏杨称商鞅变法是在黄金大时代的一次惊心动魄的大魔术。这次变法使秦国

- A. 出现迁徙与择业的相对宽松环境 B. 私人工商业经济得到迅速发展
C. 士人阶层冲破束缚出现思想争鸣 D. 创建新权力结构实现富国强兵

7. 先秦时期，科技文化成就斐然，下列各项不属于这个时期的是

- A. 留下了世界上最早的哈雷彗星记录 B. 编出了世界上现存最古老的星表
C. 书法艺术由自发开始进入自觉阶段 D. 出现了世界上最早的指南仪器

8. 下图是中国某一时期的政治形势图，该时期应是



- A. 战国晚期 B. 西汉初期 C. 西汉晚期 D. 东汉初期

9. 汉武帝时期，大一统局面形成，主要表现在

- ①颁布推恩令，解决王国威胁
②中枢机构内外相制，加强君权
③独尊儒术，加强了思想控制
④广设羁縻州府，管辖民族地区

- A. ①②③ B. ①②④ C. ②③④ D. ①②③④

10. “公元9年，西汉人口达到6000万，帝国粮仓囤积的粮食已经多得吃不完了”。下列史实与上述现象无关的是

- A. 政府在黄河流域大力营建灌溉渠系 B. 耦犁、代田法等先进耕作方式的推广
C. 先进的播种工具耒车的使用 D. 统治者重视农业生产，推行均田制

11. 以下关于秦汉时期所取得的科学技术成就的叙述，正确的是

- A. 西汉的“蔡侯纸”便于书写，是书写材料的革命
B. 西汉的《汜胜之书》是我国现存最早最完整最系统的农业著作
C. 东汉张仲景的《黄帝内经》创造性地提出了辩证施治的方法

D. 中国古代以计算为中心的数学形成了完整的体系

12. 唐太宗晚年曾自我评价：“济育苍生，其益多；平定寰宇，其功大；益多损少，人不怨。”唐太宗的主要功绩有

- ①重用人材，善于纳谏
- ②文德治国，完善科举
- ③不夺农时，轻徭薄赋
- ④崇尚佛教，敕封活佛


- A. ①②④ B. ①③④ C. ①②③ D. ②③④

13. 下表为唐江南九州户数表（单位：户），由此可知

州名	苏州	鄂州	洪州	饶州	吉州	衡州	邵州	泉州	汉州
开元户数	68093	19190	55404	14062	34381	13513	12330	30754	477
元和户数	100808	38618	91129	46116	41025	18047	18000	35571	889

- A. 经济重心已经转移到南方
B. 江南经济进一步开发
C. 北方人口大量锐减
D. 江南农业比工商业发达

14. 下图为新疆吐鲁番出土的唐景龙四年（710年）抄本《论语郑氏注》（部分），12岁的作者在旁边留有小诗：“写书今日了，先生莫嫌迟。明朝是假日，早放学生归。”由此文物可佐证



- A. 唐太宗推行“崇儒尊孔”的国策
B. 《四书章句集注》已成为考试用书
C. 唐朝人普遍用诗歌表达生活体验
D. 汉文化在西北边疆地区有所传播

15. 宋仁宗（1022-1063年在位）时，大臣富弼说：“自来天下财货所入，十中八九赡军（供养军队），军可谓多矣，财可谓耗矣。”这种状况的影响是

- A. 加重财政负担造成积贫局面
B. 扭转了在边境的军事弱势
C. 造成了武将拥兵割据的问题
D. 抵消了王安石变法的成果

16. 北宋神宗时期，王安石回击对新法的质疑：“举先王之政，以兴利除弊，不为生事；为天下理财，不为征利。”下列属于他针对时弊并采取的相应“理财”措施是

- A. 私田出现——均田制
B. 商贾囤积——市易法
C. 边防危机——将兵法
D. 土地兼并——免役法

17. 费正清在其著作《中国：传统与变革》中提出了这样的观点：宋朝经济的大发展，特别是商业方面的发展，或许可以恰当地称之为中国的“商业革命”。下列史实能作为其论据的是

- ①城市商业活动从封闭的“市”中解放出来
②贵金属白银成为主要的流通货币
③柜坊，飞钱开始出现
④世界上最早的纸币“交子”的出现

- A. ①②
B. ②③
C. ①④
D. ②④

18. 据《东京梦华录》等记载，宋代都城多见“当街列床凳，堆垛冰雪”出售凉食和专向客商出租铺席宅舍等现象。这反映了

- A. 生活习俗改变
B. 城市商业功能增强
C. 官府鼓励经商
D. 经商方式不受限制

19. 宋以前，印刷刊行的主要是日历、佛经。宋初，在宋太宗的主持下，大量编印出版典籍，并着手编纂一套权威版本的经典文本。至继任的宋真宗时，刊印了《七经义疏》，共165卷。民间刊印儒学经典的数量也大量增加。以上现象

- ①推动了活字印刷术日臻完善
②促进了儒学思想的广泛传播
③有利于社会文化水平的提高
④强化官营印刷业的垄断地位

- A. ①③
B. ①④
C. ②③
D. ②④





20. 西方学者称中国古代某学说为“Neo-Confucianism”，这是一种融儒家、佛教和道教等诸因素于一体的哲学，提供了一套维护儒家伦理秩序的形而上学体系。该“学说”是指

- A. 孔孟儒学
B. 董仲舒的新儒学
C. 程朱理学
D. 明末清初的儒学

21. “元起朔方，固已崇尚释教（佛教），及得西域，世祖以其地广而险远……思有以因其俗而柔其人，乃郡县土番之地，设官分职，而领之于帝师。”这里的“官”隶属于

- A. 宣政院
B. 中书省
C. 理藩院
D. 行中书省

22. 元朝王桢的《农书》被称为中国古代四大农书之一，书中最有特色也最有价值的是占全书4/5的《农器图谱》部分，收录农业和手工业工具100多种，绘图306幅。下列各项中反映元朝新技术成就的是

- A. 
水排
B. 
曲辕犁
C. 
D. 

23. 明代私家藏书目录突破以往范围，收录了官修藏书目录中较少涉及的小说曲艺类典籍。由此可知
- A. 小说戏曲适应各阶层欣赏要求 B. 官修编目冲破了传统思想的影响
- C. 小说戏曲的价值受到部分肯定 D. 官修藏书目录全面反映社会需求

24. “上联：溯姚江一派，斯为正印；下联：集心学大成，共仰宗师。”此对联评价的是

A. 董仲舒 B. 朱熹 C. 王阳明 D. 顾炎武

25. 清初，内阁是协助皇帝办事的最高中枢机构，设大学士、学士若干名。军机处建立后，皇帝常调大学士办事，形成“大学士必充军机大臣，始得预政事”的惯例，内阁不过“秉成例成行”，办理日常公务。这表明
- A. 内阁大权旁落，名存实亡 B. 内阁成为军机处下属机构
- C. 内阁仅负责处理例行事务 D. 内阁通过军机处行使职权

26. 清朝前期，中国出现了人口迅猛增长的现象。对下表解读正确的是

年代	人口（亿）	耕地（亿亩）	人均耕地（亩/人）
1650年	1-1.5	6	6-4
1750年	2-2.5	9	4.5-3.6
1850年	4.1	12.1	2.95

- ①重农政策促进耕地增长
- ②康乾盛世为人口增长创造了条件
- ③当时中国人地矛盾突出
- ④战败割地造成了人均耕地的减少

A. ①②③ B. ①②④ C. ①③④ D. ②③④

27. 乾隆25年，为禁止官民私自出海，向中国商人发放海外渡航证明书，并规定由特许“公行”统一管理对外贸易一切事务。这主要是为了

A. 保护中国商人经济安全 B. 扩大海外贸易

C. 严格限制中外贸易往来 D. 打击海上走私活动

28. 以下经济现象，出现最早的是

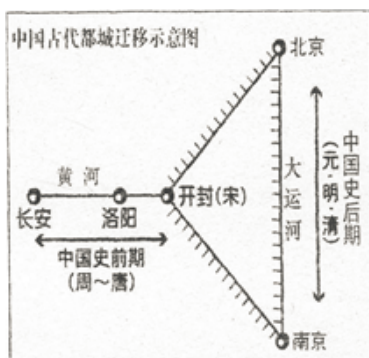
A. “庶人食力，工商食官。”

B. “乃作翻车，令童儿转之，而灌水自覆。”

C. “街南桑家瓦子……瓦中多有……饮食、剃剪、纸画、令曲之类。”

D. “时商贾至京师……以轻装趋四方，合券乃取之，号‘飞钱’。”

29. 读下图，以下关于从秦朝到清朝都城和畿辅地区的叙述，正确的是



- A. 手工业和商业发达是建都的原因
B. 缺乏防范敌人进攻的天然屏障
C. 水利工程是都城经济的重要支撑
D. 地理位置偏僻不利于控制中原

30. 读下图，判断下列描述正确的是



- A. 汉武帝时①成为陆上丝绸之路的起点
B. ②是隋朝大运河中心，也是政治中心
C. 元朝时③瓷窑众多，成为著名的瓷都
D. 清政府在④处特许商行专营对外贸易

31. 以下关于中国古代文化的表述，正确的是

- A. 甲骨文是“字母文字”，具有记事功能
B. 北宋《清明上河图》追求“得意忘形”
C. 王羲之的行书作品兼具审美与实用价值
D. 京剧是宋元时期流行的主要艺术形式

32. 下面文艺作品中，与市民阶层的产生无关的是

- A. 《子虚赋》
B. 《雨霖铃》
C. 《窦娥冤》
D. 《红楼梦》

材料题

33. 中国是一个历史悠久国家，在制度建设上体现了高超的政治智慧。阅读下列材料，回答问题。

材料一

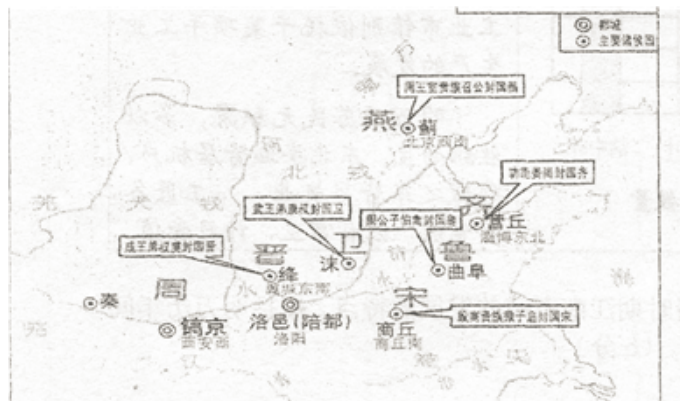


图 1



图 2

材料二



图 3

图 4

材料三



图 5 少年康熙

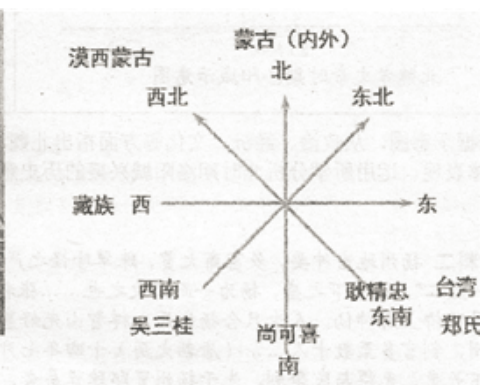


图 6 康熙巩固统一多民族国家示意图

(1) 阅读图1至图2，以地方政治制度的演变为视角，结合所学，对地图中所蕴含的历史信息进行解读。

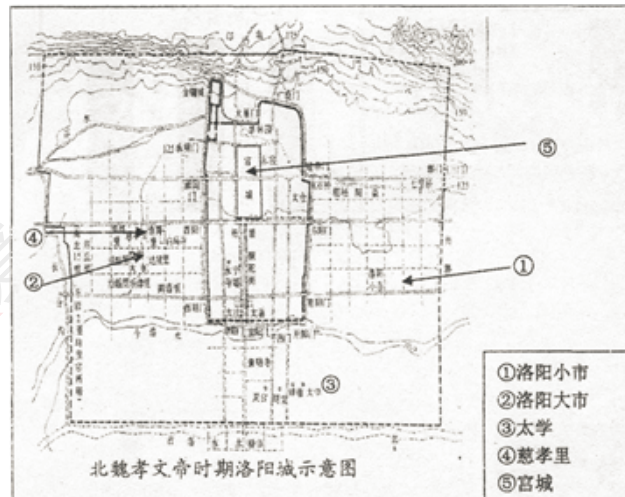
要求：提取信息充分；总结和归纳准确、完整；解释和分析逻辑清晰。

- (2) 判断图3、图4反映的历史时期，归纳这两个时期中央机构设置的特点及其作用。
- (3) 十七世纪中叶至十八世纪中叶，是中国作为一个统一多民族国家形成过程的最后阶段，少年即位的康熙在此过程中居功至伟。请结合图片及所学，说明康熙是如何处理巩固统一多民族国家的。

34. 城市、城镇的发展，反映出社会的进步。阅读材料，回答问题。

材料一

洛阳是中国古代著名的城市，西晋后一度衰落，北魏统治时期洛阳再次走向兴盛。

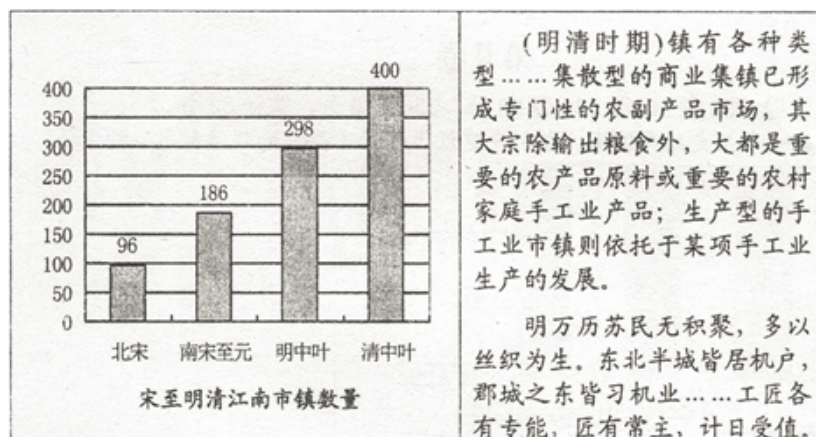


材料二

扬州地当冲要，多富商大贾，珠翠珍怪之产……商贾如织。故谚称“扬一益二”，谓天下之盛，扬为一而蜀次之也……张祜诗云：“十里长街市并连，月明桥上看神仙。人生只合扬州死，禅智山光好墓田”。唐置盐铁转运使在扬州，判官多至数十人……（唐朝大历）十四年七月，（朝廷）令王公百官及天下长吏，无得与民争利，先于扬州置邸肆贸易者，罢之。

——摘编自《旧唐书》、《唐会要》、（宋）洪迈《容斋随笔》

材料三



- (1) 依据材料一示意图，从政治、经济、文化等方面指出北魏孝文帝时期洛阳城兴盛的具体表现。运用所学分析此时期洛阳城兴盛的历史意义。
- (2) 依据材料二，提炼反映唐代扬州经济状况的信息。结合所学，依据材料，分析唐代扬州经济繁荣的原因。
- (3) 依据材料三，指出明清时期江南市镇的发展的特点。概括明万历年间苏州丝织业呈现出的新现象。

35. 1602年，明末思想家李贽在狱中自尽身亡。阅读材料，回答问题。

人之是非，初无定质……咸以孔子之是非为是非，故未尝有是非耳。

——李贽《藏书》

夫童心者，绝假纯真，最初一念之本也。若失却童真，便失却真心；失却真心，便失却真人……故谓人有男女则可，谓见（见：见识）有男女；岂可乎？谓见有长短则可，谓男子见尽长，女子见尽短，又岂可乎？

——李贽《焚书》

- （1）据材料概括李贽的基本主张，指出这些主张产生的时代背景。
- （2）有学者认为，李贽的著作尽管在当时影响很大，但并没能在历史上开拓出一条新路。结合明清之际中国社会的实际状况，从政治、经济 and 思想三方面予以说明。

