

2017~2018学年北京西城区北京师范大学附属中学高一上学期期末政治试卷

选择题

1. 下图中，货币执行的职能是



- A. 世界货币
- B. 贮藏手段
- C. 价值尺度
- D. 流通手段
2. 2016年中国在部分地区试点“一元券硬币化工程”，用一元硬币替代一元纸币；2015年丹麦公布了关于“无现金社会”的议案，计划用电子货币代替纸币；长期的恶性通货膨胀导致委内瑞拉货币面值极高，2008年该国政府发行新的货币，新币与旧币的兑换比例是1：1000。上述三个国家的方案和措施都
- ①体现了国家拥有发行货币的权力
- ②改变了货币衡量的商品价格
- ③可以稳定物价，控制通货膨胀
- ④能方便交易行为，降低货币使用成本
- A. ①③
- B. ①④
- C. ②③
- D. ②④

3. 人民币外汇牌价（人民币/100美元）

时间	美元	人民币
2010年12月31日	100元	662．27元
2016年4月22日	100元	648．98元

上表情况说明

- A. 外汇汇率降低，美元币值下降，人民币币值上升
- B. 外汇汇率升高，美元币值上升，人民币币值下降
- C. 外汇汇率升高，美元币值下降，人民币币值上升
- D. 外汇汇率升高，美元币值上升，人民币币值下降

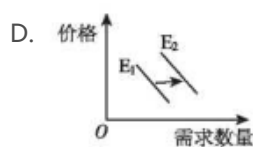
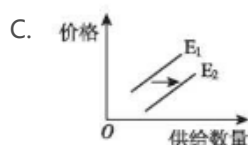
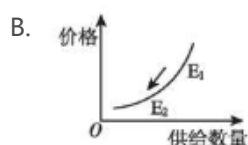
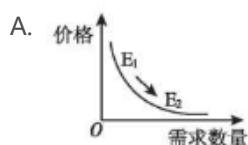
4. 武夷山名茶“大红袍”因为稀有而千金难求。素有“大红袍之父”称号的武夷山制茶大师陈德华先生，他监制“大红袍”的制工艺流程，被确定为国家非物质文化遗产，其亲制的一款60克重的“大红袍”拍出56万元的天价。该茶之所以能够拍出如此高价，是因为

- A. 个别劳动时间多
- B. 使用价值特殊
- C. 参加拍卖者的收入高
- D. 产品稀缺与耗费的劳动量大

5. 当价格发生变化时，不同商品的需求量对价格变动的反映程度是不同的。以下四种产品，最有需求弹性的是

- A. 照明用电
- B. 自来水
- C. 大米
- D. 某品牌的咖啡

6. 随着科技进步，生产某商品的劳动生产率不断提高。不考虑其他因素，若将这一情况对该商品的影响用图形描绘出来（E1表示劳动生产率提高前，E2表示劳动生产率提高后），正确的是



7.

居民消费是不断变化的，人们通常所说的“三大件”的变化就是生动的事例。在二十世纪五六十年代，“三大件”是指缝纫机、手表和自行车。以后的“三大件”逐渐演变为彩色电视机、冰箱和洗衣机；电话、空调、电脑：轿车、房子和旅游。“三大件”的变化反映了

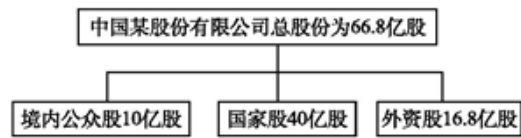
- ①人们越来越追求身心愉悦和全面发展
- ②经济的发展和收入水平的提高
- ③生存资料消费是最基本的消费
- ④人们的消费行为更加理性

- A. ①②
- B. ①④
- C. ②③
- D. ③④

8. 款式、皮质差不多的一双皮鞋在普通鞋店卖90元，进入大商场柜台，就卖到几百元，却总是有人愿意买。1.66万元的眼镜架，18万元的纪念表，168万元的顶级钢琴，这种近乎“天价”的商品，往往很走俏。价格越高，越受到一些消费者的青睐，这就是凡勃伦效应。这表明

- A. 适合消费心理的价格都是合理的
- B. 消费心理对商品市场有重要影响
- C. 购买商品要关注供求关系的变化
- D. 消费者购物就是为了满足心理需要

9. 公司作为最灵活、最基本、最有效的企业组织形式，对促进经济发展具有非常重要的作用。下图表明



- ①该公司为混合所有制企业
- ②该公司股东按出资比例行使表决权
- ③国有经济是国民经济的主导
- ④股份制有利于扩大公有资本支配范围

- A. ①②
- B. ①③
- C. ③④
- D. ①④

10. 我国美的集团与世界著名企业日本东芝株式会社达成协议，美的集团将通过收购获得东芝冰箱、洗衣机等白色家电业务的控股权。美的集团这一举措的积极意义在于

- ①规避了国际经济风险
- ②提高了资源配置效率
- ③获得了更加广阔的发展空间
- ④增加了企业运营成本

- A. ①③
- B. ①④
- C. ②③
- D. ②④

11. 珠海格力电器股份有限公司总裁董明珠在回答格力成功的原因时说：一个没有创新的企业是一个没有灵魂的企业，一个没有核心技术的企业是一个没有脊梁的企业。材料中董明珠的话启示我们格力成功的主要原因是

- A. 制定了正确的经营战略
- B. 诚信经营，树立了良好的信誉和企业形象
- C. 依靠技术进步、科学管理等手段，形成了自己的竞争优势
- D. 实行强强联合，提高竞争力

12. 人们的消费，从根本上说不是由主观愿望决定的，而是由客观的物质生产状况决定的。下列能够支撑生产决定消费观点的是

- ①生产决定消费对象
- ②生产决定消费方式
- ③生产决定消费的质量和水平
- ④生产是消费的目的

- A. ①②③
- B. ①②④
- C. ①③④
- D. ②③④

13. 某公司拖欠68名员工共计55万元的劳动报酬，员工因此向当地人力资源和社会保障局举报，并在后者的干预下，从公司领到了被拖欠的全部劳动报酬。由此可见，劳动者享有

- ①取得劳动报酬的权利
- ②休息休假的权利
- ③获得劳动安全卫生保护的权力
- ④提请劳动争议处理的权利


- A. ①②
- B. ③④
- C. ②③

D. ①④

14. 2015年6月26日，某省2015年首场大学生暑期工招聘会举行。现场提供上千个岗位，3000多名学生进场，最后仅有80多人与单位达成意向。主要原因是劳动密集型企业提供的多是一线工人或业务员等“蓝领”岗位，不合大学生的“胃口”。这一事实启示我们应


- A. 树立自主择业观
- B. 面对现实，先找份工作，不喜欢再跳槽
- C. 树立竞争就业观
- D. 转变就业观念，把个人兴趣、特长与社会需要统一起来

15. 某居民家庭以工资收入为主，孩子即将大学毕业，正在考虑帮助孩子买房子。下图是该居民几种方式投资比例的最佳组合。根据该居民的情况判断，下列组合正确是



- A. ①储蓄存款 ②股票投资 ③企业债券 ④短期国债
- B. ①企业债券 ②国债投资 ③储蓄存款 ④股票投资
- C. ①股票投资 ②企业债券 ③储蓄存款 ④长期国债
- D. ①长期国债 ②股票投资 ③企业债券 ④储蓄存款

16. 漫画《一年到头》与《一箭穿心》启示我们

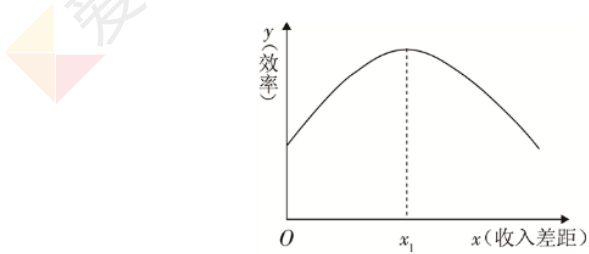


- ①股票风险太大，不应成为投资选择
- ②投资股票不如存款储蓄、购买债券和商业保险
- ③股市有较高的风险，投资需谨慎
- ④投资方式要多元化，综合考虑收益与风险

- A. ①②
- B. ③④
- C. ①③
- D. ②④

17. 想吃美食却不愿意出门，想买票却没有时间排队……悄然兴起的“跑腿一族”都可以帮你完成，跑腿者通过帮人跑腿办事获得收入，该收入属于
- ①初次分配
 - ②再分配
 - ③按劳分配
 - ④按劳动要素分配
- A. ①②
- B. ③④
- C. ②③
- D. ①④

18. 下图表示效率与收入差距的关系，横轴x代表收入差距，纵轴y代表效率，原点O表示绝对的平均主义和绝对的低效率。曲线表示效率随着收入差距的扩大而变化的情况。该图表明



- A. 效率越高收入差距越大
- B. 效率与收入差距成反比
- C. 在 x_1 之前，效率与收入差距成反方向变化
- D. 收入差距扩大到一定程度之后，效率会降低
19. 目前，我国针对影响环境的重点污染源大气、水、固体、噪声等四类污染物征收排污费。新颁布的《中华人民共和国环境保护税法》正式实施后，排污费将转换为环保税，税收收入将全部作为地方的财政收入使用。这一变化
- A. 会增加地方政府的GDP，实现财政盈余的目标
 - B. 凸显了行政手段的作用，督促企业履行环保责任
 - C. 属于分配关系的调整，体现了效率优先的分配原则
 - D. 使环境执法刚性增强，倒逼高污染、高能耗企业转型升级

20. 读下图，经营者“优惠税钱”是一种



- A. 偷税行为
- B. 欠税行为
- C. 骗税行为
- D. 抗税行为

21. 以前中国在科技成果确定股权的过程中的纳税比例比较高, 按照《个人所得税法》规定, 税率最高到45%。2016年9月财政部和税务总局出台文件, 科研人员科技成果转化纳税比例可以下降到20%。这种制度安排的经济意义有

- ①促进我国收入分配公平的实现
- ②使所有劳动者都能获得等量的回报
- ③使科研人员的实际贡献与收入分配相匹配
- ④健全技术要素按贡献参与分配

- A. ①②③
- B. ①②④
- C. ①③④
- D. ②③④

22. 下列选项中, 有利于在收入分配中实现社会公平的是

- ①完善社会保障制度
- ②提高最低工资标准
- ③提高企业增值税税率
- ④调节个人过高收入

- A. ①②③
- B. ①②④
- C. ①③④
- D. ②③④

23.

“十三五”规划提出，要科学谋划好新时期扶贫开发工作，确保贫困人口到2020年如期脱贫；习近平总书记也提出，扶贫开发“贵在精准，重在精准，成败之举在于精准”。我们把“精准扶贫”比喻为“滴灌”，不能“喷灌”“大水漫灌”。从财政角度看，这意味着

- ①加大财政对特定对象的扶持力度
- ②财政收入将会小幅减少
- ③财政的支出结构更加得到优化
- ④紧缩性财政政策的实施

- A. ①③
- B. ①④
- C. ②③
- D. ②④

24. 市场是资源配置的基本手段，这是因为市场能够

- ①比较及时、准确、灵活地传递供求信息，实现资源配置
- ②事先对资源配置做出合理安排
- ③自发地调节生产，刺激企业创新
- ④自发实现效率与公平的有机统一

- A. ①②
- B. ①③
- C. ②④
- D. ③④

25. 随着劳动力价格的上涨，中国传统制造业的“人口红利”正在不断消失。近年来，我国的传统制造企业中逐渐兴起了“机器换人”，“机器换人”是利用机器人、自动化控制设备或流水线自动化对企业进行智能技术改造，实现“减员、增效、提质、保安全”的目的。“机器换人”

- ①可以节约劳动力成本,提高产品质量及生产效率
- ②是推动传统制造业实现产业转型升级的重要举措
- ③意味着企业用工人数减少,必然使我国失业率上升
- ④是传统制造企业经济效益提高的决定因素

- A. ①②
- B. ①③
- C. ②④
- D. ③④

26.

支持价格也称最低价格，是指政府对某些商品价格规定的最低下限，防止价格过低，以表示对该商品生产的支持。限制价格也称最高价格，是指政府对某些商品价格规定的最高上限，防止价格过高，以控制通货膨胀。据此，下列情形合理的是

- A. 政府对铜制品规定最高销售价格，以支持生产企业
- B. 政府对飞机票规定最高销售价格，以激活运输市场
- C. 政府对农产品规定最低收购价格，以保护农业生产
- D. 政府对理财产品规定最低销售价，以抑制通货膨胀

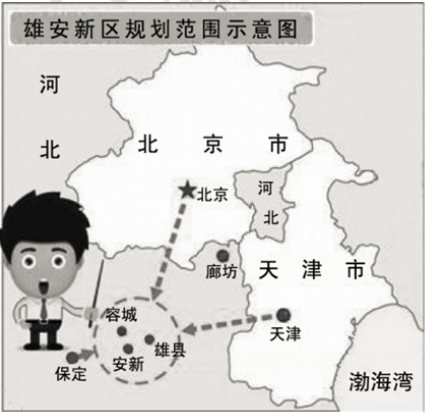
27. 某种玩具娃娃，由中国大陆生产棉质外衣，台湾地区生产塑料身体，日本制作尼龙头发，马来西亚负责组装，最后在美国贴上标签全球销售。这直接反映出

- ①生产全球化
 - ②贸易全球化
 - ③资本全球化
 - ④政治多极化
- A. ①②
 - B. ①③
 - C. ②④
 - D. ③④

28.

雄安自述

未来的我，不是高楼林立的水泥森林，而是蓝绿交织、疏密有度、水城共融、低碳环保的新型城市；不是传统工业和房地产主导的集聚区，而是集聚科研院所和高端高新产业的重要平台。我要集中承接北京非首都功能疏解，为优化京津冀城市布局 and 空间结构作出贡献，促进河北城乡区域和经济社会协调发展，积极融入“一带一路”建设。



根据上面图文，建设雄安新区有助于

- ①疏解北京非首都功能
 - ②探索绿色和创新发展新路径
 - ③促进京津冀协调发展
 - ④增加河北省的行政区域面积
- A. ①②③
 - B. ①②④
 - C. ①③④
 - D. ②③④

29. 绿色GDP，简单地讲，就是从现行统计的GDP中扣除由于环境污染、自然资源退化、教育低下、人口数量失控、管理不善等因素引起的经济损失成本，从而得出真实的国民财富总量。绿色GDP

- ①能够体现经济增长与自然保护和谐统一的程度
- ②能够抑制经济周期性波动带来的供给与需求失衡
- ③可以很好地表达和反映可持续发展的思想和要求
- ④占GDP总量的比重越高，经济增长正面效应越低

- A. ①②
- B. ①③
- C. ②③
- D. ③④

30. 面对当前世界经济和贸易增速不断降低、国际金融市场被动加剧、地区和全球性问题突发多发的外部环境，一些国家开始重拾贸易保护主义，出现“逆全球化”趋势。针对这种现象，我们应该

- ①强化规则意识，提高利用贸易规则的本领
- ②倡导贸易自由，及时的完善全球贸易规则
- ③扩大对外开放，积极融入全球一体化进程
- ④坚持独立自主，扩大国内投资和消费需求

- A. ①②
- B. ①④
- C. ②③
- D. ③④

填空题

31. 在历史的长河中，货币的形态大致经历了实物货币、金属货币、纸币、信用货币的演变过程，但货币的本质从未改变。货币的本质是 _____。

32. 消费水平受很多因素的影响。其中 _____ 是消费的基础和前提。

33. 下图中，3个青年计划开办一家公司。



依据我国相关法律的规定，他们要开办的公司属于 _____ 公司。

34. “小康路上一个都不能掉队。”我国确定的脱贫目标是确保到 _____ 年所有贫困地区和贫困人口一道迈入全面小康社会。

35. 国家取得税收收入，既不需要返还给纳税人，也不需要向纳税人直接付出任何代价。这表明税收具有 _____。

36.



上面漫画中，三个人分别走上了富裕之路。他们的收入都属于按 _____ 分配。

37. 世界贸易组织最重要的原则是 _____ 原则。在这一原则中包括最惠国待遇原则和国民待遇原则。

材料题

38. 微信，是当下流行的移动社交新媒介。阅读材料，回答问题。

材料

利用微信等社交工具进行产品展示与销售的卖家，称为“微商”。由于投入小、门槛低、传播广、足不出户便可推广与销售，微商让许多人实现了创业梦想。2016年，中国微商从业人数超过1500万，交易额突破3600亿元。可是，部分微商在经营中，存在产品造假、广告失实等问题，成为微商又无需实名认证，不用到工商部门注册，出问题后消费者很难维权。于是一些人就把微商叫做“危商”。

结合材料。运用《经济生活》的相关知识，分析微商经营中存在问题的原因，并说明解决措施。

39. 超市的商品陈列，看似简单却在有学问，某超市（见下图）有A、B、C三个区域，需要分别摆放蔬菜水果、洗涤用品和服装，请你提出摆放方案，并运用《经济生活》相关知识说明理由。

