

深圳市皇御苑学校 2015~2016 学年第二学期期中考试

高一地理

出题人：彭培欣 审题人：周晨虹

本试卷分第 I 卷（选择题）和第 II 卷（综合题、选做题）两部分。全卷共计 100 分。考试时间为 50 分钟。

注意事项：

1. 答第 I 卷前，考生务必将自己的姓名、准考证号、考试科目用铅笔涂写在答题卡上。
2. 答第 I 卷时，每小题选出答案后，用 2B 铅笔把答题卡上对应题目的答案标号涂黑。如需改动用橡皮擦干净后，再涂其它答案，不能答在试题卷上。
3. 答第 II 卷时，将答案写在答题卷上。
4. 考试结束，监考人员将答题卡和答题卷收回。

第 I 卷（选择题 共 44 分）

本卷共 11 小题，每小题 4 分，共 44 分。在每小题给出的四个选项中，只有一项是符合题目要求的。

1. 读水循环示意图(图 1)，在水循环的各个环节中，我国的南水北调工程体现了人类活动对下列哪个环节施加影响()

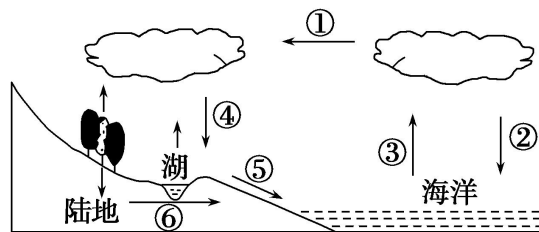


图 1

- A. ① B. ④ C. ⑤ D. ⑥

读某区域洋流图(图 2)，回答 2-3 题。

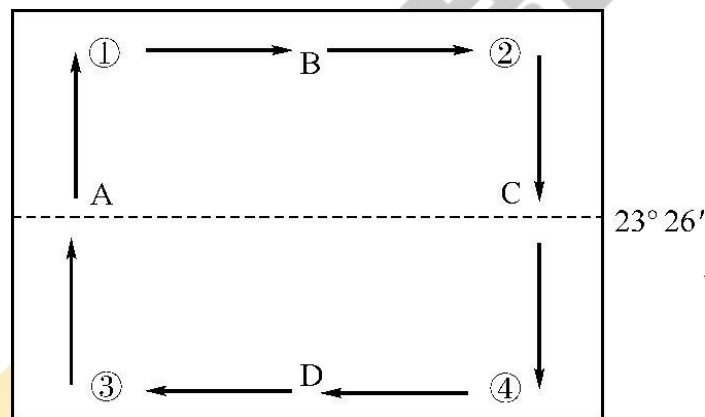


图 2

2. 该大洋环流所处的海域位于

- A. 北半球中低纬度
- B. 北半球中高纬度
- C. 南半球中低纬度
- D. 南半球中高纬度

3. 图中A、B、C、D四支洋流中，其成因与西风密切相关的是

- A. A
- B. B
- C. C
- D. D

近几十年来，水资源不足已成为许多国家经济发展的重大障碍，甚至危及国家安全和民族生存。结合所学知识，完成 4-5 题。

4. 华北地区缺水的自然原因有()

- ①河川径流季节变化大
- ②降水稀少，蒸发量大
- ③多年平均径流总量不足
- ④工农业发达，需水量大

- A. ①②
- B. ①③
- C. ②③
- D. ③④

5. 水资源不足是制约我国北方地区经济发展的“瓶颈”，解决北方地区缺水的可行性措施有

- ①大面积人工降雨
- ②跨流域调水
- ③因地制宜，植树种草，退耕还林，退耕还牧
- ④节约用水，合理用水，防治水污染
- ⑤人工措施融化西北冰川

- A. ①②③
- B. ②③④
- C. ②③④⑤
- D. ①②③④⑤

读地壳物质循环示意图（图 3），完成 6-7 题。

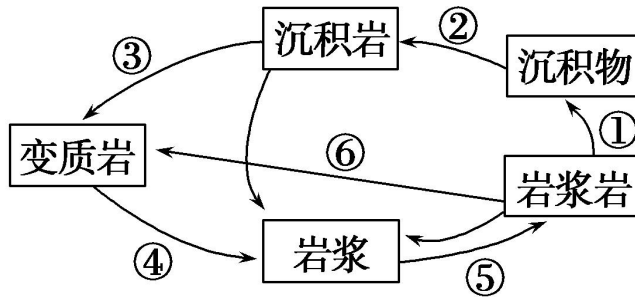


图 3

6. 图中各数字序号，表示外力作用的是()

- A. ①⑥
- B. ②③
- C. ①②
- D. ④⑤

7. 本图对地壳物质循环的描述尚不够完整，以下有关完善本示意图的方案中，你认为最合理的是()

- A. 补充从“沉积岩”“变质岩”到“沉积物”的箭头，标注①
- B. 补充从“岩浆”到“沉积物”的箭头，标注②
- C. 补充从“沉积物”“岩浆”到“变质岩”的箭头，标注⑥
- D. 补充从“变质岩”“沉积岩”到“岩浆岩”的箭头，标注⑤

8. 读甲、乙两地地质构造示意图（图 4），下列关于甲、乙两地地质构造及成因的说法，正确的是()

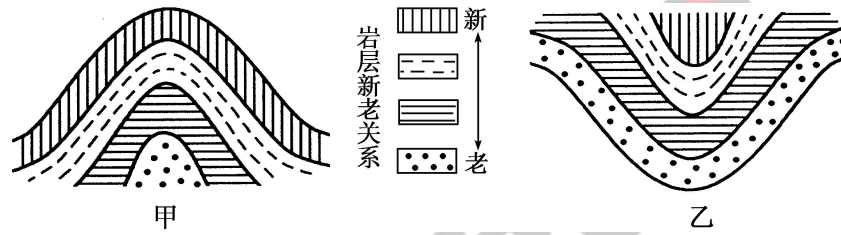


图 4

- A. 甲为背斜，挤压形成；乙为向斜，张裂形成
- B. 甲为背斜，张裂形成；乙为向斜，挤压形成
- C. 甲、乙均为褶皱的基本形态，均由挤压形成
- D. 甲为向斜，乙为背斜，均由挤压形成

9. 下图为某地区人口迁移数量与年龄关系示意图（图 5），从图中判断，影响该地区人口迁移的主要因素最有可能是（ ）

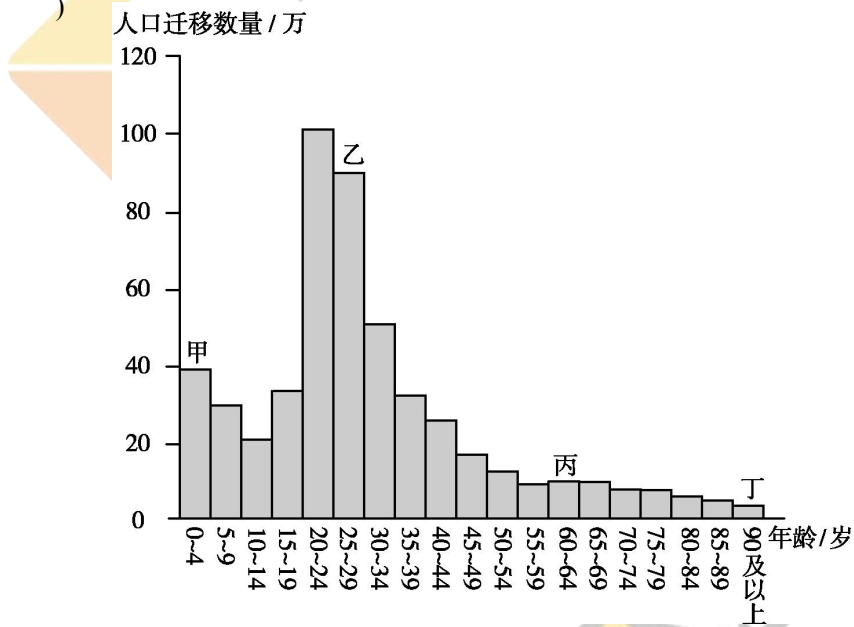


图 5

- A. 人口老龄化
- B. 婚姻家庭
- C. 政治因素
- D. 经济因素

10. 读下图（图 6），从 20 世纪后半叶开始，世界人口进入了快速增长阶段，主要原因是（ ）

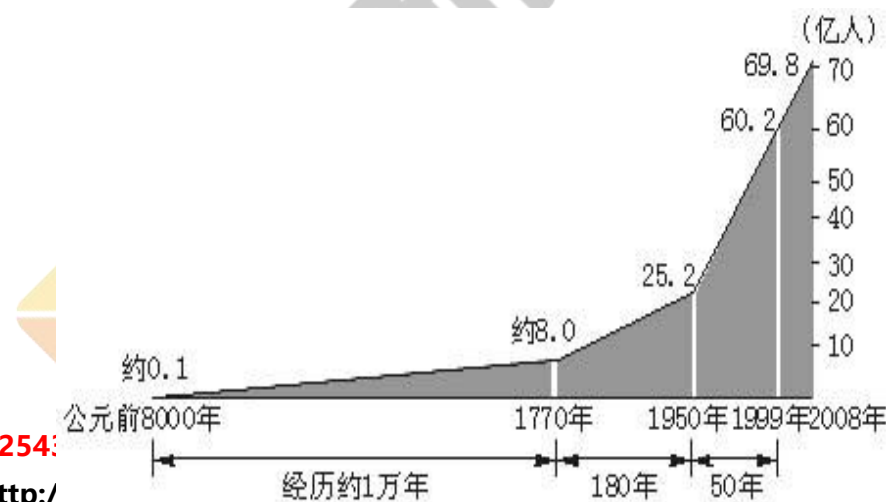


图 6

- A.发达国家人口增长迅速
- B.全世界死亡率降低
- C.发达国家死亡率降低
- D.广大亚非拉国家及大洋洲的人口进入了快速增长阶段

11. 联合国历年发布的“人类发展程度指标(HDI)”,是以“预期寿命、教育水准和生活质量”三项基础变量按照一定计算方法组成的综合指标,用来衡量各国的发展水平.下表为四个国家 2010 年的统计资料,阅读表格,就人口增长模式转变过程的三个阶段而言,最可能已经进入现代型的国家是()

表 人类发展程度指标统计资料

国家	人口密度/ (人·km ⁻²)	HDI	平均寿命/岁	国民平均就学 年数/年	老年人口 比例/%
甲	403	0.385	51.1	3.3	2.98
乙	126	0.385	54.6	4.3	3.41
丙	111	0.719	76.9	10.4	11.04
丁	8	0.719	67.2	8.8	15.26

- A. 甲、乙
- B. 甲、丁
- C. 乙、丙
- D. 丙、丁

第 11 卷 (综合题 共 46 分)

二、综合题

12. (20分) 读我国部分地区自然带分布图(图7), 完成下列各题。

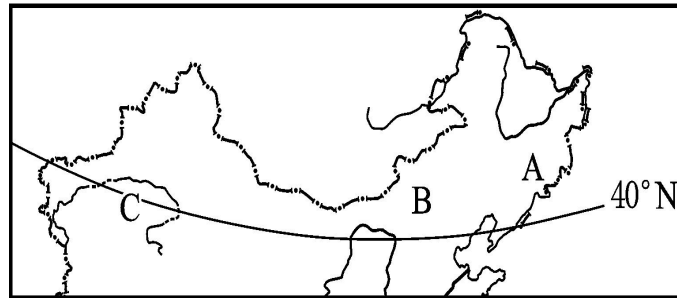


图7 我国部分地区自然带分布图

(1)图中各自然带的名称分别是: A _____, B _____, C _____。(6分)

(2)从图中可以看出, 各自然带大体沿着_____ (填“经”或“纬”)线方向更替, 明显地反映出地理环境_____的地域分异规律, 这一规律的形成是以_____为基础的, 在_____ (填“低”“中”或“高”)纬度地区最明显。(8分)

(3)若从北京到广州, 沿途所见到的自然带景观, 反映出地理环境_____的地域分异

规律, 这一规律的形成是以_____为基础的, 在_____ (填“低”“中”或“高”)纬度地区最为明显。(6分)

13. (26分) 读“世界不同生产力水平国家人口增长图”(图8), 回答下列各题。

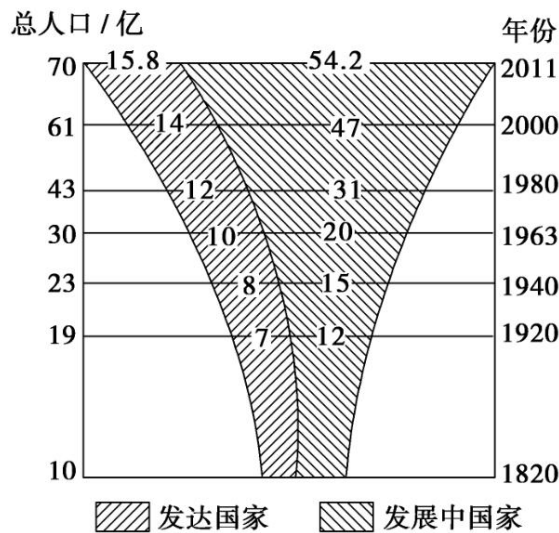


图8 世界不同生产力水平国家人口增长

(1) 1920 前与 1920 后相比较，世界人口增长情况所发生的变化是：

①1920 年前，_____； (2分)

②1920 年后，_____。(2分)

(2) 发展中国家的人口增长，同发达国家的人口增长相比较，特点是_____ (2分) 原因是_____ (4分)。

现阶段，大部分发展中国家所面临的人口问题_____ (4分)

应该采取的人口政策是_____ (2分)

(3) 发达国家人口增长状况带来的人口问题是_____ (4分)，

原因是_____ (4分)

应该采取的人口政策是_____ (2分)。

请考生在第 14、15、16 三道地理题中任选一道题作答，如果多做，则按所做的第一题计分。作答时 用 2B 铅笔在答题卡上把所选题目题号的方框涂黑。

14.(10 分)旅游地理

阅读下列材料，完成下列各题。

材料一：从 1955 年冬开始，崇明县组织围垦滩涂和沙洲。截止 2000 年，全县共围垦滩涂和沙洲 70 多处，累计围得土地面积 500 多平方千米。崇明岛的面积比 1949 年增大了一倍以上。由中国的第四大岛变为第三大岛，成为上海未来可持续发展的战略空间（见图 9）。

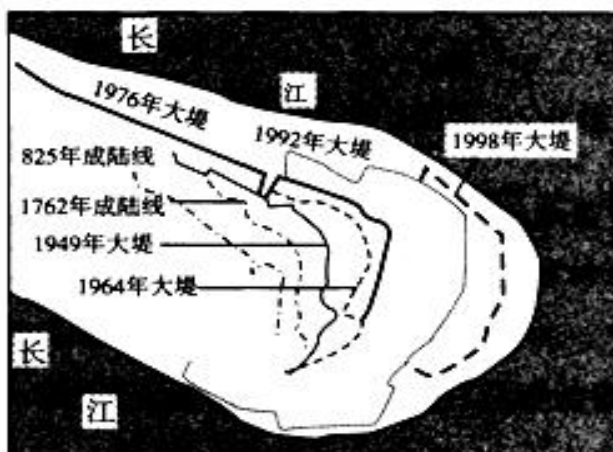


图9 崇明岛东滩成陆线和大堤随时间的变化

材料二：崇明岛位于长江入海口，是我国第三大岛，为亚太候鸟南北迁徙通道上的重要驿站，也是我国东部沿海的重要水禽越冬地，已成为周边地区生态旅游目的地。图10为崇明岛生态旅游资源分布示意图。

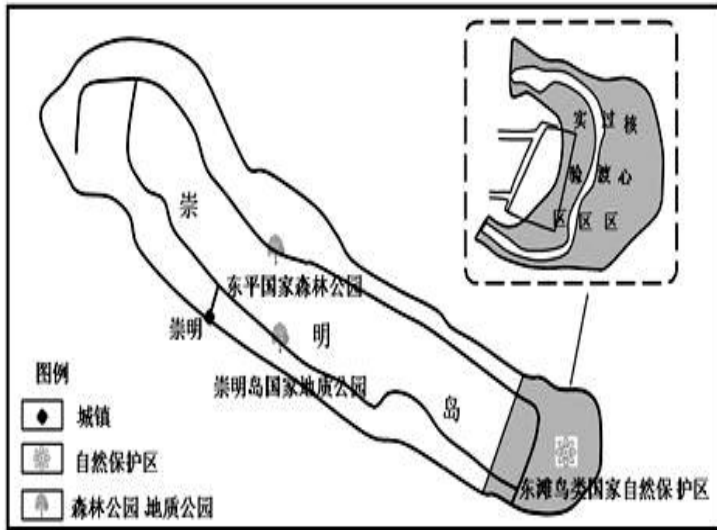


图10 崇明岛生态旅游资源分布示意图

材料三：自然保护区按功能划分为核心区、缓冲区和实验区。核心区是区内保存完好的天然状态的生态系统及珍稀、濒危动植物的集中分布地；缓冲区只准从事科研活动；实验区可开展旅游活动。

(1) 崇明岛东滩陆地面积扩大的大致方向和原因是 () (2分)

- A. 向东北流水沉积
- B. 向西南海浪堆积
- C. 向东地壳抬升
- D. 向南流水侵蚀

(2) 自1998年的新大堤建成后就几乎没有再进行造堤工程，崇明岛东滩的潮滩淤积也有所减缓，其原因是 () (2分)

- ① 不断实施围垦造陆
- ② 长江三峡工程的建设
- ③ 长江水流速度明显加快
- ④ 长江中上游防护林的建设

- A. ①③
- B. ②④
- C. ②③
- D. ①④

(3) 分析崇明岛发展旅游的优势。(6分)

15. (10分) 自然灾害 (地震)

读图 11 回答下列各题。

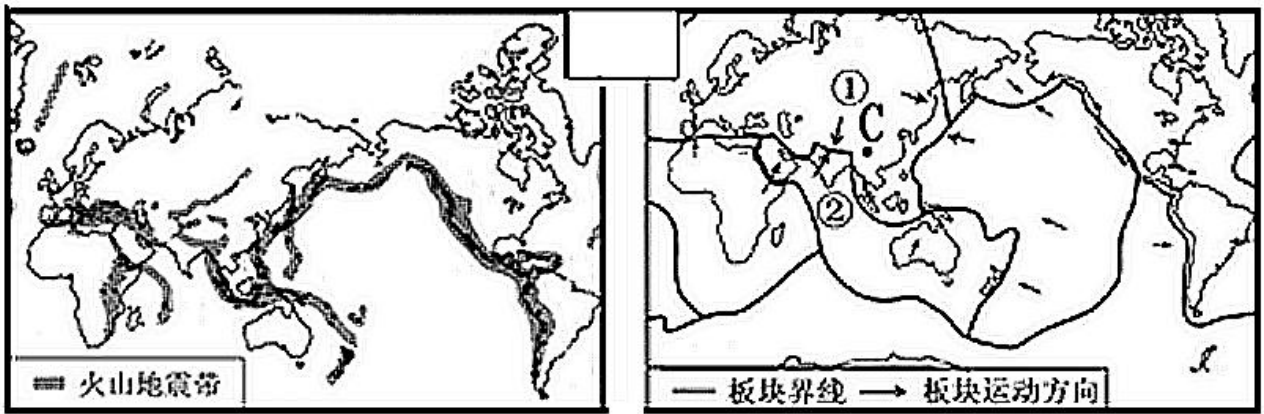
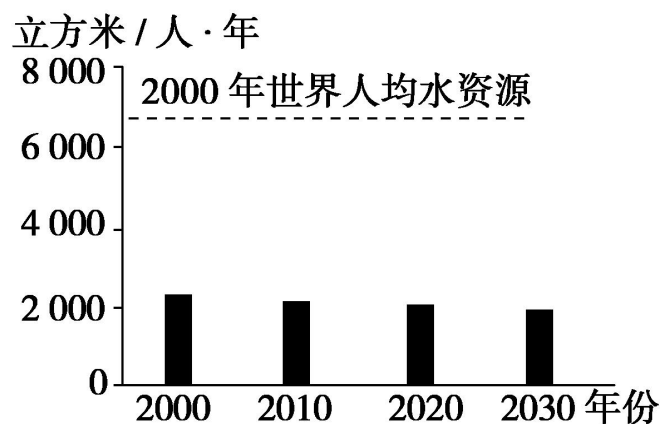
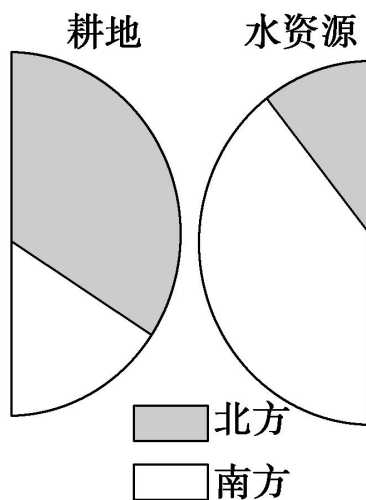


图 11 全球火山地震带分布图和板块构造示意图

- (1) 由图可知，全球主要由_____大板块构成，板块交界地带地壳比较活跃。(2分)
- (2) 四川省汶川县(右图C处)发生的8.0级大地震，主要是因为图中①_____板块和②_____板块发生_____运动(挤压、拉伸)造成的。(6分)
- (3) 当地震发生时，你认为可取的应急措施是_____。(2分)
- ①躲到课桌下面 ②靠墙角蹲下 ③乘电梯逃生
 ④一楼的跑到空旷场地 ⑤跳楼逃生 ⑥躲到洗手间里
- A. ①③⑤⑥ B. ②③④⑥ C. ①②④⑥ D. ①③④⑥

16. (10分)环境保护(水资源)

读图 12、图 13，完成下列各题。



皇御苑学校 2015-2016 学年第二学期期中试题

高一地理参考答案

第 I 卷 选择题（共 11 小题，每小题 4 分，共 44 分）

1	2	3	4	5	6	7	8	9	10	11
C	A	B	B	B	C	A	C	D	D	D

第 II 卷 非选择题（共 2 题，共 46 分）

12. (20 分)

- (1) 温带落叶阔叶林带 (2 分) 温带草原带 (2 分) 温带荒漠带 (2 分)
 (2) 纬 (2 分) 从沿海向内陆或经度地带性 (2 分) 水分 (2 分) 中 (2 分)
 (3) 由赤道到两极或纬度地带性 (2 分) 热量 (2 分) 高、低 (2 分)

13. (26 分)

(1) ①1920 年前，世界人口增长缓慢 (2 分) ②1920 年后，世界人口增长快，发展中国家人口增长尤为明显 (2 分)

(2) 增长很快 (2 分)； 由于政治上的独立，民族经济的发展，医疗卫生事业的进步，死亡率下降； (4 分)

人口出生率高，人口数量增长快，增加对粮食、就业、住房、教育、医疗等方面的压力； (4 分)

限制人口数量，提高人口素质 (2 分)

(3) 人口增长缓慢，缺乏劳动力，人口老龄化，加大社会保障体系的负担，影响经济的发展 (4 分)；
 一方面是出生率低，另一方面是经济发达，医疗卫生水平高，生活保障体系完善，人们的平均寿命延长 (4 分)； 采取鼓励生育，接纳海外移民等政策 (2 分)。

选做题

14. (10 分) 旅游地理

- (1) A (2 分)
 (2) B (2 分)
 (3) 旅游资源独特； 鸟类资源丰富； 近客源市场 (每点 2 分，共 6 分)

15. (10 分) 自然灾害 (地震)

- (1) 六 (2) 亚欧； 印度洋 (印度)； 挤压； (3) C (每点 2 分)

16. (10 分) 环境保护 (水资源)

- (1) 水资源地区分布不均 (2 分)； 人均水资源占有量少，且逐年下降 (2 分)
 (2) B (2 分)

(3) 水污染严重；需水量增长快；用水浪费（答满两点给 4 分）

