

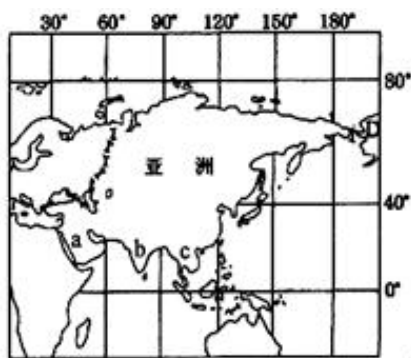
初一地理试卷

(满分: 100分, 考试时间: 60分钟)

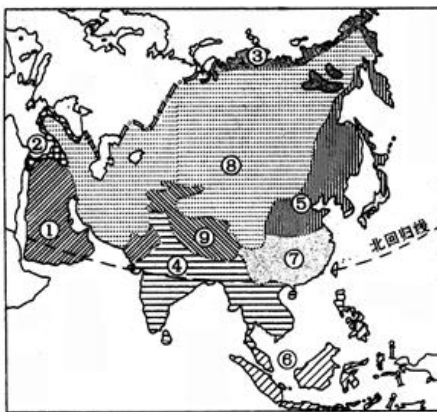
一、单项选择题 (下列各题的四个选项中, 只有一项最符合题目的要求, 每题 2 分, 共 70 分, 将正确答案代号填在后面答案栏内)

读亚洲范围略图, 回答 1-5 题。

1. 关于亚洲的“左邻右舍”, 说法正确的是
 - A. 东邻欧洲, 西临太平洋
 - B. 南望大洋洲, 北临北冰洋
 - C. 东邻北美洲, 西临大西洋
 - D. 东北隔河流与非洲相望
2. 亚洲南北跨越的纬度大约是
 - A. 90°
 - B. 40°
 - C. 70°
 - D. 20°
3. 我们生活的亚洲, 是世界上第一大洲。下面对“世界第一大洲”的说法, 错误的是
 - A. 世界上面积最大的洲
 - B. 世界上跨经度最广的大洲
 - C. 东西距离最长的大洲
 - D. 世界上跨纬度最广的大洲
4. 亚洲南部三大半岛 a、b、c 的名称, 依次是
 - A. 阿拉伯半岛, 印度半岛, 中南半岛
 - B. 印度半岛, 阿拉伯半岛, 中南半岛
 - C. 中南半岛, 印度半岛, 阿拉伯半岛
 - D. 阿拉伯半岛, 中南半岛, 印度半岛
5. 下列区域具有“十字路口”位置的是
 - A. 东亚
 - B. 东南亚
 - C. 南亚
 - D. 中亚



(第 1-5 题图)



(第 6-9 题图)

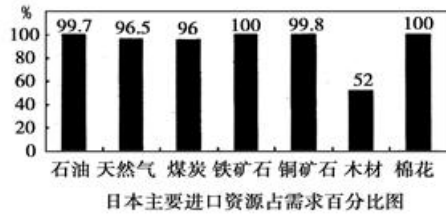
读亚洲气候分布图, 回答 6-9 题。

6. 亚洲气候复杂多样, 但该地区却没有
 - A. 温带大陆性气候
 - B. 温带海洋性气候
 - C. 热带季风气候
 - D. 温带季风气候
7. 南亚地区主要的气候类型是
 - A. 温带大陆性气候
 - B. 温带季风气候
 - C. 热带雨林气候
 - D. 热带季风气候
8. 东南亚居民以单衣薄裙为主。这种衣着习惯主要是受
 - A. 气候的影响
 - B. 物产差异的影响
 - C. 地形的影响
 - D. 经济条件的影响
9. 在西亚沙特阿拉伯, 男子的传统打扮是着长袍、戴头巾, 长袍多为白色、宽大。这些习俗与下列哪一因素有关
 - A. 美观休闲能保暖
 - B. 地形崎岖宜行走
 - C. 炎热干燥多风沙
 - D. 狩猎探险真方便

读日本相关资料图, 完成 10-11 题。



日本地图

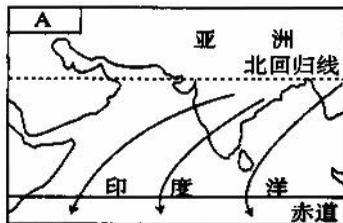


日本主要进口资源占需求百分比图

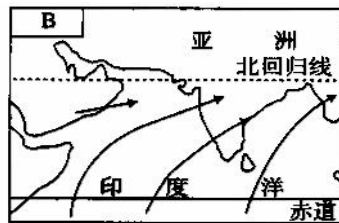
10. 日本的四大岛中，纬度最高的是
A. 本州岛 B. 九州岛 C. 四国岛 D. 北海道岛
11. 关于日本对外贸易的叙述，正确的是
A. 工业原料和工业产品都需大量进口 B. 工业原料和工业产品都需大量出口
C. 工业产品出口多，工业原料进口多 D. 工业产品进口多，工业原料出口多
- 金三角地区是目前世界上毒品的主要产地之一。在贩毒集团的威胁、控制下，许多农民种植罂粟，由贩毒集团收购制作海洛因等毒品销往世界各地。读图回答 12-14 题。
12. 金三角所在地区是
A. 西亚 B. 南亚 C. 东亚 D. 东南亚
13. “金三角地区图”中，与我国接壤的国家是
A. 缅甸和泰国 B. 缅甸和老挝 C. 泰国和老挝 D. 印度和泰国
14. 该地区也是世界著名的热带经济作物产区，主要原因是
A. 种植历史悠久，生产技术水平高 B. 人口稠密，对热带经济作物的需求量大
C. 山区降水丰富，土壤肥沃 D. 湿热气候，有利于热带经济作物的生长



(第 12-14 题图)



(第 15-17 题图)



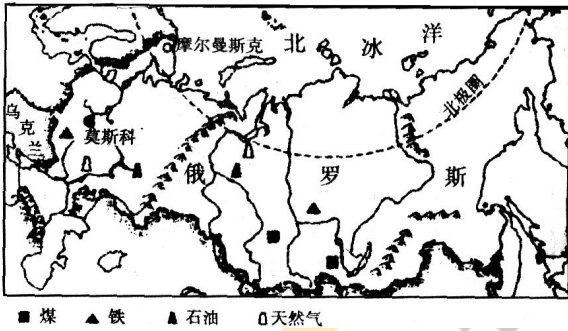
读印度冬、夏季风示意图，回答 15-17 题。

15. 图中表示印度冬季风的是
A. 西北季风 B. 东北季风 C. 东南季风 D. 西南季风
16. 能给印度带来丰富降水的是
A. 从陆地吹向海洋的冬季风 B. 从陆地吹向海洋的夏季风
C. 东北季风 D. 西南季风
17. 受季风影响，印度频繁发生的灾害是
A. 水旱灾害 B. 火山 C. 地震 D. 冻灾

读俄罗斯示意图，回答 18-21 题。

18. 俄罗斯北部濒临的海洋是
A. 太平洋 B. 印度洋 C. 北冰洋 D. 大西洋
19. 俄罗斯大部分地区冬季寒冷而漫长，夏季短促而温暖，其主要原因是
A. 面积太大 B. 纬度较高 C. 森林广布 D. 地形复杂

20. 下列称号，适合俄罗斯的是
 A. 世界加油站 B. 世界办公室 C. 世界造纸厂 D. 世界物流中心
21. 国际上将俄罗斯划分为欧洲国家，原因是
 A. 大部分领土在欧洲 B. 大部分人口、经济和文化中心在欧洲
 C. 居民都是白种人 D. 经济发达



(第 18-21 题图)




(第 22-24 题图)

读非洲地理简图，完成 22-24 题。

22. 一小型油轮从波斯湾沿最短线路到达地中海沿岸，途经
 A. 马六甲海峡 B. 非洲好望角 C. 巴拿马运河 D. 苏伊士运河
23. 撒哈拉以南非洲在东部高原上自南向北分布着一条大裂谷，地质学家称它为
 A. 东非大裂谷 B. 南非大裂谷 C. 刚果盆地大裂谷 D. 北非大裂谷
24. 撒哈拉以南的非洲被称为“黑非洲”的主要原因是
 A. 90%以上是黑种人 B. 盛产黑芝麻等黑色食品
 C. 土地肥沃，呈黑色 D. 人们喜爱黑色

读撒哈拉以南非洲四个国家主要出口商品占本国商品总额的百分比图，回答 25-27 题。

25. 据图中信息可以推断出森林面积广大的是
 A. 赞比亚 B. 博茨瓦纳 C. 尼日利亚 D. 刚果
26. 据图中信息可以推断四国的经济特征都是
 A. 工业十分发达 B. “进口—加工—出口”型经济
 C. 农业十分发达 D. 以单一商品出口经济为主
27. 这些国家根本的经济出路是
 A. 申请国际援助 B. 加大矿产开发力度，增加出口
 C. 扩大耕地面积 D. 振兴民族工业，发展多元经济



(第 25-27 题图)

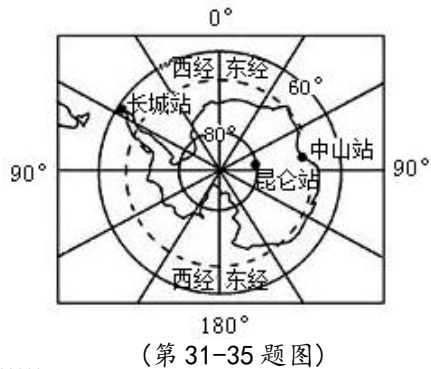


(第 28-30 题图)

读美国农业带分布图，回答 28-30 题。

28. 图中①处五大湖地区，城市和人口密集；气候冷湿，适宜牧草生长。其农业带是
 A. 棉花带 B. 玉米带 C. 乳畜带 D. 小麦带
29. 图中体现的美国农业特点是

- A. 高度机械化 B. 高度商品化 C. 地区专业化 D. 高度工业化
30. 位于旧金山东南的硅谷是美国的
A. 钢铁工业中心 B. 汽车工业中心 C. 高新技术产业中心 D. 石油工业中心
- 读南极洲略图，回答 31-35 题。
31. 如果去南极考察，最适宜的时间是
A. 3、4、5 月 B. 6、7、8 月
C. 9、10、11 月 D. 12、1、2 月
32. 我国南极科考站中，纬度最高的是
A. 昆仑站 B. 中山站
C. 长城站 D. 黄河站
33. 下面是四个同学描写的南极地区画面，请判断哪一
得最准确
A. 到处绿树成荫，鸟儿欢叫，鲜花、野果漫山遍野……
B. 深山老林，狂风呼啸，阴森恐怖……
C. 洁白的世界，冰积如山，狂风暴雨……
D. 滴雨不下，冰山漂浮，狂风呼啸……
34. 下列动物中，属游禽，不会飞，为南极洲的代表动物是
A. 企鹅 B. 磷虾 C. 海豹 D. 海象
35. 如果你是一位光荣的科考队员，请判断下列不符合南极考察内容的是
A. 热带森林生态系统考察 B. 海洋生物资源考察
C. 矿产资源、淡水资源考察 D. 原始自然环境考察



位描写

选择题答案栏（每题有且仅有一个正确答案，每题 2 分，共 70 分）

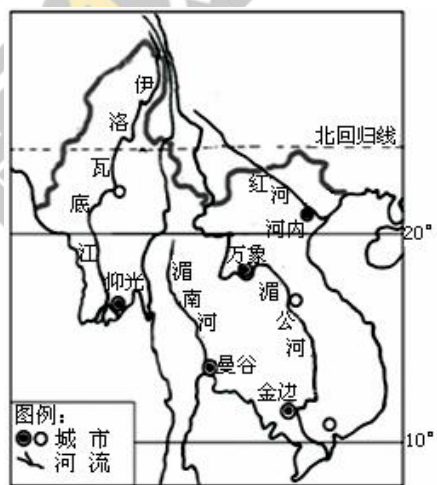
题号	1	2	3	4	5	6	7	8	9	10	11	12	13	14	15
答案															
题号	16	17	18	19	20	21	22	23	24	25	26	27	28	29	30
答案															
题号	31	32	33	34	35										
答案															

二、综合题（共 30 分）

36. 某中学地理兴趣小组通过读图探究“河流对城市分布影响”，请与他们一道完成探究过程。（8 分）

(1) 读图完成下表：

城市名称	附近大河名称
河内	
	湄公河
万象	湄公河
曼谷	
	伊洛瓦底江



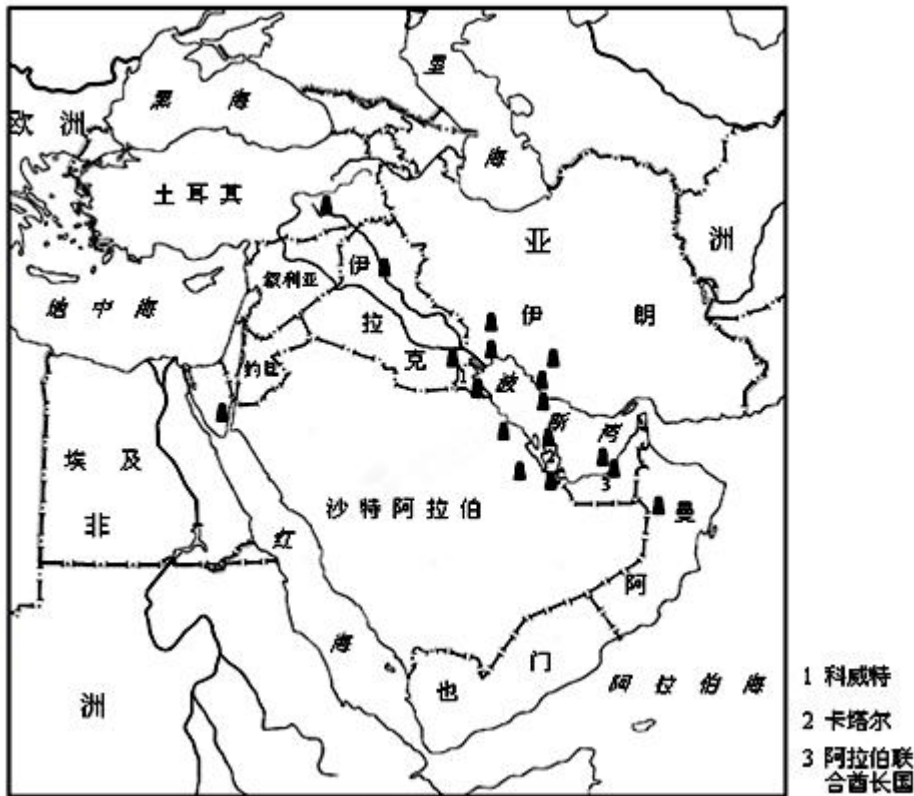
的影

(2) 综合归纳：中南半岛城市大多分布在_____沿岸。

- (3) 这种城市分布特点的有利条件是：
A. 地形平坦，为城市提供建设用地；
B. _____；
C. _____。

(3) 这种城市分布特点的弊端有：_____

37. 读中东的重要资源产区图，完成下列要求。(6分)



- (1) 中东所处的地理位置，被誉为“五海三洲”之地。“五海”是指_____、_____、_____、_____和_____海。
- (2) 中东地区重要的矿产资源是_____，其主要的分布地区为_____沿岸。
- (3) 试列举中东地区重要资源生产国主要有_____、_____、_____和_____等国家。
- (4) 中东绝大部分地区气候炎热干燥，因而可以推测该地区_____资源极其匮乏。

38. 阅读下图，回答下列问题。(9分)

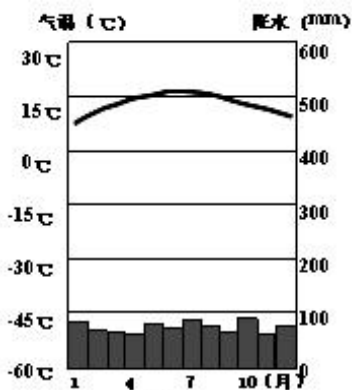


图 1

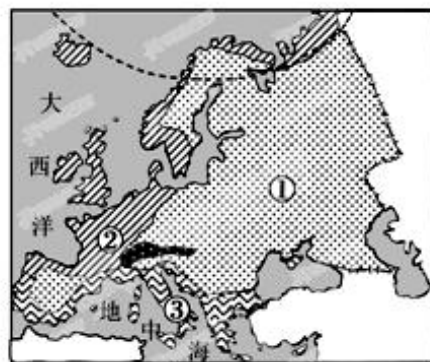


图 2

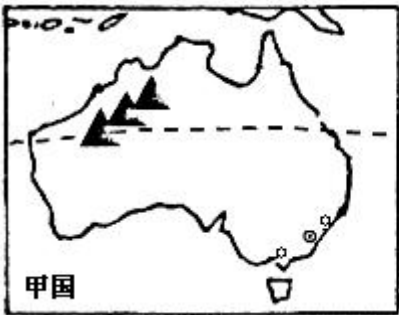
- (1) 图 1 所示气候温和湿润，该类型是_____气候，在图 2 中表示这种气候的序号是_____, 主要分布在欧洲的_____部。
- (2) 欧洲人餐桌上常见牛排、奶油、奶酪等食品，这种饮食结构与当地的地理环境密切相关。将 A~E 字母填入下面的框图中，以表示正确的因果关系。



- A. 畜牧业发达
- B. 地处中纬度大陆西岸
- C. 多汁牧草，草场广布
- D. 欧洲人爱吃牛羊肉
- E. 温带海洋性气候

(3) 从经济水平看，这里是世界上_____国家最为集中的地区。
 (4) 请列举欧洲西部重要的旅游资源有：_____、_____。（至少两处）

39. 读甲乙两国示意图，回答问题。（7分）



- (1) 从地理位置来看，两国都位于_____半球，因为两国都有一条重要的纬线穿过，即_____线（重要纬线名称）。
- (2) 从矿产资源来看，两国都有丰富的_____矿，其中分布在国土西部的国家是_____。
- (3) 从人口和城市分布来看，两国的人口和城市都主要集中在_____部。
- (4) 有世界活化石博物馆之称的国家是_____，有世界人种博物馆之称的国家是_____（写国名）。

初一地理参考答案

一、选择题（每题有且仅有一个正确答案，每题 2 分，共 70 分）

1	2	3	4	5	6	7	8	9	10	11	12	13	14	15
B	A	B	A	B	B	D	A	C	D	C	D	B	D	B
16	17	18	19	20	21	22	23	24	25	26	27	28	29	30
D	A	C	B	A	B	D	A	A	D	D	D	C	C	C
31	32	33	34	35										
D	A	D	A	A										

二、综合题（每空 1 分，共 30 分）

36.（共 8 分）

- (1) 自上而下为：红河 金边 湄南河 仰光 (2) 河流沿岸
 (3) B 交通便利，C 水源充足，利于灌溉（其他答案合理即可得分）
 (4) 丰水期容易造成洪涝灾害（过度用水易造成水源枯竭，水污染严重等）

37.（每格 0.5 分，共 6 分）

- (1) 红海 地中海 里海 黑海 阿拉伯海
 (2) 石油 波斯湾沿岸
 (3) 伊拉克 伊朗 科威特 沙特阿拉伯（或阿拉伯联合酋长国）
 (4) 水

38.（共 9 分）

- (1) 温带海洋性 ② 西
 (2) E C A
 (3) 发达
 (4) 意大利水城威尼斯、伦敦塔桥、荷兰的大风车等（其他合理答案也对）

39.（共 7 分）

- (1) 南 南回归线
 (2) 铁矿 澳大利亚
 (3) 东南
 (4) 澳大利亚 巴西