

# 八年级历史试卷

- 说明：1、试卷共 7 页，答题卡共 2 页（1 面）。考试时间 60 分钟，满分 100 分。  
2、请在答题卡上填涂学校、班级、姓名、考生号，不得在其它地方作任何标记。  
3、答案必须写在答题卡指定位置上，否则不给分。

## 第一卷


### 一、选择题（共 30 题，每题 2 分，共 60 分）

- 1、自新中国成立后，党和政府非常重视民主法制建设，建国初期起临时宪法作用的文献是（ ）
- A. 《中华民国临时约法》                      B. 《中国人民政治协商会议共同纲领》  
C. 《中华人民共和国刑法》                  D. 《中华人民共和国宪法》
- 2、周恩来总理曾经说过，新民主主义革命的历史，就是从天安门到天安门。你认为后一个“天安门”是指哪一重大历史事件？（ ）
- A. 北平和平解放      B. 第一届全国政协召开      C. 开国大典      D. 四五运动
- 3、下列关于中华人民共和国成立的历史意义，表述不准确的是（ ）
- A. 它标志着中国新民主主义革命的胜利  
B. 它结束了中国百年来任人宰割的屈辱历史  
C. 它标志着中国从此进入了社会主义新时期  
D. 它鼓舞了世界被压迫民族争取解放的斗争
- 4、某同学在笔记中写到：“粉碎了帝国主义分裂中国的阴谋，标志着祖国大陆基本统一，实现了各民族的大团结。”据此判断，他学习的内容是（ ）
- A. 抗日战争取得胜利                      B. 西藏和平解放  
C. 新中国成立                              D. 抗美援朝战争
- 5、某班排演历史剧《上甘岭战役》，小刚在剧中扮演舍身堵枪眼的志愿军战士，他扮演的是（ ）
- A. 董存瑞                      B. 邱少云                      C. 黄继光                      D. 罗盛教
- 6、我国在一五计划时期，在轻重工业之间的投资比例大体是 1：7.9。由此可见，我国当时（ ）
- A. 优先发展重工业                              B. 优先发展交通运输业  
C. 农轻重三业均衡发展                          D. 三大改造稳步推进
- 7、对联是中华民族的传统文。下列对联反映我国“一五”计划成就的是（ ）
- A. 食堂巧煮千家饭，公社饱暖万人心                      B. 改革开放同添异彩，经济建设共展蓝图  
C. 一桥架长江南北通畅，三路通雪域汉藏同乐                      D. 万里河山归人民，五亿群众庆新生
- 8、宪法是国家的根本大法。1954 年 9 月，通过《中华人民共和国宪法》的大会是（ ）
- A. 中国共产党第一次全国代表大会                      B. 中国人民政治协商会议第一届全体会议

- C. 第一届全国人民代表大会  
D. 中国共产党第八次全国代表大会
- 9、1954 年北京著名的中药老店同仁堂的经理乐坛生带头响应政府号召，主动接受资本主义工商业的改造。政府对同仁堂的改造方式是 ( )
- A. 建立手工业生产合作社  
B. 建立股份有限公司  
C. 转变为公私合营企业  
D. 转变为国营企业

- 10、如果为右面三幅图片反映的历史拟定一个学习主题，最恰当的是 ( )

- A. 走向社会主义之路  
B. 艰难曲折的探索历程  
C. 社会主义建设的转折  
D. 迈向社会主义现代化



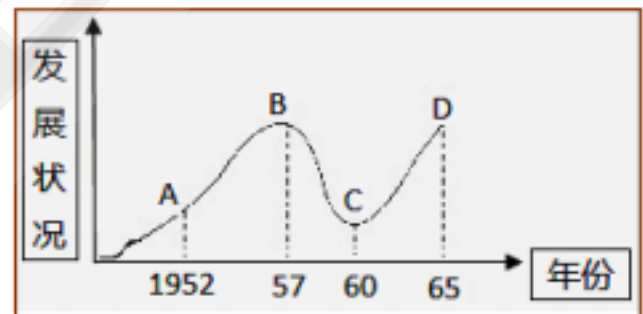
- 11、中共八大在社会主义探索过程中取得的重要成果是 ( )
- A. 提出建设工业国的目标  
B. 正确分析国内主要矛盾及提出主要任务  
C. 建立社会主义制度  
D. 颁布第一部《中华人民共和国宪法》

- 12、回顾历史，我国实现原油和石油产品全部自给，结束了“洋油”的时代是在 ( )
- A. 新中国成立时  
B. “一五”计划期间  
C. 大跃进时期  
D. 社会主义建设探索时期

- 13、右图反映的是新中国在 20 世纪五六十年代的农业经济发展情况，从 B 到 C 急剧变化的因素有 ( )

- 中共八大决策失误  
自然灾害迅速蔓延  
“大跃进”和人民公社化运动的严重失误  
“文化大革命”扩展到经济流域

- A. B. C. D.



- 14、“我们都是搞革命的，搞革命的人最容易犯急性病。我们的用心是好的，想早一点进入共产主义。这往往使我们不能冷静地分析主客观方面的情况，从而违反客观世界发展的规律。”邓小平的这一席话总结的是 ( )

- A. 土地改革的教训  
B. “大跃进”和人民公社化运动的教训  
C. “文化大革命”的教训  
D. 三大改造的教训

- 15、“中共八大”、“国民经济的调整”、“文化大革命”共同反映出的时代主题是 ( )

- A. 走向社会主义之路  
B. 建设社会主义道路的探索  
C. 跑步进入共产主义  
D. 建设中国特色社会主义

- 16、为结束文化大革命奠定群众基础的历史事件是 ( )

- A. “一月风暴”  
B. “二月逆流”  
C. 林彪反革命集团覆灭  
D. “四五运动”

- 17、林彪反革命集团的覆灭客观上宣告了“文化大革命”理论和实践的破产。下列哪一事件与林彪反革命集团的覆灭有关 ( )

- A. “九一三”事件  
B. 毛泽东逝世  
C. “四五”运动  
D. “四人帮”被粉碎

- 18、“文化大革命”中，身为国家主席的刘少奇被诬陷为“叛徒、内奸、工贼”，惨遭批斗，失去人身自由。这突出表明文革期间 ( )



27、他明确提出“走自己的道路，建设有中国特色的社会主义”  
放和现代化建设的总设计师。他是（ ）  
A. 毛泽东                      B. 邓小平                      C. 江泽民                      D. 习近平

28、20 世纪 80 年代末 90 年代初，我国社会主义现代化建设和改革开放遇到姓“资”姓“社”  
等问题的困扰。对解决这些问题，进一步解放思想、深化改革起到决定性作用的是（ ）  
A. 中共八大公报                      B. 邓小平视察南方时的谈话  
C. 中共十三大报告                      D. 中共十二大上邓小平的讲话

29、右图是王老师上历史课时给同学们展示的复习提纲。

据此判断，他复习的专题是（ ）

- A . 社会主义探索历程
- B . 邓小平理论的形成和发展
- C . 社会主义民主和法制建设
- D . 社会主义经济建设新成就

提纲

- 1 . 十一届三中全会
- 2 . 建设中国特色社会主义
- 3 . 社会主义初级阶段理论
- 4 . 1992 年南方谈话
- 5 . 党的指导思想

30、作为一名中共党员，能最早拥有一部印有

“党的指导思想是马克思列宁主义、毛泽东思想和邓小平理论”等内容的中国共产党党  
章应该是在（ ）

- A. 中共十二大后                      B. 中共十三大后
- C. 中共十四大后                      D. 中共十五大后

二、非选择题（共 40 分）

31、阅读材料，回答问题：（13 分）

材料一：20 世纪 50—70 年代，我国通过“一化三改”创造性地完成了由新民主主义向社会主义的历史转变，但在探索社会主义建设的道路上，不仅出现了急躁冒进的错误，甚至还出现了全局性的、长时间的社会动乱。20 多年的艰辛探索，为确立建设中国特色社会主义道路积累了丰富的经验。

材料二：大会明确指出，当前党和人民主要的任务是，集中力量发展社会生产力，实现国家工业，逐步满足人民日益增长的物质和文化需要。这是探索建设社会主义道路的良好开端。  
——《中国历史》（人教版，八年级下册）

材料三：



图 1



图 2

材料四：1957—1966 年，党领导全国人民探索社会主义建设道路中，尽管发生了严重失误，但仍取得了社会主义建设的重大成就。



图 3



图 4

请回答：

问题一：结合材料一，党和政府为实现“一化”编制了哪一建设规划？（1 分）“三改”在什么时候基本完成？（1 分）它的基本完成有什么重要意义？（1 分）

问题二：结合材料二，成为探索建设社会主义道路良好开端的是哪一会议？（1 分）

问题三：根据材料三的图 1，在探索社会主义建设的道路上，因为急躁冒进，我们出现了哪一失误？（1 分）根据图 2，材料一中“全局性的、长时间的社会动乱”指的是哪一历史事件？（1 分）该事件结束的标志是什么？（1 分）

问题四：出现材料三图 1、2 所反映的失误主要与哪一错误思想有关？（1 分）

问题五：结合材料四，列举一项这一时期社会主义建设的重大成就。（1 分）图 3、图 4 的

模范人物分别是谁？（ 2 分）我们应该学习他们的什么精神？（ 1 分）

问题六： 请你用一句话概括我国在探索建设社会主义的道路时期经历了怎样的过程？（ 1 分）

32、阅读材料，回答问题： （ 15 分）

材料一： 中华民族经历了一百多年来艰苦卓绝的伟大复兴的历史，尤其是 1949 年的“中国新生”和 1978 年的“伟大转折”，实现国家的独立和富强。

材料二：



图 1 中国新生



图 2 雄赳赳 气昂昂 跨过鸭绿江

材料三：



图 3 邓小平题词：深圳的发展和经验证明，我们建立经济特区的政策是正确的。

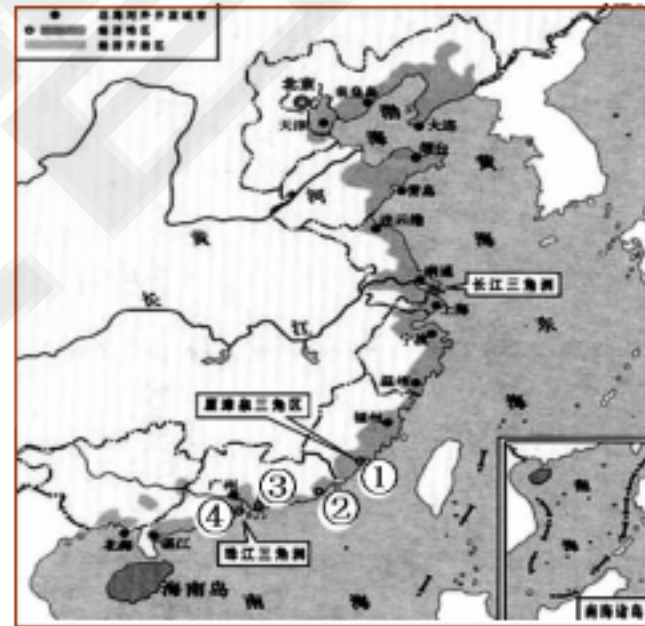


图 4 中国对外开放格局示意图

材料四： 改革开放是我们党的历史上一次伟大觉醒，正是这个伟大觉醒孕育了新时期从理论到实践的伟大创造。实践证明，改革开放是当代中国发展进步的活力之源，是我们党和人民大踏步赶上时代前进步伐的重要法宝，是坚持和发展中国特色社会主义的必由之路。——习近平在广东考察时的讲话（2012 年 12 月）

请回答：

问题一： 结合材料一和材料二的图 1，开启“中国新生”阶段，标志着中国人民站起来的历史事件是什么？（ 1 分）该事件发生在何时？（ 1 分）由此诞生了哪一节日？（ 1 分）

问题二： 根据材料二的图 2，巩固了新生的政权，提高了中国的国际威望的是哪一事件？（ 1 分）该事件的目的是什么？（ 1 分）被称为“最可爱的人”指的是该事件中的哪一支军队？（ 1 分）谁担任了这支军队的司令员？（ 1 分）

问题三： 结合材料一， 1978 年的“伟大转折”指的是哪一会议的召开？（ 1 分）该会议召

开后，党的工作重心发生了怎样的转变？（ 1 分）中国由此进入到哪个时期？（ 1 分）

问题四：深圳特区是图 4 中的哪一个序号？（ 1 分）写出其中不属于广东的特区序号？（ 1 分）结合图 3 邓小平的题词，指出深圳特区主要“特”在哪一领域？（ 1 分）

问题五：根据材料四，我国发展的实践证明，改革开放有怎样的重要意义？（ 2 分）

### 33、阅读材料，回答问题：（12分）

2014年3月9日，习近平在两会期间，参加安徽代表团审议时表示，要积极深化农村改革，处理好农民与土地的关系，确保农村改革健康顺利进行。

材料：



图 1 广大农民衷心拥护《土地改革法》



图 2 农民积极加入农业生产合作社



图 3 农民高举“人民公社好”标语牌

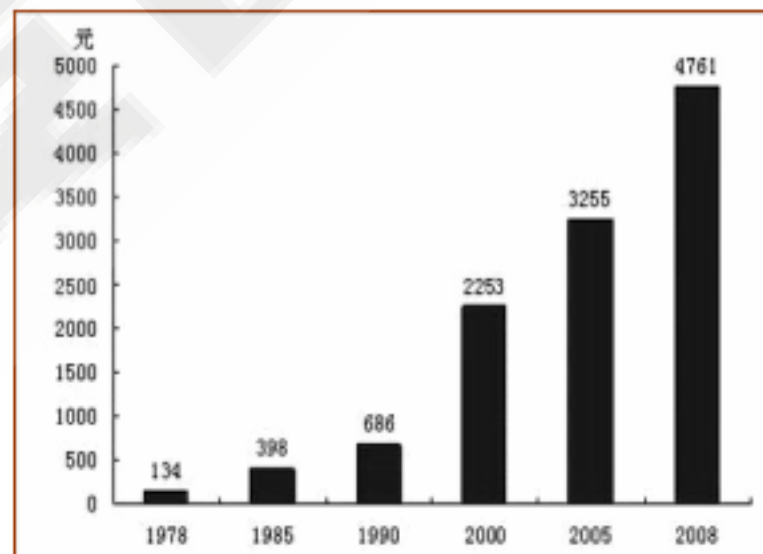


图 4 1978—2008 年农村居民人均纯收入

请回答：

问题一：材料中的图 1 反映的是哪一历史事件？（ 1 分）该事件后，我国哪一土地制度被废除？（ 1 分）

问题二：根据图 2，我国如何对农业进行社会主义改造？（ 1 分）同时还对哪个行业采取了类似方式的改造？（ 1 分）国家对资本主义工商业改造采取了什么政策？（ 1 分）

问题三：图 3 反映的是哪一历史事件？（ 1 分）该事件给农村带来了怎样的影响？（ 1 分）

问题四：图 4 反映的是改革开放后农村发生的巨大变化。这一变化与农村实行的哪一制度有关？（ 1 分）这一制度率先在哪里实行？（ 1 分）根据图 4，这一做法给农村带来了怎样的影响？（ 1 分）随后我国进行的城市改革重点是什么？（ 1 分）

问题五：请你为材料中四幅图确定一个主题。（ 1 分）

## 历史参考答案

### 一、选择题（共 60 分）

1-5      BCCBC                      6-10      ACCCA                      11-15      BDCBB                      16-20  
DAADC  
21-25      AABCA                      26-30      ABBBD

### 二、非选择题（共 40 分）

#### 31、（共 13 分）

问题一：建设规划：一五计划（或第一个五年计划）（1 分）      什么时候：1956 年（1 分）

重要意义：我国初步建立起社会主义基本制度（1 分）

问题二：会议：中共八大（1 分）

问题三：失误：大跃进运动（1 分）      动乱：文化大革命（1 分）

结束标志：江青反革命集团被粉碎（1 分）

问题四：错误思想：左倾思想（1 分）

问题五：重大成就：大庆油田的建成，新兴的电子工业、原子能工业、航天工业从无到有地发展起来，第一颗原子弹爆炸成功等。（1 分，任答一个即可得分）

分别是谁：邓稼先、王进喜（2 分，先后顺序不能错）

精神：爱国主义、艰苦创业、全心全意为人民服务、为社会主义奋斗（1 分，意思相近即可得分）

问题六：怎样的过程：在曲折中前进（1 分，言之有理即可得分）

#### 32、（共 15 分）

问题一：历史事件：中华人民共和国成立（或新中国成立）（1 分）

何时：1949 年 10 月 1 日（1 分）      节日：国庆节（1 分）

问题二：哪一事件：抗美援朝战争的胜利（1 分）      目的：保家卫国（1 分）

军队：中国人民志愿军（1 分）      司令员：彭德怀（1 分）

问题三：会议：中共十一届三中全会（1 分）

重心转变：以经济建设为重心（1 分）

哪个时期：改革开放时期（或社会主义现代化建设新时期）（1 分）

问题四：深圳的序号：（1 分）      不属于广东序号：（1 分）

领域：经济（1 分）

问题五：重要意义：改革开放是当代中国发展进步的活力之源，是我们党和人民大踏步赶上时代前进步伐的重要法宝，是坚持和发展中国特色社会主义的必由之路。（2 分）

#### 33、（共 12 分）



- 问题一：历史事件：土地改革（ 1分） 土地制度：封建土地制度（ 1分）
- 问题二：如何改造：建立农业生产合作社（ 1分） 行业：手工业（ 1分）  
政策：赎买政策（ 1分）
- 问题三：图 3：人民公社化运动（ 1分）  
影响：降低农民生产积极性，阻碍农业生产发展（ 1分，意思相近即可得分）
- 问题四：制度：家庭联产承包责任制（ 1分）  
哪里：安徽凤阳小岗村（ 1分）  
影响：调动农民生产积极性，促进了农业的发展，农民富裕起来（ 1分，意思相近即可得分）  
重点：国有企业改革（ 1分）
- 问题五：主题：建国后我国农村土地政策的变化（ 1分，意思相近即可分）

## 新初三数学暑期课程

### 提升课程

**【适用学员】**:成绩 60 到 80 分,初一、初二计算基础不扎实,几何模型总结不到位,对于比较综合的问题找不到解决思路。

**【课程设置】**:预习初三除了圆以外其他知识,提前掌握一元二次方程的 4 种解法、相似三角形的两个基本模型、二次函数图象性质以及解析式的求法,为秋季正式学习打好基础。

**【培养目标】**:①掌握一元二次方程的四种解法;②了解比例线段和相似的概念,理解相似的两个基本模型③认识锐角三角函数,结合之前学习的两个特殊直角三角形进行计算;④理解二次函数的相关基础知识。

### 实验课程

**【适用学员】**:八年级下册数学期末成绩 80-90 分(等级 B+至 A),通过入学测试,即将升入九年级,想提前学习,抢占制高点,为中考复习留足时间的学员。

**【课程设置】**:提前学完九年级全一册除了圆以外的所有知识,打牢基础,能为接下来的中考复习留足时间,提前掌握一元二次方程的解法、相似三角形的基本模型、反比例函数及二次函数等知识点,打赢九年级学习的第一仗。

**【培养目标】**:①掌握一元二次方程的解法及应用;②学习相似图形以及相应模型;③认识锐角三角函数,理解直角三角形边角关系及相关应用;④理解二次函数的相关基础知识及应用问题

2017 初三数学暑期课程大纲 (12 次)

课次	大纲	内容提要	难度
第 1 讲	一元二次方程的概念和解法	概念、直接开平方法、配方法、公式法、因式分解法	★★
第 2 讲	一元二次方程的应用	增长率、面积问题、销售问题	★★☆
第 3 讲	比例线段、比例性质、黄金分割	比例的性质、平行线分线段成比例、黄金分割	★★☆
第 4 讲	相似三角形的性质和判定	相似图形、相似三角形的判定方法、位似图形及性质	★★★
第 5 讲	相似的基本模型	"A" "X" 型以及其他常见模型	★★★
第 6 讲	反比例函数的概念与性质	反比例函数的概念和图象、图象的性质	★★☆
第 7 讲	反比例函数的几何性质	$k$ 值的几何意义,求 $k$ 值的常用方法	★★★
第 8 讲	锐角三角函数	锐角三角函数的定义和特殊三角函数值	★★
第 9 讲	二次函数图象与性质	二次函数的概念、图象及性质	★★
第 10 讲	二次函数解析式	标准式、顶点式和交点式的特征和求法	★☆☆
第 11 讲	二次函数的应用	增长率问题、面积问题、销售问题	★★
第 12 讲	综合复习与测试		