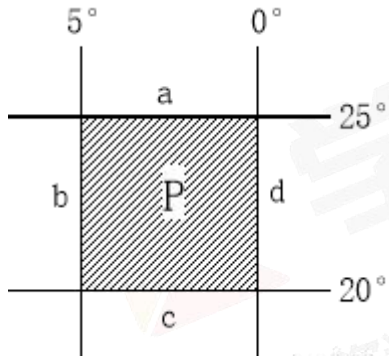


2019 学年广东省高二上月考地理试卷【含答案及解析】

姓名\_\_\_\_\_ 班级\_\_\_\_\_ 分数\_\_\_\_\_

一、选择题

1. 下图是一幅经纬网图，读图并回答下列各小题。



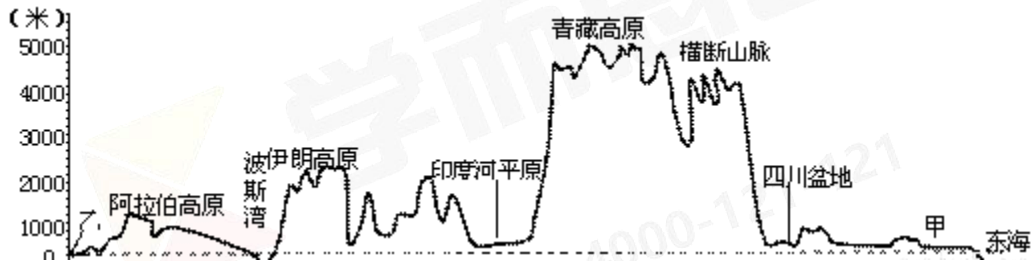
- 关于 P 区域的叙述正确的是 ( )
 

A.P 区域位于南半球、西半球\_\_\_\_\_ B.P 区域位于南半球、东半球  
C.P 区域位于北半球、东半球 D.P 区域位于北半球、西半球
- P 区域所在的地区位于 ( )
 

A.欧洲 B.非洲 C.太平洋 D.北美洲
- 图中 a、b、c、d 四段长度的大小关系正确的是 ( )
 

A. $a < c < b = d$  B. $c > a < d < b$   
C. $b > d > a > c$ \_\_\_\_\_ D. $d = b > a = c$

2. 读“亚洲地形剖面（沿 30°N）示意图”，完成下列各题。



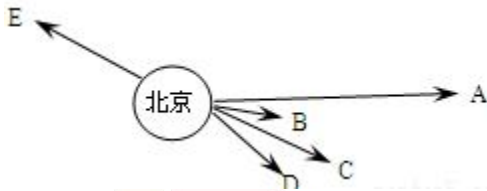
- 关于该大洲地形的说法，其中正确的是 ( )
 

A. 平均海拔最高\_\_\_\_\_ B. 以平原为主  
C. 甲地为华北平原 \_\_\_\_\_ D. 地形类型多样
- 若乙正处于两大洲分界线，则乙为 ( )
 

A. 霍尔木兹海峡 \_\_\_\_\_ B. 土耳其海峡

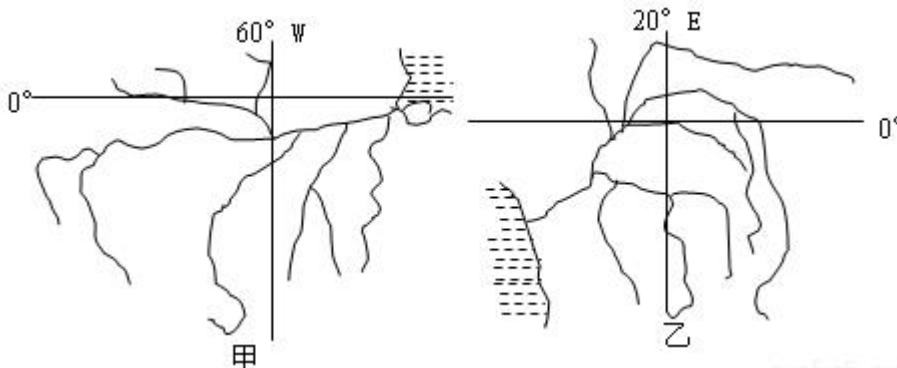
- C. 直布罗陀海峡 \_\_\_\_\_ D. 苏伊士运河
3. 图中阿拉伯半岛河流极少，其主要原因是 ( )
- A. 地中海气候区，夏季降水少，蒸发大  
 B. 温带大陆性气候区，全年降水少  
 C. 热带沙漠气候区，全年高温少雨  
 D. 亚热带季风气候区，夏季伏旱严重

3. 读俄美朝韩日五国首都与北京相对方位及距离示意图。回答下列各题。



1. 下列有关叙述正确的是 ( )
- A. 图示 C 国、D 国分别是日、韩  
 B. 五国中 有三个国家和中国陆地接壤  
 C. 六国都属于太平洋文化圈  
 D. 六国首都都是本国经济政治中心
2. 关于俄罗斯、美国的正确结论是 ( )
- A. 都濒临北冰洋  
 B. 都有严重的人口老龄化问题  
 C. 最大的河流都是内流河  
 D. 都以亚寒带针叶林气候为主

4. 读下图，回答下列各题。



1. 乙河流域主要位于 ( )
- A. 位于高原地区 \_\_\_\_\_ B. 位于平原地区  
 C. 温带草原气候区 D. 热带雨林气候区

2. 下列关于甲河、乙河水文特征的叙述，正确的是（ ）
- A. 甲河的流量比乙河丰富  
 B. 甲河的流域面积比乙河小  
 C. 甲河的汛期出现在夏季，乙河的汛期出现在春季  
 D. 甲河水流湍急，水力资源丰富；乙河水流平缓，航运便利
5. 智利国土狭长，东西宽不超过 180 公里，但南北则长达 4200 公里，景观丰富而多变。下列该国各项重要景观由南向北出现的正确顺序是（\_\_\_\_\_）
- ①群聚的企鹅\_\_\_\_\_ ②遍野的苹果园\_\_\_\_\_ ③荒凉单调的沙漠 ④大片的葡萄园
- A. ①②④③\_\_\_\_\_ B. ②③①④\_\_\_\_\_ C. ③④②①\_\_\_\_\_ D. ④②①③\_\_\_\_\_
6. 读三大洋各渔场捕鱼量分布表，回答下列各题。  
 单位：千吨
7. 太平洋渔场 印度洋渔场 东北部 西北部 中东部 中西部 东南部 西南部 东部 西部 2790 24565 1668 8943 14414 828 3875 4091 大西洋渔场 东北部 西北部 中东部 中西部 东南部 西南部 地中海、黑海 11663 2048 3553 1825 1080 2651 1493
8. 下表表示影响四个区域经济发展的区位因素（●的多少表示优势的大小），如果四个区域表示四个不同的国家，下列判断正确的是（）

	自然条件及自然资源	社会经济因素	人口和劳动力资源	位置、交通及信息
①	●	●●●	●●	●●●●
②	●●●●	●	●●●	●●
③	●●●●	●	●●	●●●
④	●	●●●	●●●	●●●●

- A. ①可能是埃及  
 B. ②与③肯定是发达国家  
 C. ④既可能是中国，也可能是加拿大  
 D. ①可能是日本

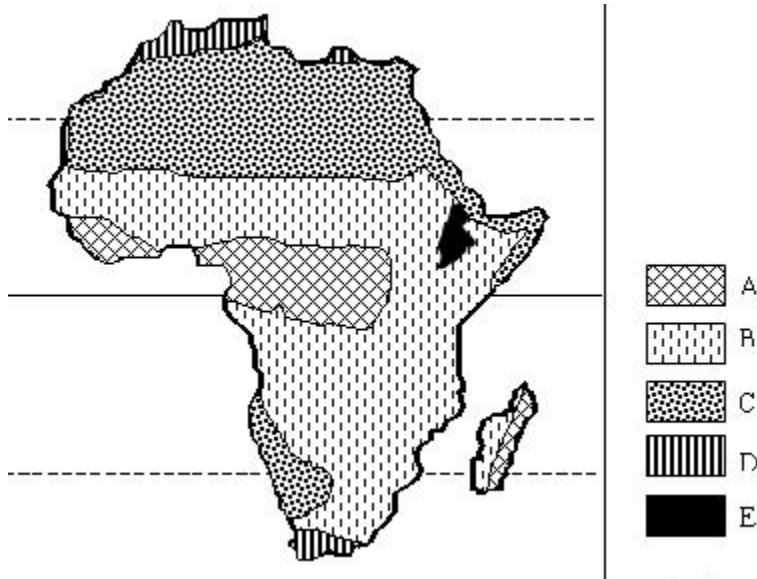
9. 下列不属于以色列为发展农业生产而采取的措施是 ( )
- A. 修建水渠和输水管线
  - B. 大力发展滴灌和喷灌技术
  - C. 将北部水源输送到南部甚至深入沙漠
  - D. 大面积植树造林

10. 读某年世界主要产茶国比较表，回答下列各题。

国家	中国	印度	斯里兰卡	印度尼西亚
人口数量 (人)	13 亿	10 亿	1840 万	1.99 亿
茶园面积 (万公顷)	113	51	19	16
茶叶产量 (万吨)	75	83	31	17
茶叶出口量 (万吨)	25	20	29	10

1. 表中四国人均消费茶叶最多的国家是 ( )  
A. 中国 B. 印度 C. 斯里兰卡 D. 印度尼西亚
2. 印度茶园面积小于中国，但茶叶产量却大于中国，其主要原因是 ( )  
A. 纬度低，采茶期长 \_\_\_\_\_ B. 机械化程度高  
C. 劳动力资源丰富 \_\_\_\_\_ D. 土壤肥沃

11. 读非洲气候图，回答下列各题。



1. 撒哈拉以南非洲分布面积最广的气候类型是 ( )  
A. 地中海气候 \_\_\_\_\_ B. 热带沙漠气候

C.热带草原气候 D.热带雨林气候

2. 受气候影响，马达加斯加岛东西两侧的植被类型有明显差异，其名称可能是（ ）

- A. 东侧是热带雨林，西侧是热带草原
- B. 东侧是热带草原，西侧是热带雨林
- C. 东侧是亚热带常绿阔叶林，西侧是亚热带常绿硬叶林
- D. 东侧是热带季雨林，西侧是热带荒漠

3. 导致 0° 纬线上非洲东西两侧气候类型产生差异的主要因素是（ ）

- A. 土壤\_\_\_\_\_ B. 地形\_\_\_\_\_ C. 太阳辐射\_\_\_\_\_ D. 洋流

12. 以下地区属于世界人口稠密区的是(\_\_\_\_\_)

- A. 非洲东部索马里半岛 B. 西亚环波斯湾沿岸
- C. 南亚恒河平原 D. 南美亚马孙平原

13. 七大洲中，多年平均径流量最多和最少的分别是（ ）

- A. 亚洲 大洋洲 B. 亚洲 南美洲
- C. 北美洲 南美洲 D. 亚洲 非洲

## 二、综合题

14. 2015年11月7日下午，两岸领导人习近平、马英九在岛国新加坡的香格里拉大酒店会面，这是两岸关系发展史上具有里程碑意义的大事。据下列图文回答问题。

材料一 2014年3月13日，由中国企业牵头筹建的克拉运河开凿工程已经开始运作。根据工程计划，这条100公里的人工运河将成为亚洲最大的一条人工运河。

材料二 东南亚局部地图



(1) A 国经济作物 \_\_\_\_\_ 丰富(2分)，故自 2009 年开始承接了发达国家转移的大量轮胎产业，但为了扩大该作物生产面积，农民放火烧林，从而导致严重的“雾霾”出现，下列属于“雾霾”带来的影响有 (\_\_\_\_\_ )。

① 影响人类身体健康，诱发多种疾病②降低能见度，严重影响人们出行； ③ 破坏当地生态环境（水土流失、生物多样性减少等）； ④ 增加温室气体的含量。

- A. ②③④ \_\_\_\_\_ B. ①② \_\_\_\_\_ C. ①②③④ \_\_\_\_\_  
D. ①②④ \_\_\_\_\_

(2) B 为 \_\_\_\_\_ 河，该河下游流域栽培有一种世界著名的“浮稻”(该稻谷可随水位涨落漂浮)，“浮稻”反映了 B 河的水文特点：\_\_\_\_\_。

(3) 有关图示区域板块构造的叙述，正确的是 (\_\_\_\_\_ )

- A. 位于两大板块的消亡边界多断裂谷地  
B. 位于两大板块的生长边界多褶皱山系  
C. 位于三大板块的消亡边界多火山、地震  
D. 位于三大板块的生长边界多金属矿产

(4) 克拉运河 K 北连 \_\_\_\_\_ 半岛，南接 \_\_\_\_\_ 半岛(4分)，左右两侧海域分属 \_\_\_\_\_ 洋与 \_\_\_\_\_ 洋(4分)。该运河的建设与开通给中国、泰国、新加坡经济带来的主要影响有哪些？

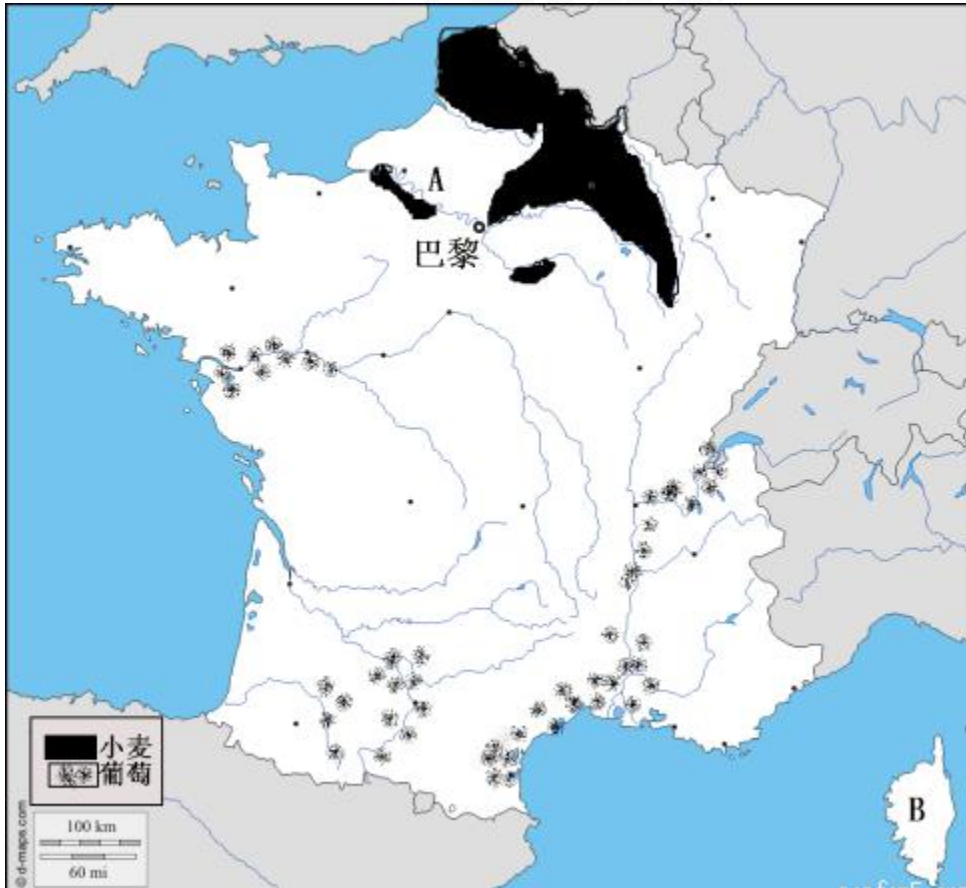


(5) 分析 新加坡发展成为国际大港的地理条件。

15. 读 材料， 完成(1)~(5)题。

材料一 当地时间 2015 年 11 月 13 日 21: 00 开始，法国巴黎 ( 49° N ， 2° E) 至少六处公共场所发生枪击或爆炸事件，已有百余人死亡。事后 法国总统奥朗德发表电视讲话谴责恐怖分子，同时宣布取消参加 二十国集团领导人第十次峰会的行程。

材料二 法国主要农产品分布图



( 1 ) 枪击事件开始时，北京时间是 ( \_\_\_\_\_ )

- A. 13 日 4: 52 \_\_\_\_\_ B. 14 日 8: 08 \_\_\_\_\_ C. 14 日 4: 52 \_\_\_\_\_ D. 13 日 8: 08 \_\_\_\_\_

(2) 图中 A 是 \_\_\_\_\_ 河 (2 分)， 注进 \_\_\_\_\_ 海峡， 据图判断法国北部的地势特点是 \_\_\_\_\_ 。

(3) 图中 B 为法国最大岛屿 \_\_\_\_\_ 岛， 对应的气候类型为 \_\_\_\_\_ 。 其形成原因是 \_\_\_\_\_ 。

(4) 种植业主要分布在 \_\_\_\_\_ 盆地， 制约该地区农业发展的气候因素 \_\_\_\_\_ 。

(5) 简述巴黎市形成与发展的区位优势。

参考答案及解析

第 1 题【答案】

1. C

2. B

3. A

【解析】

试题分析：

1. 读图，根据图中经纬网，P区域纬度向北增大，属于北纬，位于北半球。经度范围是 $5^{\circ}W$ 到 $0^{\circ}$ ，根据东西半球的划分，从 $20^{\circ}W$ 向东到 $160^{\circ}E$ 是东半球，该地位于东半球，C对。

2. 结合前面的经纬度分析，P区域所在的地区位于 $20^{\circ}N$ - $25^{\circ}N$ 之间， $5W$ - $0^{\circ}$ 之间，属于非洲北部，B对。

3. 相同经度间隔的纬线长度，纬度越高，纬线长度越短。图中 $a < c$ 。相同纬度间隔的经线长度相等， $b = d$ 。赤道上经度 $1^{\circ}$ 间隔距离与纬度 $1^{\circ}$ 间隔的距离相等。所以四段长度的大小关系正确的是 $a < c < b = d$ ，A对。

【考点定位】经纬度定位，大洲的主要范围，相同经纬度间隔的长度比较。

【名师点睛】区域定位，能够根据经纬度位置，根据经度、纬度的变化特征，判断区域所在的大洲或半球。相同的经纬度间隔，纬度间隔 $1^{\circ}$ ，距离是111千米。经度间隔 $1^{\circ}$ ，只有赤道上111千米，其它纬线上的长度小于111千米。纬度越高，长度越小。

第 2 题【答案】



1. D

2. D

3. C

**【解析】**

试题分析：

1. 根据材料，该大洲是亚洲，平均海拔最高的大洲是南极洲，A错。亚洲地形以高原山地为主，B错。该剖面是沿 $30^{\circ}$  N纬线的剖面，甲地为长江中下游平原，C错。亚洲地形类型多样，五种基本地形齐全，D对。

2. 若乙正处于两大洲分界线，则乙位于沿 $30^{\circ}$  N纬线的西端，应为苏伊士运河，D对。霍尔木兹海峡不是大洲分界线，A错。土耳其海峡的纬度在 $40^{\circ}$  N以北，B错。直布罗陀海峡位于欧洲与非洲之间，地中海西部，C错。

3. 图中阿拉伯半岛河流极少，主要因为该地属于热带沙漠气候区，全年高温少雨，C对。地中海气候区，夏季降水少，蒸发大，冬季温和多雨，河流较多，A错。该地有回归线穿过，属于热带，B错。亚热带季风气候区，分布在大陆东岸，西岸没有分布，C错。

**【考点定位】**剖面线图。反推地形特征。大洲分界线。反推气候特征及河流少的原因。

**第 3 题【答案】**

1. A

2. A

**【解析】**

试题分析：

1. 图示为俄美朝韩日五国首都与北京相对方位及距离示意图，读图，图示c国距离较远，对应国家是日本，B、D国距离最近，北侧是朝鲜、南侧是韩国，所以D是韩国，A对。五国中有俄、朝两个国家和中国陆地接壤，B错。中国、朝鲜、日本属于东亚文化圈，美国属于西欧文化圈，俄罗斯属于东欧文化圈，C错。美国首都华盛顿属于本国政治中心，美国经济中心是纽约，D错。

2. 俄罗斯、美国都濒临北冰洋，A对。美国没有严重的人口老龄化问题，B错。美国最大的河流是密西西比河，属于外流河，C错。俄罗斯以亚寒带针叶林气候为主，美国以温带大陆性气候为主，D错。

**【考点定位】**世界地理和地域文化差异。

**【名师点睛】**区域地理中，要掌握区域间的相对位置、相对方向和距离远近特点。不同地域有不同的地域文化，要能够从整体上区分所在的文化圈。区域地理特征的比较，便于掌握区域间的联系与区别，加强对区域特征的认识。

**第 4 题【答案】**

1. D

2. A

**【解析】**

试题分析：

1. 根据经纬度判断，乙河是扎伊尔河，该河流域主要位于非洲热带雨林气候区，D对，C错。位于盆地地区，A、B错。

2. 根据经纬度判断，甲河是亚马孙河，乙河是扎伊尔河。甲河流域面积广，受地形和暖流影响，降水较多，甲河的流量比乙河丰富，A对。甲河的流域面积比乙河大，B错。两河的汛期都出现在夏季，C错。甲河上游水流湍急，水力资源丰富，中、下游航运便利。乙河上游水流急，水能丰富，中游水流平缓，航运便利，河口地区航运不便，D错。

**【考点定位】**区域自然特征，河流的水文特征。

**第 5 题【答案】**

A

**【解析】**

试题分析：

智利国土狭长，南部纬度高，气温低，与南极洲隔海相望，有群聚的企鹅，①在最南部。苹果是温带水果，遍野的苹果园，②纬度较高。荒凉单调的沙漠，是副高和沿岸寒流影响形成，③纬度低。大片的葡萄园位于地中海气候区，属于亚热带地区，④位于热带沙漠气候和温带气候区之间，即②③之间。重要景观由南向北出现的正确顺序是①②④③，A对。

**【考点定位】**陆地自然带地域分异规律。

**第 6 题【答案】**

1. C

2. C

**【解析】**

试题分析：

1. 结合所学的世界渔场分布知识，大西洋东北部渔场的名称是北海渔场，C对。纽芬兰渔场分布在大西洋西北部，A错。北海道渔场分布在太平洋西北部，B错。秘鲁渔场分布在太平洋东南部，D错。

2. 太平洋西北部渔场是北海道渔场，是千岛寒流与日本暖流交汇形成，所以形成的主要原因是寒暖流交汇，C对。不是单一寒流或单一上升流形成，A、D错。单一暖流流经海域没有世界大渔场形成，B错。

**【考点定位】**世界性大渔场的分布位置，形成原因。

**【名师点睛】**根据世界渔场分布知识，确定不同大渔场的分布位置及形成原因。世界性大渔场主要是寒暖流交汇形成的，如纽芬兰渔场、北海道渔场、北海渔场等。也有单一的因上升流影响形成的，如秘鲁渔场。只有暖流或只有寒流经过区域，没有世界大渔场形成。

**第 7 题【答案】**

D

**【解析】**

试题分析：

根据材料，●的多少表示优势的大小。读表格，如果四个区域表示四个不同的国家，①表示的自然资源缺乏，埃及石油资源丰富，A错。②与③社会经济因素没有优势，说明经济水平低，肯定是发展中国家，B错。④自然资源缺乏，不可能是中国或加拿大，C错。日本是岛国，自然资源缺乏，经济水平高，劳动力充足，交通、信息产业发达，①可能是日本，D对。

**【考点定位】**不同国家经济发展条件差异。

**第 8 题【答案】**

D

**【解析】**

试题分析：

以色列位于干旱气候区，为发展农业生产采取的措施包括修建水渠和输水管线，A正确。大力发展滴灌和喷灌技术，B正确。将北部水源输送到南部甚至深入沙漠，C正确。森林耗水量大，干旱地区不适宜大面积植树造林，D不属于，选D。

**【考点定位】**区域农业发展的措施。

## 第 9 题【答案】

1. C

2. A

### 【解析】

试题分析：

1. 人均消费茶叶量=(茶叶产量-茶叶出口量)/人口数量,根据表中数值计算,表中四国人均消费茶叶斯里兰卡是1.087千克/人,印度是0.63千克/人,同理计算其它国家,人均最多的国家是斯里兰卡, C对。

2. 印度茶园面积小于中国,但茶叶产量却大于中国,其主要原因是印度纬度低,采茶期长, A对。采茶机械化程度低,主要靠人工采摘, B错。两国劳动力资源差异不大,不是主要因素, C错。土壤状况相似,都是酸性土壤, D错。

【考点定位】读表格计算能力,不同区域茶叶生产发展的条件差异。

【名师点睛】读材料分析问题,本题的难度并不大,但要认真审题,要判断出人均消费量,是没有出口的部分产量与人口数量的比值,通过一一计算,得出结论。可以大致估计一下,人均消费数值明显有大小的国家,减少一些计算。不同区域茶叶生产的种植面积和产量的差异,体现出区域自然地理环境对农业的影响大。

## 第 10 题【答案】

1. C

2. A

3. B

### 【解析】

试题分析：

1. 读图,非洲的气候类型以赤道为中心,南北对称分布,从赤道向两侧依次是热带雨林气候、热带草原气候、热带沙漠气候。结合图例,撒哈拉以南非洲分布面积最广的气候类型是热带草原气候, C对。

2. 受气候影响,马达加斯加岛东西两侧的植被类型有明显差异,东侧是山地迎风坡,有暖流影响,降水多,形成热带雨林气候,植被主要是热带雨林,西侧是背风坡,降水少,形成热带草原气候,植被主要是热带草原, A对。

3. 导致 $0^{\circ}$ 纬线上非洲东侧是东非高原,海拔高,气温较低,对流较弱,降水少,形成热带草原气候。西侧是扎伊尔盆地,地势低,气温高,对流旺盛,降水多,形成热带雨林气候。所以气候类型产生差异的主要因素是地形, B对。土壤不能影响气候, A错。太阳辐射、洋流影响小, C、D错。

【考点定位】区域气候类型、自然带分布规律,区域气候、植被差异的形成原因。

【名师点睛】世界气候类型的分布是有规律的,气候的分布决定了植被类型的变化规律,这组题主要体现了陆地自然带的纬度地域分异规律。非地带性规律是局地小范围内的变化规律。不同区域气候差异,气候差异形成的主要影响因素。

### 第 11 题【答案】

C

#### 【解析】

试题分析：

人类集中生活在温带、亚热带的河流中下游平原或沿海平原地区。所以南亚恒河平原是世界人口稠密区之一，C对。非洲东部索马里半岛、西亚环波斯湾沿岸气候干旱，自然环境条件恶劣，不适宜人类居住，人口密度小，A、B错。南美亚马孙平原闷热、潮湿，不适宜居住，D错。

【考点定位】人口集中分布区，影响人口分布的因素。

### 第 12 题【答案】

A

#### 【解析】

试题分析：

在世界七大洲中，根据各大洲的气候和河流分布状况，结合所学知识，多年平均径流总量最多的是亚洲，其次是南美洲，最少的是大洋洲。所以多年平均径流量最多和最少的分别是亚洲、大洋洲，A对。B、C、D错。

【考点定位】区域河流平均径流量比较。

### 第 13 题【答案】



- (1) 天然橡胶(2分) B (2分)
- (2) 湄公(2分) 河流水位、流量随季节变化大(2分)
- (3) c (2分)
- (4) 中南 马来 印度 太平 (8分)

中国：有利于从中东和非洲进口石油，运输方式多元化，加强中国能源运输的安全机制

泰国：创造大量就业机会，促进其他行业的发展；运河建成后大大增加泰国经济收入

新加坡：减少其收入，降低其国际地位（6分，答对其中三点得6分）

(5) 地理位置突出，是众多远洋船舶中转与经停的中转站；位于东南亚的中心位置，腹地广阔；地处赤道无风带，风浪小；有优良港湾（6分，答对其中三点得6分）。

### 【解析】

试题分析：

(1) 读图，根据海陆位置，A国是印度尼西亚，经济作物天然橡胶丰富。“雾霾”影响人类身体健康，诱发多种疾病，①对。导致大气能见度降低，严重影响人们出行，②对。雾霾不能破坏当地生态环境，造成水土流失、生物多样性减少等，③错。雾霾主要是PM2.5浓度的影响，没有增加温室气体的含量，④错。B对。

(2) 根据B河在图中位置，B是湄公河。种植“浮稻”反映了B河的河流水位、流量随季节变化大的水文特点。

(3) 图示区域位于亚欧板块、太平洋板块、印度洋板块三大板块的消亡边界，多火山、地震，c对。

(4) 克拉运河北连中南半岛，南接马来半岛，左右两侧海域分属印度洋与太平洋。该运河的建设与开通有利于中国从中东和非洲进口石油，石油运输方式多元化，加强中国能源运输的安全机制。为泰国创造大量就业机会，促进其他行业的发展，运河建成后大大增加泰国经济收入。油轮不再经过新加坡，导致新加坡收入减少，降低其国际地位。

(5) 新加坡地理位置突出，是众多远洋船舶中转与经停的中转站。位于东南亚的中心位置，腹地广阔。地处赤道无风带，风浪小，有优良港湾。有利于发展成为国际大港。

**【考点定位】**区域自然环境特征，区域气象灾害类型及影响，农业发展的特点，板块构造，交通建设及影响，区域港口发展的条件。

**【名师点睛】**通过海陆轮廓，进行区域定位，判断区域主要作物类型，农业生产特点及农业发展的条件，根据材料中区域雾霾严重的原因，分析雾霾对环境的影响。根据板块构造理论，记忆板块交界处的板块边界类型及特征。区域交通线路建设，带来的影响要从有利和不利两方面分析。港口发展的条件，包括地理位置条件，是主要的影响因素。还有经济发展水平，港湾的水域条件、气象条件等。

### 第 14 题【答案】



(1) c (2分)

(2) 塞纳河 英吉利 东南高，西北低 (6分)

(3) 科西嘉 地中海 受副热带高压与中纬西风的交替控制 (8分)

(4) 巴黎 光照不足 (4分)

(5) 巴黎位于河流附近，航运便利；河谷地带，地形平坦，农业发达；温带海洋性气候，温和湿润；水资源丰富。(6分，答对其中三点得6分)

### 【解析】

试题分析：

(1) 根据材料，枪击事件开始时，当地时间2015年11月13日21:00，法国巴黎(49°N, 2°E)位于0时区，可以计算出0时区的区时是2015年11月13日20:52，北京时间是东8区的区时，东边比西边的时间早，此时，北京时间是14日4:52，c对。

(2) 读图，图中A是塞纳河，注进英吉利海峡，根据河流流向，法国北部的地势特点是东南高，西北低。

(3) 图中B为法国最大岛屿科西嘉岛，对应的气候类型为地中海气候，其形成原因是受副热带高压与中纬西风的交替控制形成。

(4) 种植业主要分布在巴黎盆地，位于温带海洋性气候区，制约该地区农业发展的气候因素光照不足。

(5) 区域形成发展条件，主要从位置、地形、气候、水源等方面分析。巴黎位于河流附近，航运便利。河谷地带，地形平坦，农业发达。温带海洋性气候，温和湿润。水资源丰富，便于人们的生产和生活。

【考点定位】时间计算，区域自然环境特征及成因，区域农业发展的条件，城市形成发展的影响因素。