

2018-2019 年度上学期九年级历史第一次月考试卷及答案

2018-2019 年度上学期九年级第一次月考

历史试卷

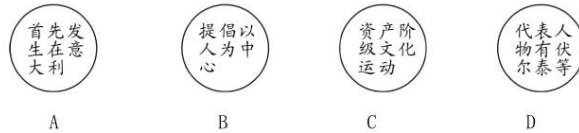
2018.09

一、单项选择题 (每小题 1 分, 共 20 分。)

1. 英国学者伯里在《思想自由史》中指出:消散中世纪的黑暗而为最后理性的解放者作预备的理智和社会运动于十二世纪发端于意大利。这场“社会运动”

- A. 根本原因是科技的发展 B. 使世界开始连成了一个整体
C. 人文主义是其核心思想 D. 实质是希腊罗马文化的复兴

2. 下列关于“文艺复兴运动”的图示, 不正确的是



3. “地理大发现是世界历史上最重大的事件之一, 它打破了世界各地的孤立状态, 世界贸易的范围空前扩大, 真正意义上的世界市场开始形成。”该材料体现的是新航路开辟的

- A. 历史背景 B. 必备条件 C. 主要过程 D. 重要影响

4. 1492 年 10 月 2 日, 大西洋强劲的信风将哥伦布的船队送到了梦寐以求的新大陆, 也就此吹开了隔绝各个大陆的无形屏障。“新大陆”指的是今天

- A. 非洲的好望角 B. 亚洲的印度 C. 亚洲的菲律宾 D. 美洲的古巴、海地等地

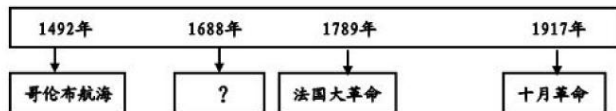
5. 某史书记载:“由会议通过的《市政法案》, 尽管威廉三世‘厌恶至极’, 最后仍然予以批准, 因为不然的话, 议会将拒绝通过拨款案。”该现象与下列哪一文献内容相符合

- A. 《权利法案》 B. 《独立宣言》 C. 《人权宣言》 D. 《解放黑奴宣言》

6. “文艺复兴”和“新航路开辟”的共同点是

- ①体现了人们的创新精神 ②为西欧国家的殖民掠夺开辟了道路
③促进了欧洲资本主义的发展 ④对世界走向整体起了重要作用
A. ①② B. ①③ C. ②③ D. ①④

7. 下面示意图中的? 应填入的是



- A. 文艺复兴 B. 光荣革命 C. 《权利法案》 D. 俄国废除农奴制

8. “1777 年 7 月, 英军退到萨拉托加, 还没来得及及安营扎寨, 就被从四面八方赶来的两万多民兵和迅速开

2018-2019 年度上学期九年级历史第一次月考试卷及答案

到的大陆军包围，英军只得放下武器投降。”该战役的胜利成为了美国独立战争的

- A. 导火线 B. 开始的标志 C. 转折点 D. 结束的标志

9. 当“一个民族必须解除与另一个民族之间迄今所存在的政治联系时，就要求他们一定把那些迫使他们不得已而独立的原因宣布出来。这主张应出自

- A. 《权利法案》 B. 《独立宣言》 C. 《人权宣言》 D. 《解放黑人奴隶宣言》

10. 1803 年，美国与法国签订了从法国廉价购买路易斯安那的协议，总统杰斐逊虽喜出望外，但内心亦十分不安，因为此举超越总统权限。最终，总统将协议交予国会并获得参众两院批准，协议才得以生效。据此可知美国

- A. 行政权高于立法权 B. 总统由国会选举产生 C. 国会权力至高无上 D. 总统权力受国会制约

11. “1793 年 3 月，反法同盟组成，陆续有 7 个国家参加。它们从四面八方法国攻来。”“反法同盟”的此举，是为了

- A. 推翻罗马教廷统治 B. 干涉法国大革命 C. 颁布《人权宣言》 D. 参加凡尔登战役

12. 1789 年 7 月 14 日，当路易十六听到某一消息时，询问身边的廷臣昂古尔公爵：“社是一场叛乱吗？”昂古尔回答：“不，陛下，这是一场革命。”他们谈论的事情是

- A. 攻占巴士底狱 B. 拿破仑发动政变 C. 召开三级会议 D. 罗伯斯庇尔上台

13. 恩格斯说：“拿破仑走到哪里，哪里的徭役劳动、代役租、对老爷的贡献等一大堆陈腐废物，连同老爷本身，就像被魔杖点了一下似的立即消失。”材料主要说明了拿破仑的对外战争

- A. 损害了被侵略国家人民的利益 B. 巩固了资产阶级统治
C. 扩大了法国的疆域 D. 打击了欧洲的封建势力

14. 下表为李一涵同学在复习中总结的重大历史事件。据此判断，他复习的主题是

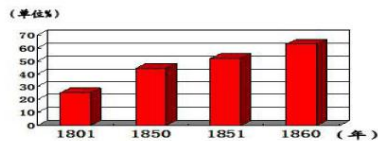
- 英国议会颁布《权利法案》
- 北美大陆会议发表《独立宣言》
- 法国颁布《人权宣言》

- A. 资本主义时代的曙光 B. 整体世界的形成 C. “蒸汽时代”的到来 D. 步入近代的主要国家

15. 某国“在 1825 年建成世界上第一条铁路，1850 年基本形成全国干线铁路网”，率先进入“铁路时代”。这个国家是

- A. 美国 B. 德国 C. 英国 D. 法国

16. 下面是英国城镇人口比重变化图，出现这种变化的主要原因



- A. 就业机会的变化 B. 外来人口的增加 C. 工业革命的影响 D. 大规模资本输出

2018-2019 年度上学期九年级历史第一次月考试卷及答案

17. 习近平在纪念马克思诞辰 200 周年大会上的讲话中指出：“马克思给我们留下的最有价值，最具影响力的精神财富，就是以他名字命名的科学理论”。这一理论就是

- A. 人文主义 B. 马克思主义 C. 理性主义 D. 列宁主义

18. 美国史学家斯塔夫里阿诺斯在评价马克思时说，他“并未将自己限制在理论上和写作上。在他的一生中，为组织和鼓动工人们，他将知识活动同各种尝试结合起来。”与材料意思相符的马克思活动有

- ①指导了英国宪章运动 ②在法国和英国参加工人团体活动 ③为共产主义者同盟起草《共产党宣言》 ④与恩格斯共同创立马克思主义理论

- A. ①②③ B. ①②④ C. ①③④ D. ②③④

19. “经过差不多 70 年的努力，葡萄牙人终于从非洲最北端沿非洲西海岸南下到达最南端，其中的艰难险阻是难以想象的……进入印度洋后，下面的路程就比较顺利了，随后葡萄牙人依靠阿拉伯人的帮助很快来到东方。”材料中“来到东方”的葡萄牙人是

- A. 迪亚士 B. 达·伽马 C. 哥伦布 D. 麦哲伦

20. “大工业创造了现代化的世界市场，首次开创了世界历史，因为它使每个文明国家以及这些国家中每一个人的需要的满足都依赖于整个世界，因为它消灭了以往自然形成的各国的孤立状态。”这段话的作者认为

- A. 世界各国的孤立有利于大工业发展 B. 大工业不利于世界市场的形成
C. 世界市场的形成阻碍了历史的进步 D. 工业革命促进了整体世界的形成

题号	1	2	3	4	5	6	7	8	9	10	11	12	13	14	15	16	17	18	19	20	
答案																					

二、判断题（每题 1 分，正确的写 A，错误的写 B，共 6 分）

题号	21	22	23	24	25	26
答案						

21. 18 世纪的英国资产阶级革命推动了世界历史的进程，标志着资本主义时代的到来。

22. “《最后的晚餐》是英国著名画家达·芬奇的代表作，他创作的人物形象充分体现了人文主义精神。”上面对这幅世界名画的介绍，错误的一项是作者的国籍。

23. 英国机械师瓦特经过多年钻研，改进了蒸汽机，有力促进了生产的发展，成为英国工业革命开始的标志。

24. 英、法、美资产阶级革命爆发的根本原因都是封建专制阻碍了资本主义经济的发展。

25. 工业革命促进了大工厂生产的发展，将人类带入了“蒸气时代”。

26. “人的发现”和“世界的发现”分别指文艺复兴和新航路的开辟。

三、填空题（每空 1 分，共 6 分）

27. 1848 年《_____》的发表标志着马克思主义的诞生；1864 年，英国、法国、德国等国的工人代表联合起来成立了国际工人协会，史称_____。

2018-2019 年度上学期九年级历史第一次月考试卷及答案

28. 为了维护资产阶级革命的果实，英国议会颁布《_____》，以法律的形式限制了国王的权利；法国拿破仑颁布《_____》巩固资产阶级统治。

29. 英国资产阶级革命的领导人物是_____；把法国革命推向高潮的人物是_____。

四、材料与问答（共 18 分）

30. 阅读下列材料，回答问题。

材料一 14-17 世纪，欧洲出现了意义深远的思想解放运动。这场运动冲破了天主教教会一千多年来对欧洲社会生活和人们精神世界的统治，淡化了神的主宰地位，强调人性的解放，重视人的价值和作用。

材料二 他是画家、雕塑家、数学家，还是一名哲学家……（他）以新奇的目光重新审视一切的勇气和热情……我们相信伟大的时代塑造了达·芬奇，而达·芬奇又成为那个时代一个不朽的标记。

——侯建新《社会转型时期的西欧与中国》

材料三 哥伦布说：“黄金是一切商品中最宝贵的，黄金是财富，谁占有了它，谁就能获得他在世上所需要的一切。”

(1) 材料一中这场“思想解放运动”指什么？这场运动起源于哪一国家？

(2) 依据材料二并结合所学知识，写出达·芬奇的一幅绘画代表作品。他“新奇的目光”中蕴含的时代精神是什么？

(3) 依据相关知识回答，在新航路开辟的过程中，哥伦布作出了什么贡献？材料三表明，哥伦布航海的动力是什么？

31. 法律是治国理政的重要工具和基本方式。阅读下列图片，回答问题。



图 1 《权利法案》

图 2 《独立宣言》

图 3 《人权宣言》

2018-2019 年度上学期九年级历史第一次月考试卷及答案

(1) 图 1 是哪国颁布的法律文献? 基于此法律该国开始确立起什么政治制度?

(2) 图 2 颁布于哪一历史事件中? 该文件的颁布有何历史意义?

(3) 图 3 所示法律文献的核心思想有哪些?

32. 科技是国之利器。阅读下列材料, 结合所学知识, 回答问题:

材料一 “英国水力资源并不丰富, 只有在彭奈恩山脉和苏格兰—威尔士一带, 才有河流湍急的地方, 其余地区的河流流速缓慢, 不足以 作为工厂的动力……所以动力问题, 又成为摆在人们面前的急迫的 问题。”

——吴于廑、齐世荣《世界史》

(1) 哪一技术创新成功解决了材料一中所提及 “摆在人们面前的急迫的问题”? 这一创新给人类带来什么影响?

材料二 “从这污秽的阴沟里泛出了人类最伟大的工业溪流, 肥沃了整个世界; 从这肮脏的下水道中流出了纯正的金子。人性在这里获得了最为充分的发展, 也达到了最为野蛮的状态; 文明在这儿创造了奇迹, 而文明人在这儿却几乎变成了野蛮人。”

——1835 年法国思想家托克维尔到访英国曼彻斯特的评价

(2) 这段评论反映出托克维尔对工业革命有着怎样的评价?

材料三 “启蒙思想家在许多方面是从新兴的自然科学中寻找理论根据和思想方法的……自然科学的发展, 使得人们认识到人类是可以征服自然的, 人类社会是不断前进的。启蒙思想家之相信进步, 即来源 于此。”

——吴于廑、齐世荣《世界史》

(3) 归纳材料分析启蒙运动和自然科学发展存在的内在联系。

2018-2019 年度上学期九年级历史第一次月考试卷及答案

参考答案

一、选择题

1-10 BDDDA BBCBD 11-20 BADDC CBDBD

二、判断题

21-26 BABBBA

三、填空题

27. 共产党宣言 第一国际 28. 权利法案 拿破仑法典

29. 克伦威尔 罗伯斯庇尔

四、材料题

30. (1) 文艺复兴。意大利。(2) 《最后的晚餐》(或《蒙娜丽莎》)。人文主义。

(3) 发现美洲大陆。追求黄金(发财致富)。

31. (1) 国家: 英国; 政治制度: 君主立宪制。

(2) 事件: 美国独立战争; 意义: 宣告北美 13 个殖民地脱离英国独立(或宣告美国诞生)。

(3) 天赋人权, 自由平等, 人民主权, 私有财产神圣不可侵犯, 法律面前人人平等, 言论自由等。

32. (1) 蒸汽机的发明和应用; 使人类步入“蒸汽时代”, 解决了大机器生产中最关键的问题, 极大地推动了人类社会生产力的发展。

(2) 一方面, 工业革命极大地推动了英国资本主义经济发展和人类文明的进步。另一方面, 工业革命导致环境污染加剧, 资本家对工人的压迫加重。

(3) 自然科学的发展为启蒙运动提供了理论根据和思想方法。启蒙运动解放了人们的思想, 推动了自然科学的发展。