

## 成都七中 2019—2020 学年度上期高 2022 届半期考试

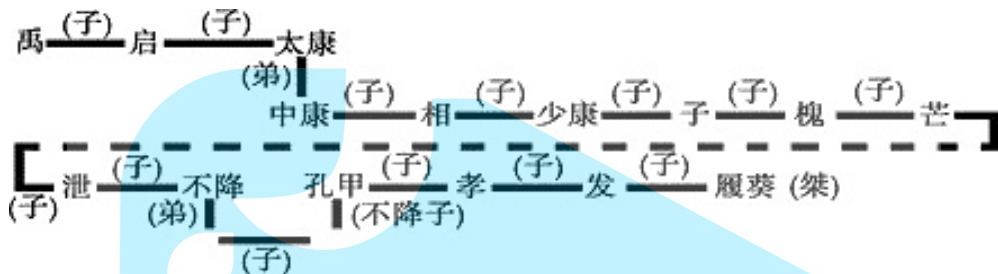
## 历史试卷

考试时间：60 分钟 满分：100 分

## 第 I 卷 选择题

## 一、选择题（下列各题中只有一个正确或最符合题意的选项，共 33 个小题，每题 2 分，共 66 分）

1. 下图为夏朝世系示意图。读图可知，夏王朝实行（ ）



- A. 禅让制                      B. 王位世袭制                      C. 分封制                      D. 嫡长子继承制
2. 夏朝设秩宗，商朝卜、巫、史，西周设太史、太祝、太卜、太士等，他们既是神权的掌握者，又是国家的重要执政官，权位显赫。由此可见夏、商、周政治制度（ ）
- A. 分封制与宗法制互为表里                      B. 政权和神权相结合
- C. 血缘纽带与政治权力相结合                      D. 统治集团实现高度集权
3. 西周时期，分封的齐、鲁、燕、楚、秦等国，基本都是地广人稀、土地尚未开发的地区；到春秋时期，这些地区的农业和手工业发展水平在某些方面至超过了周王室附近地区。这表明西周分封制（ ）
- A. 有助于王室对地方管理                      B. 推动边远地区经济发展
- C. 容易形成地方割据势力                      D. 扩大周王朝的统治区域
4. 《吕氏春秋》记载：“微子启虽长，系庶出，不得立；纣王虽幼，以嫡立。”材料反映了（ ）
- A. 财产继承的原则                      B. 宗法制的根本法则
- C. 任人唯才的要求                      D. 兄终弟及的传统
5. 大槐树位于山西省洪洞县大槐树寻根祭祖园内，虽然该园没有宏伟的建筑，但是不论严冬酷暑，祭拜人员都络绎不绝到此仰望古槐，以抒发“饮水思源”之幽情。这种“寻根”现象（ ）
- A. 说明传统宗法观念影响深远                      B. 得到了全体国人的一致认同
- C. 维护了社会的安定和团结                      D. 导致了封建迷信思想的复活
6. 每年的春节是农历一月初一。一月古时本来又叫“政月”，到了秦朝为了避皇帝嬴政的讳，就把“政月”改为“正月”，“正”字的读音也为“征”了。这说明皇帝制度的主要特征是（ ）
- A. 神权与王权相结合                      B. 中央权力高度集中
- C. 皇权至上，皇帝独尊                      D. 独断性和随意性
7. 秦朝中央官职设三公九卿。其中九卿有奉常，掌宗庙礼仪；郎中令，掌宫殿警卫；卫尉，掌宫门警卫；

太仪，掌御用车马；廷尉，掌刑法……少府，掌山海池泽之税及皇帝的生活供应。由此可见，秦朝中央官制的特点是 ( )

- A. 分工明确，彼此牵制  
B. 垂直管理、分层管理  
C. 服务皇权，家国同治  
D. 选贤举能，唯才是用



“冀州刺史”印

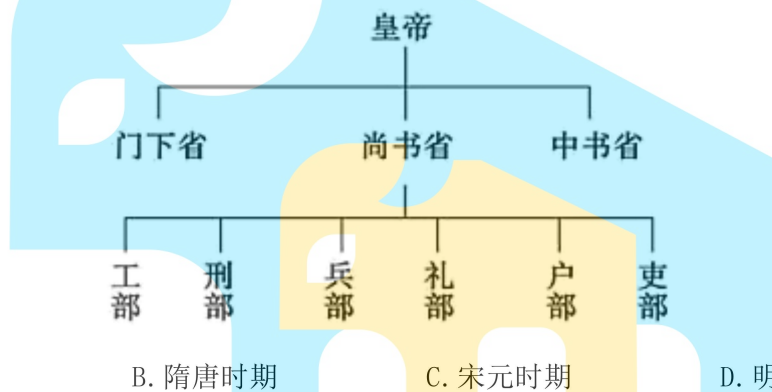
8. 右图所示的中国古代监察制度最先出现于 ( )

- A. 秦代                      B. 汉代                      C. 唐代                      D. 明代

9. 在中国古代孝道是很受推荐的，有史料记载：“郭巨家贫，有子三岁，母减食于之，巨谓妻曰：贫乏不能供母，子又分母之食，盍埋此子。”郭巨因此而被荐举为孝廉。这一史料反映的是 ( )

- A. 科举制                      B. 察举制                      C. 刺史制度                      D. 九品中正制

10. 下图所示的中央机构创立于 ( )



- A. 秦汉时期                      B. 隋唐时期                      C. 宋元时期                      D. 明清时期

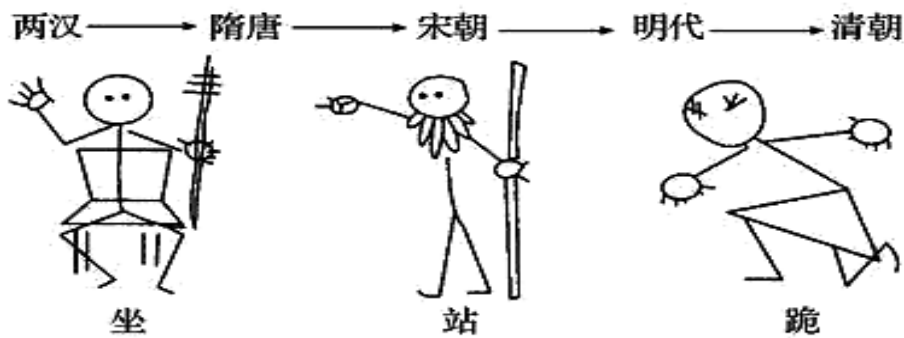
11. 明太祖曾对百官诉苦“百僚未起朕先起，百僚已睡朕未睡。不如江南富足翁，日高丈五犹拥被。”到明成祖时，为改变皇帝过于劳累的局面采取的措施是 ( )

- A. 设“中书门下”                      B. 设立内阁                      C. 设内朝                      D. 设参知政事

12. 如果你到故宫参观，你可以在“军机处”景点的文字说明上发现这样的文字：“军机处一日日程：……接折（阅读奏折）——见面（请皇帝旨）——述旨（拟皇帝旨意）——过朱（皇帝过目确定）——交发（下发旨意）……”这说明军机处的主要职能是 ( )

- A. 辅助皇帝，参与决策                      B. 纵论军机，谋划战事  
C. 陪读陪写，赋诗作画                      D. 跪受笔录，上传下达

13. 下图反映了我国古代不同时期封建王朝官员上朝的礼仪，实际上代表了君臣关系的变化。其反映的实质问题是 ( )



- A. 中央集权日益加强  
B. 上朝礼仪日渐宽松  
C. 君主专制日趋强化  
D. 君臣关系渐趋平等
14. 从秦至清的两千多年中，许多皇帝或由于年幼庸弱，或由于当时形势和力量对比的变化，因而受制于母后、外戚、宦官、权臣、地方割据势力等，导致权力的萎缩或丧失，这种现象实质上是（ ）  
A. 君主专制被颠覆  
B. 中央集权遭到破坏  
C. 君权至上的后果  
D. 君主权力受到制约
15. 清代行政区划一般采取省、府、县三级制；征服蒙古地区后，因其部落故俗，分其地为若干蒙旗，以理其政，并赋予高度的治权；西南地区先沿用明朝的土司制度，后大多改土归流。材料说明清朝（ ）  
A. 废除了元朝行省制  
B. 地方行政制度因地制宜  
C. 沿用明朝地方制度  
D. 少数民族地区实行自治
16. 鸦片战争后，面对英国的坚船利炮，清廷统治者竟不知道英吉利在何处。这主要体现了清王朝（ ）  
A. 吏治腐败  
B. 小农经济异常顽固  
C. 军备废弛  
D. 对世界的茫然无知
17. 两次鸦片战争签订的不平等条约中，西方列强都把开放通商口岸作为主要内容。这反映了其发动战争的最主要目的是（ ）  
A. 获得永久居住权  
B. 获取巨额战争赔款  
C. 要打开中国市场  
D. 扭转对华贸易逆差
18. 1843 年中英订立的《五口通商章程》规定：“英人华民交涉词讼……其英人如何科罪，由英国议定章程、法律发给管事官（即领事官）照办。”据此英国攫取了（ ）  
A. 协定关税权  
B. 领事裁判权  
C. 片面最惠国待遇  
D. 永久居住权
19. 鸦片战争之后产生的三部著述《道光洋舰征抚记》《夷氛闻记》《中西纪事》，皆谓林则徐在广东防备严密，英军无隙可乘，于是北犯定海。“他们把后来广东战事的失败，归结于林则徐的去职；他们将各地战事的受挫，归结于当地没有林则徐。”对此材料理解正确的是（ ）  
A. 人们已经开始接受平等的外交理念  
B. 林则徐能够决定战争的最终胜负  
C. 当时人没能正确认清战争失败的根源  
D. 是基于中英两国实力对比的认识
20. 据统计，19 世纪 40 年代下半期，广州对外贸易的绝对值出现下降的趋势，对英国的贸易总额由 3100 万元下降到 1600 万元，来广州的美国商船由 93 艘下降到 70 艘。上述现象出现的主要原因是（ ）  
A. 中国传统自然经济的抵制  
B. 《南京条约》开放五口通商

- C. 鸦片战争后中外贸易缩减  
D. 清政府限制广州对外贸易

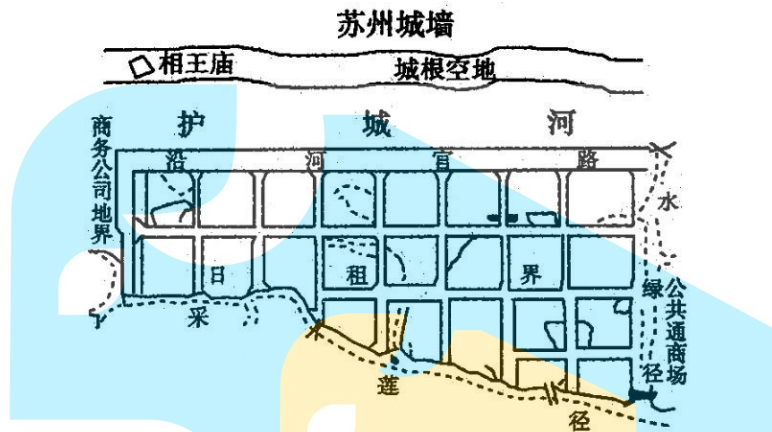
21. 2018年11月，国家博物馆文物接收工作组带着海外漂泊的文物“虎璽”回归祖国并入藏国博。该文物原为清宫旧藏，1860年被英国军官埃文斯劫掠后由其家族收藏。这件文物被劫掠于（ ）

- A. 鸦片战争期间  
B. 第二次鸦片战争期间  
C. 甲午中日战争期间  
D. 八国联军侵华期间



埃文斯家居陈设中的虎璽

22. 下图所示城市状况是下列哪次侵华战争及签订的条约所致的（ ）



- A. 鸦片战争与《南京条约》  
B. 第二次鸦片战争与《北京条约》  
C. 甲午中日战争与《马关条约》  
D. 八国联军侵华战争与《辛丑条约》

23. 晚清状元张謇将某条约的十款内容逐一记录在日记中，他对清政府丧权辱国，尤其是允许外国人在中国设厂感到痛心疾首，发出“几罄中国之膏血”的感慨。张謇记录的条约是（ ）

- A. 《南京条约》  
B. 《天津条约》  
C. 《马关条约》  
D. 《辛丑条约》

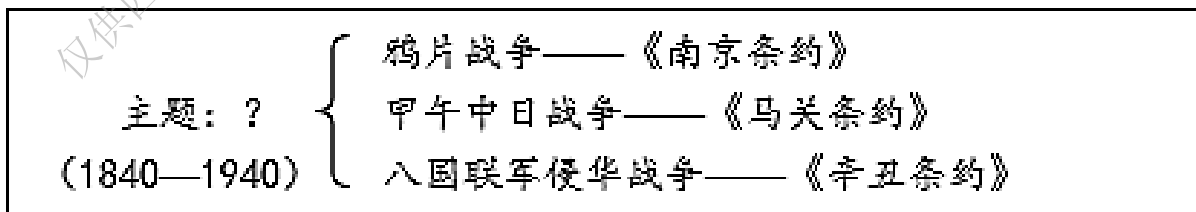
24. 19世纪90年代清政府与列强签订的条约与19世纪40—60年代签订的条约相比，最显著的不同点是增加了（ ）

- A. 割地的面积  
B. 列强办厂的特权  
C. 开放的口岸  
D. 赔款的数额

25. 《辛丑条约》标志着中国完全沦为半殖民地半封建社会，主要是因为该条约导致了（ ）


- A. 清政府完全成为列强统治中国的工具  
B. 清政府在财政上完全受制于帝国主义  
C. 清政府在军事上直接受帝国主义威胁  
D. 中国局面完全由帝国主义控制

26. 历史学习要注意对主干知识结构的梳理。下图所示知识结构的主题是（ ）



- A. 中国民主革命的历程  
B. 中国人民的探索抗争  
C. 中国近代化步履艰难  
D. 列强入侵与民族危机

27. “大将筹边尚未还，湖湘子弟满天山。新栽杨柳三千里，引得春风渡玉关。”这首诗是歌颂（ ）
- A. 左宗棠收复新疆  
B. 黄海海战北洋水师的英勇抗日  
C. 曾纪泽收回伊犁  
D. 丘逢甲、徐骧义军反割台斗争
28. 下列图片反映的共同主题是（ ）



“致远”号撞向敌舰



刘永福与台湾军民誓师抗日



义和团战士

- A. 反抗外来侵略  
B. 寻求救国之路  
C. 掀起民主革命  
D. 推翻清朝统治
29. “麻雀叫，麻雀叫，日本人，真凶暴。我东三省，杀我们同胞。小朋友！大家起来闹，日本糖果我不吃，东洋玩具我不要。”这首童谣的出现是由于发生了（ ）
- A. 九一八事变  
B. 一·二八事变  
C. 七七事变  
D. 八一三事变
30. 1937年中国剧作者协会创作了一部三幕剧，这三幕分别是“暴风雨的前夕”“卢沟桥是我们的坟墓”“全国的抗战”，该戏剧所反映的历史事件是（ ）
- A. 西安事变  
B. 七七事变  
C. 百团大战  
D. 日本投降
31. 成都锦华茶楼向市政府请求允许演大鼓书，并承诺每日加唱抗战歌曲，藉资宣传。成都市市长认为茶馆观众集中，如遇空袭，十分危险，拒绝了 this 请求。这一情节最有可能发生于（ ）
- A. 1921—1927年  
B. 1927—1931年  
C. 1938—1945年  
D. 1946—1949年
32. “西边的太阳就要落山了，鬼子的末日就要来到。弹起我心爱的土琵琶，唱起那动人的歌谣。”这首脍炙人口的《铁道游击队》主题曲反映的时代背景是（ ）
- A. 抗日战争  
B. 八国联军侵华战争  
C. 甲午中日战争  
D. 抗美援朝战争
33. “中国人民抗日战争是世界反法西斯战争的重要组成部分”。从史实的角度对此进行论证说明，需要从下列哪几个方面着手？（ ）
- ①中国在抗战中付出的民族牺牲  
②中国战场对欧洲战场的战略支援  
③中国战区牵制日本军力的占比  
④美军在太平洋战场上的对日作战
- A. ①②③  
B. ①②④  
C. ①③④  
D. ②③④

第II卷 非选择题

34. 制度创新是人类社会发展进步的一个重要体现。阅读下列有关我国古代政治制度的材料，回答问题。(25分)

材料一 下列三图为我国古代部分朝代疆域示意图



图1



图2

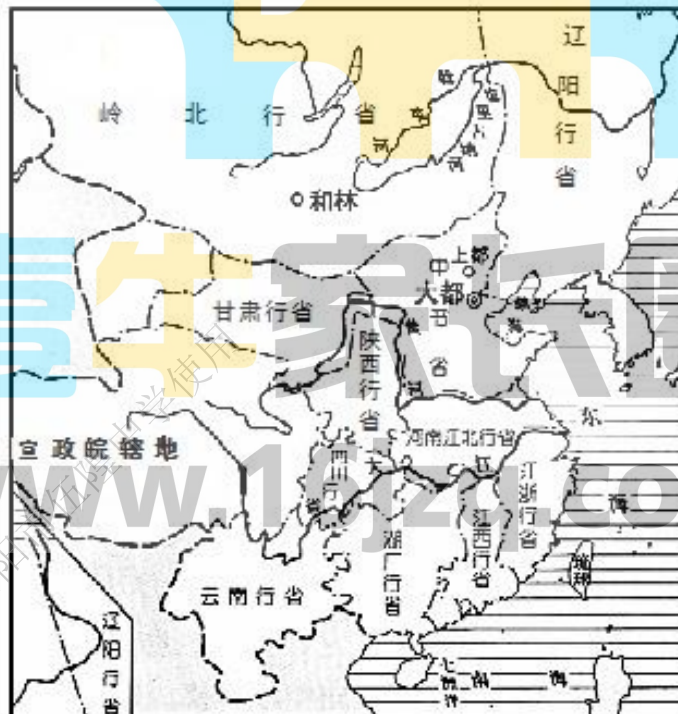


图3

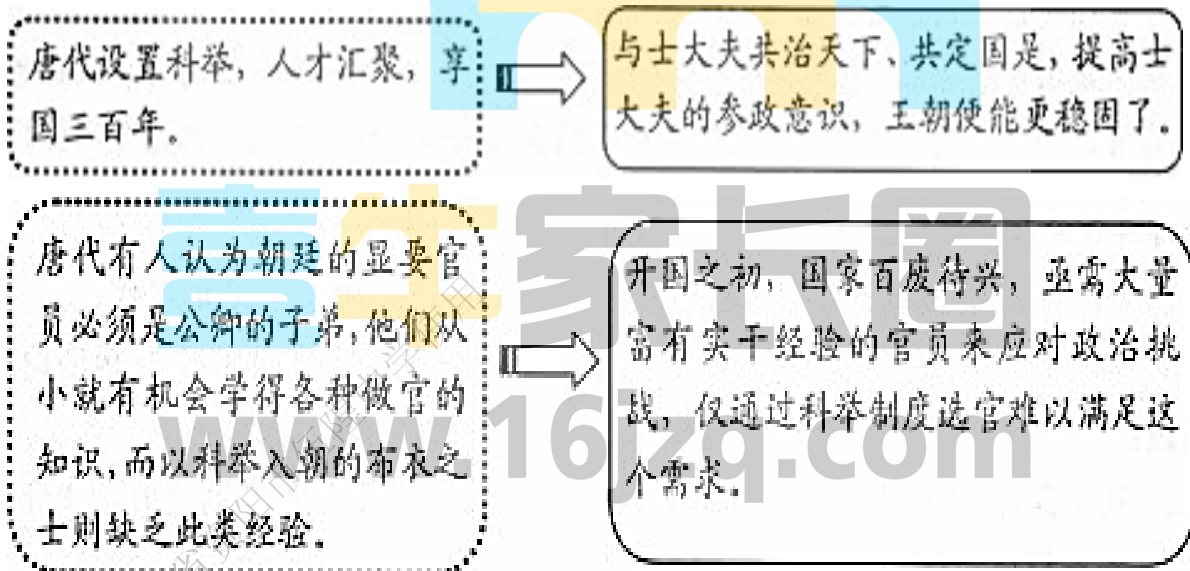
(1) 根据材料一并结合所学，指出造成图1政治局面的制度因素。从对象的角度分析该制度的特点。(6分)

(2) 图 2 推行的地方政治制度是什么？与图 1 相比，这种制度在管理形式和官员任命上有什么突出特点？（6 分）

(3) 结合所学知识分析图 3 所示制度的历史作用。（4 分）

#### 材料二 开国议政

假设你是宋初的决策者，需要做出一项重要的决定——是否大力推行科举制。决策之前，你需要考虑的因素如下：



(4) 综合以上因素，你会做出怎样的决策？理由是什么？（9 分）

35. 2015 年时值抗战胜利七十周年，中国邮政特别印制了 13 枚邮票加 1 枚小型张，以此向庆典献礼。13 枚邮票的内容，为国务院公布的第一批国家级抗战纪念设施、遗址及相关历史背景。其中《滇西抗战纪念馆》（如下图所示）的邮票志号为 2015—20—13。滇西抗战，对云南之于中华民族全民族抗战、中国之于世界反法西斯战争都具有独特而重要的地位。



如果让你设计抗战胜利纪念邮票一枚，你如何设计？请参考《滇西抗战纪念馆》，写出你设计的作品名称（或主题），并说明设计理念及历史依据。（9 分。要求：主题明确，命名简明扼要，史实清楚，说明充分，逻辑严密。）

壹牛家长圈

www.16jzq.com

仅供四川省资阳市伍隍中学使用