

2018~2019学年广东广州海珠区四年级上学期期末 数学试卷

一、填空.

1 600公顷= _____ 平方千米

80000平方米= _____ 公顷.

2 中国历代长城总长度约为二千一百一十九万六千一百八十六米，划线部分的数写

作 _____，其中“2”在 _____ 位上，表示 _____ 个 _____.

3 2017年，广州地铁完成新线建设投资 21700000000，日均客运量超过7670000人次. 改写成

用“万”或“亿”作单位的数是 _____ 亿元， _____ 万人次.

4 请把下面各数按从大到小的顺序排起来.

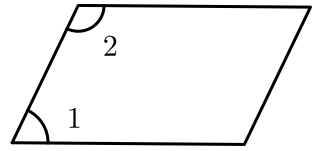
6801290 6701290 67010290 67001209

_____ > _____ > _____ > _____.

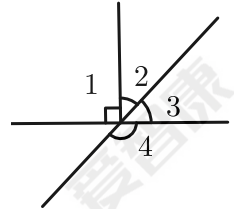
5 984273900用“四舍五入法”省略万位后面的尾数约是 _____ 万，省略亿位以后的尾数约

是 _____ 亿.

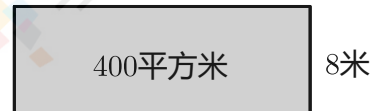
6 图中一共有 _____ 组平行线；量一量 $\angle 1 =$ _____ $^\circ$ ， $\angle 2 =$ _____ $^\circ$.



7 已知 $\angle 2 = 60^\circ$ ，那么 $\angle 3 = \underline{\quad}^\circ$ ， $\angle 4 = \underline{\quad}^\circ$ 。



8 如图这块长方形绿地的宽要增加到24米，长不变。扩大后的绿地面积是 $\underline{\quad}$ 平方米。



二、判断下面各题。

9 判断下面各题。

1. 与100万相邻的两个数是10万和1000万。 ()
2. 广州市越秀山占地面积约为86万平方千米。 ()
3. 两个锐角拼成的角一定是钝角。 ()
4. 学校清洁队有员工12人，负责清扫近400平方米的校园。这里的“12”是近似数。 ()
5. 长方形和正方形都是特殊的平行四边形。 ()

三、选择正确答案的序号填在 () 里。

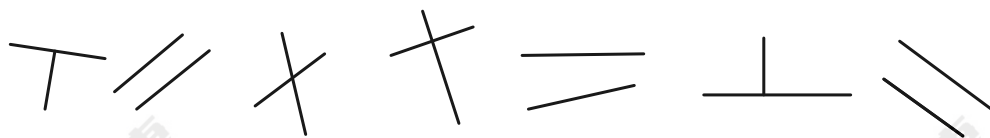
10 一辆汽车的速度是85千米/时，4小时可以行驶多少千米？解答这道题目用到的数量关系是 ()。

- A. 路程 \div 时间=速度

B. 总价=数量×单价

C. 速度×时间=路程

11 如图中，互相垂直的直线一共有（ ）组。



A. 4

B. 3

C. 2

12 下列各数中，只读一个“零”的是（ ）。

A. 1702500

B. 1072050

C. 1702005

13 陈叔叔在跑道上画了一条长10米的（ ）。

A. 线段

B. 射线

C. 直线

14 下面算式中（ ）与 $240 \div 120$ 的得数不相等。

A. $250 \div 130$

B. $480 \div 240$

C. $2400 \div 1200$

四、计算题.

直接写出计算结果.

$$\begin{array}{l} 60 \div 10 \quad 400 \div 50 \quad 13 \times 20 = \quad 500 \times 14 = \\ = \quad \quad \quad = \\ 80 \div 40 \quad 18 \times 2 = \quad 450 \div 90 \quad 3 \times 26 = \\ = \quad \quad \quad = \end{array}$$

16 用竖式计算下面各题, 带★的要验算

(1) $267 \times 83 =$

(2) $802 \times 40 =$

(3) $722 \div 38 =$

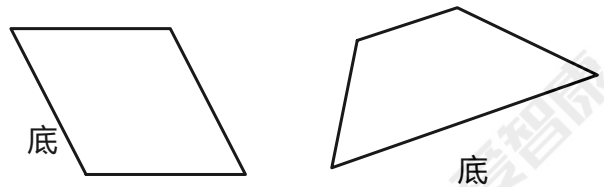
(4) $\star 904 \div 24 =$

(5) $7900 \div 600 =$

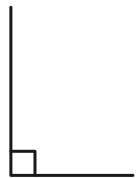
五、操作题.

17 画一个 75° 的角.

18 画出如图图形底边上的高.



19 如图是一个长方形的两条边, 请把这个长方形画完整.

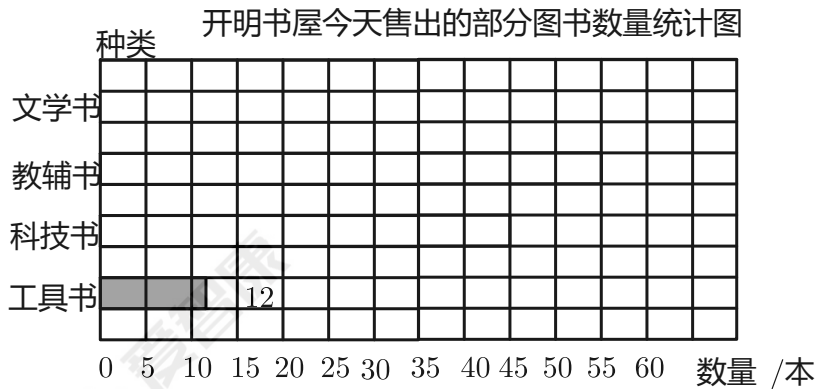


20 开明书屋今天售出的部分图书数量如下表:

| 种类 | 工具书 | 科技书 | 教辅书 | 文学书 |
|----|-----|-----|-----|-----|
| | | | | |

| | | | | |
|------|----|----|----|----|
| 数量/本 | 12 | 45 | 55 | 38 |
|------|----|----|----|----|

(1) 请根据上表, 把下面的统计图补充完整.



(2) 图中每格代表 _____ 本, 售出的 _____ 最多, _____ 最少.

六、解决问题.

- 21 图书馆买回一批书, 每个书架可以放130本书, 放了12个书架, 还剩250本, 这批书一共有多少本?
- 22 齐星果园里共有800棵果树, 其中苹果树有100棵, 其余全部是梨树. 这些梨树种植了28行, 平均每行有多少棵梨树?
- 23 学校组织540名学生去植树, 平均分成9个小队, 每个小队分成12小组, 平均每组有多少人?
- 24 珠江夜游“广州财富号”游船的票价如下表. 王阿姨带的钱刚好购买24张3楼大厅的船票. 如果购买1楼大厅的船票, 最多能买几张?

| 座位类型 | 1楼大厅 | 2楼大厅 | 3楼大厅 | 2楼露天区域 |
|------|------|------|------|--------|
| 单价/元 | 160 | 108 | 140 | 128 |