

2018年深圳龙华区初三二模历史试卷

一、选择题

1 如图是陕西西安半坡博物馆陈列的文物“粮食灰”。这种粮食作物可能是



- A. 麻 B. 小麦 C. 水稻 D. 粟

2 2018年1月，中央电视台《国家宝藏》栏目演绎了一件与计量有关的藏品“商鞅方升”（见下图）的前世今生。这一文物可以作为商鞅变法中哪一举措的佐证



- A. 奖励军功 B. 鼓励耕种 C. 确立县制 D. 统一度量衡

3 为了改变经济凋敝的状况，汉朝初年的统治者实行了休养生息政策。这一政策所体现的思想流派是

- A. 道家 B. 法家 C. 墨家 D. 儒家

4 丝绸之路开辟时在位的皇帝是

- A. 汉高祖 B. 汉文帝 C. 汉景帝 D. 汉武帝

5 唐太宗曾说：“为政之要，惟在得人。”下列治国措施体现了这一执政理念的是

- A. 制定法律，减省刑罚 B. 轻徭薄赋，发展生产
C. 考察官吏，注重政绩 D. 改革官制，分权制衡

6 宋词“壮志饥餐胡虏肉，笑谈渴饮匈奴血”表现了岳飞等人抗金的顽强意志。岳飞等将领领导的抗金活动，与宋代南方经济发展的关系是

- A. 增加了南宋战争负担
- B. 加速了北方人民南迁
- C. 保障了南方相对安定
- D. 促成了经济重心南移

7 图中所示地区，属于宣政院直辖的是



- A. ①
- B. ②
- C. ③
- D. ④

8 科举制度经历了从积极推动社会进步到束缚人们思想、阻碍社会进步的转变。这种转变开始的朝代及其相应措施是

- A. 隋朝设置进士科
- B. 唐朝设置明经科
- C. 宋朝增加录取人数
- D. 明朝实行八股取士

9 2017年8月26日，各界人士在台北举行了一场纪念郑成功的论坛活动。人们纪念郑成功，主要因为他

- A. 促进了民族交融
- B. 加强了清朝同海外各国的联系
- C. 维护了国家领土和主权完整
- D. 传播了中华优秀传统文化

10 有人说它是“一部封建制度的衰亡史”，有人说它是“封建制度、封建礼教的控诉书”，还有人说它是“一部悲剧爱情史”。上述评论指的是

- A. 《三国演义》
- B. 《红楼梦》
- C. 《西游记》
- D. 《水浒传》

11 《马关条约》签订后，在京参加会试的读书人联名上书皇帝，他们要求

- A. 自强求富
- B. 变法图强
- C. 扶清灭洋
- D. 驱除鞑虏

C. 种姓制度残存痕迹

D. 长城的残垣断壁

18 罗马帝国经过不断的征服与扩张，成为地跨哪几大洲的帝国

A. 欧亚

B. 亚非

C. 欧亚非

D. 欧亚非美

19 图甲和图乙分别是文艺复兴前、后的表现母子形象的艺术作品。它体现出文艺复兴思想主旨是



图甲

图乙

A. 以人为中心，展现人的个性

B. 复兴古希腊古罗马文化

C. 反抗教会对精神世界的控制

D. 批判社会陋习

20 印第安人说，哥伦布是一个恶魔，他破坏了当地文化，掠夺当地；欧洲人说，哥伦布是有功之臣，他把欧洲文明传到美洲。从中得到的启示是

A. 开辟新航路是错误的行为

B. 开辟新航路是正确的行为

C. 经济发展必须付出沉重的代价

D. 评价历史人物应该全面、客观、公正

21 1608年，意大利传教士利玛窦和明朝官员李之藻共同绘制了《坤舆万国全图》，是中国最早的彩绘世界地图。图中有五大洲、四大洋等地理信息。当时的人们能够绘制这种地图，受益于

A. 工业革命

B. 新航路的开辟

C. 文艺复兴

D. 科学革命

22 苏联成立以后，人民为实现社会主义工业化而努力奋斗。苏联社会主义工业化基本实现时，最高领导人是

A. 列宁

B. 斯大林

C. 赫鲁晓夫

D. 戈尔巴乔夫

23 1933年开始，美国总统罗斯福实施新政。新政的实质是



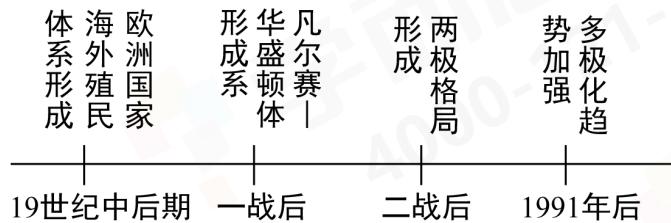
- A. 美国成功渡过经济危机
- B. 加强国家对经济的干预
- C. 资本主义制度内部的调整
- D. 工业经济的国有化

24 按时间先后顺序排列第二次世界大战中重大事件。正确的是

- ①苏德战争爆发
- ②太平洋战争爆发
- ③九一八事变
- ④诺曼底登陆

- A. ①②③④
- B. ②①④③
- C. ③①②④
- D. ④③②①

25 如图是某同学绘制的时间轴，它体现的主题是



- A. 资本主义世界市场的形成
- B. 资产阶级在世界范围内的扩大
- C. 近代以来世界格局的演变
- D. 社会主义阵营的建立和壮大

26 法国著名的作家维克多·雨果曾说：“这一天终将来临……这个大陆所有民族将更加紧密结成一个共同体……”1993年，欧洲初步实现这一预言而建立的组织是

- A. 欧共体
- B. 欧盟
- C. 北约
- D. 华约

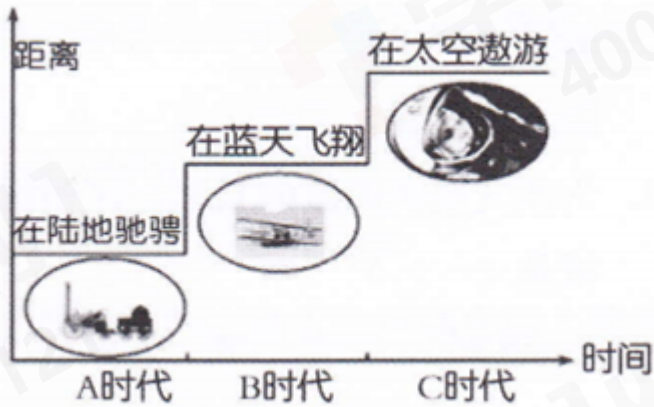
27 在世界经济日益成为一个整体的背景下，当下，由美国发起的、中美可能发生的贸易战将危及全球经济。对中美贸易争端起着一定裁决作用的是

- A. 联合国
- B. 亚太经合组织
- C. 二十国集团领导人峰会
- D. 世界贸易组织

28 “当我发表相对论理论的时候，几乎没有人能理解。而我现在揭露出来要传达给人类的，更将会与现有人类对世界的误解和偏见产生冲突。”这段话的演说者是

- A. 牛顿 B. 达尔文 C. 爱因斯坦 D. 霍金

29 下图是一张有关科技革命的示意图——向“距离”挑战。字母A应是



- A. 电气时代 B. 信息时代 C. 手工工场时代 D. 蒸汽时代


30 西方国家工业生产的年平均增长率，在两次大战之间为1.7%，在1950~1972年猛增至6.1%。导致这种变化的直接原因是

- A. 第三次科技革命的发展 B. 世界局势的相对和平
C. 美国对西方国家的援助 D. 亚太经合组织的建立

二、非选择题

31 社会习俗的变化是社会发展的缩影。阅读下列材料，回答相关问题。

材料一



图一

图二

图三

材料二

政府提倡学习欧美的资本主义文明，盖洋楼，吃西餐，穿西服，改变传统的日本发型。

——摘编自《世界历史·九年级上册》教材

材料三



材料四

1953年11月1日，北京首次发行面粉购买证，1955年国家粮食部发行“全国通用粮票”，之后油票、布票相继面世。1984年，深圳市在全国率先取消一切票证，粮食、猪肉、棉布、食油等商品敞开供应。



请回答：

- (1) 材料一中，三幅图文，均反映了当时社会习俗的变化，这些变化发生的原因是什么？图二中的“北俗之语”指的是什么？这次改革的核心是什么？有什么重要意义？
- (2) 依据材料二及所学知识回答，日本政府的这些倡议发布于哪次改革时期？这次改革对日本产生了哪些影响？
- (3) 材料三中的两幅图片反映了人们思想方面的哪些变化？引起这些变化的事件是什么？
- (4) 依据材料四及所学知识回答，引起图六到图七所反映情形变化的原因是什么？

32 法律文献是后人了解和研究历史的重要史料之一。阅读材料，回答问题。

材料一



凡未经议会同意，以国王权威停止法律或停止法律实施之僭越权力，为非法权力。凡未经议会准许，借口国王特权，为国王而征收，或供国王使用而征收金钱，超出国会准许之时限或方式者，皆为非法。向国王请愿，乃臣民之权利，一切对此项请愿之判罪或控告，皆为非法。议会之选举应是自由的。

——摘编自《权利法案》

材料二

（在叛乱地区）“为人占有而做奴隶的人们都应在那时及以后永远获得自由”，“合众国政府……将承认并保障上述人等的自由”

——摘编自《解放黑人奴隶宣言》

材料三

割香港岛给英国；废除清政府原有的公行自主贸易制度，准许英商与华商自由贸易；以口头协议决定中英民间“诉讼之事”，英商归英国自理。

——摘编自《南京条约》

材料四

领土	法国收回（普法战争中割让给德国的）阿尔萨斯和洛林
军事	禁止德国实行义务兵役制；不许拥有空军，陆军人数不得超过10万；莱茵河东岸50千米内，德国不得设防。
政治	德国承认并尊重奥地利的独立
赔款	由协约国设立“赔款委员会”，决定德国战争赔款的总数
殖民地	德国的全部海外殖民地由英、法、日等国瓜分

——摘编自《凡尔赛和约》

材料五

中国人民政治协商会议代表全国人民的意志，宣告中华人民共和国的成立，组织人民自己的中央政府……关于工业：应以有计划有步骤地恢复和发展重工业为重点……

——《中国人民政治协商会议共同纲领》

请回答：

- （1）材料一的《权利法案》是哪一历史事件的产物？这一法案调整了哪两种力量之间的矛盾？
- （2）阅读材料二，《解放黑人奴隶宣言》在当时起了什么作用？结合所学知识，从政治、经济两个角度分析南北战争对美国发展产生的影响。

- (3) 阅读材料三，通过《南京条约》，清朝哪些主权遭到了破坏？由此，中国社会性质发生了怎样的变化？
- (4) 阅读材料四，《凡尔赛和约》调整了列强在哪一地区的矛盾？这一和约主要削弱了哪国的力量？
- (5) 阅读材料五，指出《共同纲领》与中华人民共和国建立之间的关系。为了实现纲领中关于工业发展的目标，我国采取了哪一措施？哪一地区成为新中国的首批重工业基地？

33 近代历史上，为实现中华民族的独立和解放的伟大梦想，先进的中国人做出了不解努力，最终实现自己的伟大梦想。阅读材料，回答问题。

材料一

J. 里夫金在《欧洲梦》一书中认为：（18世纪以来）“美国梦”代表着最大化的个人自由，最先进的物质进步和最丰富尤其是最平等的成功机会……“欧洲梦”则不然，它强调生活质量、可持续性、安定与和谐……

——改编自乐黛云《美国梦·欧洲梦·中国梦》

材料二

“19世纪……中国人在天朝上国的迷梦中醒来，才发现“天下”变成了“世界”，……一败再败后，才有收拾旧山河的民族复兴梦，引无数仁人志士为之流泪、流汗、流血。……所以，中国人不惮以矫枉过正的姿态否定传统、学习西方。万水千山征程，一茬一茬赶路：洋务派、改良派、立宪派、国民党、共产党……一路走到1949年，五星红旗迎风飘扬，中国人民站起来，中国梦的基础牢靠起来。”

——节选自杨凯《中国梦的方位》

请回答：

- (1) 阅读材料一，请说出，18世纪以来，指导美国人实现“美国梦”的思想理论是什么？以英国为例，英国通过什么方式在18世纪提高了生活质量，实现了自己的梦想？材料二中，19世纪，中国人“一败再败后，才有收拾旧山河的民族复兴梦”。请问，在哪次战争中，近代中国第一次战败于欧洲国家？后来，中国人“不惮以矫枉过正的姿态否定传统、学习西方”，最典型的事件是什么？分别从中国历史和世界历史的角度分析，“1949年，五星红旗在天安门广场迎风飘扬”，具有怎样的历史意义？
- (2) 反思近代中国梦实现的过程，有人认为，这是学习西方的结果，还有人认为，这是中国人走自己路的结果。你持怎样的观点？依据所学史实（至少两项史实）。

