

2017~2018学年深圳南山区初一下学期期末历史试卷

一、选择题（共30小题，每小题2分，共60分）

- 1 诗风淳朴厚重，反映历史的真实情况，经历唐朝由盛而衰的诗人是
A. 李白 B. 白居易 C. 苏轼 D. 杜甫

- 2 “九秋风露越窑开，夺得千峰翠色来。”唐代诗人陆龟蒙诗中描写的是
A. 唐三彩 B. 白瓷 C. 青瓷 D. 蜀锦

- 3 国家公务员考试一般采用笔试和面试结合的方式。下列皇帝中，亲自面试考生，创立殿试制度的
是
A. 隋文帝 B. 唐太宗 C. 武则天 D. 唐玄宗

- 4 “自贞观以后，太宗励精为理。至八年、九年，……马牛布野，外户动则数月不闭。”这段文字描述的是
A. 文景之治 B. 贞观之治 C. 开元盛世 D. 康乾盛世

- 5 日本著名的汉学家内藤湖南曾说过：“日本民族未与中国文化接触以前是一锅豆浆，中国文化就像卤水一样，日本民族和中国文化一经接触就成了豆腐。”下列历史人物中将中国文化传播到日本的是
A. 鉴真 B. 玄奘 C. 郑成功 D. 郑和

- 6 杜甫生活在唐朝由盛转衰的时期，他的诗反映了历史的真情实况，故有“诗史”之称。下列诗句中反映唐朝盛世经济繁荣的是
A. 两岸猿声啼不住，轻舟已过万重山。 B. 忆昔开元全盛日，小邑犹藏万家室。

- C. 可怜身上衣正单，心忧炭贱愿天寒。 D. 春风得意马蹄疾，一日看尽长安花。

7 海外汉学家认为宋代发生了一场“城市革命”，以下材料能说明这一观点的是

- A. 商业区和居民区严格隔开 B. 商贾在指定时间、地点经商
C. 县以下不设市，入夜实施宵禁 D. 出现早市、夜市、草市

8 富弼在1040年给北宋仁宗的奏疏中说到“淮南、江南、荆南、湖北、两浙、福建、广南东西……伏思朝廷用度……尽出九道。此九道者，朝廷所仰给也。”材料说明了

- A. 政治重心南移 B. 政府赋税十分沉重 C. 经济重心南移 D. 政府财政依靠北方

9 “斜阳古柳赵家庄，负鼓盲翁正作场。身后是非谁管得？满村听说蔡中郎。”南宋诗人陆游的这首诗反映了宋代说书的流行，出现这种现象的原因是

- A. 士大夫提倡 B. 市民阶层的壮大 C. 农民的需要 D. 达官贵人的需要

10 日本汉学家宫崎市定提出：进入宋代以后，“中国的商业发展得面目一新。”以下各项能证明这一观点的是

- A. 唐三彩 B. 《天工开物》 C. 开元通宝 D. 交子

11 下图为传世名画北宋《清明上河图》（局部），从中我们可以得到的历史信息有：

- ①发达的城市 ②繁荣的商业 ③丰富的市民生活 ④严格的政府管制



- A. ①②③ B. ①②④ C. ①③④ D. ②③④

12 中国研发的北斗卫星导航系统开始提供连续的导航定位服务，覆盖区内定位精度可达10米。下列发明中与导航相关的是

- A. 造纸术 B. 毕昇 C. 指南针 D. 火铳

13 “大河百代众浪齐奔淘尽万古英雄汉，词苑千载群芳竞秀盛开一枝女儿花。”臧克家的这首对联的下联歌颂的是

- A. 苏轼 B. 李清照 C. 辛弃疾 D. 关汉卿

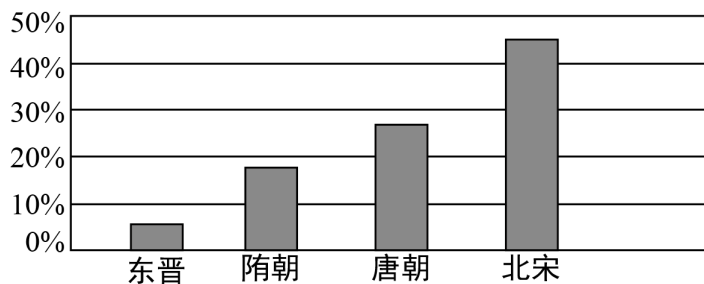
14 “餐馆、剧院、酒肆林立，娱乐场所纷纷涌现，算命、杂耍、设棋局、演杂技、演木偶戏的各类人等充斥其间。”《哈佛极简中国史》中的这段文字描述的是

- A. 交子 B. 瓦子 C. 会子 D. 蕃坊

15 假如穿越时光隧道，回到南宋都城临安（今杭州），你有可能看到的现象是

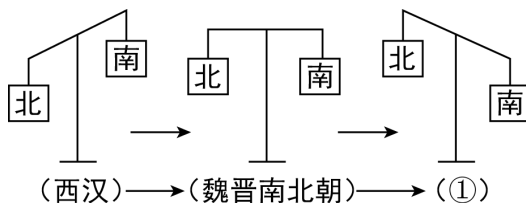
- A. 老百姓吃占城稻大米饭 B. 政府严格限制海外贸易
C. 苏轼和辛弃疾讨论宋词 D. 勾栏里表演《窦娥冤》

16 下面是东晋至北宋时期平民子弟在政府官员群体中所占比例示意图。唐宋时期这一比例变化与下列哪一制度的实行密切相关？



- A. 世袭制 B. 分封制 C. 郡县制 D. 科举制

17 如图显示了我国古代某种经济现象，与图中①相对应的时期应该是



- A. 隋朝 B. 唐朝 C. 南宋 D. 元朝

18 元朝时军民大小事务公文中出现宣政院印章次数最多的地方应该是

- A. 新疆 B. 西藏 C. 台湾 D. 云南

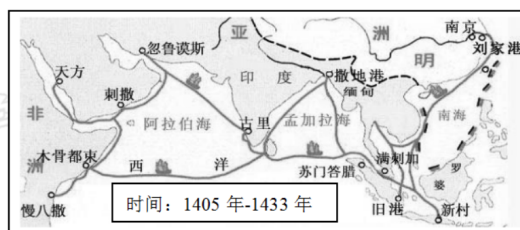
19 把音乐、舞蹈、动作、念白融合在一起，成为一种综合性艺术的是

- A. 唐诗 B. 宋词 C. 元曲 D. 明清小说

20 “以后子孙做皇帝时，并不许立丞相，臣下敢有奏请设立者，文武群臣即时劾奏，将犯人凌迟，全家处死。”说出这段话的皇帝是

- A. 李世民 B. 赵匡胤 C. 忽必烈 D. 朱元璋

21 适合作为下图名称的是



- A. 张骞通西域路线图 B. 宋朝对外交通路线图
C. 郑和下西洋路线图 D. 佛教对外传播路线图

22 明熹宗喜欢木工活，宦官魏忠贤总是趁他全神贯注做木工活时，拿出重要的奏章请他批阅，熹宗往往都会随口说：“朕已悉矣！汝辈好为之。”魏忠贤因此欺上瞒下，专擅朝政。出现这种现象的根本原因是

- A. 宦官掌握厂卫 B. 皇帝成为傀儡 C. 宦官批阅奏章 D. 皇帝独揽大权

23 故宫导游说：“这个不起眼的偏房（右图），在雍正时代及以后的清朝政治生活中，成为了这个王朝的权力中心。”这个“偏房”是



- A. 市舶司 B. 宣政院 C. 内阁 D. 军机处

24 清朝知识分子不敢过问政治和表露个人思想，连遣词造句都要小心翼翼的原因是清朝

- A. 设立特务机构 B. 制造文字狱 C. 实行八股取士 D. 设立军机处

25 小说中贾宝玉轻视儒家经典、封建伦常，骂科举、八股是“沽名钓誉之阶”，鲁迅说它“传统的思想和写法都打破了”。这部小说是

- A. 《三国演义》 B. 《水浒传》 C. 《西游记》 D. 《红楼梦》

26 1793乾隆皇帝致英国国王书写到：“天朝物产丰盈，无所不有，原不藉外夷货物以通有无。”对此理解正确的是

- A. 清朝物产无所不有 B. 中国经济领先英国 C. 清朝皇帝夜郎自大 D. 清朝推行开放政策

27 屠呦呦获得诺贝尔奖后感言：“青蒿素的发现是集体发掘中医药的成功范例。”收集了药物1892种，药方11096个，被称为具有总结性的药物学巨著是

- A. 《黄帝内经》 B. 《伤寒杂病论》 C. 《本草纲目》 D. 《千金方》

28 “弘治九年，会试《责难于君谓之恭》文，起讲先提三句，即讲‘责难于君’，四股；中间过接二句，复讲‘谓之恭’，四股；复收二句，再作大结。……篇末敷演（叙述发挥）圣人言……”这段文字所描述的历史现象的影响是

- A. 促进思想解放 B. 有利科技发展 C. 促进人才创新 D. 培养皇帝奴仆

29 历史纪年表能帮助我们理清朝代更替顺序，关于下表的说法正确的是



- A. ①的建立者是李世民
B. ②是契丹族建立的政权
C. ③的建立者是赵匡胤
D. ④的建立者是忽必烈

30 关于中国古代不同历史时期时代特征的说法正确的是

- A. 秦汉：政权分立与民族融合
B. 隋唐：统一多民族国家建立与巩固
C. 宋元：经济重心南移与民族交融
D. 明清：繁荣与开放的时代

二、材料题（共40分）

31 认识历史的主线。统一多民族国家的发展，是中国历史的一条主线。阅读下列材料，回答问题。

材料一

及与公主归国，谓所亲曰：“我父祖未有通婚上国者，今我得尚大唐公主，为幸实多。当为公主筑一城，以夸示后代。”……仍遣酋豪子弟，请入国学以习《诗》、《书》。又请中国识文之人典其表疏。

——《旧唐书·吐蕃传》

材料二

“台湾者，中国之土地也，久为贵国所踞，今余既来索，则地当归我，珍瑶不急之物，悉听而归。”

——连横《台湾通史》

材料三

布达拉宫壁画《达赖五世朝见顺治帝图》



材料四

自秦统一后的2200年间，中国统一或基本统一的时间占2/3以上，历史上每一次民族对峙、国家分裂之后，最终的结局仍是民族大融合与新的空前大统一国家的出现。中国战争史的主流是谋求统一的战争。中华文明之所以能够保持发展上的连续性，为世界上所仅见，就在于文化认同与国家统一相辅相成。

——《瞭望新闻周刊》

- (1) 结合所学，材料一中的“我”是指哪位历史人物？材料一所记述的历史事件有什么积极影响？
- (2) 材料二记述的是哪一历史事件？其中的“贵国”是指哪个国家？台湾正式成为“中国之土地也”是什么朝代？1684年清朝设置台湾府，隶属于哪个省？
- (3) 材料三中顺治帝赐予达赖五世什么封号？册封另一位宗教首领为“班禅额尔德尼”的皇帝是谁？后来清朝设置哪一机构代表朝廷与达赖、班禅共同管理西藏事务？
- (4) 结合材料四，中国历史发展的主流是什么？中华文明保持连续性的原因是什么？
- (5) 结合以上材料，为实现中华民族的伟大复兴，我们可以从历史中汲取哪些智慧？

32 感受历史的辉煌。我们有着辉煌过去，理应创造更加辉煌的未来。阅读下列材料，回答问题。

材料一

1998年，在印尼爪哇海峡水域发现了一艘唐代沉船，被命名为“黑石号”，从中打捞出三件完整的青花瓷盘，与巩义（隋唐时期属洛阳）窑唐代地层出土的青花器物年代完全一致。这说明了巩义窑的瓷器从隋唐大运河南下，直达扬州，然后再扬帆起航销往世界各地。




材料二

当我们准备借鉴西方文官制度以建立公务员制的时候，才发现原来西方文官制度竟然还是从中国的科举制学过去的。科举制在清末未能顺利地转型为现代文官考试制度，而是走到尽头，有其历史必然性。但其考试选才的“公开竞争、平等择优”精神却为西方文官考试制度所接力传承，现今中国反而要向其学习，这是值得研究与深思的。

——刘海峰《科举制对西方考试制度影响新探》

材料三



接缕垂芳饵，连筒灌小园。
已添无数鸟，争浴故相喧。
——(唐)杜甫《春水》

(宋)楼俦《耕织图》

材料四

曾经，古代四大发明，极大推动了世界科技和文明的进步，让国人引以为傲！如今，“新四大发明”——高铁、支付宝、共享单车和网购，让中国在新一轮的科技革命和产业革命中脱颖而出！它们是近年来中国科技创新的缩影，不仅改变了中国人的生活，也刷新了世界对中国的认识。

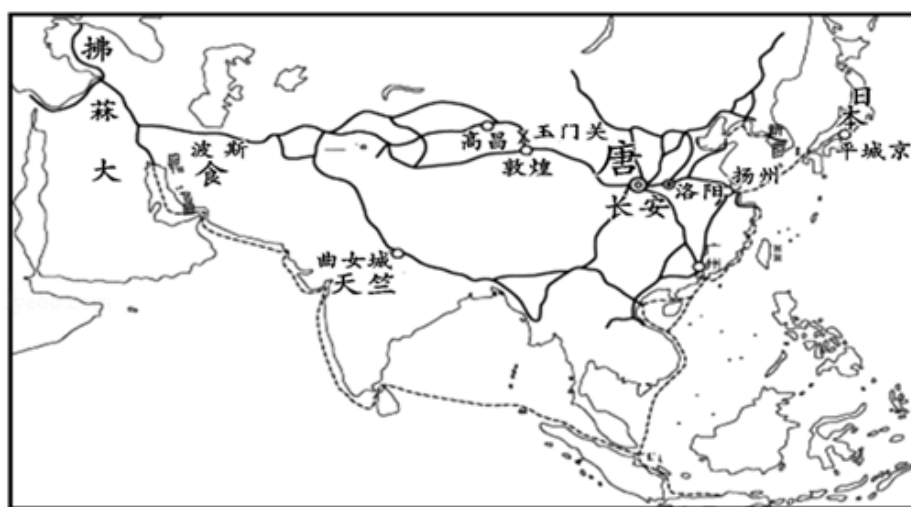
——新华社《“新四大发明”：标注中国，启示世界》

(1) 哪位皇帝主持开凿了材料一所示工程？材料一中巩义窑的瓷器从巩义运到扬州，主要走哪两段运河？结合材料指出大运河在当时的积极作用。

- (2) 根据材料二并结合所学知识分析：科举制考试内容、文体格式的什么变化使它在清末“走到尽头”？依据材料二，西方文官考试制度传承学习了科举制的什么精神？
- (3) 结合所学知识判断材料三《耕织图》中的生产工具是什么？杜甫《春水》诗中描述的生产工具是什么？它们有什么共同作用？
- (4) 我国古代促进世界远洋航海技术发展的发明是什么？综合材料四，你得到什么启示？

33 纵观中国历史，我国自汉唐始便是海洋强国，再到宋元延续，直至明朝转折，清朝衰退，由海洋强国变为海洋弱国。

材料一



唐朝主要交通路线图

材料二



- (1) 材料一中为唐与天竺之间文化交流作出贡献的人物是谁？根据他的口述由弟子记录成哪本书？材料二体现了清朝的什么对外政策？当时清朝唯一开放的通商口岸是哪里？

(2) 结合所学知识,从材料一、二中提出一个观点并展开论述。要求:观点明确;至少结合两个史实进行论证,史论结合,论证充分;结论正确有升华。