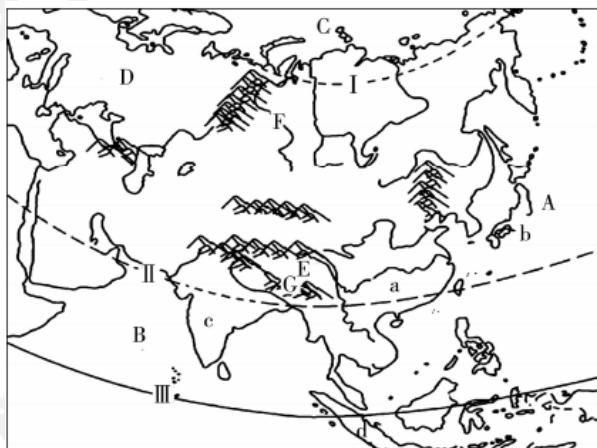


地理模块热点排行榜 No. 2

认识区域 —— 亚洲地区和国家

考点一：亚洲的纬度位置、海陆位置

1. 亚洲的地理位置：



亚洲地区图

(1) 半球位置：从东西半球看，亚洲大部分位于东半球；从南北半球看，亚洲大部分位于北半球。

(2) 纬度位置：绝大部分位于北温带，有少量的热、寒带；北极圈（I）、北回归线（II）、赤道（III）穿过亚洲。

(3) 海陆位置：东临太平洋（A），北临北冰洋（C），南临印度洋（B），西邻欧洲（D）。

2. 亚洲可划分为6个地区：东亚、南亚、东南亚、西亚、中亚、北亚。

3. 亚洲的主要国家：a 中国、b 日本、c 印度、d 印度尼西亚等。

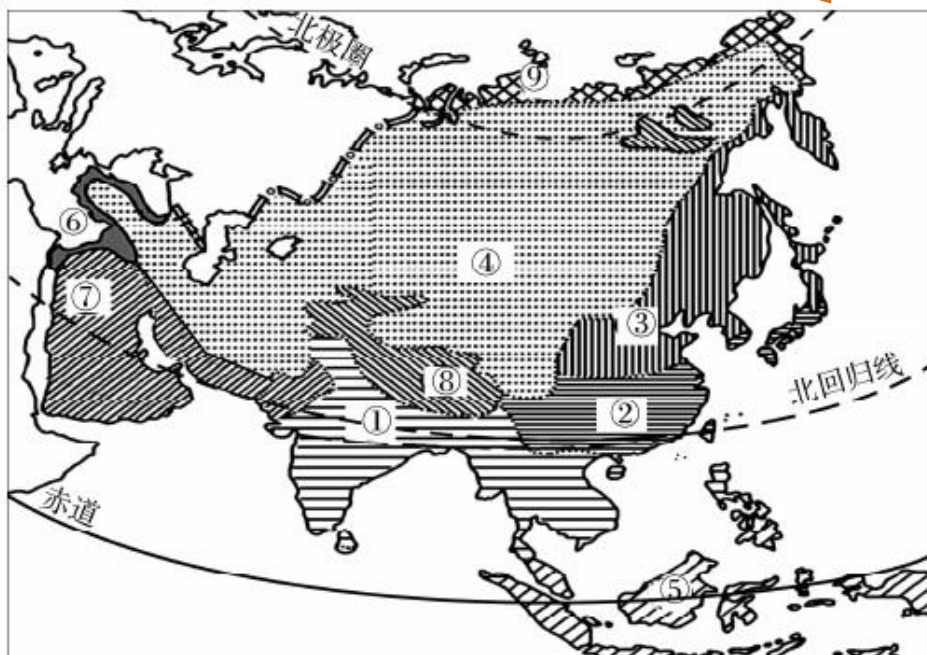
考点二：亚洲的地形、气候、河流特点及其相互关系

1. 亚洲的地形以山地、高原、平原为主。如上图 G 喜马拉雅山脉、E 青藏高原、F 西西伯利亚平原。

2. 河流流向特点：从中间向四周呈放射状注入海洋。

3. 由河流流向判定亚洲地势特点：中部高，四周低。

4. 亚洲的气候：



亚洲气候类型分布图

季风气候：①热带季风气候、②亚热带季风气候、③温带季风气候。

面积最广的气候：④温带大陆性气候。

其他气候：⑤热带雨林气候、⑥地中海气候、⑦热带沙漠气候、⑧高山高原气候、⑨苔原气候。

北回归线自西向东穿过的气候类型依次是：热带沙漠气候、热带季风气候、亚热带季风气候。

5. 亚洲气候复杂多样，30° N 纬线穿过的气候类型如下表：

地中海	地中海气候	亚热带和热带沙漠气候	温带大陆性气候	高山高原气候	亚热带季风气候	太平洋
-----	-------	------------	---------	--------	---------	-----

6. 亚洲气候具有三大特点：气候复杂多样；季风气候显著；大陆性气候分布广。

7. 影响亚洲气候的主要因素：跨纬度广，海陆位置，地形因素。

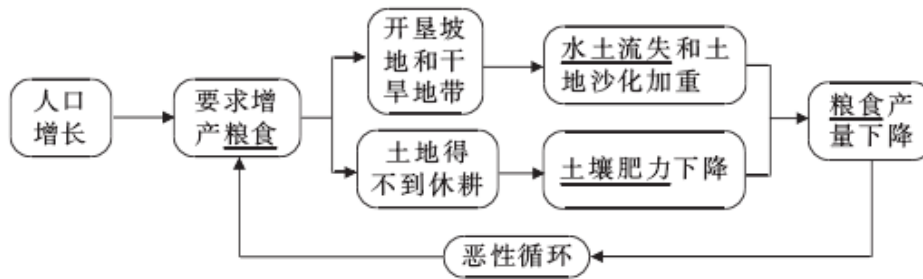
考点三：亚洲的人文环境

1. 亚洲的人口：

人口数量：人口总数居世界第一，人口过亿的国家有 6 个。

人口增长：是世界人口自然增长率比较高的大洲。

2. 亚洲的人口、资源、环境问题产生的关系：



3. 亚洲的自然条件对生活习惯的影响：

民族或国家	生活特点	自然条件
亚库特人	住木屋，穿毛皮服装	气候寒冷，木材丰富
恒河三角洲上的居民	以船为交通工具	恒河三角洲降水丰富，河网密布
印度尼西亚的达雅克人	居住高脚屋	气候炎热潮湿
日本	建造房屋多用轻质防震材料	多地震
沙特阿拉伯的贝都因人	住帐篷，身着宽大袍子	气温高，降水少
也门	房屋墙厚窗小	属热带沙漠气候，气候炎热，风沙大

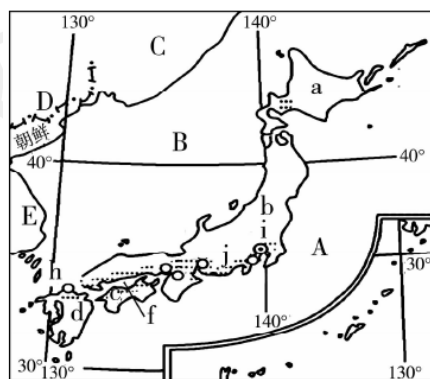
4. 亚洲各国经济发展状况：

发达国家：日本。

其余大部分国家属于发展中国家。发展比较快的国家有中国、新加坡、泰国、沙特阿拉伯等。

考点四：亚洲的地区和国家

1. 日本



日本的自然环境：

(1) 日本的地理位置及其优越性

①日本周围的海域：A 太平洋、B 日本海、f 濑户内海、h 朝鲜海峡。

②隔海相望的国家：C 俄罗斯、D 中国、朝鲜和 E 韩国。

③位置优越性：四面环海，便于发展渔业；海岸线曲折，多优良港湾，便于发展运输业。

(2) 日本的四大岛屿：a 北海道岛、b 本州岛、c 四国岛、d 九州岛。其中面积最大的是本

州岛。

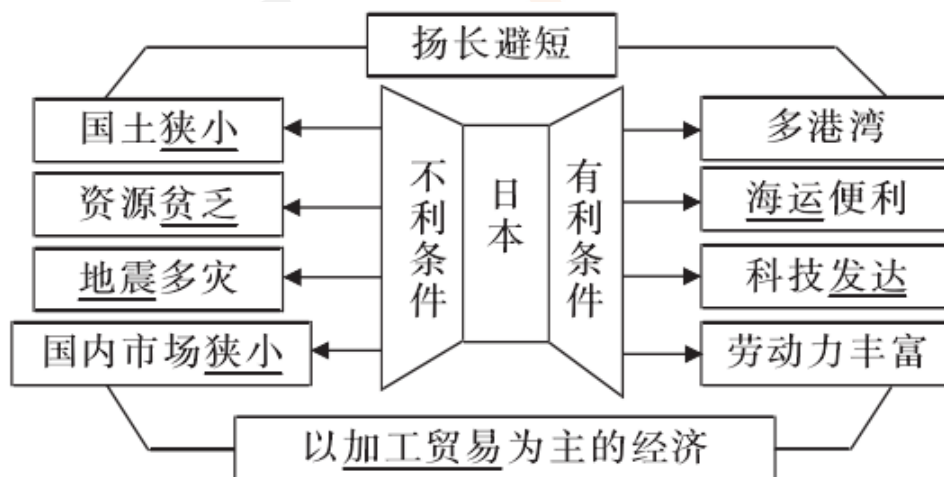
(3) 日本位于环太平洋火山地震带上，处于欧亚板块与太平洋板块的交界处，地壳活跃，火山、地震活动频繁。房屋多用轻质防震建筑材料，孩子从小就接受防震教育。

(4) 地形：以山地为主，平原面积狭小且大多分布在沿海。

i 关东平原是日本最大的平原。j 富士山是著名的活火山，也是日本最高峰。

日本的经济：

(1) 发展条件及特点。(如下图所示)

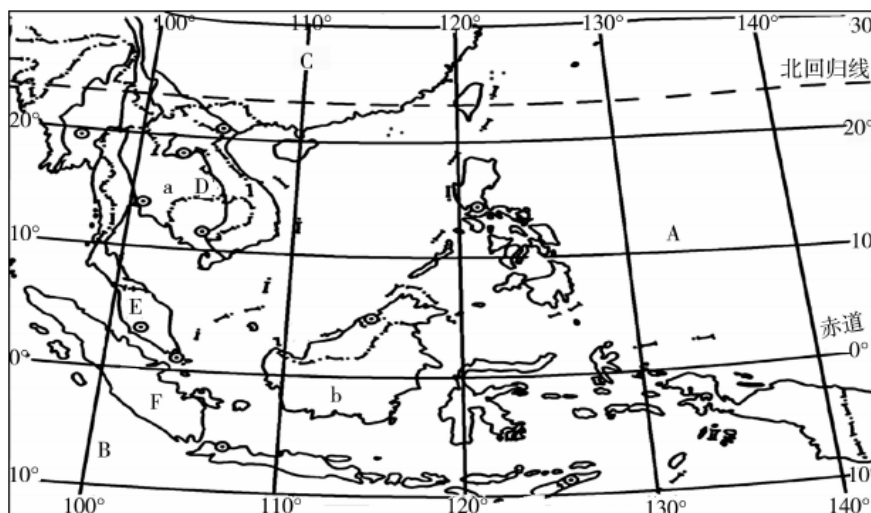


(2) 工业分布特点及原因。

①分布特点：集中分布在太平洋沿岸和濑户内海沿岸的狭长地带。

②原因：沿海地区多优良港口，海上交通便利，便于进口原料、燃料，出口工业产品。

2. 东南亚：



(1) 东南亚的地理位置：

①纬度位置：东南亚大部分区域位于赤道和北回归线之间，因此从温度带来看大部分位于热带。

②海陆位置：地处 C 亚洲与大洋洲，A 太平洋与 B 印度洋之间的“十字路口”。

(2) 东南亚的范围：包括 a 中南半岛以及 B 马来群岛的大部分。

(3) 地形、河流、气候:

项目	中南半岛	马来群岛
地形	山河相间、纵列分布	地形崎岖
河流	最重要的河流是D湄公河	河流湍急
气候	大部分是热带季风气候，终年高温，分旱、雨两季	大部分是热带雨林气候，终年高温多雨

(4) 马六甲海峡:

①位置: 位于E马来半岛和F苏门答腊岛之间。

②意义: 从欧洲、非洲向东航行到东南亚、东亚各港口最短航线的必经之地; 是联结欧洲、印度洋沿岸港口与太平洋西岸港口的重要航道。

(5) 东南亚的农业:

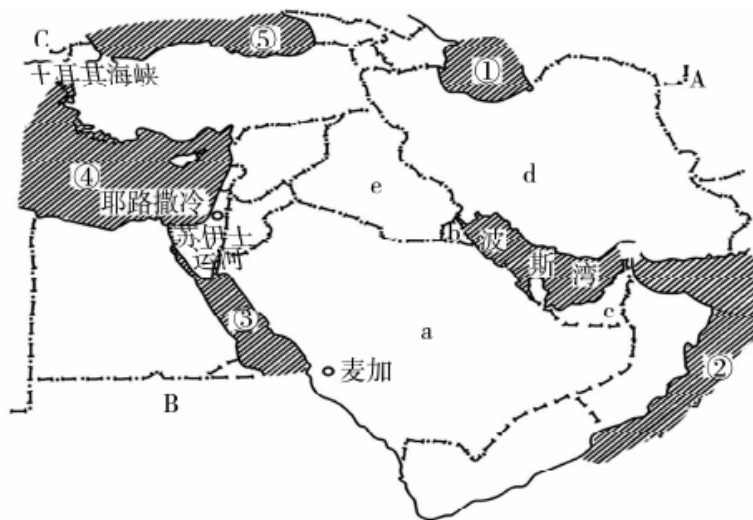
①农作物: 粮食作物为水稻, 热带经济作物有天然橡胶、油棕、椰子、蕉麻等。

②农作物分布:

马来西亚	泰国、越南、缅甸	泰国	菲律宾	印度尼西亚
世界最大的棕榈油生产国	世界重要的稻米出口国	世界最大的橡胶生产国	世界最大的蕉麻生产国和椰子出口国	世界最大的椰子生产国

(6) 城市和居民: 中南半岛的大城市主要分布在河流沿岸和河口三角洲。东南亚是世界上海外华人最集中的地区。

3. 西亚:



(1) 西亚的地理位置——“五海三洲之地”。

五海: ①里海, ②阿拉伯海, ③红海, ④地中海, ⑤黑海。

三洲: A 亚洲, B 非洲, C 欧洲。

(2) 重要的产油国以及石油集中分布地区:

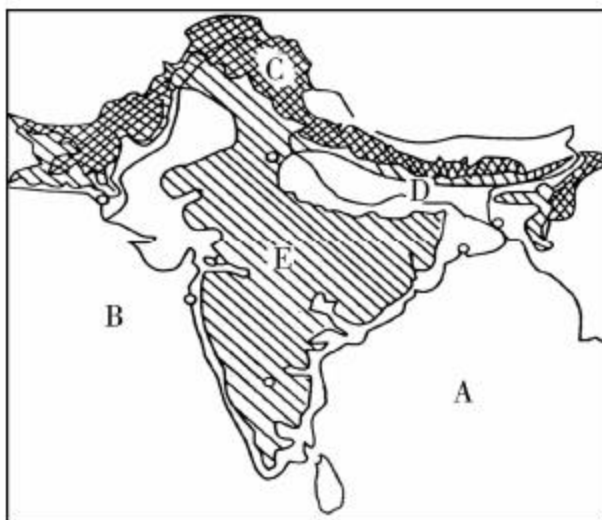
①西亚是世界上石油储量最为丰富、石油产量和输出量最多的地区。

②西亚的石油主要分布在波斯湾及其沿岸地区。

③西亚主要产油国: a 沙特阿拉伯、B 科威特、C 阿拉伯联合酋长国、D 伊朗、e 伊拉克等。

(3) 西亚的宗教: 伊斯兰教、基督教和犹太教都把耶路撒冷奉为圣城。

4. 南亚：



(1) 南亚的位置、地形和气候：

①位置：位于亚洲南部喜马拉雅山脉中、西段与印度洋之间，东濒A孟加拉湾，西濒B阿拉伯海。

②地形：北部——C喜马拉雅山脉；中部——D恒河平原；南部——E德干高原。

③气候：南亚大部分位于热带和亚热带，气候以热带季风气候为主，特点是终年高温，降水分为旱雨两季。

(2) 南亚的农业和工业：

①南亚的农业：主要粮食作物有小麦、水稻。20世纪60年代，为改进粮食生产技术，印度实行了“绿色革命”。

②农作物分布：水稻——印度东北部和西部沿海地区、孟加拉国西部；小麦——西北部干旱少雨地区；黄麻——恒河下游地区；棉花——德干高原西部地区。

③南亚水旱灾害与西南季风的关系

水灾：西南季风来得早，退得晚，风力强盛，降水多，容易引发水灾。

旱灾：西南季风来得晚，退得早，风力不足，降水少，容易引发旱灾。

④印度的工业：主要发展钢铁工业、机械制造业、化学工业、棉麻纺织工业，信息技术、生物技术以及航空航天等高科技产业发展迅速。

巩固练习

1. 夏季炎热多雨、冬季寒冷干燥的气候分布在图中（ ）

- A. A处
- B. C处
- C. E处
- D. B处

2. B处的传统民居是（ ）

- A. 帐篷



- B. 高脚屋

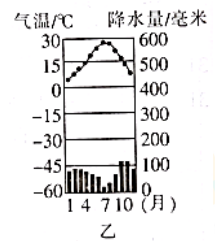
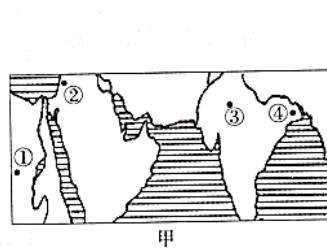
- C. 窑洞
D. 墙厚窗小的平顶房
3. 造成 A、F 两地降水差异的主要原因是 ()
A. 经度位置不同
B. 纬度位置不同
C. 海陆位置不同
D. 地形、地势不同
4. 一艘货轮在 D 地的某港口装船外运, 装船的货物最有可能是 ()
A. 小麦
B. 石油
C. 大米
D. 煤

读“东南亚局部地区示意图”, 回答 5~6 题。

5. 图中甲半岛的地形特征是 ()
A. 平原为主, 地势平坦
B. 高原为主, 地面崎岖
C. 山河相间, 纵列分布
D. 地形复杂, 中高周低
6. 该半岛人口和大城市主要分布在河流沿岸及河口三角洲地区, 其主要原因是 ()
①永流湍急, 水能丰富 ②地形平坦 ③水源充足 ④交通便利
A. ①②
B. ②③
C. ①②③
D. ②③④
7. 清清打算春节期间去东南亚旅游, 他临时时没有必要携带的物品是 ()
A. 雨伞
B. 棉衣
C. 摄像机
D. 肠胃药品

读右面甲、乙两图, 回答 8~9 题。

8. 下列关于图中①②③④四地自然条件的叙述错误的是 ()
A. ①地为热带沙漠气候
B. ②地降水集中在夏季
C. ③地有明显的旱季和雨季
D. ④地降水最多



9. 甲图四地气候类型与乙图一致的是 ()
A. ①
B. ②
C. ③
D. ④
10. 第十九次东盟—中国(10+1)领导人会议于 2016 年 9 月 7 日上午在老挝首都万象举行, 中国国务院总理李克强出席会议时, 就南海问题阐述了中方的主场和主张。东盟的国家主要来自东南亚, 下列有关东南亚的叙述正确的是 ()
A. 东南亚主要位于温带地区, 小部分位于热带
B. 东南亚地区都是热带雨林气候, 没有温带气候
C. 在东南亚分布范围最广的气候是热带季风气候
D. 老挝是一个内陆国, 与马来西亚相邻
11. 下列河湖与其所在的大洲组合正确的是 ()

- A. 亚马孙河——南美洲
- B. 尼罗河——亚洲
- C. 里海——北美洲
- D. 苏必利尔湖——非洲

12. 居住在亚洲西部和非洲北部的阿拉伯男子，传统习俗是戴头巾、身穿宽大的白色长袍，骑骆驼出行。他们的这些风俗与下列哪一因素有关（ ）

- A. 美观休闲能保暖
- B. 地形崎岖宜行走
- C. 炎热干燥多风沙
- D. 狩猎探险真方便

读右下图，回答 13~15 题。

13. 图中①~⑦中，表示温带大陆性气候的是（ ）

- A. ①
- B. ③
- C. ⑤
- D. ⑦



14. 下列叙述正确的是（ ）

- A. 东南亚分布最广的气候是②
- B. 气候类型④的特点是全年高温多雨
- C. ⑥为该大洲独有的气候类型
- D. ⑧为亚热带季风气候

15. 亚洲没有的气候类型是（ ）

- A. 温带海洋性气候
- B. 温带大陆性气候
- C. 热带雨林气候
- D. 温带季风气候

“地形以高原、山地为主，平均海拔高；地面起伏大，高低悬殊；地势中部高，四周低。”

以上是对某大洲地形特征的描述，据此回答 24~25 题。

16. 该大洲是（ ）

- A. 亚洲
- B. 非洲
- C. 欧洲
- D. 南美洲

17. 关于该大洲的世界之最，下列说法正确的是（ ）

- ①有世界上面积最大的季风气候区
 - ②有世界上面积最大的平原
 - ③有世界上最长的河流
 - ④有世界上海拔最高的山脉
- A. ①②
 - B. ①④
 - C. ③④
 - D. ②③

湄公河是亚洲一条重要的国际性河流，被称为“亚洲多瑙河”，在我国境内称为澜沧江。

据此回答 18~19 题。

18. 下列有关湄公河的叙述正确的是（ ）

- A. 亚洲流经国家最多的河流
- B. 亚洲水力资源最丰富的河流
- C. 亚洲航运最发达的河流
- D. 亚洲流量最大的河流

19. 湄公河流经的中南半岛典型的地表形态是（ ）

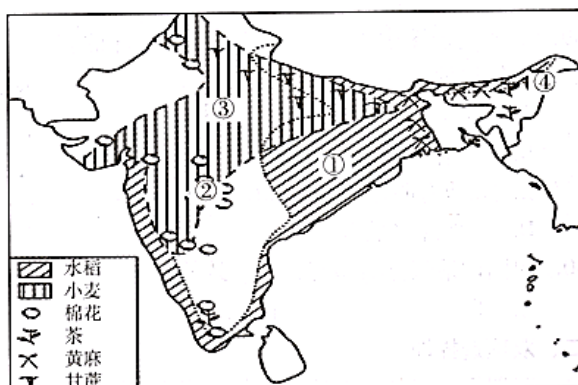
- A. 远看是山，近看成川
- B. 地势低平，平原广布
- C. 山河相间，纵列分布
- D. 地势高峻，雪峰相连

20. 下列有关亚洲景观的描述不正确的是 ()
- A. 青藏高原是世界上最高的高原
B. 喜马拉雅山脉是世界上最长的山脉
C. 长江是中国第一长河
D. 贝加尔湖是世界上最深的淡水湖
21. 造成亚洲南北气温差异的主要原因是 ()
- A. 海陆位置
B. 纬度位置
C. 地形因素
D. 洋流因素

读“印度农作物及其主要分布地区图”，回答 22~23 题。

22. 读图，判断下列搭配正确的是 ()

- A. 小麦——①
B. 黄麻——②
C. 水稻——③
D. 茶——④



印度农作物及其主要分布地区图

23. 印度的棉花主要分布在 ()

- A. ①
B. ②
C. ③
D. ④

24. 印度的黄麻产量居世界第一位，其最大的麻纺织工业中心城市是 ()

- A. 新德里
B. 加尔各答
C. 孟买
D. 乞拉朋齐

读右图，回答 25~26 题。

25. 图中所示的海峡是 ()

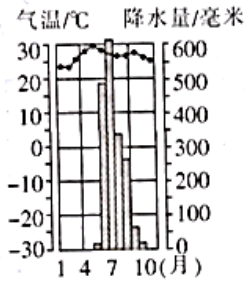
- A. 直布罗陀海峡
B. 曼德海峡
C. 马六甲海峡
D. 白令海峡



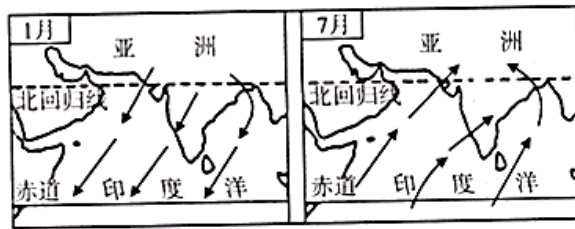
26. 下列关于该海峡的叙述不正确的是 ()

- A. 位于马来半岛与苏门答腊岛之间
B. 位于中南半岛与加里曼丹岛之间
C. 是沟通太平洋与印度洋的天然水道
D. 是联结欧洲、印度洋沿岸港口与太平洋西岸港口的重要航道

读下面两幅图，回答 27~28 题。



孟买年内各月气温和降水量图



南亚1月和7月风向

27. 下列有关孟买气候特点的叙述正确的是 ()
- A. 夏季高温多雨，冬季寒冷
B. 全年温和多雨
C. 有明显的旱季和雨季
D. 降水季节分配均匀
28. 将两图结合分析，可以看出 ()
- A. 1月吹东北季风，降水较多
B. 1月吹西南季风，降水较少
C. 雨季吹东北季风
D. 西南季风给南亚带来丰沛的降水
29. 下列名胜古迹位于印度的是 ()



A



B

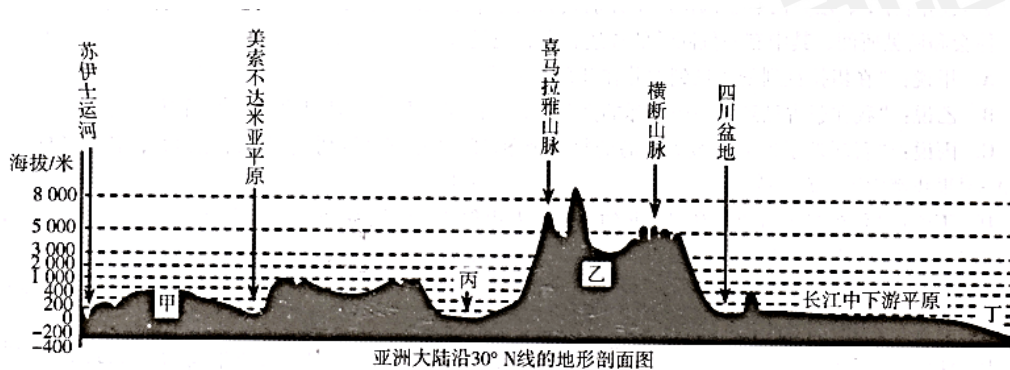


C



D

读下图，回答 30~31 题。



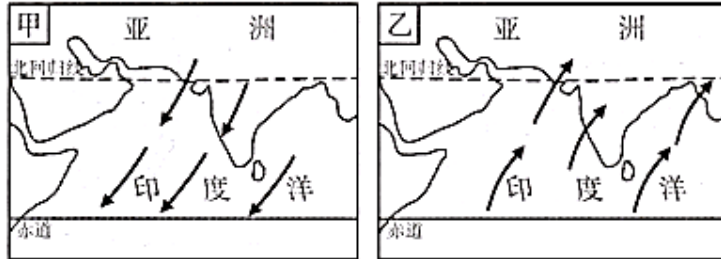
30. 图中甲、乙、丙、丁代表的地理事物名称分别是 ()
- A. 伊朗高原、青藏高原、恒河平原、大西洋
B. 伊朗高原、青藏高原、恒河平原、太平洋
C. 阿拉伯高原、青藏高原、印度河平原、大西洋
D. 阿拉伯高原、青藏高原、印度河平原、太平洋
31. 该图反映出亚洲地势东西方向变化的特点是 ()
- A. 西部高、东部低
B. 中部高、东西两侧低
C. 东西低、南北高
D. 四周高、中部低
32. 小明把各大洲的资料混在一起了，请你帮他找出不是亚洲的资料 ()

- A. 地形以高原山地为主
- C. 是跨经度最广的大洲

- B. 是七大洲中面积最大的大洲
- D. 是人口最多的大洲

双项选择题:

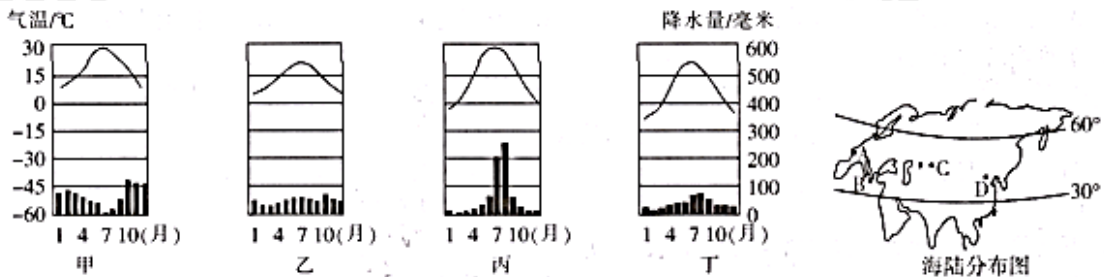
读“南亚凉季和雨季风向图”，回答 33~34 题。



南亚凉季和雨季风向图

- 33. 亚洲南部的冬季风和夏季风分别来自 ()
 - A. 亚欧大陆
 - B. 印度洋
 - C. 太平洋
 - D. 非洲大陆
- 34. 甲、乙两图的风向是 ()
 - A. 西北风
 - B. 东北风
 - C. 西南风
 - D. 东南风
- 35. 下列有关东南亚的叙述正确的是 ()
 - A. 东南亚位于亚洲和欧洲之间
 - B. 东南亚位于亚洲和大洋洲之间
 - C. 东南亚处在太平洋和大西洋之间
 - D. 东南亚处在太平洋和印度洋之间
- 36. 某年 7 月初，一艘油轮从波斯湾某油港出发，沿②线路于 7 月末到达上海港，一船员对沿途经历的叙述不可信的是 ()
 - A. 油轮驶出霍尔木兹海峡前，向西望去，沿岸沙漠广布
 - B. 油轮行驶至图中位置时，逆风航行
 - C. 沿途看到了我国满载小麦和铁矿石的货轮正驶向非洲
 - D. 沿途驶过了霍尔木兹海峡、马六甲海峡和台湾海峡
- 37. 下列国家属于西亚的主要石油生产国的是 ()
 - A. 沙特阿拉伯
 - B. 科威特
 - C. 埃及
 - D. 尼日利亚

读甲、乙、丙、丁四个地点的气温和降水变化图及“海陆分布图”，回答 38~39 题。

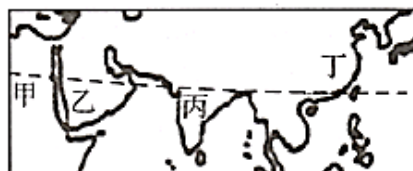


- 38. 根据气温变化曲线来判断，四地一定不位于 ()
 - A. 热带
 - B. 亚热带
 - C. 温带
 - D. 寒带
- 39. 将海陆分布图中的四地与气温和降水变化图中所对应的气候搭配正确的是 ()

- A. 甲——A——地中海气候
 B. 乙——B——温带海洋性气候
 C. 丙——D——温带季风气候
 D. 丁——C——温带大陆性气候
40. 日本工业结构的发展方向是 ()
 A. 劳动密集型 B. 技术密集型 C. 节能节材型 D. 传统加工型
41. 亚洲幅员辽阔, 自然环境复杂多样。下列关于亚洲的叙述正确的是 ()
 A. 亚洲地形类型复杂, 以高原、山地为主
 B. 受地形地势影响, 许多大河自东向西流
 C. 亚洲分布范围最广的气候类型是温带季风气候
 D. 亚洲地跨热带、温带和寒带, 是世界上跨纬度最广的大洲
42. 亚洲人口分布密集的地区是 ()
 A. 亚洲的西部 B. 亚洲的东部 C. 亚洲的中部 D. 亚洲的南部
43. 下列半岛位于欧亚板块的是 ()
 A. 朝鲜半岛 B. 阿拉伯半岛 C. 印度半岛 D. 中南半岛
44. 下列地理事物既是亚洲之最又是世界之最的是 ()
 A. 最长河流——长江 B. 最深的湖——贝加尔湖
 C. 最大湖泊——里海 D. 面积最大的国家——中国
45. 下列关于亚洲地势的叙述错误的是 ()
 A. 地势中部高, 四周低 B. 地形以高原、山地为主
 C. 西部高原, 中部平原, 东部山地 D. 地形以平原为主
46. 近年来, 东南亚成为亚洲新兴的旅游热点地区。小明 2016 年 6 月下旬到新马泰旅游, 下列是他写的旅游见闻, 你认为不正确的是 ()
 A. 当地人大多吃米饭, 每天午后时常会下一场雨
 B. 从车窗向外看, 看到了成片的橡胶林和油棕种植园
 C. 站在马六甲海峡的海岸观看来往的货船, 许多满载的日本油轮往印度洋方向驶去
 D. 在新加坡领略了花园城市的风光, 用汉语与当地人交流, 还看到了火山喷发时的奇观

读右下图, 回答 47~48 题。

47. 下列有关图中甲、乙、丙、丁四地气候的说法正确的是 ()
 A. 四地纬度相同, 气候类型相同
 B. 丙地冬季盛行东北风
 C. 甲、乙两地终年炎热干燥
 D. 丁地夏季盛行西南风



48. 下列有关四地所在国家的特征叙述正确的是 ()
 A. 甲地所在国家以白色人种为主
 B. 乙地所在国家是世界上石油出口量最大的国家

- C. 丙地所在国家的经济高度发达
- D. 丁地所在国家是世界上人口最多、面积最大的国家

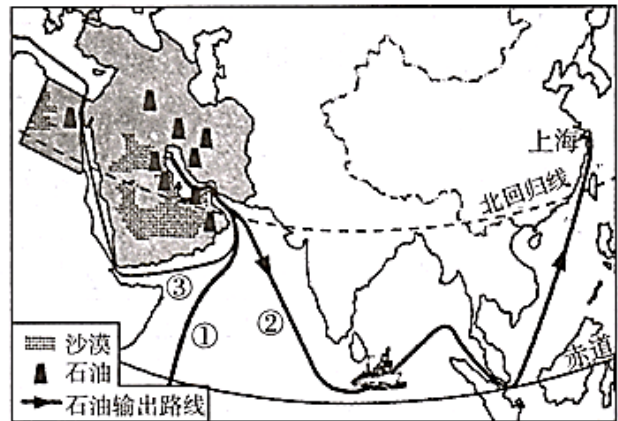
读右下图（图中阴影部分为中东地区），回答 49~51 题。

49. 中东地区地理位置的重要性体现在（ ）

- A. 立于“五海三洲之地”
- B. 沟通印度洋和太平洋
- C. 自古以来就是东西方交通要道
- D. 地处亚洲、大洋洲、非洲的交界地带

50. 通过①线路运输的石油主要输往（ ）

- A. 南非
- B. 澳大利亚
- C. 美国
- D. 西欧



日本是东亚地区一个多山的岛国，也是一个火山地震活动频繁的国家。读右图，回答

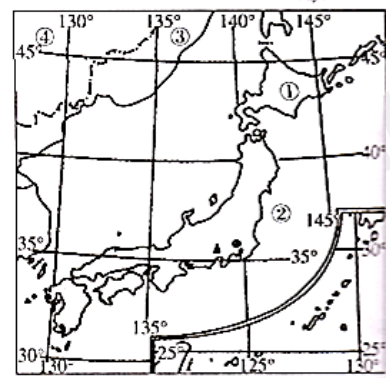
51~52 题。

51. 下列关于图中序号代表的地理事物名称搭配正确的是（ ）

- A. ①——北海道岛
- B. ②——日本海
- C. ③——朝鲜
- D. ④——中国

52. 下列关于日本自然地理特征的叙述正确的是（ ）

- A. 位于本州岛的关东平原是其最大的平原
- B. 处于环太平洋火山地震带上，火山、地震活动频繁
- C. 气候四季分明，很少受到台风侵袭
- D. 富士山位于北海道岛，山顶白雪皑皑，终年不化



答案:

1-5 ABCBC 6-10 DBBBC 11-15 ACDBA 16-20 ABACB

21-25 BDBBC 26-30 BCDCD 31-32 BC

双选:

33	AB	43	AD
34	BC	44	BC
35	BD	45	CD
36	BC	46	CD
37	AB	47	BC
38	AD	48	AB
39	CD	49	AC
40	BC	50	CD
41	AD	51	AD
42	BD	52	AB



扫码加入生地会考复习营，广东省会考真题+全真模拟考试+“鸭”题卷等福利资料在等你！



扫码关注公众号，获取更多升学资讯