

地理模块热点排行榜 No. 3

北方地区和南方地区

考点一：北方地区和南方地区的地理位置与范围

名称	位置范围	省区范围	划分依据
北方地区	大致位于大兴安岭、乌鞘岭以东、秦岭—淮河一线以北，东临渤海、黄海	东北三省、黄河中下游各省的全部或大部，以及甘肃省东南部和江苏、安徽的北部	我国季风气候区的北部地区，1月0℃等温线和800毫米等降水量线以北
南方地区	位于秦岭—淮河一线以南，青藏高原以东，东南部临东海、南海	长江中下游、南部沿海和西南各省（市、自治区）	我国季风气候区的南部地区，1月0℃等温线和800毫米等降水量线以南

考点二：识别南方地区和北方地区的主要地形类型及特征；说出某一区域的气温、降水分布概况，并分析气候对当地农业生产的影响

比较北方地区与南方地区的自然地理和人文地理差异

比较项目		北方地区	南方地区	
自然地理	地形	高原、平原、山地	平原、盆地与高原、丘陵交错分布	
	耕地类型	以旱地为主	以水田为主	
	气候	以温带季风气候为主	以亚热带、热带季风气候为主	
	河流	流量小，汛期短，冬季有结冰现象	流量大，汛期长，冬季无结冰现象	
	植被	温带落叶阔叶林和针叶林	亚热带常绿阔叶林	
人文地理	农业	作物熟制	一年两熟、一年一熟或两年三熟	一年两熟至三熟
		主要农作物	小麦、玉米、棉花、甜菜、大豆、花生等	水稻、棉花、油菜、甘蔗等
	交通	以陆路运输为主	水运仍是常用的运输方式	
	传统民居	屋顶坡度较小，墙体较厚	屋顶坡度较大，墙体较薄	
	传统运动项目	溜冰、滑雪等	游泳、赛龙舟等	

考点三：以长江流域为例，说明河流在区域发展中的重要作用

1. 长江沿江地带：

(1) 范围：东起上海，西至四川省攀枝花，东西绵延 3 000 多千米；南北宽度大致在长江干流两岸 100~200 千米的范围内。

(2) 自然条件：

地形：以平原与低山丘陵为主

气候：亚热带季风气候

自然资源丰富：水、水能、矿产资源等

(3)沿江地带的城市：

长江上游城市群——以重庆为中心；长江中游城市群——以武汉为中心；

长江下游城市群——以南京为中心；长江三角洲城市群——以上海为中心。

(4)上海：全国最大的港口、最大的综合性工业基地、最大的商业中心及最大的城市。

2. 长江沿岸地带的两大工业走廊及其中心城市：

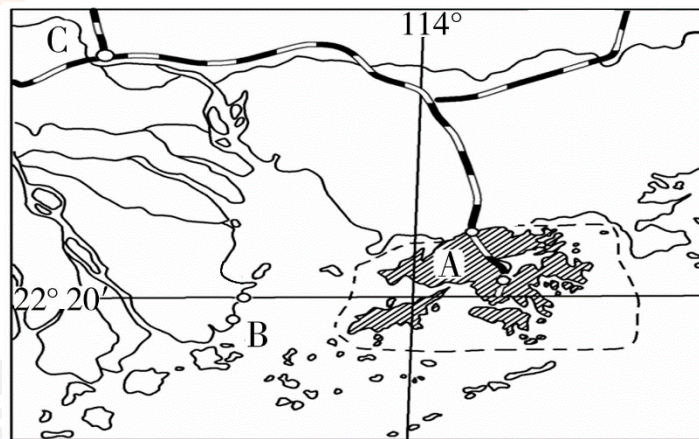
工业走廊	中心城市
钢铁工业走廊	上海(宝山区)、马鞍山、武汉、重庆、攀枝花等
汽车工业走廊	上海、南京、武汉、重庆

3. 长江各河段生态环境问题及其治理保护：

项目	生态环境问题	治理措施
上游	水土流失严重	绿化荒山、修梯田、退耕还林还草、建生态林
中下游	洪涝灾害	加固堤防、分洪蓄洪，退耕还湖，兴建水利工程
长江流域	水污染、大气污染（酸雨）	防治污染、依法保护

考点四：以南方地区为例，说明影响区域农业或工业发展的主要地理因素

1. 珠江三角洲的地理位置特点：



(1) 纬度位置：位于低纬度地区。

(2) 海陆位置：位于广东省的东南部，C 珠江下游，毗邻 A 香港、B 澳门两个特别行政区，与东南亚地区隔海相望，被称为我国的“南大门”。

2. 珠江三角洲对外开放的有利条件：

(1) 区位因素：临近港澳、东南亚的优越的地理位置，便利的对外交通条件。

(2) 人文因素：全国著名的侨乡，拥有丰富而廉价的劳动力，便于招商引资。

(3) 政策因素：享有国家的优惠政策，改革开放早。

3. 珠江三角洲的经济特点、主要产业部门和出口地区：

(1) 经济特点：外向型经济。

(2) 主要产业部门：纺织及服装制造业、电子及通信设备制造业、电气机械及器材制造业、玩具制造业等。

(3) 出口地区：主要通过港澳贸易渠道，出口至东南亚、欧洲、非洲、美洲、大洋洲等地区。

4. 港澳与珠江三角洲的经济合作模式：“前店后厂”——港澳扮演“店”的角色，珠江三角洲扮演“厂”的角色。

5. 城镇化主要表现在非农业人口的增长以及城镇数量和规模的扩张。

考点五：香港和澳门的位置、经济特点

1. 特别行政区——香港和澳门：



2. 香港、澳门的位置及组成：

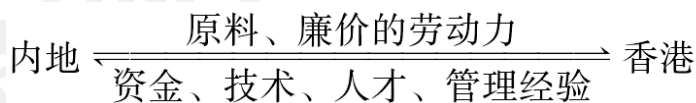
地区	香港	澳门
位置	珠江口东侧，与深圳相邻	珠江口西侧，与珠海相邻
组成	由 A 香港岛、B 九龙半岛、C “新界”三部分及其周围 200 多个岛屿组成	由 D 澳门半岛、E 氹仔岛、F 路环岛组成

3. 港澳的经济——第三产业发达：

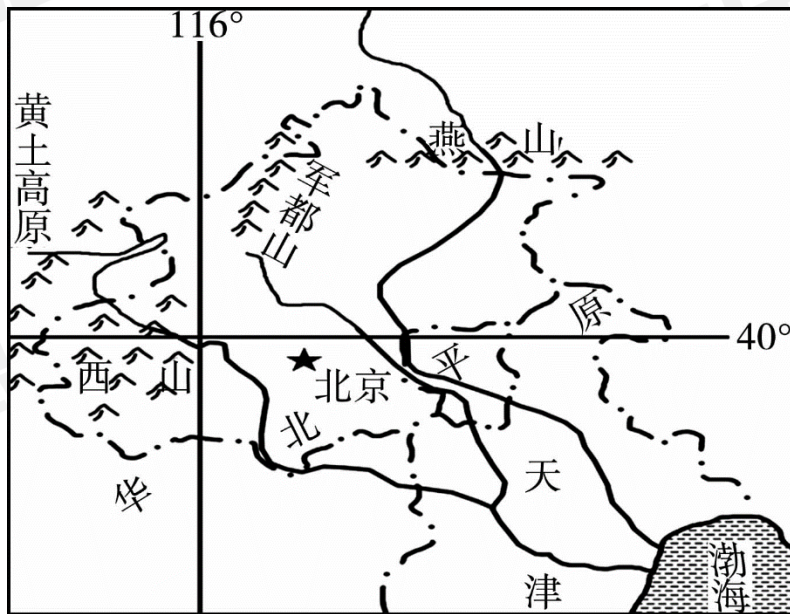
(1) 香港经济特点：以第三产业为主，是国际贸易中心、运输中心、旅游中心、信息服务中心和金融中心。

(2) 澳门经济特点：博彩旅游业是其重要的支柱产业。

4. 香港与内地的经济合作：香港最大的转口贸易伙伴是祖国内地。



考点六：北京的自然条件和城市职能



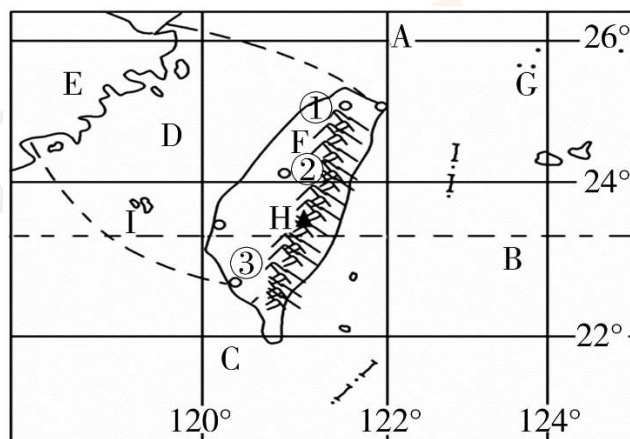
1. 自然地理概况：

- (1) 经纬度位置：大致位于（40° N, 116° E）。
- (2) 海陆位置：位于华北平原的北部边缘，面向渤海。
- (3) 气候类型：温带季风气候。
- (4) 地形：以平原为主。

2. 历史悠久的古城：众多的名胜古迹先后被列入世界遗产名录，如长城、明清故宫、周口店北京猿人遗址、颐和园、天坛等。北京古城城址不论如何变迁，有一个宗旨是不变的，那就是始终保证城区靠近丰富的水源。

3. 现代化大都市：全国的政治、文化、教育、科技、国际交往中心。

考点七：台湾省的自然地理环境和经济发展特色



1. 祖国的神圣领土——台湾省。台湾省与祖国大陆的关系：从台湾省与祖国大陆之间密切的地缘关系、血缘关系和历史文化渊源等方面可以说明台湾省是祖国神圣不可分割的领土。

2. 台湾省的位置及组成：

- (1) 纬度位置：北回归线穿过台湾省中南部，属于亚热带和热带地区。
- (2) 海陆位置：北临 A 东海，东临 B 太平洋，南临 C 南海，西隔 D 台湾海峡与 E 福建省相

望。

(3) 组成：包括 F 台湾岛和 I 澎湖列岛、G 钓鱼岛等许多小岛。

3. 台湾的地形分布及气候类型：

(1) 地形分布：西部以平原为主、中东部以山地为主。H 玉山是台湾山脉的最高峰。台湾最长的河流是浊水溪，最大的湖泊是日月潭。

(2) 气候类型：热带和亚热带季风气候。

4. 台湾被誉为“祖国的宝岛”：

美称	含义
森林之海	森林面积广且树种繁多（最著名的树种是樟树，樟脑产量居世界首位）
海上米仓	盛产稻米，其中最著名的是“蓬莱米”
东方甜岛	盛产甘蔗
水果之乡	盛产热带、亚热带水果，香蕉、菠萝驰名中外
东南盐库	海盐产量很高，自古以来就是重要的海盐产地

5. 台湾的经济：

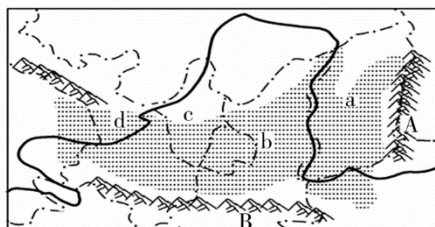
(1) 经济类型：进口—加工—出口型（出口导向型）。

(2) 有利条件：大量受过教育和培训的劳动力；海岛多港口；吸收外国资本；建设出口加工区；等等。

(3) 工业分布：主要分布在西部沿海地区。主要工业城市有①台北、②台中、③高雄等。

6. 台湾最大的城市是台北，最大的港口是高雄。台湾居民中汉族占 97%，祖籍以福建、广东两省为主；少数民族以高山族为主。

考点八：沟壑纵横的特殊地形区——黄土高原



黄土高原的位置



黄土高原景观图

1. 黄土高原的位置、地貌及所跨的主要省级行政区：

(1) 位置：东起 A 太行山脉，西至乌鞘岭，南连 B 秦岭，北抵长城。

(2) 地貌类型：甲——黄土塬、乙——黄土梁、丙——黄土峁。

(3) 所跨主要省级行政区（简称）：a 晋、B 秦、C 宁、D 甘。

2. 黄土高原最突出的生态环境问题及其产生的原因、后果和解决措施：

地表光秃裸露，缺少植被的保护		降水集中在7、8月份，多暴雨
黄土结构疏松，多孔隙和垂直方向的裂隙；许多物质易溶于水		人们开垦、采矿、修路等活动破坏了地表植被

(1) 生态环境问题：水土流失严重。

(2) 原因：

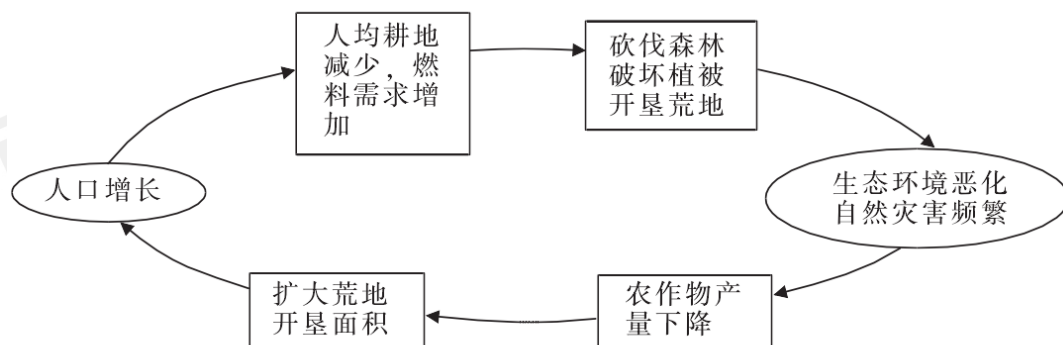
自然原因	黄土：土质疏松，易于流失
	气候：降水集中在夏季，多暴雨
	地形：地表破碎，沟谷坡度陡
	植被：稀少
人为原因	采矿、修路等活动破坏地表
	不合理的生产活动，如过垦过牧

(3) 后果：土壤肥力下降，使农作物产量下降；沟谷增多、扩大、加深，导致耕地减少；向黄河下游输送泥沙，给河道整治和防洪造成巨大困难。

(4) 解决措施：植树造林、建梯田、修挡土坝，合理安排生产活动，如陡坡地退耕还林还草、合理放牧。

3. 黄土高原最主要的自然灾害是旱涝灾害。

4. 黄土高原生态环境的脆弱性：黄土高原生态环境脆弱，在经人类活动的破坏后，很难恢复。黄土高原农垦历史悠久，随着人口的增加，人类活动对当地生态环境的压力日益增大。



黄土高原人地关系恶性循环示意图

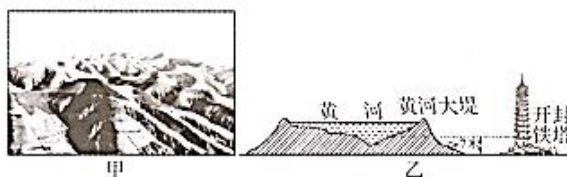
巩固练习

1. 小明赴台湾探亲前查阅到下列与台湾相关的资料, 你认为符合事实的是 ()
- A. 居民多为高山族
B. 人口和城市主要分布在东南沿海
C. 河流短小, 水能资源贫乏
D. 森林覆盖率高, 生物资源丰富
2. 当前, 制约台湾经济发展的地理因素有 ()
- ①地狭人稠, 人均资源不足 ②岛内市场狭小 ③资金短缺、技术力量薄弱 ④山地多, 交通运输落后

A. ①② B. ②③ C. ③④ D. ②④

3. 下列关于黄土高原地表形态特征的叙述正确的是 ()

- A. 地表破碎, 沟壑纵横
B. 地面平坦, 大部分是一望无际的原野
C. 雪山连绵, 冰川广布
D. 海拔在 200 米以下, 多山



读甲、乙两地景观图, 回答 4~5 题。

4. 针对甲地的地表现状, 应采取的治理措施是 ()
- ①植树种草, 增加植被覆盖率 ②合理安排生产活动, 退耕还林还草 ③杜绝放牧, 禁止发展畜牧业 ④修建梯田、挡土坝等工程

A. ①②③ B. ②③④ C. ①②④ D. ①③④

5. 形成乙地景观的主要原因是 ()

- A. 黄河下游水土流失严重
B. 河流携带甲地泥沙在此沉积
C. 黄河上游大量引水灌溉
D. 我国北方沙尘暴频繁

6. 下列关于我国南方地区和北方地区的叙述正确的是 ()

- A. 北方地区指中国秦岭—淮—河线以南的地区, 面积约占全国的 25%
B. 南方地区指中国秦岭—淮—河线以南, 青藏高原以东的地区, 面积约占全国的 20%
C. 北方地区年降水量大致为 400~800 毫米, 农业以水田为主
D. 南方地区属亚热带及热带季风气候, 热量充足, 降水丰沛

7. 下列关于台湾的描述正确的是 ()


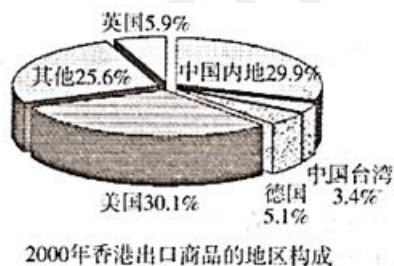
- A. 主要少数民族为维吾尔族
B. 地形以高原为主
C. 森林资源贫乏
D. 樟脑产量居世界首位

8. 下列关于长江流域的叙述正确的是 ()

- A. 流域内各省区的行政中心都沿长江干流分布
B. 上游地区矿产、电力资源丰富, 高新技术发达
C. 长江三角洲地区经济实力雄厚, 水能资源丰富
D. 三峡工程可以缓解下游地区电力紧张的局面

9. 下列关于我国各省区的叙述正确的是 ()

- A. 全部位于热带的省区是广东省
 B. 民族数目最多的省区是新疆维吾尔自治区
 C. 面积最小的省区是澳门特别行政区
 D. 人口最多的省区是山东省
10. 珠江三角洲的经济是 ()
 A. 外向型经济
 B. 以单一商品为主的经济
 C. 以旅游业为主的经济
 D. 以农业为主的经济
11. 下列名胜不属于北京的是 ()
 A. 故宫
 B. 秦始皇陵兵马俑
 C. 八达岭长城
 D. 天坛
12. 下列对北京城市职能的叙述错误的是 ()
 A. 政治中心
 B. 经济中心
 C. 国际交往中心
 D. 文化中心
13. 关于北京自然环境的叙述正确的是 ()
 A. 气候冬冷夏热, 是典型的温带大陆性气候
 B. 大致位于西经 116°, 北纬 40°
 C. 由于北京处于干旱地带, 没有河流流经
 D. 北京市处在华北平原北都, 北面、西面多山
14. 北京的气候特点是 ()
 A. 冬季寒冷干燥, 夏季高温多雨
 B. 全年高温多雨
 C. 冬季寒冷多雨, 夏季高温少雨
 D. 全年炎热干燥
15. 北京建立和发展高新技术产业最重要的有利条件是 ()
 A. 矿产资源丰富
 B. 人口密集, 劳动力资源丰富
 C. 传统历史文化丰富
 D. 科技力量雄厚
16. 我国某城市是世界重要的金融中心, 著名的自由贸易港, 重要的国际会议和展览中心, 号称“购物者的天堂”。该城市是指 ()
 A. 上海
 B. 香港
 C. 杭州
 D. 深圳
17. 读下图, 2000 年香港最大的进出口贸易伙伴是 ()



- A. 美国
 B. 日本
 C. 祖国内地
 D. 中国台湾
18. 港澳地区与珠江三角洲地区的经济地域分工与合作的独特模式是 ()
 ①港澳地区——“前店” ②珠江三角洲——“后厂” ③珠江三角洲——“前店” ④港澳地区——“后厂”
 A. ①②
 B. ②③
 C. ③④
 D. ①④
19. 香港经济发展的有利条件是 ()

①有丰富的森林资源 ②有丰富的铁矿 ③优越的地理位置 ④有优良的气候

A. ①② B. ②③ C. ③④ D. ①④

20. 下列有关我国南、北方居民生活方式的说法错误的是 ()

- A. 南方以大米为主食，北方则以面食为主
- B. 过去农村建房，北方多用土坯垒墙，南方则多用砖瓦、竹木
- C. 南方民居的楼层比北方少，屋顶坡度也比北方小
- D. “南船北马”是我国传统交通的显著特色

读右图，回答 21~23 题。

21. “山青水碧，鱼米之乡”描述的地区是 ()

- A. 青藏地区 B. 南方地区
- C. 北方地区 D. 西北地区

22. 下列关于我国不同地理区域的特征描述错误的是 ()

- A. 我国东南沿海地区经济发达，人口众多
- B. 新疆地区气候湿热，有大面积的草场，是我国著名的牧区
- C. 长江三角洲地区农业发展历史悠久，工业实力雄厚
- D. 云南西双版纳地区风光旖旎，是著名的旅游区

23. 下列关于我国北方地区和南方地区的叙述错误的是 ()

- A. 北方地区的农田多为旱地，一年一熟或两年三熟
- B. 南方地区一月平均气温一般高于 0℃，冬季河流一般不结冰
- C. 因为降水的不同，北方河流的水量比南方的小
- D. 北方地区的民居墙体比南方的厚，屋顶坡度也比南方的大

24. 台湾享有热带、亚热带“水果之乡”的美名，四季鲜果不断，驰名中外的有 ()

- A. 香蕉、菠萝 B. 桃、杏 C. 荔枝、苹果 D. 椰子、葡萄

25. 台湾对外出口贸易迅速增长，出口商品中最多的是 ()

- A. 农产品 B. 工业制成品 C. 畜产品 D. 矿产品

双项选择题：

26. 澳门经济的主要产业有 ()

- A. 金融业 B. 对外贸易 C. 旅游业 D. 博彩业

27. 下列关于我国首都北京位置 (40° N, 116° E) 的叙述正确的是 ()

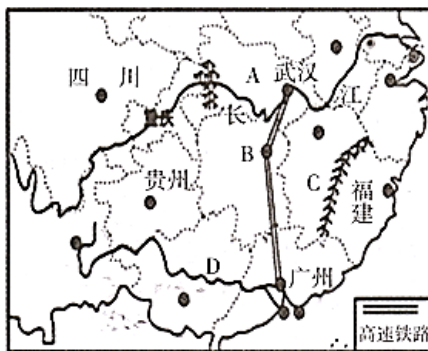
- A. 位于北半球，中纬度 B. 位于东半球，高纬度
- C. 位于西半球，中纬度 D. 位于东半球，中纬度

28. 北京市水资源缺乏，相应的解决方法有 ()

- A. 兴修水库 B. 跨流域调水
- C. 大量抽取地下水 D. 用生活污水进行灌溉

29. 下列山峰或山脉位于台湾的是 ()

- A. 长白山脉 B. 阿里山 C. 玉山
D. 阴山山脉
30. 台湾的美称有 ()
- A. 水果之乡 B. 黄金水道 C. 森林宝库 D. 东方之珠
31. 下列关于我国南方地区和北方地区地理差异的描述错误的是 ()
- A. 主要耕地类型：北方旱地，南方水田 B. 人们主食：南面北米
C. 传统运输：南船北马 D. 水资源：南缺北丰
- 下面为“武汉至广州高铁路线示意图”。读图，回答 32~33 题。



武汉至广州高铁路线示意图

32. 武广高铁经过的 AB 两省简称分别是 ()
- A. 赣 B. 鄂 C. 湘 D. 皖
33. 我国南方地区山川广布，河网密布，图中 C 山脉和 D 河流分别是 ()
- A. 武夷山 B. 太行山脉 C. 长江 D. 珠江
34. 下列关于香港的叙述正确的是 ()
- A. 位于珠江口东侧
B. 与广东省珠海市相连
C. 香港岛和九龙半岛之间的水域拥有世界上著名的天然海港
D. 香港是世界最大的运输中心和最大的金融中心
35. 下列关于澳门的叙述正确的是 ()
- A. 与广东省深圳市相连
B. 位于珠江口西侧
C. 主要经济支柱有博彩、金融、农业、建筑业等
D. 大三巴牌坊是澳门的象征

答案：

1-5 DAACB 6-10 DDDCA 11-15 BBDAD 16-20 BCACC 21-25 BBDAB

双选：

26	CD
27	AD

28	AB
29	BC
30	AC
31	BD
32	BC
33	AD
34	AC
35	BD



扫码加入生地会考复习营，广东省会考真题+全真模拟考试+“鸭”题卷等福利资料在等你！



扫码关注公众号，获取更多升学资讯