

道德与法治·历史与社会

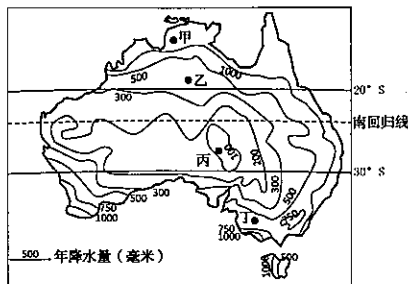
试题卷

一、判断题(本大题有6小题,每小题1分,共6分。判断下列说法是否正确,正确的请将答题纸相应题号后的T涂黑,错误的请将答题纸相应题号后的F涂黑)

1. 意志坚强的人能够抗拒生命发展的自然规律。
2. 我国新出台的《民法典》是对宪法规定的具体落实。
3. 某公司只招聘重点高校毕业生,这侵犯了公民的隐私权。
4. 目前,我国经济已由高质量发展阶段转向高速增长阶段。
5. 国家对欠发达民族地区的精准扶贫有利于增进民族团结。
6. 参与全球规则的制订,有利于我国在国际竞争中掌握话语权。

二、选择题(本大题有24小题,每小题2分,共48分。请选出各题中一个最符合题意的正确选项,不选、多选、错选均不给分)

读“澳大利亚年降水量分布图”。回答第7—8题。



第7—8题图

7. 甲地位于丁地的
A. 东南方向 B. 西北方向
C. 东北方向 D. 西南方向
8. 澳大利亚的绵羊与小麦混合经营带主要分布在热带以南、年降水量为500—1000毫米的地区。图中四地位于绵羊与小麦混合经营带的是

- A. 甲地 B. 乙地
C. 丙地 D. 丁地

读“我国某区域示意图”。回答第9—10题。

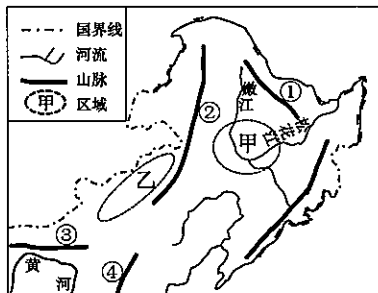
9. 图中代表大兴安岭和阴山山脉的数字分别是

- A. ①② B. ①④
C. ②③ D. ③④

10. 关于甲、乙两地区域特征的叙述,正确的是

- ① 甲地处于季风区,乙地处于非季风区
- ② 甲地的年降水量通常小于乙地的年降水量
- ③ 甲地适合发展种植业,乙地适合发展畜牧业
- ④ 甲地传统民居是蒙古包,乙地传统民居是窑洞

- A. ①② B. ①③
C. ②④ D. ③④



第9—10题图

读“我国2008—2017年石油生产量、消费量和净进口量变化示意图”。回答第11—12题。

11. 下列关于我国2008—2017年石油生产量、消费量与净进口量变化的叙述,正确的是

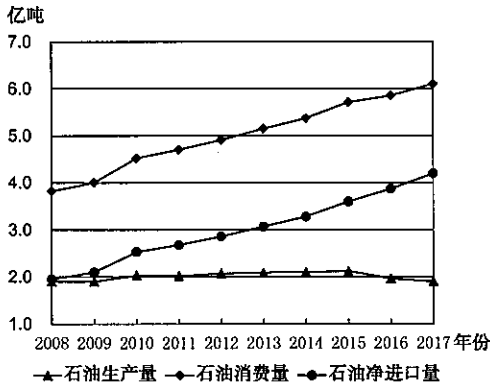
- ① 消费量逐年上升
- ② 生产量逐年下降
- ③ 净进口量逐年上升
- ④ 生产量超过净进口量

- A. ①③ B. ①④
C. ②③ D. ②④

12. 针对我国石油资源短缺问题,可采取的合理措施有

- ① 提高石油勘探水平,增加石油资源的探明储量
- ② 调整能源消费结构,研制与使用石油的替代品
- ③ 建设南油北运工程,实现石油资源跨区域调配
- ④ 改进石油利用技术,提高石油资源的利用效率

- A. ①②③ B. ①②④
C. ①③④ D. ②③④



第11—12题图

13. 有学者认为,仅凭高大的宫殿台基、宏伟的城墙、古老而庞大的水利工程以及那数以千计象征着权力与信仰的玉器,就足以让人们相信,5000年前这里的社会发展高度已完全可与其他古老文明比肩。这位学者所说的“这里”是指

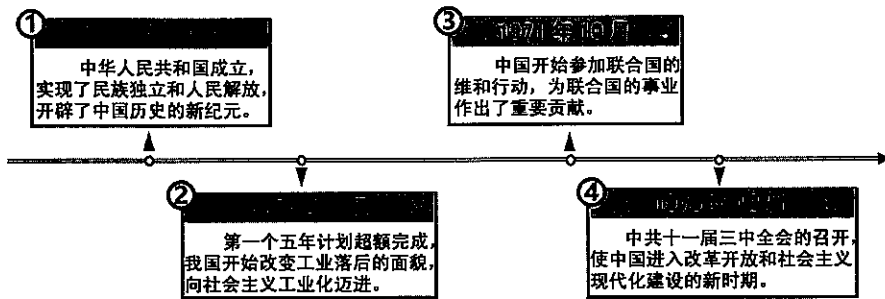
- A. 河姆渡聚落 B. 半坡聚落 C. 良渚王城 D. 二里头宫殿

14. 下图是魏晋时期的墓砖壁画“犁耕图”，出土于甘肃嘉峪关地区。下列对该出土文物信息的解读，符合史实的是



第 14 题图

- A. 棉布已成为当时人们的主要衣料
 B. 曲辕犁在当时已得到广泛的应用
 C. 反映了魏晋时期我国开始使用牛耕
 D. 展现了当时河西地区农业生产的场景
15. 某校举行了“铭记历史，传唱经典”的云端音乐会。以下歌曲按创作时间先后排序，正确的是
 ①《松花江上》
 ②《学习雷锋好榜样》
 ③《中国人民志愿军战歌》
 ④《国民革命歌》
- A. ①④②③
 B. ①④③②
 C. ④①②③
 D. ④①③②
16. “历史，总是在一些重要时间节点上更能勾起人们的回忆和反思”。以下时间节点勾起的回忆，符合史实的是

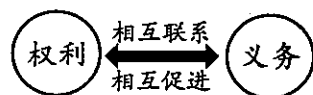


第 16 题图

- A. ①③
 B. ①④
 C. ②③
 D. ②④
17. 在 18 世纪的欧洲，有这样一群人，“他们完全摒弃了自古以来束缚人们的一切制度和观念，用人的理性去重新衡量并评价一切”。“这一群人”中包括
 A. 哥白尼 布鲁诺
 B. 伏尔泰 卢梭
 C. 克伦威尔 拿破仑
 D. 瓦特 马可尼
18. 20 世纪国际政治舞台曾多次上演“强权即是公理”的不公正一幕。下列会议曾上演“这一幕”的是
 ①1919 年巴黎和会
 ②1938 年慕尼黑会议
 ③1945 年雅尔塔会议
 ④1955 年亚非会议
- A. ①②③
 B. ①②④
 C. ①③④
 D. ②③④
19. 2019 年末，中国大陆总人口超过 ▲ 人，国内生产总值接近 100 万亿元大关，按年平均汇率折算，人均 GDP 跨上 ▲ 美元台阶。
 A. 12 亿 5000
 B. 13 亿 8000
 C. 14 亿 10000
 D. 15 亿 20000
20. 我国第一艘国产航空母舰是
 A. 辽宁舰
 B. 广东舰
 C. 浙江舰
 D. 山东舰
21. 新冠肺炎疫情发生后，以习近平同志为核心的党中央将疫情防控作为头等大事来抓，坚持把人民生命安全和身体健康放在第一位。这是因为
 ①生命是不可逆的，是崇高的、神圣的
 ②每个人的生命都蕴含着一定的承受力
 ③尊重和保障人权是我国的宪法原则
 ④全心全意为人民服务是党的根本宗旨
- A. ①②③
 B. ①②④
 C. ①③④
 D. ②③④
22. 本学期开学以来，杭州市许多学校实行错时错峰上下学，划定学生进校通道，定时对校园进行全面消毒。这体现了对未成年人的
 A. 学校保护
 B. 社会保护
 C. 司法保护
 D. 家庭保护
23. 老师发现沉默寡言的小余同学笛子吹得不错，就多次让他在学校活动中表演节目。在老师和同学的不断鼓励之下，他变得越来越开朗，越来越自信。小余的变化告诉我们
 ①相互尊重就能够促进社会进步
 ②只有一技之长的人才值得尊重
 ③要善于发现他人的潜质和特长
 ④受到他人尊重能够增强自信心
- A. ①②
 B. ①③
 C. ②④
 D. ③④

24. 图示法是揭示概念间关系的常用方法。下列选项符合右图所示关系的是

- ①科技与创新 ②主刑与附加刑
③德治与法治 ④国家利益与个人利益
A. ①②③ B. ①②④
C. ①③④ D. ②③④



第 24 题图

25. 为高水平建设“美好教育”，2020 年，杭州市义务教育学校的招生制度进行了较大改革，实行公办民办学校同步招生。此举有利于

- ①义务教育优质均衡发展 ②通过教育改革推动社会进步
③公民平等享有政治权利 ④满足人民对美好教育的需求
A. ①②③ B. ①②④ C. ①③④ D. ②③④

26. 在复工复产的关键时期，我国工信部采取了减税降费等多种办法，助力私营中小企业恢复生产。这体现了

- A. 非公有制经济已成为国民经济的主导力量
B. 非公有制经济是社会主义经济制度的基础
C. 我国鼓励、支持、引导非公有制经济的发展
D. 非公有制经济在我国资源配置中起决定作用

27. 服务好与差，群众来评价。浙江省政务服务“好差评”系统于 2019 年 10 月上线运行，群众在享受“互联网+政务服务”的同时，还可以表达自己对政务服务的好差评。“好差评”系统的运行

- ①保证了公民有序参与民主决策 ②丰富了公民参与民主生活的形式
③有利于督促政府更好地为人民服务 ④有助于激发公民参与政治生活的热情
A. ①②③ B. ①②④ C. ①③④ D. ②③④

28. 读漫画《依法驳回》(作者徐骏)。对其寓意理解正确的是

- ①体现了我国坚持依法治国的方略
②依法打击了侵犯知识产权的行为
③形成了我国创新治理格局的新局面
④制约了中华文化与时俱进的创造力
A. ①② B. ①③
C. ②④ D. ③④



第 28 题图

29. 在抗击新冠病毒的战斗中，来自全国各地的医护人员驰援湖北，他们不计报酬，无论生死，一诺千金，勇敢逆行，留下了无数让人感动的瞬间。他们

- ①力证了实现中国梦必须凝聚中国力量 ②传承了扶危济困道济天下的传统美德
③践行了爱国敬业诚信友善的价值追求 ④弘扬了以改革创新为核心的民族精神
A. ①②③ B. ①②④ C. ①③④ D. ②③④

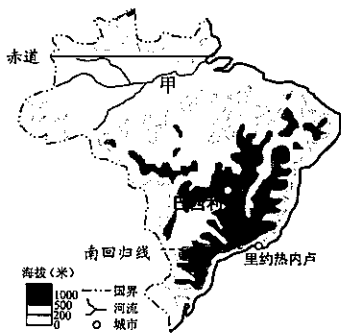
30. 在全球抗疫的严酷时刻，全世界感受到一种来自中国的温暖。我国及时向国际社会发布疫情信息，毫无保留地同国际社会分享防控、治疗经验，并竭尽所能为各国提供物质帮助。这表明，中国

- ①坚持共建共享，积极主动贡献中国经验和中国智慧
②坚持以我为主，从不同类型的文明中寻求发展智慧
③坚持合作共赢，积极抢占全球新兴产业发展制高点
④坚持人类命运共同体理念，发挥负责任的大国作用
A. ①② B. ①④ C. ②③ D. ③④

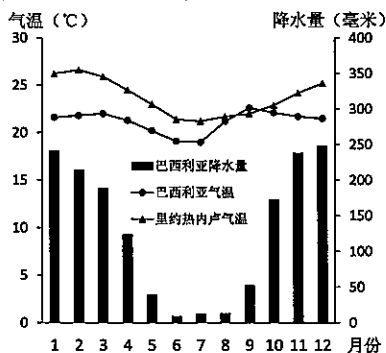
三、非选择题(本大题有 5 小题，其中第 31—32 小题每小题 8 分，第 33 小题 10 分，第 34 小题 8 分，第 35 小题 12 分，共 46 分)

31. (8 分) 阅读材料，回答问题。

材料一：图 1 为巴西略图，图 2 为巴西利亚气温、降水量和里约热内卢气温统计图。



第 31 题图 1



第 31 题图 2

材料二：巴西利亚利用当地地形，筑坝截住周围几条河流的河水，形成了一个面积达 40 多平方千米的人工湖泊。

(1)甲是 ▲ (河流名称)，该河流注入 ▲ (大洋名称)。与里约热内卢相比，巴西利亚纬度较低，年平均气温较 ▲ (“低”或“高”)，主要是因为巴西利亚 ▲。(4分)

(2)结合巴西利亚的降水季节变化特点说明其建设人工湖泊的作用。(4分)

32. (8分)文明因交流而多彩，文明因互鉴而丰富。阅读材料，回答问题。

材料一：倘若没有先进的造船工艺和导航技术，即使是最强烈的动机也无法使欧洲航海者完成他们的探险。远洋航行时，……(他们)创造性地吸收了中国和阿拉伯的技术要素。

——(美)杰里·本特利、赫伯特·齐格勒《新全球史：文明的传承与交流》

(1)材料一中“最强烈的动机”指的是什么？在导航技术方面，欧洲航海者创造性地吸收了中国的哪一技术？(3分)

材料二：19世纪后期 20世纪初叶，现代科技通过各种方式从欧洲、北美向世界其他地方传播。中国受西学影响，……1862年在北京开设同文馆，聘请西人教授西文，并翻译西文书籍；……1898年批准兴办京师大学堂，开启了中国现代科学教育的大门。

——摘编自马克垚《世界文明史》

(2)材料二中“开设同文馆”“兴办京师大学堂”分别是中国近代哪一次运动中的具体措施？试从目的和影响的角度，写出这两次运动的共同点。(5分)

33. (10分)八十五年前，贵州见证了中国革命的历史转折；八十五年后，贵州又见证了脱贫攻坚的华丽转身。阅读材料，回答问题。

材料一：会议以后，我军一反以前的情况，好像忽然获得了新的生命，迂回曲折，穿插于敌人之间，以为我向东却又向西，以为我渡江北上却又远途回击……弄得敌人扑朔迷离，处处挨打，疲于奔命。

——刘伯承《回顾长征》

(1)指出材料一中“会议”的名称并简述其历史意义。“向东却又向西……渡江北上却又远途回击”指的是哪一军事行动？(5分)

材料二：右图为我国成贵高铁(成都—贵阳)线路示意图。成贵高铁被称为“世界第一条山区高速铁路”，其建设采用了“以桥代路，以隧代路”的形式，修建了大量的桥梁和隧道，比例高达近 80%。

(2)分析成贵高铁修建大量桥梁和隧道的自然原因。(2分)

材料三：石漠化是我国主要的生态环境问题之一。它是湿润气候条件下，受人类活动的干扰，地表植被遭到破坏，土壤受雨水冲刷、流水侵蚀而流失，土层下方岩石大面积裸露的土地退化现象。贵州省是我国石漠化最严重的地区之一。近年来，贵州通过种植茶树、果树等经济林木治理石漠化，取得了明显的效果。

(3)从经济发展与生态保护的角度说明贵州种植茶树、果树等经济林木的作用。(3分)

34. (8分)阅读材料，回答问题。

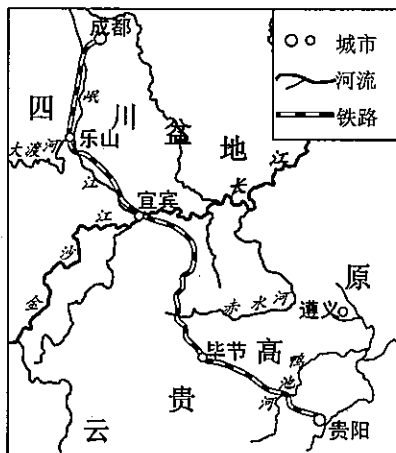
国家安全是国家生存和发展的重要保障，是人民幸福安康的前提，维护国家安全是公民的法定义务。构建集①经济安全

②文化安全 ③国土安全 ④网络安全等于一体的国家安全体系，需要你我共同努力。

(1)下表材料是涉及国家安全的若干具体事例。仿照示例，在表格的空白处填入最相符的一个序号。(3分)

具体事例	涉及的国家安全内容序号
材料一：杭州市某区市场监督管理局对该区哄抬口罩价格的药店处以违法所得 5 倍的罚款。	示例： ①
材料二：2020 年 4 月，中国自然资源部、民政部公布了关于中国南海部分岛礁和海底地理实体标准名称的公告。	
材料三：国家计算机病毒应急处理中心发现多款民宿、会议类移动应用存在违反网络安全法相关规定，涉嫌超范围采集个人信息的行为。	
材料四：李某在八达岭长城的墙砖上刻划字样，涉嫌故意损坏国家保护文物，公安机关根据《治安管理处罚法》，对李某处以行政拘留 5 日并罚款 200 元的处罚。	

(2)依据违反法律的类别，判断材料四中李某的违法行为。从依法履行义务的角度分析公安机关对李某作出处罚的原因。(5分)



第 33 题图

35. (12分) 阅读材料, 回答问题。

材料一:“两会”是中国特色社会主义民主政治活力的集中体现。十三届全国人大三次会议共有 2886 名代表出席, 这些代表都是广大选民通过民主选举产生的, 具有广泛的代表性。人大代表依照宪法和法律赋予的各项职权, 参加行使国家权力。代表们的议案直指脱贫攻坚、环境治理、养老改革等群众最为关切的问题, 成了群众意见、建议最为集中的表达。

(1) 材料一中的“两会”具体指什么? “两会”反映了社会主义民主政治的本质特征是什么? (4分)

(2) 运用“根本政治制度”的知识, 说明为什么人大代表关注的都是群众最关切的问题? (4分)

材料二: 2020 年的“两会”是特殊之年的信心之会。今年的政府工作报告指出, 当前和今后一个时期, 我国发展面临前所未有的风险和挑战, 但我们有独特的政治和制度优势、雄厚的经济基础、巨大的市场潜力, 亿万人民的勤劳智慧。只要我们坚定发展信心, 增强发展动力, 当前的难关一定能闯过, 中国的发展必将充满希望。

(3) 材料二启示我们应如何做一名自信的中国人? (4分)

道德与法治·历史与社会参考答案

一、判断题(本大题有6小题,每小题1分,共6分)

题号	1	2	3	4	5	6
答案	F	T	F	F	T	T

二、选择题(本大题有24小题,每小题2分,共48分)

题号	7	8	9	10	11	12	13	14	15	16	17	18
答案	B	D	C	B	A	B	C	D	D	B	B	A
题号	19	20	21	22	23	24	25	26	27	28	29	30
答案	C	D	C	A	D	C	B	C	D	A	A	B

三、非选择题(本大题有5小题,其中第31—32小题每小题8分,第33小题10分,第34小题8分,第35小题12分,共46分)

31. (8分)

- (1) 亚马孙河 大西洋 低 海拔高(地势高)
(2) 降水季节变化大。雨季人工湖泊可以蓄洪、防洪;旱季人工湖泊可以补充城市水源,调节空气湿度。

32. (8分)

- (1) 希望从东方直接获得金银和香料等商品(渴求开拓新的贸易市场)。“罗盘”导航技术(指南针)。
(2) 洋务运动、维新变法运动(戊戌变法)。目的:救亡图存(维护清政府的统治)。影响:都对中国的发展起到了一定的作用,但都没有改变中国半殖民地半封建社会的性质。

33. (10分)

- (1) 遵义会议。会议开始确立了毛泽东在红军和党中央的领导地位,开始确立了以毛泽东为主要代表的马克思主义的正确路线在党中央的领导地位,开始形成以毛泽东为核心的党的第一代中央领导集体,在极其危急的时刻,挽救了党,挽救了红军,挽救了革命,成为中国共产党历史上一个生死攸关的转折点。这次会议是中国共产党从幼年走向成熟的标志。四渡赤水。
(2) 铁路沿线地形复杂;河流众多。
(3) 茶、果产品可增加经济收入;种植经济林木能提高植被覆盖率,减少水土流失。

34. (8分)

- (1) 材料二:③ 材料三:④ 材料四:②
(2) 行政违法行为。法定义务须履行,保护文物属于维护国家文化安全的法定义务,必须自觉履行;违反义务须担责,李某实施了法律所禁止的行为,必须依法承担相应的法律责任。

35. (12分)

- (1) 人民代表大会和政治协商会议。人民当家作主。
(2) 人民代表大会制度是我国的根本政治制度,我国的人大代表是人民通过民主选举产生的,来自于人民。人大代表必须与人民群众保持密切联系,听取和反映人民群众的意见和要求,为人民服务,对人民负责。
(3) 自信的中国人对国家有认同。我们要有强烈的国家认同感,与国家民族休戚与共的责任感,自觉维护国家利益和国家尊严。自信的中国人对发展有信心。我们要坚持党的领导,坚持“四个自信”,胸怀理想,求真务实,努力实干,为国家富强、民族振兴贡献力量。