

# 2019-2020 学年度上期期末综合素质测评



## 二年级数学



时间：70 分钟

题号	A 卷						A 卷总分	B 卷
	一	二	三	四	五	六		
得分								

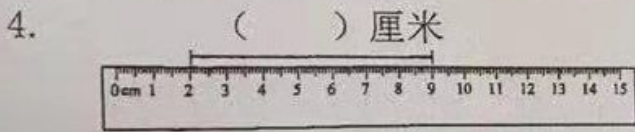
### A 卷 (100 分)

一、填空题。(7 题每个算式 1 分, 其余每空 1 分, 共 24 分)

1. 4 张  + 3 张  = ( ) 元

2. 1 张  = ( ) 张 

3.    是 ( ) 元 ( ) 角



5. 在括号里填上合适的长度单位。

(1) 小明身高 130 ( )      (2) 橡皮长约 3 ( )      (3) 大树高约 10 ( )

(4) 黑板长约 4 ( )      (5) 跑道长 50 ( )      (6) 数学书宽约 15 ( )

6. 在“○”里填上“>”“<”或“=”。

$4 \times 6 \bigcirc 3 \times 8$

$5 \bigcirc 20 \div 4$

$48 \div 8 \bigcirc 3 \times 2$

1 米  $\bigcirc$  40 厘米

8 米  $\bigcirc$  8 厘米

2 米 25 厘米  $\bigcirc$  1 米 125 厘米

7. 从 18, 27, 3, 9, 6 中选几个数写两个乘法算式和两个除法算式:

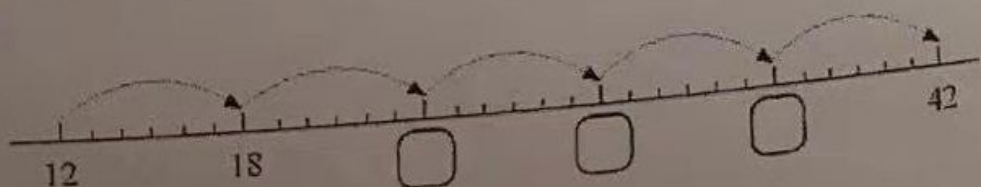
$\square \times \square = \square$

$\square \div \square = \square$

$\square \times \square = \square$

$\square \div \square = \square$

8. 填一填



20. 列竖式计算。(9分)

$47-21-15$

$36+47+14$

$100-37+19$

21. 看图列算式。(6分)



乘法算式:

加法算式:

除法算式:

五、操作题。(8分)

22. 画图说明“3倍”的意思。

23. 画一条比10厘米短7厘米的线段。

六、问题解决。(28分)

24. 一共有18个南瓜。(1) 把南瓜平均放在6个篮子里, 每个篮子放几个?

(2) 红萝卜有9根, 请问南瓜是萝卜的几倍?

25. 投篮比赛。(1) 淘气三次一共得了多少分?

(2) 文文想得第一名, 他最后一次至少要投多少分?

次数	淘气	笑笑	文文
第一次	25分	33分	24分
第二次	30分		35分
第三次	36分	27分	
总分		86分	


26. 一辆汽车最多坐6人。有34名乘客, 5辆车坐的下吗?




二、判断题。(对的画“√”，错的画“×”) (5分)

9.  $8 \times 3$  表示三个八相乘。  
 10.  $3+6+9=3 \times 5$   
 11. 笑笑走一步的长度大约是 50 米。  
 12.  $( ) \times 9 < 74$ , 括号里最大应该填“8”。  
 13. “ $8+7$ ”这个算式可以解决“8元钱的7倍是多少?”这个问题。

三、选择正确答案的字母填在括号里。(10分)

14.  这个图形是从下面那个 ( ) 图形里剪出来的。



15. 兔子班书架上原来有 50 本书, 借走 18 本, 又还回来 7 本, 现在书架上有几本?  
 解决这个问题的算式是: ( )


- A.  $50-18-7$       B.  $50-18+7$       C.  $50-7+18$

16. 同学们准备测量教室的长度, 选用 ( ) 测量最合适。

- A. 学生尺      B. 软尺      C. 卷尺

17. 小花今年 2 岁, 文文今年 6 岁。文文年龄是小花的几倍? 下面正确的算式是: ( )

- A.  $6 \times 2$       B.  $6+2$       C.  $6 \div 2$       D.  $6-2$

18.  不能表示这些衣服一共有多少颗纽扣的算式是 ( )

- A.  $5+5+5+5$       B.  $5 \times 4$       C.  $4 \times 5$       D.  $4+4+4+4+4$

四、计算。(共 25 分)

19. 直接写出得数。(10分)

$7 \times 9 =$

$32 \div 8 =$

$30 \div 6 =$

$42 \div 6 =$

$8 \times 9 + 9 =$

$17 + 64 =$

$14 \div 7 =$

$5 \times 7 =$

$4 \times 8 =$

$7 \times 5 - 5 =$

27. 根据图意解决问题。



小女孩应付多少元?

一家三口应付多少元?

---



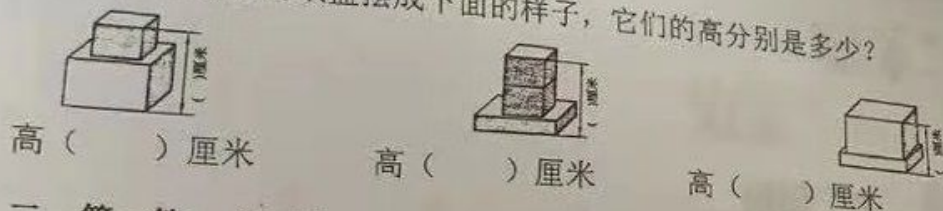
---

一、填一填。(6分)

B卷(20分)



28. 用上面三种规格的纸盒摆成下面的样子, 它们的高分别是多少?



高 ( ) 厘米

高 ( ) 厘米

高 ( ) 厘米

二、算一算。(6分)

29.  $9 \times 8 = ( ) \times ( ) + ( ) \times ( ) = ( )$

30. 数 0

$$\begin{array}{r} -2 \text{ 学} \\ 5 \text{ 学} \\ + \text{好} 1 \\ \hline 7 6 \end{array}$$

数 = ( )      学 = ( )      好 = ( )

三、解决问题。(8分)

31. 盒子里有 45 块糖。小红每天拿 3 块糖, 小云每天拿 2 块糖。小红和小云把盒子里的糖都拿完, 需要几天?

32. 小兔家到学校 60 米。一天它上学走了 18 米, 想起忘带作业, 又回家去取, 这天它到学校一共走了多少米?