

一、单项选择题：（每小题 2 分，共 50 分）

1.关于本初子午线的叙述，正确的是（ ）

- A.东、西半球的分界线
- B.南、北半球的分界线
- C.地球上最长的纬线
- D.东、西经度的分界线

2.对地球仪上 A, B 两点说法正确的是（ ）

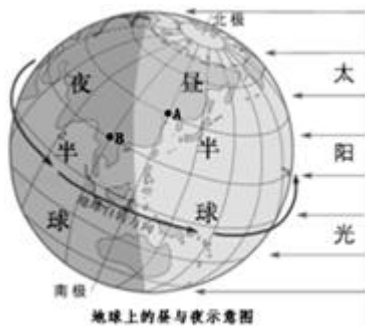


- A.A 在南半球
- B.B 在北半球
- C.A 在低纬度
- D.B 在高纬度

3. 上海的小朋友通常上学都比乌鲁木齐的小朋友要早，这是由于（ ）

- A. 地球自转造成两地时间的差异
- B. 上海小朋友比乌鲁木齐小朋友勤奋
- C. 地球公转造成两地季节差异
- D. 两地气候不同

4.看地球上的昼夜分布情况，下列说法错误的是

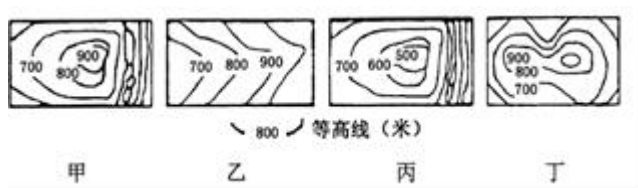


- A.A 点此时是白天
- B.B 点此时是黑夜
- C.A 点昼长夜短
- D.B 点昼短夜长

5.在下列图幅相同的地图中，哪幅地图表示的内容详细（ ）

- A.泰州市地图
- B.江苏省地图
- C.中国地图
- D.亚洲地图

读地形景观图与等高线地形图，完成 6~7 题。



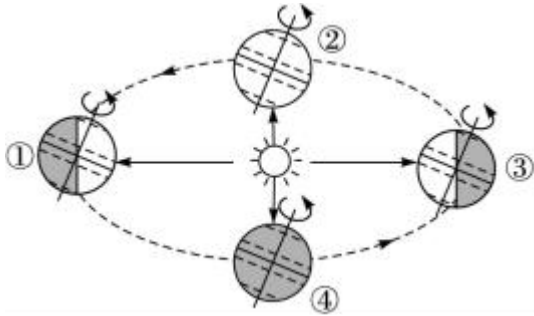
6.等高线地形图乙代表的地形名称是（ ）

A.山地 B.盆地 C.山脊 D.山谷

7.出现鞍部地形的图是( )

A.甲 B.乙 C.丙 D.丁

读“地球公转示意图”，地球在图中①②③④的位置不同，地球上各地受太阳照射的情况就不一样。据此完成第8~9题。



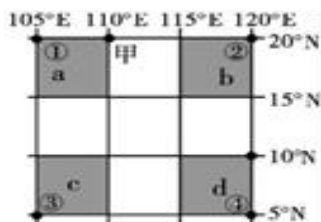
8. 当地球处于①点位置时，太阳光线直射在( )。

A. 赤道 B. 北回归线  
C. 南回归线 D. 北京

9. 北京黑夜最长时，地球运动至( )。

A. ① B. ②  
C. ③ D. ④

读图回答 10-12 题。



10.图中 a 点在 c 点的什么方向( )。

A.西北  
B.东南  
C.正北  
D.正南

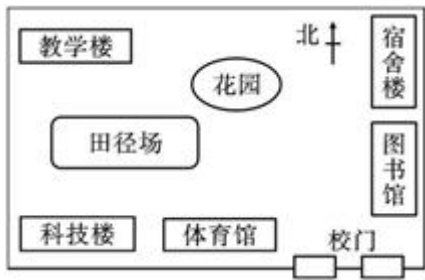
11.图中 4 点实地距离最短的是( )。

A. ① ② B. ① ③ C. ② ④ D. ③ ④

12. ②地每天日出时间比①地快一个小时，造成这个现象的原因是( )。

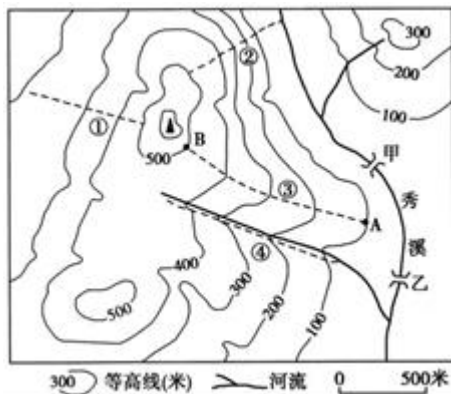
A.纬度的差异 B.地球的自转 C.地球的公转 D.经度的差异

读下图，回答 13-14 题



13. 教学楼位于宿舍楼的方向是 ( )
- A. 西南      B. 正南      C. 正北      D. 正西
14. 小明同学要参观图书馆, 请问他需要什么地图 ( )
- A. 图书馆导游图      B. 地形图
- C. 人口分布图      D. 商业人口分布图
15. 小明要画上图, 请问他最有可能用的比例尺是 ( )
- A. 1:100      B. 1:1000      C. 1:10000      D. 1:100000

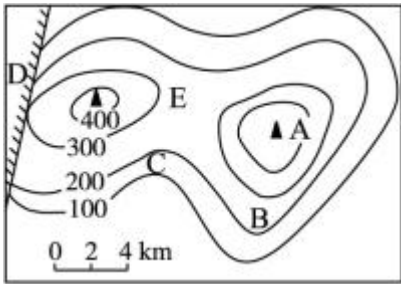
读某地等高线地形图, 回答 16-18 题。



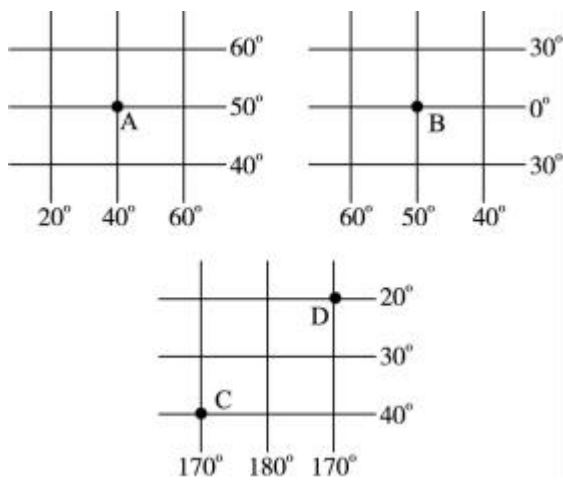
16. 量得甲乙的图上距离是 1.2 厘米实地距离是 ( )
- A. 1000 米      B. 500 米      C. 600 米      D. 1200 米
17. 图中 4 条登山线路最陡的是 ( )
- A. ①      B. ②      C. ③      D. ④
18. 图中所示地区的地形特征 ( )
- A. 以丘陵山地为主      B. 典型的盆地
- C. 广阔的平原地形      D. 高俊的高原山地
19. 下列 4 幅图幅大小相同的地图, 比例尺最小的是 ( )。
- A. 中国地图      B. 河北省地图
- C. 北京市地图      D. 天津市地图

小敏班上准备组织一次登山活动, 同学们都兴高采烈的。为了安全, 老师拿出一张等高线地形图(下图)说: “这次

我们要登的山较高，大家注意……”接着，强调了安全事项，顺便复习了等高线地形图的有关知识，要求同学们上山后留心观察这些地形区。据此完成第20~25题。



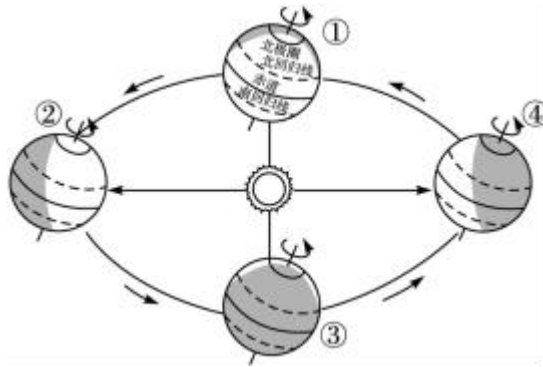
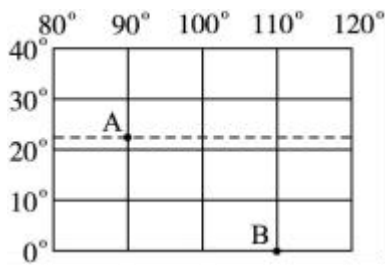
20. 老师说：“这次我们登的山较高。”从图上可以看出山顶是（ ）。
- A. A地 B. B地 C. C地 D. D地
21. 老师强调图中有一个悬崖很危险，希望大家上山时一定要注意。请你判断悬崖在哪个地方（ ）。
- A. B地 B. E地 C. C地 D. D地
22. 老师告诉我们：“图上A、B、C、D、E五处等高线形态不一样，分别表示山地不同部位，上山后一定要留心观察，看它们在地形上有什么区别。”请回答，图中E地是（ ）。
- A. 鞍部 B. 山顶 C. 山谷 D. 陡崖
23. 此图中既没有经纬网也没有指向标，那么应该用\_\_\_\_\_方法定向（ ）。
- A. 一般定向法 B. 经纬网定向法  
C. 特殊定向法 D. 指向标定向法
24. 俗话说“找不着北了”。从地理学的角度讲，这个地方应当是在（ ）。
- A. 回归线上 B. 南极点上 C. 赤道上 D. 北极点上
25. 下列各地的经纬度位置正确的是（ ）。



- A. A地 (50° S, 40° E) B. B地 (0° , 50° E)  
C. C地 (40° S, 170° E) D. D地 (20° S, 170° E)

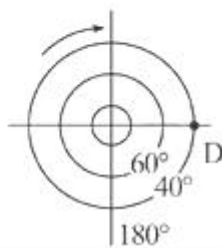
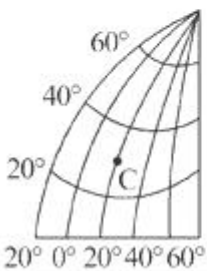
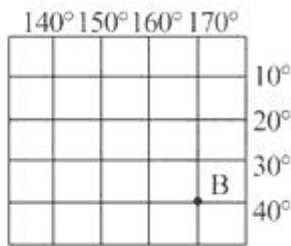
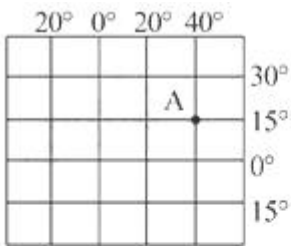
二. 综合题 (50分)

26. (每空 2 分, 12 分) 读“某区域经纬网图”(图甲)和“地球公转示意图”(图乙), 完成下列问题。



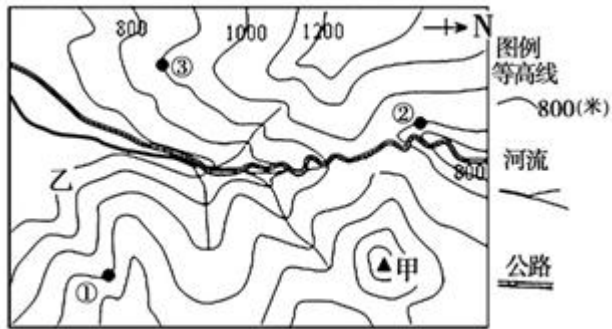
- (1) A 点的经纬度是\_\_\_\_\_，该点一年中有\_\_\_\_\_次太阳直射现象。
- (2) B 点在 A 点的\_\_\_\_\_方向。
- (3) B 点位于五带中的\_\_\_\_\_。
- (4) 当太阳直射 A 点时，地球位于公转轨道示意图上的\_\_\_\_\_处。
- (5) 地球由公转轨道的①处向②处运动过程中，山东泰安市的白昼将变\_\_\_\_\_ (填“长”或“短”)。

27. 读下面的经纬网图，回答问题。(24分)



- (1) 经纬度: A \_\_\_\_\_, B \_\_\_\_\_, C \_\_\_\_\_, D \_\_\_\_\_。(每空 4 分)
- (2) B 点处在东西半球中的\_\_\_\_\_半球, 南北半球中的\_\_\_\_\_半球。C 点处在东西半球中的\_\_\_\_\_半球, 南北半球中的\_\_\_\_\_半球。(每空 2 分)

28. 读某市等高线地形图回答下列问题。(每空 2 分, 14 分)



- (1) 图中①②③在山脊线上的是\_\_\_\_\_处，三地海拔最高相差\_\_\_\_\_米。
- (2) 甲处山体部位的名称是\_\_\_\_\_。
- (3) 图中河流干流的大致流向\_\_\_\_\_。
- (4) 等高线地形图中缺少地图三要素之一的是\_\_\_\_\_。
- (5) 图示地区主要地形是\_\_\_\_\_。
- (6) 在山区公路建设中，陡坡段增加“之”字状弯曲，原因是（ ）
  - A. 尽可能连接居民点
  - B. 尽可能减慢坡度
  - C. 尽可能避免河流
  - D. 尽可能节省材料

## 参考答案:

### 一. 选择题

1-5D CADA 6.-10DDBCC 11-15ABDAB 16-20CBAA.A 21-25.D.A.A.D.C

### 二. 读图题

26. (1) ( $23.5^{\circ}$  N,  $90^{\circ}$  E) 一

(2) 东南

(3) 热带

(4) ②

(5) 长

27. (1) ( $40^{\circ}$  E,  $15^{\circ}$  N) ( $170^{\circ}$  E,  $40^{\circ}$  S) ( $20^{\circ}$  E,  $30^{\circ}$  N) ( $90^{\circ}$  E,  $40^{\circ}$  S)

(2) 西 南 东 北

28. (1) ③ 100 米

(2) 山顶

(3) 自北向南

(4) 比例尺

(5) 山地

(6) B