

【2017-2018 学年武昌七校七年级上学期期中测试】

语文试卷

(满分 120 分，考试时间 120 分钟)

第I卷 (选择题 共 30 分)

一、(共 12 分，每小题 3 分)

1. 下列加点的字注音或字形完全正确的一项是 ()

- A. 静谧(m) 黄晕 (yùn) 侍弄(sì) 人声鼎沸(dǐn)
- B. 徘徊(huái) 酝酿(niàng) 诀别(jué) 咄咄逼人(duō)
- C. 分歧(qí) 祷告(dǎo) 匿笑(nì) 翻来覆去(fù)
- D. 秕谷(bǐ) 粗旷(kuàng) 一霎(chà) 花团锦簇(cù)

2. 依次填入下列横线上的词语最恰当的一项是 ()

(1) 水藻真绿,把终年_____的绿色全拿出来了。

(2) 又是秋天,妹妹推着我去北海看了菊花。黄色的花淡雅,白色的花_____,紫红色的花热烈而深沉,泼泼洒洒,秋风中正开得烂漫。

(3) 肥胖的黄蜂伏在菜花上,_____的叫天子(云雀)忽然从草间直_____向云霄里去了。

- A. 贮蓄 洁白 轻快 飞 B. 贮藏 高洁 轻快 飞
- C. 贮藏 洁白 轻捷 窜 D. 贮蓄 高洁 轻捷 窜

3. 下列各句中有语病的一项是 ()

- A. 小草似乎像复苏的蚯蚓一样翻动,发出一种春天才能听到的沙沙声。
- B. 长的草里不去的原因,是因为相传这园里有一条很大的赤练蛇。
- C. 那棵树的阴影落在你的头发和膝上时,我便要投我的小小的影子在你的书页上。
- D. 回想此前和此后截然不同的生活,我不能不感慨万分。

4. 下列各句标点符号使用不规范的一项是 ()

- A. “一年之计在于春,”刚起头儿,有的是工夫,有的是希望。
- B. “不,我不去!”我狠命地捶打这两条可恨的腿,喊着,“我活什么劲儿!”
- C. 她的眼睛顺小路望过去: 那里有金色的菜花、两行整齐的桑树,尽头一口水波粼粼的鱼塘。
- D. 冬天的百草园比较的无味;雪一下,可就两样了。

二、(共9分,每小题3分)阅读下面文章,完成5~7题。

中国的茶

①中国是茶的故乡,也是茶文化的发源地。中国茶的发现和利用,在中国已有四五千年历史,且长盛不衰,传遍全球。茶是中华民族的举国之饮,中国茶文化糅合了中国佛、儒、道诸派思想,独成一体,是中国文化中的一朵奇葩。

②中国何时开始饮茶,人人言殊,莫衷一是。唯大体上可谓开始于汉,而盛行于唐。唐以前饮茶,陆羽《茶经》卷下《六茶之饮》概为言之,谓:“茶之为饮,发乎神农氏,闻于鲁周公,齐有晏婴,汉有扬雄、司马相如,吴有韦曜,晋有刘琨、张载、远祖纳、谢安、左思之徒,皆饮焉。”但此多非史实,纵是史实,非加申述,亦不易明。《茶经》云:神农《食经》“茶茗久服,有力悦志”(刘源长《茶史》卷一)。陆羽《茶经》以为饮茶起于神农氏,然《食经》为伪书,尽人皆知,不足为据。《尔雅》有“苦茶”之句,世以《尔雅》为周公时作品,谬以为饮茶自周公始,不知《尔雅》非作于周公,也不足为饮茶起始之证。

③在古代史料中,茶的名称很多,但“茶”则是正名,“荼”字在中唐之前一般都写作“荼”字。“荼”字有一字多义的性质,表示茶叶,是其中一个义项。“茶”字从“荼”中简化出来的萌芽,始发于汉代,古汉印中,有些“荼”字已减去一笔,成为“茶”字之形了。不仅字形,“茶”的读音在西汉已经确立。在古代史料中,有关茶的名称很多,到了中唐时,茶的音、形、义已趋于统一,后来,又因陆羽《茶经》的广为流传,“茶”的字形进一步得到确立,直至今日。

④茶能消除疲劳,使人精神振奋,增强思维和记忆能力;饮茶能兴奋中枢神经,增强运动能力。茶中含有多种抗氧化物质与抗氧化营养素,对于消除自由基有一定的效果。因此每天喝三两杯茶可抑制细胞衰老,达到延年益寿的目的。茶叶中含有多种维生素和氨基酸,喝茶对于清油解腻,增强神经兴奋以及消食利尿也具有一定的作用。但饮茶也需注意,并不是喝得越多越好,不宜餐前睡前喝茶,餐前喝茶容易刺激肠胃,睡前喝茶则容易影响睡眠品质;茶水不宜过浓,也不宜置放太久;服用药物时,不可以茶水配服,会影响药效。

⑤茶文化的内涵其实就是中国文化的内涵的一种具体表现,谈茶文化必须结合中国汉文化而论之。中国素有礼仪之邦之称谓,茶文化的精神内涵即是通过沏茶、赏茶、闻茶、饮茶、品茶等习惯和中华的文化内涵和礼仪相结合形成的一种具有鲜明中国文化特征的一种文化现象,也可以说是一种礼节现象。礼茶文化是中国具有代表性的传统文化。中国不仅是茶叶的原产地之一,而且,在我国不同的民族,不同的地区,至今仍有着丰富多样的饮茶习惯和风俗。

5. 第②③④⑤段分别介绍了有关茶的知识,下列概括不正确的一项是()

- A. 茶的起源
- B. 茶的历史
- C. 茶的功用和禁忌
- D. 茶的文化内涵

6. 下列说法符合文意的一项是 ()

- A. 中国是茶文化的发源地，中国茶文化糅合了中国佛、儒、道等各派思想，独成一体。
- B. 中国人皆爱饮茶，茶对人体诸多器官均有益处，可谓有百利而无一害的举国之饮。
- C. 探究中国茶文化的精神内涵，必须通过沏茶、赏茶、闻茶、饮茶、品茶等习惯来进行。
- D. 陆羽《茶经》以为饮茶起于神农氏，文章作者认为大体上“茶开始于汉，而盛行于唐”。

7. 下列说法不符合文意的一项是 ()

- A. 作者认为《食经》为伪书，《尔雅》不是周公时作品，二者有关饮茶起始之证，都不足为据。
- B. “茶”字是从“荼”简化而来，产生于汉代，西汉时读音确立，中唐时音、形、义趋于统一。
- C. 茶文化的精神内涵是通过沏茶、赏茶、闻茶、饮茶、品茶等习惯和中华的文化内涵和礼仪相结合形成的。
- D. 礼茶文化是中国具有代表性的传统文化，不同的民族和地区，有着多样的饮茶习惯和风俗。

三、(共 9 分，每小题 3 分) 阅读下面的文言文，完成 8~10 题。

《论语》十一章

子曰：“学而时习之，不亦说乎？有朋自远方来，不亦乐乎？人不知而不愠，不亦君子乎？”（《学而》）

曾子曰：“吾日三省吾身：为人谋而不忠乎？与朋友交而不信乎？传不习乎？”（《学而》）

子曰：“吾十有五而志于学，三十而立，四十而不惑，五十而知天命，六十而耳顺，七十而从心所欲，不逾矩。”（《为政》）

子曰：“温故而知新，可以为师矣。”（《为政》）

子曰：“学而不思则罔，思而不学则殆。”（《为政》）

子曰：“贤哉，回也！一簞食，一瓢饮，在陋巷，人不堪其忧，回也不改其乐。贤哉，回也！”（《雍也》）

子曰：“知之者不如好之者，好之者不如乐之者。”（《雍也》）

子曰：“饭疏食饮水，曲肱而枕之，乐亦在其中矣。不义而富且贵，于我如浮云。”（《述而》）

子曰：“三人行，必有我师焉。择其善者而从之，其不善者而改之。”（《述而》）

子曰：“三军可夺帅也，匹夫不可夺志也。”（《子罕》）

子夏曰：“博学而笃志，切问而近思，仁在其中矣。”（《子张》）

8. 对下列语句中加点词解释不正确的一项是 ()

- | | | | |
|----------|------|-------------|----------|
| A. 不亦说乎 | 说：愉快 | B. 思而不学则殆 | 殆：疑惑 |
| C. 人不堪其忧 | 堪：忍受 | D. 好之者不如乐之者 | 乐：以...为乐 |

9. 下面句子断句不正确的一项是 ()

- A. 有朋/ 自/ 远方来/ 不亦/ 乐乎 B. 择/ 其善者/ 而从之/ 其不善者/ 而改之
C. 吾/ 日三省/ 吾身/ 为人谋/ 而不忠乎 D. 人/ 不堪其忧/ 回也不/ 改其乐

10. 下列对文本内容理解不正确的一项是 ()

- A. 《论语》是一部记录孔子和弟子言行的书，内容涉及学习、道德修养和为人处世的一般原则。
B. “子”是古代常用的敬辞，表示对老师或有道德、有学问的人的尊称，如孔子、曾子等。
C. 学习应该有谦虚好学的态度和勤学好问的精神，这样才能学有所得。
D. 孔子非常重视志向的树立和坚守，将它与三军之帅的重要性相提并论。

第II卷（非选择题 共70分）

四、(12分)

11. 翻译下面句子。(6分)

(1) 非人哉！与人期行，相委而去。 (《陈太丘与友期行》)

_____ (2) 博学而笃
志，切问而近思，仁在其中矣。 (《论语》十二章)

_____ 12. 填空。(6
分，每空2分)

(1) 我寄愁心与明月，_____。(李白《闻王昌龄左迁龙标遥有此寄》)

(2) _____，江春入旧年。(王湾《次北固山下》)

(3) 子在川上曰：_____，不舍昼夜。(《论语》十二章)

五、(20分) 阅读下面文章，完成14~17题。

屋檐下游走的光阴

①“茅檐低小，溪上青青草。醉里吴音相媚好，白发谁家翁媪？大儿锄豆溪东，中儿正织鸡笼。最喜小儿无赖，溪头卧剥莲蓬。”闲读宋词，陶醉于辛弃疾的《清平乐·村居》的美好乡村生活里，更勾起了我对屋檐的美好记忆。

②屋檐，是属于故乡、属于童年的。

③小时候，在故乡的小山村里，住的是泥墙瓦屋顶的老屋，老屋有大大的屋檐，像伞一般守护着我度过快乐的童年。

④每年的春讯是屋檐下的燕子告诉我的。当屋檐下空寂了一冬的燕巢又响起唧唧喳喳的呢喃，当屋檐下露出几只憨憨的黑色小脑袋、当一个个黑色的剪尾划过屋檐，我便知道，春天来了。小时候大人告诉我们燕子是益鸟，村里所有人都爱护着燕子，也以燕子在自家的屋檐下筑巢为荣。那时候我们爱做的一件事就是，挨着各家房子的屋檐寻觅，寻找有没有燕巢。长大后读诗书，读到唐代诗人皇甫冉的《赋得檐燕》：“拂水竞何忙，傍檐如有意。翻风去每远，带雨归偏驶。令君裁杏梁，更欲年年去。”以及南朝吴均《山中杂诗》中：“鸟向檐上飞，云从窗里出。”这些诗句，总能勾起我对屋檐与燕子的阵阵怀想。

⑤小时候炎热的夏天，我与外祖母在屋檐下纳凉。白晃晃的阳光透过屋檐投射到斑驳的泥墙上，光影灵动。外祖母躺在一张凉椅上，我趴在她旁边睡觉，她紧紧地握一把葵扇，轻轻地摇扇，摇下凉快和无数童年的故事，摇下缓慢流淌的时光。锄头、铲子、铁耙子，铁叉子静静地靠在泥墙旁，以标点符号的姿势，记录着农家人的农耕岁月。骄傲的大公鸡在屋檐下昂首挺胸地踱着步，发出动人的声音，谦虚的小花猫在墙根旁安静地睡觉……一切如此安详宁静，仿佛一幅静物工笔画。

⑥屋檐下看雨听雨又是另一番景致。下雨的时候，屋外是潮湿的世界，大雨顺着屋檐开始流淌，起先是雨珠子，滴滴答答，一声，两声……雨点像多情女子的巧手，屋檐是古琴，轻轻地弹奏出美妙的琴音；慢慢地，变成了雨线，一条，两条……然后变成了雨帘。每每那时，总会看见老母鸡带着一队小鸡在屋檐下躲雨，老母鸡用自己宽大的羽翼保护着小鸡，小鸡在叽叽叫着，老母鸡咯咯咯地回应，声音透着慈爱。后来读到唐代诗人王建的《听雨》：“半夜思家睡里愁，雨声落落屋檐头。照泥星出依前黑，淹烂庭花不肯休。”我总会想起童年时在屋檐下看雨听雨的情景，也更氤氲^①起我想家的情怀。

⑦长大后，我离开了家乡，离开了那些年住的老屋，我就越发思念老屋的屋檐。在异乡的城市里，林立的高楼大厦是没有屋檐的，“屋檐”变成了我埋藏在记忆深处的一个梦。于是，每次回老家，我都像在寻找我那快乐的童年，那美好的光阴。回到老家，屋檐还在，八十多岁的外祖母依然坐在屋檐下，她对着我慈祥地笑，问我在城里的工作和生活，念叨着我什么时候领个外孙子回来给她瞅瞅。多年后，我领着女儿再回老家，外祖母已九十多岁，她依然坐在屋檐下，她依然会念叨我的名字，可是她已认不出我了。

⑧再回首，我童年美好的光阴，在屋檐下静静地游走。

①注：氤氲 yīnyūn：形容烟云弥漫的样子。

13. 文章围绕“屋檐”，写了几件童年往事，请用简洁的语言将事件补充完整。（4分）

(1) _____

(2) _____

(3) “我”在屋檐下看雨听雨。

14. 结合语境，根据提示，品析句子的表达效果。（6分）

雨点像多情女子的巧手，屋檐是古琴，轻轻地弹奏出美妙的琴音。（提示：请从修辞手法的角度）

15. 文章第⑦

段，作者为什么说“‘屋檐’变成了我埋藏在记忆深处的一个梦”？（4分）

16. 文章的结尾

段有何作用？（6分）

六、（8分）根据要求完成 17、18 题。

语文课上，我们开展了“名著导读”活动，要求同学们自主阅读鲁迅的《朝花夕拾》。

17. 为了更好地理解鲁迅作品《朝花夕拾》，消除与经典的隔膜，你们小组准备开展一次专题探究活动，请你设计一个研究选题，并写出探究过程的大致步骤。（至少包含三个步骤，需写出每个步骤应完成的具体事宜）（4分）

18. 在本次活动中，要求你为同学们谈谈阅读经典作品的意义，请结合《朝花夕拾》，写写你的阅读感受。

（要求：100--120 字）（4分）

七. 作文 (50 分)

在你成长的路上，有很多双眼睛关注着你的欢笑与忧愁，跌倒与站起，其中一定有一双眼睛曾让你怦然心动，或给予你持久的力量。

请根据以上内容，以“那双眼睛”为题，写一篇记叙文。

要求：(1) 叙事完整，有细节描写；写出体会和感悟，有真情实感。

(2) 文中如果涉及真实的姓名或校名，请用化名代替。

(3) 书写认真，整洁美观，篇幅不少于 600 字。

【2017-2018 学年洪山区七年级上学期期中测试】

语文试卷

(满分 120 分，考试时间 120 分钟)

第 I 卷 (选择题)

一、(共 12 分，每小题 3 分)

1. 下列加线字读音书写有误的一项是 ()

- A. 酝酿 (niàng) 静谧 (mì) 干燥 呼朋引伴
 B. 宽敞 (chǎng) 澄清 (chéng) 水藻 翻来覆去
 C. 应和 (hè) 高邈 (mào) 嘹亮 费寝忘食
 D. 莅 (lì) 临 尴尬 (gā) 踉跄 花团锦簇

2. 选择最恰当的一组填入句中 ()

- (1) 小草偷偷地从土里_____出来，嫩嫩的，绿绿的。
 (2) 一点点黄晕的光，_____出一片安静而和平的夜。
 (3) 小李工作积极认真，对于公司业务，他一向是_____，从不推拖。

- A. 钻 渲染 义无反顾 B. 钻 烘托 当仁不让
 C. 冒 渲染 当仁不让 D. 冒 烘托 义无反顾

3. 下列句子中有语病的一项是 ()

- A. 部编语文教材七年级上册第一单元课文用优美的语言，抒发了亲近自然、热爱生活。
 B. 读经典作品，更有利于文化积累，让自己的思想与大师们联网接轨。
 C. 《城南旧事》由五个既各自独立，又在时间上具有延续性的短篇小说组成。
 D. 习近平代表第十八届中央委员会向大会作了题为《决胜全面建成小康社会，夺取新时代中国特色社会主义伟大胜利》的报告。

4. 下列各句标点符号使用不规范的一项是 ()

- A. “吹面不寒杨柳风”，不错的，像母亲的手抚摸着你。
 B. 请闭上眼睛想：一个老城，有山有水，全在蓝天下很暖和安适地睡着，只等春风来把它们唤醒，这是不是个理想的境界。
 C. 天空是暗的，但雨却闪着光；田野是静的，但雨在倾诉着。
 D. 我们在田野散步：我，我的母亲，我的妻子和儿子。

5. 下列说法不正确的一项是（ ）

- A. 老舍是《济南的冬天》的作者。主要作品有小说《骆驼祥子》《四世同堂》《茶馆》等。
- B. 马致远的《天净沙 秋思》中“天净沙”是曲牌名。
- C. 王湾的《次北固山下》一诗颔联的“潮平两岸阔”，“阔”是表现“潮平”的结果。
- D. 《湘西散记》是沈从文的一部散文集，创作于1934年初，是他构建“文学湘西”世界的一块重要拼图。

二、阅读《济南的冬天》节选文段，完成6、7题

①最妙的是下点小雪呀。看吧，山上的矮松越发的青黑，树尖儿上顶着一髻儿白花，好像日本看护妇。山尖全白了，给蓝天镶上一道银边。山坡上，有的地方雪厚点儿，有的地方草色还露着；这样，一道儿白，一道儿暗黄，给山们穿上一件带水纹的花衣：看着看着，这件花衣好像被风儿吹动，叫你希望看见一点儿更美的山的肌肤。等到快日落的时候，微黄的阳光斜射在山腰上，那点儿薄雪好像忽然害了羞，微微露出点粉色。就是下小雪吧，济南是受不住大雪的。那些小山太秀气！

②古老的济南，城里那么狭窄，城外又那么宽敞，山坡上卧着些小村庄，小村庄的房顶上卧着点儿雪，对，这是张小水墨画，也许是唐代的名手画的吧。

③那水呢，不但不结冰，反倒在绿萍上冒着点儿热气，水藻真绿，把终年贮蓄的绿色全拿出来了。天儿越晴，水藻越绿，就凭这些绿的精神，水也不忍得冻上；况且那长枝的垂柳还要在水里照个影儿呢。看吧，由澄清的河水慢慢往上看吧，空中，半空中，天上，自上而下全是那么清亮，那么蓝汪汪的，整个的是块空灵的蓝水晶。这块水晶里，包着红屋顶，黄草山，像地毯上的小团花的灰色树影。这就是冬天的济南。

6. 阅读第①段内容，下列说法不正确的一项是（ ）

- A. “妙”字统领全段，整段文字围绕它展开。
- B. “最妙的是下点小雪呀”一句中“最妙”要重读，“呀”字朗读时音调上扬。
- C. 作者按照时间顺序把山景写得层次清晰，色彩斑驳。
- D. “那点薄雪好像忽然害了羞，微微露出点儿粉色”一句运用了比拟修辞手法。

7. 结合课文阅读第③段内容，下列说法不正确的一项是（ ）

- A. 作者极写水藻的绿是为了衬托出济南冬天的水之温暖。
- B. 作者借“水”来表现济南冬天温晴的特点，作者笔下济南冬天的水有生命，也有感情。
- C. 作者用“蓝水晶”比喻济南冬天的水，突出了水的清亮。
- D. 文章用“这就是冬天的济南”结尾，既点了题，又抒发了作者的赞美之情。

三、文言文阅读。

陈太丘与友期行

陈太丘与友期行，期日中，过中不至，太丘舍去，去后乃至。元方时年七岁，门外戏。客问元方：“尊君在不？”答曰：“待君久不至，已去。”友人便怒：“非人哉！与人期行，相委而去。”元方曰：“君与家君期日中。日中不至，则是无信；对子骂父，则是无礼。”友人惭，下车引之，元方入门不顾。

8. 对下列加线词的解释，不正确的一项（ ）

- A. 陈太丘与友期行 期：约定
- B. 相委而去 委：委托
- C. 下车引之 引：牵拉
- D. 元方入门不顾 顾：回头看

9. 下列句子朗读停顿（用“/”表示）正确的一项是（ ）

- A. 答曰：“待君久 / 不至，已去。”友人 / 便怒：“非人 / 哉！与 / 人期行，相委 / 而去。”
- B. 答曰：“待君久 / 不至，已去。”友人 / 便怒：“非 / 人哉！与 / 人期行，相 / 委而去。”
- C. 答曰：“待君 / 久不至，已去。”友人 / 便怒：“非 / 人哉！与人 / 期行，相 / 委而去。”
- D. 答曰：“待君 / 久不至，已去。”友人 / 便怒：“非人 / 哉！与人 / 期行，相委 / 而去。”

10. 下列说法正确的一项是（ ）

- A. 文中朋友感到惭愧准备离开，元方下车去拉朋友的手让朋友留下。
- B. 文中的“尊君”谦称自己的父亲，“家君”尊称对方的父亲。
- C. 文中友人失信于元方，又失礼于元方。
- D. 本文告诫人们做事要有诚信，为人要方正。

第II卷（非选择题）

四、完成 11-12 题。

11. 翻译下列句子

(1) 知之者不如好之者，好之者不如乐之者。

(2) 博学而笃志，切问而近思，仁在其中矣。

12. 填空

(1) 我寄愁心与明月，_____。（《闻王昌龄左迁龙标遥有此寄》）

(2) _____，可以为师矣。（《为政》）

(3)《次北固山下》中表现自然理趣，给人乐观进取、积极向上的诗句是_____，
_____。

五、阅读下面的文章，完成 13-16 题。

少年书架

①喜欢书，像喜欢一件宝物。小时每每发了新书，都要找来旧报纸，包了书皮，工工整整写上：语文，数学……然后是班级姓名。手里托着书，美滋滋看着，心里有份庄重。有种没来由的稳妥。

②学期末，新书变旧书，一如既往的整齐，只是有了岁月的痕迹，泛着淡淡的黄。细心收起来，放到纸箱里，来年春天，再搬出来晒太阳。

③偶然去老师家，一进门就呆住了：老师客厅的一面墙，宽宽大大一面架子，大大小小的书，一本本直立着，是一队队意气风发的少年，春意荡漾啊！罗列其中的，还有照片，石膏雕像，或者一盆小小的文竹……我真是看呆了，书，可以这样放，多好！

④那是王老师用木板和木条，自己钉在墙上的，美其名曰：书架。我用手抚摸着那粗糙的木条、木板，还有书，像是久别的朋友，细腻，温暖。

⑤我迷恋上老师书架的样子了，在书桌前，把书一本本立起来。左右用厚厚的字典做靠背，俨然一个小书架了。这小小发明，竟然让我激动了许久。

⑥放学回家，喜笑颜开地告诉爸妈，我有书架了！爸妈一愣，哪里的？

⑦待我把在老师家里的所见，以及自己在书桌上摆放的事告诉他们的时候，妈妈嘴角漾起一份笑意，眼里还有一抹难以名状的光泽。

⑧那时，家里的条件不好，能上学读书，已经是很幸福的事情了，哪里还敢奢望买上一件这样“无用”的家伙呢？当然，我也会悄悄想：什么时候，我也会真的拥有一个那样的小小书架？

⑨那是一个秋日，天，蓝蓝的，几片厚厚的白云，暖暖地轻轻地飘着。爸爸下班回家，推着自行车进了院子，连声道：够了，够了！

⑩什么够了？我和妈妈惊奇地从屋子里跑出来。看，这些木头足够做一个小书架了。爸爸兴奋着。我看那些木条、木板，在爸爸的自行车后架上安静地等待着。小心脏一下子活跃起来，不知所措了，我仿佛看见了，看见了那个美丽的家伙款款而来……

⑪爸爸利用下班的时间，去包装厂，在丢弃的废料中，千挑万拣，捡来这能用的木料。

⑫歇班两天的爸爸，用砂纸，一点点地打磨看那些木头，准备好锤头、铜锯、各种钉子、油漆……放了学的我，迫不及待地往家里跑，蹲在一边，看着爸爸在木屑中忙乎。

⑬天，静静的；阳光，亮亮的。院子里似乎有了道道金光。两天的时间，掰着手指过。

⑭小小的书架成了！

⑮爸爸问我，喜欢什么颜色。我想啊，想，就调成黄色吧。爸爸涂漆，一遍又一遍，慢慢地，小小书架成了土黄色，是秋天叶子成熟的颜色。

⑯风来，漆干。抱起书架，放到桌子的一角，把书一本本放进去。那欢喜，宛如莲花的一瓣，在心里，一点点绽开。放满书的架子，是一株亭亭玉立的稻子，安静、饱满。见到它，如见到久违的老友。

⑰日子深一脚浅一脚地过，它在身边，不离不弃，不恼不怒。经历各种漂泊，它伴着我，慢慢换了容颜。

⑱家里也已拥有大大的书架，开阔大气。而它早已泛起了油渍的光，笨拙而苍老。即便如此，它亦端端正正地立在我的桌前，是我的长者，沉默不语，凝视着我，撑起我的腰身。

⑲如果有一天，要我选择少年重来，陪伴我的，依然是少年书架。

13. 阅读全文，理清文章思路，本文以“书架”为线索写了四件事，请简要概括。

14. 请结合文章内容，品味下列句子，回答问题。

妈妈嘴角漾起一份笑意，眼里还有一抹难以名状的光泽。

(1) 指出这句话中加线两个词的词性。

(2) 理解加线两个词在这句话中的语意。

15. 阅读第⑩段，品味下列句子，说说运用了什么修辞手法，并体会其表达效果。

我仿佛看见了，看见了那个美丽的家伙款款而来……

16. 请结合全文说说你对“如果有一天，要我选择少年重来，陪伴我的，依然是少年书架”这句话的理解。

六、根据要求完成 17、18 题。

目前，新一轮的《中国诗词大会》进入了赛区选拔环节，学校准备开展“诵读经典 声动荆楚”经典诵读大赛活动。

17. 为了顺利举办此次活动，请你拟出参赛选手所需要的三个条件。

18. 假如你是班级的语文课代表，需要你在班级里宣传这次活动，请你用简明而得体的语言来讲讲这次活动的意义。（100—120 字）

七、作文

19. 生活中的小事多得数不清，道不尽，正是这些不值一提的小事，感动了我们，震撼了我们，激励了我们，教育了我们，启发了我们，温暖了我们……我们从生活中的小事里获得了学习动力，拥有了战胜困难的勇气，明白了做人做事的道理。

请以《那件小事_____了我》为题写一篇记叙文。

要求：

1. 在作文题目横线上填上词语，把题目补充完整。
2. 文中不要出现真实的人名、班名，若有需要请用化名代替。
3. 不少于 600 字。

【2017-2018 学年江岸区七年级上学期期中测试】

语文试卷

第I卷（选择题 共 30 分）

一、（共 12 分,每小题 3 分）

1.下列各组词语中加点字的书写或注音有误的一组是()

- A. 欹(qī)斜 菡萏(hàn dàn) 匿(n)笑 人迹罕至
- B. 仿膳(shàn) 憔悴(qiáo cuì) 盍(ku)甲 花团锦簇
- C. 静谧(mì) 高邈(miǎo) 莅(lì)临 人声鼎沸
- D. 桑葚(shèn) 斑蝥(máo) 确凿(zuó) 绝然不同

2.依次填入下面横线处的词语,恰当的一组是()

- (1)对于“跑”和“踩”一类的字眼儿,她比我还_____。
- (2)倘若用手指按住它的脊梁,便会拍的一声,从后窍_____出一阵烟雾。
- (3)我对他很_____,因为我造就听到,他是本城中极方正,质朴,博学的人。
- (4)春天,树叶开始_____出黄青,花苞轻轻地在风中摆动,似乎还带着一种冬天的昏黄。

- A. 敏锐 喷 尊敏 现 B. 敏感 喷 恭敬 闪
- C. 敏感 冒 恭敬 现 D. 敏锐 冒 尊敬 闪

3.下列各句中有语病的是()

- A. 要提高教学质量,必须不断地提高师质水平和教学设备。
- B. 要成为一个真正的读书人,就要逐渐养成爱读书、勤读书的良好习惯。
- C. 国内专利申请数的持续快速增长,表明我国公众的研究开发水平不断提高。
- D. 奥运火炬登顶珠峰,必须克服低温、低压、大风等不利的困难,充分考虑登山队员登顶时可能遇到的各种情况。

4.下列各句标点符号使用规范的一项是()

- A. 诗作为浓缩提炼过的语言,是语言的极致它可以作为标尺,衡量一个人对一种语言熟悉和理解的程度。
- B. 一个汉语的子民,寄居他乡,故土和亲人已在远方,母语便是故乡的方言土语。
- C. “知音”一词源于钟子期与俞伯牙的故事,子期因为能听出琴音寓意,被伯牙引为“知音”。
- D “君子”一词很难界定,勉强相当于西方文化中的绅士,春秋之前,君子主要是指社会的掌权者、当权者。

二、(共 9 分,每小题 3 分)阅读下面的短文,完成 5-7 题

谁染枫林醉

①唐代诗人杜牧的《山行》以形象、明快、洗练的语言,勾勒出层林尽染、枫叶流丹的画面,并吟诵出“霜叶红于二月花”的千古绝唱。

②为什么晚秋的枫叶会变得满山锦绣、遍地彩霞呢?宋人杨万里有诗云:“小枫一夜偷天酒,却倩孤松掩醉容。”说是枫叶在一夜间偷饮了“天酒”而“醉”成了红色。这虽然为枫林红叶增添了几分神秘和浪漫,但并没有道出枫叶变红的确切道理。

③到底“谁染枫林醉”呢?现代科学认为,植物叶片的颜色取决于其中所含的色素物质,如叶绿素、叶黄素、花青素、胡萝卜素等等。这些色素物质往往会随着植物成熟期的不同和环境条件的改变而发生变化,从而呈现出各自具有鲜明特征的颜色。叶片中含有较多叶绿素时就会呈现绿色,含有较多叶黄素时就会呈现黄色,而含有较多的花青素时则会呈现紫、蓝、红等不同的颜色。这是因为花青素是一种水溶性植物色素,独特的化学结构使其颜色多变。花青素的基本结构母核是花色基元。由于其中的氧原子是 4 价的,所以它和它的衍生物具有碱的性质,即能够与酸性物质作用生成盐;而花青素又是花色基元的羟基取代衍生物,因而,它又具有酸的性质,即能与碱性物质作用生成盐。花青素的这种结构特点决定了它具有随介质 pH 值改变而改变结构并从而改变颜色的可能性。试验证明,花青素在酸性介质中呈现其表征的红色。而枫树的叶片细胞液呈现酸性,春夏季节由于枫叶中一般只含有叶绿素而不含有花青素,所以此时的枫林还是郁郁葱葱的绿色;可到了深秋季节,由于气温骤降,光照减少,使得叶片内光合作用制造的淀粉不能完全适合叶片,这样就造成叶细胞内糖分的积累,从而促进了花青素的形成。由于枫叶细胞液的酸性环境,花青素呈现红色也就是顺理成章的事了。

④“霜叶红于二月花”体现了“枫林红叶”外在美和内在美的统一。如果你一旦置身于枫林之中,一定会为祖国的大好河山所陶醉,并为“霜叶”抗严寒傲霜雪的生机和力量而感动。

(选自《语文报》,有删改)

- 5.“谁染枫林醉”下列理解不正确的一项是()
- A.枫叶在一夜间偷饮了“天酒”而“醉”成了红色。
- B.深秋时山上的枫叶中几乎不含有叶绿素,含有表现为红色的花青素。
- C.深秋季节由于气温骤降,光照减少,促使枫叶中花青素的形成。
- D.枫叶的叶片细胞呈酸性,在酸性环境中的花青素使得深秋“枫林醉”了。
- 6.下列对有关“花青素”特点表述不正确的是()
- A.花青素是一种化学结构独特的一种水溶性植物色素。
- B.花青素里含有各种色素物质,比如:叶绿素、叶黄素等。
- C.花青素里既能与酸性物质作用生成盐,也能与碱性物质作用生成盐。
- D.花青素的基本结构母核是花色基元,正因为此,花青素具有随介质的 PH 值的改变而改变颜色的可能性。
- 7.大自然中的植物呈现出万紫千红的景象,下列说法不正确的一项是()
- A.小明说:万年青是一种常绿草本,它的叶片中含有较多的叶绿素,因此常年呈现绿色。
- B.小溪说:胡萝卜之所以呈现橙色(橘红色)因为它们的细胞液里含有大量的胡萝卜素。
- C.小杉说:白色菊花萎谢之前微呈红色,表示它这时也含有少量的花青素了。
- D.听了大家的话,小鑫总结说:植物叶片的颜色取决于叶片所含的色素物质,色素物质一般是不会变化的。

三、(共9分,每小题3分)阅读下面文言语段,完成8-10题。

董永,千乘人。少偏孤,与父居。肆力①田亩,鹿车载自随。父亡,无以葬,乃自卖为奴,以供丧事。主人知其贤,与钱一万,遣之。永行三年丧毕。欲还主人,供其奴职。道逢一妇人曰:“愿为子妻。”遂与之俱。主人谓永曰:“以钱与君矣。”永曰:“蒙君之惠,父丧收藏。永虽小人必欲服勤致力以报厚德。”主曰:“妇人何能?”水曰:“能织。”主曰:“必尔者,但令妇为我织缣②百匹。”于是永妻为主人家织,十日而毕。女出门,谓永曰:“我,天之织女也。缘君至孝,天帝令我助君偿债耳。”语毕,凌空而去,不知所在。

【注释】①肆力:尽力极力。②缣(jiān):细绢。

- 8.下列句中加点的词的解释,不正确的一项是()
- A.少偏孤 孤:成为孤儿。 B.欲还主人 还:返回,回到
- C.遂与之俱 俱:具备,齐全。 D.缘君至孝 缘:因为。

9.文中划线句子的断句停顿正确的一项是()

- A.水虽小/人欲必服/勤致力/以报厚德
 B.水虽小人/欲必服勤致力/以报厚德
 C.永虽小人/欲必服勤/致力以报厚德
 D.水虽小/人欲必服勤/致力以报厚德

10.下面对文章内容的理解分析,不正确的一项是()

- A.董水小时候就尽力做农活。后来,为了安葬父亲,他宁愿卖身为奴。
 B.服丧三年后,董水想回到主人家做奴仆来报答恩情。
 C.董水的妻子给主人家织布百匹,总算是丈夫偿还了主人的人情债。
 D.董水妻子本是天上织女,被其孝心感动,他来到人间帮助董水。

第II卷(非选择题 共90分)

四、(18分)

11. 将上文中划横线的句子翻译成现代汉语。(4分)

必尔者, 但令妇为我织缣百匹。

12. 填空。(14分, 每空2分)

- (1) _____, 思而不学则殆。
 (2) 正是江南好风景, _____。
 (3) _____, 一夜征人尽望乡。
 (4) _____, 切问而近思, 仁在其中矣。
 (5) 潮平两岸阔, _____。
 (6) _____? 归雁洛阳边。

五、(22分) 阅读下面的文章, 完成13-16题。

小雨中的回忆

阵义祥

窗外, 小雨淅淅沥沥地下着。这眼前的情景, 竟跟我13岁那年在洋口泊儿湾捉蟹时的几乎一样。

那年, 我跟父亲到洋口去看望姑妈。姑妈专门煮了些上等的海味给我吃。我最偏爱的是那种姑妈不让多吃的大螃蟹!

那海碗大的、蒸得发黄的大海蟹, 揭开盖后, 鲜黄鲜黄的蟹黄、嫩白嫩白的蟹肉、腾腾的热气、阵阵



的清香-----别说吃，就是想起来，也会使人直咽口水。家乡那小山沟里虽然有螃蟹，但那是些什么玩艺呢？瓶盖儿似的！怎能跟这大海蟹相比？当我吃着这香喷喷的螃蟹时，甭提有多兴奋，也多么想亲手捉几只呀！

姑妈家里没有孩子陪我玩。于是，邻家那哥儿俩——大龙和小龙便成了我最好的伙伴。那年，大龙 15 岁，小龙 12 岁。一次，我们约好去泊儿湾捕蟹。可是第二天，捉弄人的鬼天气却淅淅沥沥地下的雨来，我失望极了，我急得简直要哭。姑妈一个劲地说：“鸿儿，咱不去！那儿危险，天又下雨，可不得了！”“我不嘛，我跟大龙哥约好了的！”

父亲气得直瞪眼。姑父却拿出他的蓑衣，笑着说：“让他去吧；大龙那孩子干事挺稳当的！”说着就给我穿好了蓑衣。姑妈只得送我出了屋门，又出了大门。一路上，她唠唠唧唧，一句话可嘱咐了十遍。大龙哥带着小龙，扛着桨，提着大网桶走过来了。姑妈又嘱咐了他十几遍。

上船了，雨依旧下着，我们愉快地向泊儿湾进发。姑父的蓑衣太大了，我穿着摇摇摆摆的，怪不利索的。大龙哥把自己的蓑衣脱下来跟我换，又让我和小龙进舱，他自己驾船。

泊儿湾不远，一会儿就到了。我下了船，站在岸边的礁石上，一看：哪有螃蟹？大龙哥好像猜透了我的心思，说：“等会儿潮退完了，蟹子就会上来的。”

果然，一会儿潮退完了，露出了一块礁石突兀的地面。哈哈！一大群螃蟹蜂拥而来，乍一看，真有些怕人！

大龙哥说：“鸿儿在上面等着，小龙跟我下去，要快捉！雨天的汛儿来的很快！”

我看着他俩轻快地捉着螃蟹，手痒得不行，于是我也下去，伸手向一只大螃蟹抓去，可是，我的手反被它夹住了，疼得喊起来。大龙哥赶紧过来，用手指在螃蟹身上一弹，蟹钳便松开了。我又要抓，大龙哥忙说：“不能这么抓！要拿它的盖子！”他说着，又捉起一只。我照他的样子一试，果然行！一会儿的工夫，也捉了十几只哩！

雨渐渐停了，铅色的天空现出几大片光亮，海天相接的远处，射出几道霞光。

“行了，快上船！我懵里懵懂地听见大龙在叫，马上随着上了船。我正盯着网桶里反戈相击的大螃蟹，忽然觉得船身直晃，呀，好险！刚那片礁石早被汛儿吞没了！我不禁佩服起大龙哥来。回家时，大龙哥非要把螃蟹都归我。“那不行！”我说，“船、桶是你们家的，再说……”

“这是我阿爸说的！他说你是客人，我们没什么给你，送你一些螃蟹吧！你们快回莱芜了，让你姑妈蒸好了带回去！”我实在拗不过他，便收下了螃蟹。看着使劲驾船的大龙，心里好生感激。

几年过去了。不久前，我在报纸上看到，泊儿湾现在成了名闻遐迩的浅海养殖专业乡，还生产了独家产品“鲜蟹罐头”。我想，大龙、小龙哥俩，凭着从小练就的驾船弄潮的本领，这会一定在大显身手了。

窗外，秋雨还在下着。儿时雨还在下着。

13.“我”在姑妈家的那几天里,内心情感发生了怎样的变化?请结合用简洁的词语概括。(6分)

_____→_____→愉快→_____

14.文中的大龙是一个怎样的孩子?结合文相关情节具体分析。(6分)

15.文章最后一段“窗外,秋雨还在下着。”在文有什么作用?请简要分析。(4分)

16.请概括全文的主要内容和思想感情。(6分)

六、作文。

撇和捺互相支撑就成了“人”,在人生的历程中常常离不了他人的支撑。

在风平浪静的时候,常需要向人倾诉;在疾风驱骇浪的时候,常需要有人帮。在时间的流逝中,总有人是你最想依靠的。

请以“我最想依靠的就是你”为题,写一篇记叙文。

要求:字迹工整,字数不少于 600 字。

2017—2018 学年武汉市武昌区七年级上学期期中考试数学试卷

一、选择题（每小题 3 分，共 30 分）

- 1、 $|-2|$ 的值等于 ().

A. -2 B. 2 C. $\frac{1}{2}$ D. $-\frac{1}{2}$
- 2、某市在一次扶贫助残活动中，捐款约 3180000 元，请将 3180000 元用科学记数法表示为 ().

A. 0.318×10^7 元 B. 3.18×10^6 元
 C. 31.8×10^5 元 D. 318×10^4 元
- 3、下列方程为一元一次方程的是 ().

A. $y+3=0$ B. $x+2y=3$ C. $x^2=2x$ D. $\frac{17}{2}$
- 4、下列各组数中，互为相反数的是 ().

A. $-(-1)$ 与 1 B. $(-1)^2$ 与 1 C. $|-1|$ 与 1 D. -1^2 与 1
- 5、下列各组单项式中，为同类项的是 ().

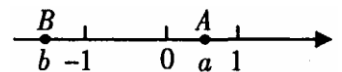
A. a^3 与 a^2 B. $\frac{1}{2}a^2$ 与 $2a^2$ C. $2xy$ 与 $2x$ D. -3 与 a
- 6、若 $x=y$ ，则下列结论不正确的是 ().

A. 若 $x=y$ ，则 $mx-6=my-6$ B. 若 $a=b$ ，则 $\frac{a}{|t|+1} = \frac{b}{|t|+1}$
 C. 若 $x=3$ ，则 $x^2=3x$ D. 若 $mx=my$ ，则 $x=y$
- 7、如果 $a < 0$ ， $-1 < b < 0$ ，则 a ， ab ， ab^2 按由小到大的顺序排列为 ().

A. $a < ab < ab^2$ B. $a < ab^2 < ab$
 C. $ab < ab^2 < a$ D. $ab^2 < a < ab$
- 8、已知 M 是 6 的相反数， N 比 M 的相反数小 2，则 $M-N$ 等于 ().

A. 4 B. 8 C. -10 D. 2
- 9、如图，数轴 A 、 B 上两点分别对应实数 a 、 b ，则下列结论正确的是 ().

A. $a+b > 0$ B. $ab > 0$
 C. $\frac{1}{a} + \frac{1}{b} > 0$ D. $\frac{1}{a} - \frac{1}{b} < 0$





10、下列说法中正确的是 ().

- ①若 m 满足 $|m|+m=0$, 则 $m<0$; ②若 $|a-b|=b-a$, 则 $b>a$; ③若 $|a|>|b|$, 则 $(a+b)\cdot(a-b)$ 是正数;
④若三个有理数 a, b, c 满足 $\frac{|a|}{a}+\frac{|b|}{b}+\frac{|c|}{c}=1$, 则 $\frac{|abc|}{abc}=1$.

A、1

B、2

C、3

D、4

二、填空题 (每题 3 分, 共 18 分)

11、相反数是它本身的数是_____；绝对值是它本身的数是_____.

12、请写出一个解为 $x=2$, 且 x 的系数为 3 的一元一次方程_____.

13、在数轴上表示的数 a 的点到原点的距离为 6, 则 $a+|-a|$ =_____.

14、对于任意有理数 a, b, c, d , 规定了一种运算 $\begin{vmatrix} a & b \\ c & d \end{vmatrix} = ad - bc$, 如 $\begin{vmatrix} 1 & 0 \\ 2 & -2 \end{vmatrix} = 1 \times (-2) - 0 \times 2 = -2$,

那么 $\begin{vmatrix} 2 & -4 \\ 3-x & 5 \end{vmatrix} = 25$ 时, x =_____.

15、把一张纸片剪成 4 块, 再从所得的纸片中任取若干块, 每块又剪成 4 块, 像这样依次地进行下去, 到剪完某一次为止. 那么 2014, 2015, 2016, 2017 这四个数中_____可能是剪出的纸片数.

16、有理数 a, b 满足 $ab < 0, a+b > 0, 7a+2b+1 = -|b-a|$, 则 $\left(2a+b+\frac{1}{3}\right)\cdot(a-b)$ 的值为_____.

三、计算题 (17 题每题 4 分, 18 题每题 4 分, 共 20 分)

17、计算: (1) $4 - (-5) + (-6)$;

$$(2) \left(4\frac{1}{3} - 3\frac{1}{2}\right) \times (-2) - 2 \div \frac{1}{2};$$

$$(3) \left[1 - \left(1 - 0.5 \times \frac{1}{3}\right)\right] \times [2 - (-3)^2].$$



- 18、解方程：(1) $2x+9=5x+2$;
(2) $16y-2.5y-5=6-8.5y$.

四、解答题（19 题 6 分，20 题、21 题每题 8 分，22 题、23 题每题 10 分，24 题 12 分，共 52 分）

19、先化简，再求值： $-3[y-(3x^2-3xy)]-[y+2(4x^2-4xy)]$ ，其中 $x=3$ ， $y=\frac{1}{3}$.

20、某检修小组乘汽车沿公路检修线路，约定前进为正，后退为负。某天自 A 地出发到收工时所走路线（单位：千米）为： $+12, -5, +2, +4, -9, +14, -2, +12, +8, +5$.

- (1) 问收工时距 A 地多远？
(2) 若每千米路程耗油 0.15 升，问从 A 地出发到收工共耗油多少升？

21、若 $(m-4)x^{2|m-7}-4m=0$ 是关于 x 的一元一次方程，求 m^2-2m+1 的值.

22、甲、乙、丙、丁合作生产一批零件。已知甲生产零件的数量是乙生产零件的数量的 $\frac{4}{5}$ ，乙生产零件的数量是丙生产零件的数量的 $\frac{3}{2}$ 倍，丁比甲多生产了3个零件，设丙生产零件 x 个。

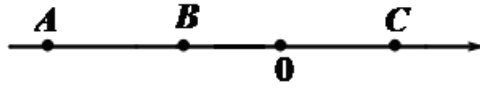
- (1) 则乙生产零件_____个，丁生产零件_____个；
- (2) 若乙生产的零件数量比丁多，用含 x 的代数式表示，乙比丁多生产零件多少个？
- (3) 若乙和丁生产的零件数量一样多，则这批零件一共有多少个？

23、如图，从左边第一个格子开始向右数，在每个小格子中都填入一个整数，使得其中任意三个相邻格子中所填整数之和都相等。

9	a			-6	b			2	c	...	
---	---	--	--	----	---	--	--	---	---	-----	--

- (1) 可求得 $a = \underline{\hspace{2cm}}$ ，第2017个格子中的数为 $\underline{\hspace{2cm}}$ 。
- (2) 若前 m 个格子中所填整数之和 $p = 2015$ ，则 m 的值为多少？若 $p = 2034$ ， m 的值为多少？
- (3) 若 $a < x < c$ ，则 $|x-a| + |x-b| + |x-c|$ 的最小值为 $\underline{\hspace{2cm}}$ 。

24、已知式子 $M = (a+24)x^3 - 10x^2 + 10x + 5$ 是关于 x 的二次多项式，且二次项的系数和一次项系数分别为 b 和 c ，在数轴上 A 、 B 、 C 三点所对应的数分别是 a 、 b 、 c 。



(1) 则 $a = \underline{\hspace{2cm}}$, $b = \underline{\hspace{2cm}}$, $c = \underline{\hspace{2cm}}$.

(2) 有一动点 P 从点 A 出发，以每秒 4 个单位的速度向右运动，多少秒后， P 到 A 、 B 、 C 的距离和为 40 个单位？

(3) 在 (2) 的条件下，当点 P 运动到点 B 时立即掉头，速度不变，同时点 T 和点 Q 分别从点 A 和点 C 出发，向左运动，点 T 的速度 1 个单位/秒，点 Q 的速度 5 个单位/秒，设点 P, Q, T 所对应的数分别是 x_P , x_Q ,

x_T ，点 Q 出发的时间为 t ，当 $\frac{14}{3} < t < \frac{17}{2}$ 时，求 $|x_P - x_T| + |x_T - x_Q| - |x_Q - x_P|$ 的值。

2017—2018 学年武汉市江岸区七年级上学期期中考试数学试卷

一、选择题（每小题 3 分,共 30 分）

- 1、在中百超市，某品牌的食品包装袋上“质量”标注： $500\text{g} \pm 20\text{g}$ ；下列待检查的各袋食品中质量合格是（ ）。
- A. 530g B. 515g C. 470g D. 450g
- 2、单项式 $-\frac{2}{3}ab^2$ 的系数和次数分别是（ ）。
- A. $\frac{2}{3}$ 、2 B. $-\frac{2}{3}$ 、2 C. $-\frac{2}{3}$ 、3 D. $\frac{2}{3}$ 、3
- 3、下列方程是一元一次方程的是（ ）。
- A. $x+y=3$ B. $2x-1=2$ C. $2=\frac{1}{x}+1$ D. $3x^2=3$
- 4、下列计算正确的是（ ）。
- A. $-2(a+b)=-2a+b$ B. $-2(a+b)=-2a-b$
 C. $-2(a+b)=-2a-2b$ D. $-2(a+b)=-2a+2b$
- 5、下列各组中的两个单项式，不是同类项的是（ ）。
- A. $2x^2y$ 与 $-2x^2y$ B. x^3 与 $3x$ C. $-3ab^2c^3$ 与 c^3b^2a D. 1 与 -8
- 6、下列计算正确的是（ ）。
- A. $3a+b=3ab$ B. $3a-a=2$ C. $2a^2+3a^2=5a^5$ D. $-a^2b+2a^2b=a^2b$
- 7、已知 $x=y$ ，下列式子根据等式的性质变形不一定成立的是（ ）。
- A. $mx=my$ B. $\frac{m}{2}-x=\frac{m}{2}-y$ C. $\frac{x}{m^2+1}=\frac{y}{m^2+1}$ D. $\frac{x}{y}=1$
- 8、一个两位数，十位上的数比个位上的数的 3 倍大 1，个位上的数与十位上的数的和等于 9，这个两位数是（ ）。
- A. 54 B. 72 C. 45 D. 62
- 9、已知在数轴上 A、B、C 三点对应的数分别是 -2 ， 2 ， x ，若相邻两点的距离相等，则 x 的值为（ ）。
- A. 6 B. -6 C. 0 D. 以上三个值都满足
- 10、下列说法：① $|a|=-a$ ，则 a 为负数；②数轴是表示 a 、 b 两点的距离为 $a-b$ ；③ $|a+b|=a-b$ ，则 $a>0$ 、 $b=0$ 或 $a=0$ 、 $b<0$ ；④ $|a+b|=|a|-|b|$ ，则 $ab \leq 0$ 。其中正确的有（ ）个。
- A. 1 B. 2 C. 3 D. 4

二、填空题(每小题 3 分, 共 18 分)

11、绝对值最小的数是_____。

12、中国建造的世界最大单口射电望远镜 FAST 接收到 1300 多光年之外的宇宙脉冲信号。请将 1300 用科学记数法表示为_____。

 13、单项式 $3m^a n^3$ 与 $-n^b m^2$ 的和仍是单项式, 则 $a-b=$ _____。

 14、已知关于 x 的方程 $(a-2)x^{|a|-1} - 3 = 0$ 是一元一次方程, 则 $a=$ _____。

15、计算机是用二进制进行记数的, 如下表:

十进制	0	1	2	3	4	5	6
二进制	0	1	10	11	100	101	110

请将二进制数: 10101 换成十进制数: _____。

 16、将 9 个数填入幻方的九个格中, 使处于同一横行、同一竖列、同一斜对角线上的三个数的和相等, 如表一。如表二: 将满足条件的另外 9 个数中的三个数填入了表二, 则这 9 个数的和为_____。(用含 a 的整式表示)

4	9	2			
3	5	7	$a+5$		
8	1	6	a	$a+7$	

三、解答题 (共 9 题, 共 72 分)

 17、计算: (1) $-2\frac{3}{4} + 2\frac{1}{3} - (-2\frac{3}{4})$

(2) $-1^{2016} - \left[(-2)^2 \div \left(-\frac{2}{3}\right)^2 - 1 \right]$

 18、化简: (1) $4a^2 - 3b^2 - 3a^2 + 3b^2$

(2) $2x^2 + (3x-1) - 4(x-x^2+1)$



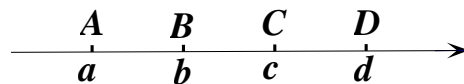
19、解方程： $5-2x=3(1-2x)$

20、列方程解应用题：把一些图书分给某班学生阅读，如果每人分 3 本，则剩余 20 本；如果每人分 4 本，则还缺 25 本，全班有多少学生？

21. 如图，数轴上的点 A 、 B 、 C 、 D 对应的数分别为 a 、 b 、 c 、 d ，且这四个点满足每相邻的两点之间的距离相等。

(1) 化简 $|a-c|-|b-a|-|b-d|$ ；

(2) 若 $|a|=|c|$ ， $b-d=-4$ ，求 a 的值。



22、已知关于 x 、 y 的整式 $(2x^3-2y^2)-(y-2x)-(2x-3y^2+2x^3)$ ，其中 x 、 y 满足 $(x+1)^2$ 与 $|y-y^2|$ 互为相反数。

(1) 求 x 的值；

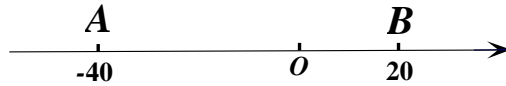
(2) 化简整式，并求整式的值。

23、某市居民使用自来水按如下标准收费（水费按月缴纳）：

户月用水量	单价
不超过 12 m^3 的部分	$a \text{ 元/m}^3$
超过 12 m^3 但不超过 20 m^3 的部分	$1.5a \text{ 元/m}^3$
超过 20 m^3 的部分	$2a \text{ 元/m}^3$

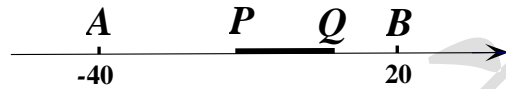
- (1) 当 $a=2$ 时，某用户一个月用了 28 m^3 水，求该用户这个月应缴纳的水费；
- (2) 设某户月用水量为 n 立方米，当 $n>20$ 时，则该用户应缴纳的水费_____元（用含 a 、 n 的整式表示）
- (3) 当 $a=2$ 时，甲、乙两用户一个月共用水 40 m^3 ，已知甲用户缴纳的水费超过了 24 元，设甲用户这个月用水 $x \text{ m}^3$ ，试求甲、乙两用户一个月共缴纳的水费（用含 x 的整式表示）。

24、如图 1，在数轴 A 、 B 上两点对应的数分别为 -40 、 20 ，数轴上一点 P 对应的数为 x 。



(1) 点 P 在 A 、 B 两点之间，则点 P 到 A 、 B 两点的距离的和为_____。

(2) 如图 2，数轴上一点 Q 在点 P 的右侧，且与点 P 始终保持相距 15 个单位长度。当 x 满足什么条件时，点 A 与点 P 的距离，点 B 与点 Q 的距离的和为 45。



(3) 结合对前面问题的思考，请判断 y 满足什么条件时， $(|x+40|+|x-20|) \cdot (|y|+|y-15|) \leq 900$ 成立，并说明理由。



2017—2018 学年武汉市二中广雅中学七年级上学期期中考试数学试卷

一、选择题（共 10 小题，每小题 3 分，共 30 分）

1、太阳的半径大约是 696000 千米，用科学记数法表示为（ ）千米.

- A. 696×10^3 B. 6.96×10^6 C. 0.696×10^6 D. 6.96×10^5

2、下列说法正确的是（ ）.

- A. 一个数不是正数就是负数 B. 海拔-155 米表示比海平面低 155 米
C. 温度 0°C 就是没有温度 D. 零是最小的有理数

3、下列各组中的两项是同类项的是（ ）.

- A. $8xy^2$ 和 $-\frac{1}{2}y^2x$ B. $-m^2n$ 和 $-mn^2$ C. $-m^2$ 和 $3m$ D. $0.5a$ 和 $0.5b$

4、对于多项式 $-\frac{2}{3}x^3 - 2x^2y + 3\pi$ ，下列说法正确的是（ ）.

- A. 2 次 3 项式，常数项是 3π B. 3 次 3 项式，没有常数项
C. 2 次 3 项式，没有常数项 D. 3 次 3 项式，常数项是 3π

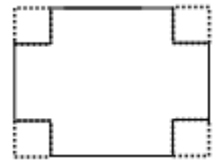
5、如图所示，点 A、B 分别表示有理数 a 、 b ，那么下列式子中不成立的是（ ）.



- A. $|a| < |b|$ B. $\frac{a}{b} < -1$ C. $ab < 0$ D. $a + b < 0$

6、如图，将一个长、宽分别为 a 、 b 的长方形的四个角都挖去一个边长为 x 的正方形，折起来以后，做成一个没有盖的盒子，则这个盒子的容积是（ ）.

- A. $x^2(a-x)(b-x)$ B. $x(a-x)(b-x)$ C. $\frac{1}{2}x(a-2x)(b-2x)$ D. $x(a-2x)(b-2x)$



7、下列变形中，错误的是（ ）.

- A. 若 $x+y=2y$ ，则 $x=y$ B. 若 $2x=12x$ ，则 $x=0$
C. 若 $\frac{x}{y} = \frac{2}{3}$ ，则 $3x=2y$ D. 若 $ab^2=b^3$ ，则 $a=b$

8、当 $a < 0$ 时，下列四个结论：① $a^2 > 0$ ；② $a^2 = -a^2$ ；③ $a^2 = (-a)^2$ ；④ $a^3 = (-a)^3$ ，其中成立的个数有（ ）.

- A. 1 个 B. 2 个 C. 3 个 D. 4 个



9、如果代数式 $a^2 - 2ab = 7$ ，那么代数式 $3ab - 2 - \frac{3}{2}a^2$ 的值是 ()。

A. $\frac{17}{2}$

B. 5

C. $-\frac{25}{2}$

D. $-\frac{17}{2}$

10、下列说法正确的个数是 ()。

①相反数等于它本身的数是 0；②若 $a \neq 0, b \neq 0$ ，则 $a + b \neq 0$ ；③多项式 $x^a + y^b - 2a^b$ 的次数为 $a + b$ (a, b 为正整数)；④近似数 2.030 精确到千分位；⑤若 $0 < a < 1$ ，则 $a^2 < a < \frac{1}{a}$ ；⑥若 $-a$ 与 $\frac{1}{2}b$ 互为相反数，则 $2a - b = 0$ ；⑦若方程 $(m-1)x^{m-2} - 2 = 0$ 是关于 x 的一元一次方程，则 $m = \pm 1$ 。

A. 3 个

B. 4 个

C. 5 个

D. 6 个

二、填空题 (本大题共 6 个小题，每小题 3 分，共 18 分)

11、下列式子： $\frac{1}{x+1}$ 、0、 $\frac{x}{2} + y$ 、 $x + \frac{1}{x}$ 、 $\frac{x+y}{2}$ 、 $\frac{b+c}{a}$ 其中是多项式的有 _____ 个。

12、一组单项式： a^2 、 $-\frac{a^3}{2}$ 、 $\frac{a^4}{3}$ 、 $-\frac{a^5}{4}$ 、.....，则第 n 个单项式为 _____。

13、若 $|x| = 3$ ， $y^2 = 49$ ，且 $x - y > 0$ ，则 $x + y =$ _____。

14、小明用棋子摆放图形来研究数的规律，图 1 中棋子围成三角形，其颗数 3、6、9、12.....称为三角形数；类似的，图 2 中的 4、8、12、16...称为正方形数。下列数中①2008②2013③2016④2028 既是三角形数又是正方形数的是 _____。



15、已知多项式 $ab^m - 2ab + b^{9-2m} + 3$ 为 5 次多项式，则 $m =$ _____。

16、我国古代有一道有趣的数学题：“井深十米，一只小蜗牛从井底向上爬，白天向上爬 2 米，夜间又掉下 1 米，问小蜗牛几天可爬出深井？”有理数加法的知识解决这个古老的问题，请问第 _____ 天。

三、解答题 (共 8 题，共 72 分)

17、计算：(1) $-15 - (-8) + (-11) - 12$ (2) $(-2^2) \div (-2 \div \frac{1}{2}) - |-3| \times (-1)^{2011}$

18、解方程：(1) $3x - 3 = \frac{1}{2}x + 4$

(2) $x - (3x - 1) = 5(x + 2)$

19、已知 $|x+1| + (y-2)^2 = 0$ ，求 $(2x^2y - 2xy^2) - [(-3x^2y^2 + 3x^2y) + (3x^2y^2 - 3xy^2)]$ 。

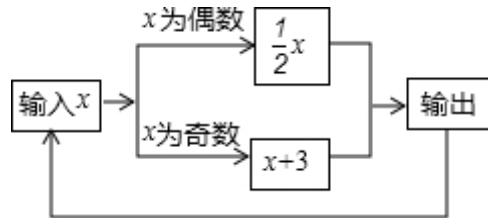
20、已知多项式 $(3x^2 + mx - \frac{1}{4}y + 3) - (2x - 2y + 1 - nx^2)$ 的值与字母 x 的取值无关，求多项式 $-3(2m^2 - mn) + 4(m^2 + mn - 6)$ 。

21、若有理数 a 、 b 、 c 在数轴上的位置如图所示，A 点对应的数是 -2 ，且 $d = |a+b| - |-2-b| - |a-2| + 5$ ，求 $7(d+2c)^2 + 2(d+2c)$ 的值。



22、如图是一种数值转换机的运算程序.

- (1) 若第 1 次输入的数为 $x=1$ ，则第 1 次输出的数为 4，则第 10 次输出的数为_____；若第 1 次输入的数为 12，则第 10 次输出的数为_____；
- (2) 若输入的数 $x=5$ ，求第 2010 次输出的数是多少？
- (3) 是否存在输入的数 x ，使第 3 次输出的数是 x ？若存在，求出 x 的值；若不存在，请说明理由.



23、某市为鼓励市民节约用水，作出如下规定：

用水量	收费标准
不超过 $10 m^3$	0.5 元/ m^3
$10 m^3$ 以上每增加 $1 m^3$	1.0 元/ m^3

- (1) 小明家 10 月份缴纳税费 32 元，他家 10 月份实际用水多少 m^3 ？
- (2) 11 月份开始几天，小明连续观察并记载了他家水表的读数如下，你能根据小明记载的水表度数估计 11 月份他家应该缴纳多少水费吗？

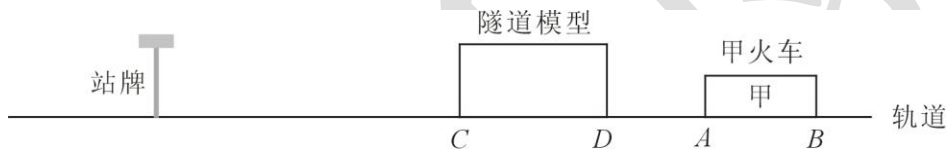
日期	11 月 1 日	11 月 2 日	11 月 3 日	11 月 4 日	11 月 5 日	11 月 6 日
度数 (m^3)	33.14	33.34	33.98	34.50	35.42	36.14

24、小明有一套火车玩具，有两列火车、一副轨道、一个隧道模型及一个站牌。特别之处：隧道模型也可以象火车一样移动，当火车进入隧道一瞬间会响起音乐，当火车穿过隧道的一瞬间音乐会结束。已知甲火车长 20 厘米，甲、乙两列火车的速度均为 5 厘米/秒，轨道长 3 米。

(1) 将轨道围成一个圆圈，将甲、乙两列火车紧挨站牌放置，车头方向相反，同时启动，到两车相撞用时 24 秒，求乙火车的长度？

(2) 在 (1) 的条件下，乙火车穿过静止的隧道的音乐响起了 14 秒，求隧道的长度；

(3) 在 (1)、(2) 的条件下，轨道铺成一条直线，把隧道模型、甲火车依次放在站牌的右侧，站牌静止不动，火车头与隧道相距 10 cm (即 $AD=10\text{cm}$)。当甲火车向左运动，隧道模型以不变的速度运动，音乐却响了 25 秒；当音乐结束的一瞬间，火车头 A 与站牌相距乙火车车身的长度，请同学们思考一下：以站牌所在地为原点建立数轴，你能确定火车、隧道在运动前的位置吗？如果可以，请画出数轴标出 A 、 B 、 C 、 D 运动前位置。



2017-2018 学年度第一学期部分学校七年级期中联合测试

英语试卷

考生注意：

1. 本试卷共 7 页，满分 120 分，考试用时 120 分钟。
2. 全部答案必须在答题卡上完成，答在其它位置上无效。
3. 答题前，请认真阅读答题卡“注意事项”。考试结束后，请将答题卡上交。

二、笔试部分 (95 分)

I. 单项选择 (每小题 1 分, 共 15 分)

26. There is a letter “a” in each of the following four words. Which one is pronounced differently (发音不同) from the other three?
- A. afternoon B. thanks C. map D. schoolbag
27. The stressed syllable(重读音节) in the word “interesting” is _____.
- A. interesting B. interesting C. interesting D. interesting
28. There is _____ “u” in the word [ˈdɪfɪkəlt] ?
- A. no B. an C. the D. a
29. —Jim, are those books _____?
- Yes, they are _____ books, Mr. Zhou.
- A. your; my B. yours; my C. your; mine D. yours; mine
30. -- Let’s play soccer!
- _____. It’s interesting.
- A. Good idea! B. Why? C. That’s all right. D. Excuse me.
31. – Thank you for helping me in my English.
- _____. I hope you can learn it well.
- A. The same to you! B. Have a nice day! C. You’re welcome. D. OK.
32. Mr. Green is _____ father. He is a math teacher in our school.
- A. Jim’s and Kate B. Jim’s and Kate’s C. Jim and Kate’s D. Jim and Kate
33. – Ms. Hong, I don’t know this word.
- Jenny, you can use your _____.
- A. dictionary B. bookcase C. pencil D. quilt
34. – Where is my CD player?
- On the bed. Let me _____ it for you.
- A. look B. found C. watch D. get
35. -- What do you think of Disneyland, Gina?
- It’s _____, so I like it very much.
- A. relaxing B. difficult C. boring D. easy
36. —Excuse me, who can I ask for my watch?
- Mary has it. Call her _____ 655-6143.
- A. in B. at C. of D. for
37. —Lucy, is your room tidy?
- Yes, _____ my brother’s _____.



- A. and; isn't B. and; aren't C. but; isn't D. but; aren't
38. Here _____ a photo of my family. My family _____ all playing cards .
A. is; is B. is; are C. are; are D. are; is
39. —Must I do my homework in class?
—No, you needn't. You _____ do it after class.
A. must B. can C. need D. can't
40. — I don't know _____ his e-mail address(地址) is.
-- Let me write it for you.
A. what B. who C. when D. how

II. 完形填空 (每小题 1 分, 共 10 分)

Hi, I'm Mike. Here are some things on the teacher's desk. They are for some students. 41 can have them?
Look! This is a red schoolbag. It is for Jenny. We know Jenny likes 42 best. That is a 43 . It is 44 John. John is always late for school, and the clock can 45 him. Oh, it is a black 46 . Eric can get it. He can listen to English on it. Is the green pencil box nice? Alan's pencil box is old, so the green pencil box is 47 . That is a blue ruler. Cindy asks the teacher 48 it, because she 49 her ruler. Here is the 50 thing. Is it an English book? No, it is a picture book. It is for me.

41. A. Where B. What C. Who D. How
42. A. brown B. black C. red D. green
43. A. ruler B. clock C. schoolbag D. notebook
44. A. of B. on C. about D. for
45. A. come B. find C. see D. help
46. A. watch B. model plane C. tape player D. computer game
47. A. he B. its C. hers D. his
48. A. for B. of C. about D. in
49. A. look B. found C. lost D. get
50. A. last B. next C. first D. middle

III. 阅读理解 (每小题 2 分, 共 30 分)

A

<p>Jim, I am sorry that I lost your computer game. Please <u>keep it between us</u>. I don't want our dad to be mad at me.</p> <p style="text-align: right;">Peter</p>
<p>Found: A camera. Is this your camera? Please call Steve at 2590486.</p>
<p>Lost: I lost a book by Mo Yan. Its name is <i>Frog</i>. If you find it, please call Rick at 2590486.</p>
<p>Found: A bag with a pencil box, a watch, and a red mobile phone in it. Did you lose your bag? Please call Nancy Smith, and my phone number is 6476998.</p>

51. Who is Jim?
A. Peter's dad B. Peter's friend C. Peter's classmate D. Peter's brother
52. If you lost _____, you can call 2590486.
A. the book named *Frog* B. a camera C. a schoolbag D. a computer game
53. Who lost the book named *Frog*?
A. Mo Yan B. I C. Rick D. Steve

54. What is NOT in the bag?

- A. A pencil box B. A watch C. A blue mobile phone D. A red mobile phone

55. According to the underlined(下划线) sentence, who may(可能) not know the lost computer game?

- A. Peter B. Jim C. Peter and Jim D. Peter's dad

B

Leo is a middle school student. He is from America. He is twelve. He studies in Class Four, Grade One. His Chinese teacher is Mrs. Zhao and he finds it really difficult. He likes playing soccer with his classmates, but he doesn't play it well. He likes basketball too and he is very good at it. Now he lives in his cousin David's house. He has a big and nice bedroom. In his bedroom you can see a bed, a table, a chair, a clock, a map, a picture, a cat and some flowers. The bed is white. The table and the chair are brown. The cat is black. It's always under the table. The clock is blue. It's on the table. The door and the window are yellow. There is a map of China. There is also a picture of his family. Both of them are on the wall.

56. Leo is _____.

- A. a Chinese student B. an American student
C. a Chinese teacher D. an American teacher

57. Leo is good at _____.

- A. Chinese B. soccer C. basketball D. sports

58. What is not in Leo's bedroom?

- A. A bed. B. A table C. A and B D. a bookcase

59. What color is the cat under the table?

- A. Black B. White C. Yellow D. Brown.

60. Where is the map of China?

- A. On the table. B. Behind the door. C. On the wall. D. In China.

C

This is Alice. She is ten. She is in Guilin with her grandparents. Her parents are in the U.S.A. .Alice doesn't have sisters but she has one brother.

Every morning, her grandparents get up very early. John Smith goes to play Taiji in a park. Jane Smith is busy cooking breakfast (早餐). She knows Alice likes Guilin rice noodles(米粉) very much, so she usually cooks them. Alice likes her grandparents and wants to thank them.

This morning, Jane takes breakfast to Alice's room, but she can't find her granddaughter.

"Alice, where are you?"

"I'm here, in the kitchen." Alice takes bread and milk to her grandma.

"Dear grandma, thanks for your breakfast. And this is the breakfast for you. It's sort of breakfast in the U.S.A. I think it's also good for your health(健康)."

61. How many family members(成员) does Alice have?

- A. 3 B. 4 C. 5 D. 6

62. Who cooks breakfast for Alice?

- A. Her parents B. Her grandparents C. Her grandma D. Herself(她自己)

63. What does John Smith like to do in the early morning?

- A. have breakfast B. play Taiji C. cook D. A and C

64. What breakfast does Alice have in the U.S.A.?

- A. Guilin rice noodles B. bread C. rice D. bread and milk

65. What is the best title (题目)?

- A. Great grandparents B. Alice C. Milk and bread D. What a nice girl!

IV. 用所给词的适当形式填空 (每题 1 分, 共 5 分)

66. I don't have a soccer ball, but my brother Alan _____(do).
 67. This red pen is not _____(I). It's John's.
 68. Let him _____(play) basketball.
 69. Look! Here are two nice _____(photo) of my friends.
 70. Mr. Smith _____(take) his son to Beijing every year.

V. 根据所给的汉语意思完成句子 (每题 2 分, 共 10 分)

71. 请在复兴路 151 号与我见面。
 Please _____ me _____ No.151, Fuxing Road.

72. 这是我的几位朋友。
 Here are _____ my friends.

73. 这个故事听起来很有意思。
 The story _____.

74. 电脑对于我爷爷奶奶来说挺难。
 Computer is _____ my grandparents.

75. 我们和我们的朋友在学校踢足球。
 We play it _____ school _____ our friends.

VI. 首字母填词 (每题 1 分, 共 10 分)

In summer, when it rains (下雨), we can't go out and do s__76___. We just stay at home and it's very b__77___. But in winter, if it snows we h__78__ a lot of things to do. For example, we can make a snowman(雪人). It is e__79___ to make a snowman. We just l__80___ a snowball roll (滚) on the ground until it's big enough. N__81___, we roll another(又一个) snowball as (作为)the h__82___ of the snowman. Then put (放) the s__83___ snowball on the big snowball. It is a snowman now.

You can also have snowball fights(打雪仗). After the snow, a lot of people g__84___ to the playground. They throw (投) small snowballs to each other. It's very r__85___. It makes people warm and healthy. A lot of people like it, especially boys.

VII. 书面表达 (15 分)

假如你叫 Jenny, 你给笔友 Mark 寄去了一张家庭照, 现在你需要用文字介绍你和你的家庭。请根据下面的要点, 写一封不少于 60 词的信。开头已给出, 不计入总词数。

1. 家里有四口人, 爸爸、妈妈、妹妹 Cindy 和我。
2. 我的房间很整洁, 书都在蓝色的书架上, 衣服都在衣柜里。
3. 爸爸和妈妈都喜欢打网球; 妹妹和我喜欢打篮球。
4. 我们是幸福的一家。(此处可以适当说明)

参考词汇: 衣柜 n. closet ;幸福的 adj. happy

注意: 信的开头和结尾已经帮你写好, 你只需要接着写。

Dear Mark:

My name is Jenny. I'm very glad to tell you something about my family. _____ -

Yours,

Jenny



【2017-2018 学年江岸区七年级上学期期中测试】

英语试卷

二、选择填空（共 15 题，每小题 1 分，满分 15 分）

26.—There is _____ “u” in the word “uncle”.

--There is _____ “l” in it, too.

- A. an, a B. a , an C. an, an D. a, a

27.—My best friend’s name is Mike Miller.

--Oh, you can call him _____.

- A. Miller B. Mrs. Miller C. Mike D. Mr. Mike

28.—Your sofa is very nice.

--_____

- A. Don’t say so B. Thank you C. You’re welcome D. Where? Where?

29.—Are these _____ erasers?

--No, they aren’t. They are _____.

- A. yours; hers B. her; his C. your; her D. his ; my

30.—Here _____ a photo of my brothers’ room.

--Oh, a set of computer games _____ on the bed.

--And what those?

- A. is; is B. is ; are C. are; are D. are ; is

31.—I want to _____ my pet cat.

--Please call it Mimi.

- A. help B. say C. know D. name

32.—Where can we _____?

--In my home, at 5 o’clock.

- A. see B. spell C. have D. meet

33.—Who is that woman under the tree?

--Oh, she is my _____, my father’s sister.

- A. cousin B. grandmother C. uncle D. aunt

34.—I don’t know this word (单词). Please give me your _____.

--Here you are.

- A. dictionary B. plane C. radio D. ring

35.—Where are you going?

--I am going to the _____ to borrow(借) some books.

- A. classroom B. library C. desk D. shop

36. This is _____ room.

- A. Lucy and Lily's B. Lucy's and Lily's
C. Lucy and Lily D. Lily 's and Lucy

37.—My sister _____ I are in China, _____ my parent aren't.

- A. and; and B. and; but C. but; but D. but; and

38.--_____, Jack!

--Oh, no ! Where's my schoolbag?

- A. Hello B. Excuse me C. Sorry D. Come on

39.—When you have some questions (问题), you can _____ me at 587-396.

--OK, I will, Mr. Wang

- A. call B. find C. ask D. thank

40. --_____ do you spell "table?"

--T—A—B —L —E.

- A. How B. Where C. What color D. What

三、完形填空（共 15 题，每小题 1 分，满分 15 分）

A

This is a 41 of Kate Green's family. 42 the picture we can see her grandparents, her parents, her brother Mike. 43 grandparents are on the chair. Mr. Green and Mrs. Green 44 behind them. Mike is under the window. Kate is 45 the floor. What's behind Kate? It's a cat. It's black and white.

41. A family B. picture C. ruler D. book
42. A. In B. On C. Under D. Next to
43. A. His B. Her. C. Hers D. She
44. A. are. B. is C. sits D. stands
45. A. behind. B. at C. on. D. in

B


Mr. and Mrs. Smith 46 a son and two daughters. Mr. and Mrs. Smith are teacher. They 47 different subjects in a school. Mr. Smith teaches English, 48 Mrs. Smith teaches Maths. 49 students like them very much. Their son Jim, 9 years old, 50 in Grade Three, and their daughter Cindy, 7 years old, is in the school, 51. She is in Grade One. Cindy's sister Kate 52 go to school because she is

too young. 53 Saturdays and Sundays, Mr. Smith often goes to watch football games with Jim, because Jim's favorite sport is football. Mr. Smith's favorite sport is table tennis. Their daughter doesn't like sports. They like 54 and dancing. And they often 55 TV with their mother. They are very happy.

46. A. has B. have C. is D. are
 47. A. teaches B. teacher C. teach D. teachers
 48. A. and B. so C. or D. then
 49. A. Theirs B. Them C. They. D. Their
 50. A. is. B. are C. am D. be
 51. A. also B. too C. either D. as well
 52. A. don't B. isn't C. doesn't D. aren't
 53. A. On B. In C. At. D. To
 54. A. sings B. singing C. sing D. sang
 55. A. look at B. look C. see D. watch

四、阅读理解（共 15 小题，每小题 2 分，满分 30 分）

A



Lost: My school ID card.
My name is Mary.
Please call 443-6676.

Found: A black watch in our classroom.
Is this your watch?
Call me at 556-7892.
My name is Mike.

Found: A notebook.
Is this your notebook?
It's yellow.
Phone Tony at 665-7359.

Lost: A ring.
My name is Linda Brown.
Please call 322-4768.

56. The notebook is _____.
- A. white B. black C. red D. yellow
57. If you find a ring, it may be _____.
- A. Tony's B. Mike's C. Linda's D. Mary's

58. If your watch is lost, you can call _____.
- A. 322-4768 B. 443-6676 C. 556-7892 D. 665-7359
59. Which one is TRUE?
- A. Mary's ID card is found B. Tony found a ruler
- C. Mary lost her school ID card D. Mike lost a notebook
60. You may read the material above _____.
- A. in the library B. at school
- C. in a newspaper(报纸) D. on TV

B

It's 5:10 in the afternoon. A policeman (警察) stands near No. 2 Middle School. He talks (谈话) with some students.

"Is this your schoolbag?" He asks.

"No, it isn't." says Jim.

"It looks like (看起来像) John's," says Mike.

"No, it is not his schoolbag," says Tom. "His schoolbag is red, but it's green."

Mary comes and says, "Peter can't find his schoolbag. It's his, I think (认为)."

"It isn't his," says Harry, "His schoolbag is nice, but this one is ugly."

"Where is your schoolbag, Bob?" asks Mike.

"Oh, dear! It's my schoolbag! Thank you!"

61. What color is John's schoolbag?
- A. Red B. Green C. Yellow D. Blue
62. There are _____ people talks in the passage(文章).
- A. six B. seven C. eight D. nine
63. The word "ugly" most probably means (最可能的意思是) "_____" in Chinese.
- A. 大的 B. 老的 C. 新的 D. 丑的
64. The schoolbag is _____.
- A. Mary's B. Harry's C. Bob's D. Peter's
65. Which is TRUE(对的)? .
- A. Mike thinks the schoolbag is Jim's.
- B. Mary found the schoolbag.
- C. Harry's schoolbag isn't nice.
- D. Peter lost his schoolbag, too.



C

Nick is from Beijing. Now he lives in London with his family. His father has a shop there. He is seven years old now and begins (开始) to go to school this autumn. His father drives him to school every day. So he is never (从不) late for school and his teachers like him very much.

It is the second day of the week today. Miss White is teaching them to count (数数) from one to ten. Nick is working hard in class. Soon he can count them. Miss White is very happy and asks him. "How many people are there in your family, Nick?"

Nick stands up and says. "Two, Miss White."

"Who are they?"

"My father and my mother."

"Oh?" Miss White is surprised (吃惊的) and says, "There are three people in your family."

"But now I am not at home. I am at school, you know."

66. Nick is _____.

A. from China

B. an English boy

C. a girl

D. a middle school student

67. Now Nick is in _____ in school.

A. Grade Four

B. Grade Two

C. Grade Three

D. Grade One

68. Nick's teachers like him very much because (因为) _____.

A. his father has a shop

B. he is working hard

C. he is never late for school

D. his father drives him to school

69. How many people are there in Nick's family?

A. Two

B. Three

C. Four

D. Only one

70. What is the best title (标题)?

A. Nick's Family

B. Nick's School

C. I Can't Count

D. I Am Not at Home

第二卷 (非选择题共 35 分)

五、词与短语选择填空 (本题 10 分, 每小题 2 分, 满分 10 分)

head / must / always / thanks for / say / e-mail

71. Can you _____ me? I lost my phone.

72. You _____ find your ID card.

73.—Anna, _____ your help.

--You're welcome.

74.—I can't find my hat. Is it on the sofa?

--Oh, no. It's on your _____!

75. "Where's my ruler? Where's my schoolbag?" Gina _____ asks.

六、阅读理解填词（本题共 10 分，每小题 1 分，满分 10 分）

先阅读短文，再在其后空白处写出各单词的正确形式。单词中的第一个字母已给出。

I am an apple. I am usually red and y 76. I have a big f 77. I have a lot of sisters and b 78. You can f 79 me growing in many places in the world. I am like my c 80, pear and banana. I am more round than a pear, and b 81 are longer than I. I am delicious, so people all over the world l 82 to eat me. I cost very little money, so all of you can get me in shops, and I help people healthy. You are w 83 to have me or my friends. There is a saying in E 84: An apple a d 85 keeps the doctor away. Don't you think I'm great?

七、书面表达（本大题 15 分）

假如你叫 Kate, 女孩, 英国人。请根据以下信息写一篇小短文, 介绍你和你的卧室。内容要点如下:

- 1、姓 Miller, 就读于第一中学七年级一班;
- 2、卧室不大, 但很整洁;
- 3、有个哥哥和一个妹妹;
- 4、模型飞机在床下, 收音机在桌子上;
- 5、补充一两点对卧室的描述。

要求: 1、不要逐字翻译。 2、60 词左右。 3、开头已给出, 不计入总词数。

提示词: model n. 模型 bedroom n. 卧室 big adj. 大的

Hello, everyone! I'm Kate. I'm an English girl. _____

【2017-2018 学年江汉区七年级上学期期中测试】

英语试卷

笔试部分

二、语音辨析（共 10 小题，每小题 1 分，满分 10 分）

先朗读各个小题中的每个单词，注意划线字母的读音，然后将方框中的单词按照划线字母的读音归类。（注意每小题划线字母或字母组合发音相同）

A. <u>th</u> ree	B. <u>ca</u> n	C. <u>Bo</u> b	D. <u>mo</u> rning	E. <u>la</u> st
F. <u>exc</u> use	G. <u>mi</u> ne	H. <u>fo</u> und	I. <u>ti</u> dy	J. <u>ba</u> g

26. /ju:/ U use UF0
27. /i:/ she evening mee
28. /æ/ and thanks dad
29. /ɔ: (r)/ four your short
30. /ɔ/ mom not dog
31. /a:/ father grandpa grandma
32. /ai/ library tidy China
33. /au/ how brown about
34. /d/ desk under head
35. /g/ good green girl

三、选择填空（共 15 小题；每小题 1 分，满分 15 分）

从题中所给的 A、B、C、三个选项中选出一个最佳选项。

36. -- _____ are your tapes?
-- They are on my bookcase.
A. Who B. How C. Where
37. -- _____
-- Yes, W-H-I-T-E.
A. Is this a white jacket? B. Can you spell "white"? C. Can you see it?
38. -- Good morning! My name _____ Bill.
-- Good morning! I _____ Alice.
A. is; is B. is; am C. am; is
39. This is my watch. It isn't Tom's. _____ is on the table.
A. His B. Yours C. Hers

40.— What's three and six?

--It's _____.

A. seven

B. eight

C. nine

41.—What's your telephone number?

-- _____ 6350-5890.

A. It's

B. Its

C. This is

42. Julia Jones is my English teacher. We often call her _____.

A. Miss Julia

B. Miss Jones

C. Miss Julia Joes

43—How is your mother?

-- _____.

A. She is Kate Miller.

B. She is fine. Thanks

C. She is a teacher

44.—Is this a photo _____ your family?

--Yes, my parents and I are _____ the photo.

A. of; in

B. in; of

C. of ; on

45.-- _____ is my little brother Jim. And _____ are my parents.

--I see. You are in the middle.

A. This; that

B. These; they

C. This; those

46.-- _____

--Thank you.

A. How are you?

B. Have a good day!

C. Nice to meet you

47.—It's 7:50 now.

--Oh, I _____ go to school now.

A. can

B. am

C. must

48.—This is my ruler. _____ the blue pens?

--They are Helen's

A. What about

B. How

C. Where

49.—Is Mr. White in the office?

--No, he's in _____.

A. the room 202

B. room 202

C. Room 202

50.—Where are your books?

--They are _____ ----on the desk, on the bed and under the chair.

- A. everywhere B. here C. there

四、将 I 栏中的问句与 II 的答语配对（共 5 小题；每小题 1 分，满分 5 分）

I

51. Who's she?
52. What's his last name?
53. Is your schoolbag under the table?
54. Thank you for your help
55. Where are Mom's keys?

II

- A. Brown
B. You're welcome
C. They're on the sofa
D. No, it isn't.
E. Kate Green

五、完形填空（共 5 小题；每小题 1 分，满分 5 分）

阅读下面的短文，从短文后各小题所给的 A、B、C 三个选项中，选出可以填入空白处的最佳选项。

Hi. I'm Jenny. 56 are two nice photos of my family. My grandfather and grandmother are in the 57 photo. These are my 58, Alan and Mary. In the 59 picture are my brothers. Bob and Eric. 60 two girls are my sisters Cindy and my cousin Helen. Coco is in my family, too.

56. A. Here B. There. C. It
57. A. one B. first C. second
58. A. father B. mother. C. parents
59. A. next B. first C. two
60. A. This B. That. C. These

六、阅读理解（共 5 小题；每小题 2 分，满分 10 分）

阅读下面的短文，从短文后各小题所给的 A、B、C 三个选项中选出一个最佳选项。

Look at the photo. It's a photo of Mr. Clark's family. The old man is Hand Clark. He is Mr. Clark's father. The old woman is Cindy Clark. She is Hand's wife. Mr. Clark is a worker. His wife, Alice Clark, is a teacher. They have two daughters. They are Lucy and Lily. Lucy and Lily have a cousin, Mike. Mike's parents love him very much.

61. The old man is Lucy and Lily's _____.
A. father B. uncle C. grandfather
62. From the reading , we know _____.
A. the two girls' father's first name is Hand
B. Cindy is Mr. Clark's mother

C. Lucy and Lily are Mike's sisters.

63. Lucy has _____.

- A. a friend B. a brother C. a sister

64. Mike's father is Lucy and Lily's _____.

- A. uncle B. father C. grandfather

65. Lucy's father is a _____.


- A. doctor B. worker C. teacher

七、单词填空（共 10 小题；每小题 1 分，满分 10 分）

根据所给的图片或首字母填入正确的词，注意在答题卡上写出完整的单词。

66.—What are these?

--They're _____



67. My lucky (幸运的) number is _____.



68.—Where is Tom?

--He is in the _____.



69. --Where is my schoolbag?

--It's _____ the table.



70.—Look at that boy. W_____ is his name?

--He is Frank.

71. These are my p_____. This is my father and that is my mother.

72. Nice to m_____ you.

73. E_____ me, what's your phone number?

74.—Where is your brother, Dave?

--I don't k_____.

75. I must call Lucy and Lily. Do you know t_____ telephone numbers?

八、连词成句 ((共 5 小題; 每小題 2 分, 满分 10 分)

请将所给单词按照横线后提供的标点组成一个意思完整的句子。注意句首字母大写。

76. nice, two, here, photos, are

_____.

77. his, telephone, what's , number

_____?

78. green, is , his, this, pen

_____?

79. map, where, is the

_____?

80. pencil, box, her, the chair, under, is

_____.

九、句型转换 ((共 5 小題; 每小題 2 分, 满分 10 分)

根据要求改写句子, 每空填一个单词。

81. Are the keys on the sofa?

_____, they _____. (作否定回答)

82. That is your tape player. (改为一般疑问句)

_____ your tape player?

83. My baseballs are under the bed. (对划线部分提问)

_____ your baseballs?

84. That is my brother. (改为复数)

_____ my brothers.

85. They are English books. (改为否定句)

They _____ English books.

第 II 卷 (共 50 分)

十、完形填空 (共 10 小題; 每小題 1 分, 满分 10 分)

阅读下面的短文, 从短文后各小題所给的 A、B、C 和 D 四个选项中, 选出可以填入空白处的最佳选项。

I live in a happy family. There 86 four people in my family. They are my father, my mother, my sister and 87. My father is a doctor, and he works in a 88. He thinks it is a

boring job. He wants 89 a policeman. My mother is a nurse. She works in a hospital, too. But they work in 90 hospitals. My mother likes her job because she likes helping others. She works hard and often comes back home late. When she is 91, she likes reading books. My sister is 92. She is very lovely. She is a 93 girl. I am a student. I 94 in a school. I like 95 music. I want to be a singer when I grow up.

86. A. be B. are C. am. D. is
87. A. I B. my C. mine D. you
88. A. school. B. supermarket. C. library. D. hospital
89. A. be B. to be. C. is D. being
90. A. different B. good. C. same D. nice
91. A. busy B. tired C. happy D. free
92. A. tall B. young C. big. D. old
93. A. 3-years-old. B. 3 years old C. 3-year-old D. 3 old
94. A. teach. B. work. C. study D. play
95. A. having. B. hearing C. listening to D. asking for

十一、阅读理解（共 10 小题；每小题 2 分，满分 20 分）

阅读下列材料，从各小题所给的 A、B、C、D 四个选项中选出一个最佳选项。

A

Have Fun & Learn in *Little Rabbit*

We pick up your children at school and give them a safe place to play , do homework, and learn after school.

Experienced Teachers /Lunch & Snacks /Toys & Books

Ages 6 to 12

Our Programs:

* Languages * Math * Computer * Music

Open 11:00 a. m to 7:00 p. m, Mon. to Fri.

26 Market Road, Star City

(between First Street and Second Street, nest to the Flower Market)

Tel: 8765-4321

96. Children go to Little Rabbit _____.

- A. in the morning B. in the afternoon
- C. from Monday to Friday D. every day



97. Children can't _____ in Little Rabbit.

A. have lunch

B. read books

C. play with toys.

D. play basketball

98. We pick up your children at school ... means _____ according to the material.

A. We take your children to Little Rabbit from school.

B. We look for your children at school.

C. We help your children in Little Rabbit .

D. We ask your children questions at school .

99. _____ can have fun and learn in Little Rabbit.

A. Mike, a school boy of 13

B. Mary, an eight-year-old girl

C. Cathy, an experienced teacher

D. Linda, a housewife without work

100. We can learn that _____ according to the material.

A. Little Rabbit is on First Street

B. there are no teachers in Little Rabbit

C. children can learn math and music there

D. the telephone number there is 87654231

B

Jim Green must help his mother. She wants him to move the furniture(家具) in the bedroom. The desk is on the right of the bed. But Mrs. Green wants the desk on the left. There's a very nice lamp on the desk . Jim picks up the lamp. He must be very careful. He puts it on the round table. He moves the desk. Now the bed is on the right of the desk. Where is the lamp? It's on the round table. Jim moves the table. Mrs. Green says, "Watch out!"

The lamp is falling (掉下). Jim watches it. It isn't broken. Mrs. Green is happy because the lamp isn't broken. Jim isn't happy because he doesn't like to move the furniture.

101. Mrs. Green wants Jim _____.

A. to study

B. to help her

C. to be happy

D. to tidy the room

102. Mrs. Green wants the bed _____ of the desk.



- A. on the left B. behind C. on the right D. In front of

103. The sentence of “Watch out!” here means “_____”.

- A. Be careful ! B. See! C. Look ! D. Hi.

104. Mrs. Green is happy because _____.

- A. Jim likes to move the furniture
B. she likes the furniture
C. the lamp is OK
D. the lamp isn't falling

105. From thereading , we can know _____.

- A. Jim is happy because the lamp isn't broken
B. Jim likes to help his mother move the furniture
C. Jim's mother is happy because the lamp is beautiful
D. Jim doesn't like to move the furniture

十二、阅读理解填词（共 10 小题；每小题 1 分，满分 10 分）

阅读短文，在其后空白处写出各单词的正确形式。单词的第一个字母已经给出。

Mrs. White works in a middle school. It's Sunday morning, She has n_____ (106) classes. She is f_____(107), so she goes shopping. There she buys a nice dress for herself and puts it in her b_____(108). Then she buys some cakes for her c_____(109). She thinks they will like them. When she gets home, she wants to p_____(110) on her new dress, but she can't find her bag. So she c_____(111) the shop, “This is Mrs. White. Gould you p_____ (112) help me find my bag?”“Of course, I can.” says the sales g_____ (113). “We have three bags here. Which one is y_____(114)?” Mrs. White says, “I'm coming soon. I can t_____(115) you which one is mine.”

106. n_____ 107. f_____ 108. b_____ 109. c_____ 110. p_____

111. c_____ 112. p_____ 113. g_____ 114. y_____ 115. t_____

十三、书面表达（本大题 10 分）

假如你是 Kate, 你将参加一个国际比赛，需要介绍自己。写一篇 60 词左右的短文。文中必须包含以下信息：

- 1、你十二岁；
- 2、你在武汉一所中学就读，你在七年级 7 班；
- 3、你爱读书；你有很多书，你很爱整洁，把书都放在桌上；
- 4、你很喜欢英语，因为你觉得学英语很有趣。

提示词：① like reading 爱读书；

② grade 年级

③ interesting 有趣的

My name is Kate.



【2017-2018 学年武昌七校七年级上学期期中测试】

参考答案

一、选择题

1——4：CDBA

5 . B (“茶”字的历史)

6 . D (A 选项“等各派思想”表述有误；B 选项“有百利无一害”表述有误；C 选项“必须通过”表述有误)

7 . B (“茶”字从“荼”简化而来萌芽，始发于汉代)

8 . C (堪：能忍受)

9 . D (人/不堪其忧/回也/不改其乐)

10 . B (“子”为敬辞，孔子、曾子为尊称说法有误)

二、非选择题

11. 翻译

(1) 真不是人啊！和别人相约同行，却丢下别人先离开了。(“期”“委”各 1 分 ， 句子通顺、句意正确 1 分)

(2) 博览群书广泛学习，而且能坚守自己的志向，恳切地提问，多考虑当前的事，仁德就在其中了。(“笃”“切”各 1 分 ， 句子通顺、句意正确 1 分)

12. 古诗词填空。

(1) 随君直到夜郎西

(2) 海日生残夜

(3) 逝者如斯夫

13 . (1) “我”挨着各家房子的无盐寻找燕巢； (2) “我”与外祖母在屋檐下纳凉 (每空 2 分，共 4 分)

14 . 运用比喻和拟人的修辞手法，将“雨点”“屋檐”分别比作“多情女子的巧手”和“古筝”，生动地写出了雨打

屋檐所产生的动听声音，表达了作者在屋檐下看雨听雨的享受之情。(答修辞手法 2 分，分析表达效果 4 分，共 6 分)

15.(1) 在异乡的城市里没有屋檐；(2) 屋檐承载着“我”快乐的童年，美好的光阴。(言之成理即可，每点 2 分)

16.(1) 与标题、第 1 和 2 自然段内容相呼应，使文章内容完整，结构紧密。(2) 卒章显志，表达文章中心；抒发了对童年快乐温馨的美好时光的怀念。

17.(参考教材 57—58 面)

【参考示例】

研究选题：探究《朝花夕拾》中鲁迅的人物形象。步骤：(1) 分工搜集信息，分别收集《朝花夕拾》中的文章对应的鲁迅人生的各个阶段的事件；(2) 小组讨论，将收集的资料进行整理，并在小组间进行讨论，结合《朝花夕拾》分析各个阶段鲁迅的转变；(3) 归纳总结，总结《朝花夕拾》中鲁迅各个阶段的人物形象。

18.【参考示例】

各位同学：

大家好！我们这次的活动是“名著导读”，阅读经典作品可以对人产生一种潜移默化的作用，会学到很多为人处世的道理，对一个人的道德品质提高都有帮助。从鲁迅的《朝花夕拾》中我看到了鲁迅的在那个时代背景下为国家所做的选择是那么的英勇无畏，他的精神是值得我们学习的。所以我们要读经典、爱经典。

19. 略

【2017-2018 学年洪山区七年级上学期期中测试】

参考答案

1.C 2.B 3.A 4.B 5.A 6.C 7.C 8.B 9.D 10.D

11. (1) 懂得学习的人比不上喜爱学习的人；喜爱学习的人比不上以此为乐的人。(“知”“乐”各 1 分，句意 1 分)

(2) 博览群书广泛学习，而且能坚守自己的志向，恳切地提问，多考虑当前的事，仁德就在其中了。(“笃”“切”各 1 分，句意 1 分)

12 (1) 随君直到夜郎西 (2) 温故而知新

(3) 海日生残夜，江春入旧年。(每空 2 分)

13. (4 分)

(1) 到老师家看到宽大的书架。

(2) “我”用字典做了一个“小书架”

(3) 父亲为我制作书架。

(4) 书架伴“我”成长。(一点 1 分共 4 分)

14. (6 分) (1) 都是名词。(一点 1 分共 2 分) (2) “笑意”指妈妈对“我”如此爱书的高兴，对“我”以字典作书架表示赞赏。“光泽”指妈妈想到家庭条件差无法满足我的小小要求而内疚。(每点 2 分)

15. (4 分) 这句话运用拟人的修辞手法，(1 分) 形象生动地写出了我盼望得到书架的迫切心情。(3 分)

16. (4 分) 这句话表达了作者对陪伴自己成长，给自己力量的书架的感激之情。

17. (4 分) (一点 1 分、二点 3 分、三点 4 分)

(1) 具有较深的古典诗词(唐宋诗词)功底

(2) 语言表达能力出众

(3) 有一定的舞台表演经验

18. (4分) 略

19. 作文评分标准，

从内容、结构、表达三方面评定作文类别。(见下图)

项目 \ 卷类	内容	结构	表达
一类 (50-40分)	中心非常明确 内容具体充实 情感真挚	结构很完整 条理很清楚 分段很恰当	文体规范 描写细致 语言生动 没有语病
二类 (39-35分)	中心明确 内容充实 情感较真挚	结构完整 条理清楚 分段恰当	文体规范 语言通顺 语病较少
三类 (34-30分)	中心较为明确 内容较为充实 情感真实	结构基本完整 条理基本清楚 分段基本恰当	文体基本规范 语言基本通顺 语病数量较少
四类 (29-16分)	中心不明确 内容不充实	结构不完整 条理不清楚 分段不恰当	文体不够规范 语言不够通顺 语病较为严重
五类 (15-0)	全文中心错乱 内容不合题意	无结构 少段落 不成篇	文体不合规范 语言极不通顺 语病非常严重

(1)有以下情况之一者视作五类文：

①有大量错别字和病句，严重影响语意的表达。

②内容与题目毫无关系，或抄写试卷上现成的文字材料（5分以下）。

(2)字数不足 600 字的评分要求：

1、300 字以上的文章，按评分标准评分，扣字数分。

①在文意表达基本完整的前提下，每差一行扣 1 分。

②在文意表达不完整的前提下，每差一行扣 2 分。

2、300 字以下的文章，20 分以下评分，不再扣字数分。

3、200 字以下的文章，10 分以下评分，不再扣字数分。

4、只写一两句话的，给 1 分或 2 分，不评 0 分。

5、只写标题的，给 1 分或 2 分，不评 0 分。

6、完全空白的，评 0 分。

(3)字数超过 600 字却没有完篇的评分要求：

①文意表达完整，在此文所属类别中给中间分数。

②文意表达不完整，在此文所属类中给最低分。

(4)标题未补充扣 2 分。

**【2017-2018 学年江岸区七年级上学期期中测试】****参考答案**

1——5：DBABA

6——10：BDCBD

11. (你)一定要这样,只让你的妻子给我织一百匹细绢吧!

12.略

13.兴奋——失望——愉快——感激(每空2分,共6分)

14. (1) 办事沉稳。姑父笑着说“大龙那孩子干事挺沉稳的!”间接表现

(2) 友善。大龙把自己的蓑衣脱下来跟我换

(3) 聪明能干。大龙哥赶紧过来,用手指在螃蟹身上一弹,蟹钳便松开了。我又要抓,大龙哥忙说:“不能这么抓!要拿它的盖子!”他说着,又提起一只。

(4) 热情好客。回家时,大龙哥非要把螃蟹都归我。“这是我阿爸说的!他说你是客人,我们没什么送你,送你一些螃蟹吧!你们快回菜芜了,让你姑妈蒸好了带回去!”我是在拗不过他,便收下了螃蟹。(答对三点得6分,结合情节分析也可转述)

15. (1) 与文章开头相呼应,便全文结构紧凑,浑然一体。

(2) 烘托人物心理,再次表现“我”对往事和伙伴深深的怀念,回味无穷。(各2分)

16. 本文回忆了“我”13岁那年在姑姑家和伙伴冒雨捉螃蟹的经历(3分),表达了“我”对儿时生活和伙伴深切的怀念之情。(3分)

17. 评分细则:

(1) “你”应该是现实生活中的人,而且是唯一的。

(2) 紧扣“依靠”选材

(3) 能写出“依靠”的理由

2017—2018 学年武汉市武昌区七年级上学期期中考试数学试卷答案

一、选择题

1	2	3	4	5	6	7	8	9	10
B	B	A	D	B	D	B	C	C	A

二、填空题

11、0，非负数

12、 $3x=6$

13、12 或 0

14、 $-\frac{3}{4}$

15、2014，2017

16、0

三、计算题

17、(1) -3 ; (2) -7 ; (3) $-\frac{7}{6}$.

18、(1) $x=\frac{7}{3}$; (2) $y=0.5$.

四、解答题

19、原式 $=6\frac{2}{3}$.

20、(1) $12+(-5)+2+4+(-9)+14+(-2)+12+8+5=41$ (千米);

(2) $(|12|+|-5|+|2|+|4|+|-9|+|14|+|-2|+|12|+|8|+|5|)\times 0.15=10.95$ (升).

21、由题意得 $2|m|-7=1$ 且 $m-4\neq 0$ ，即 $|m|=4$ 且 $m-4\neq 0$

$\therefore m=-4$

$\therefore m^2-2m+1=(-4)^2-2\times(-4)+1=25$.

22、(1) $\frac{3}{2}x$, $\left(\frac{6}{5}x+3\right)$.

(2) $\frac{3}{2}x - \left(\frac{6}{5}x+3\right) = \frac{3}{2}x - \frac{6}{5}x - 3 = 0.3x - 3$

∴乙比丁多生产零件 $(0.3x-3)$ 个.

(3) $\frac{3}{2}x = \frac{6}{5}x + 3$, 解得 $x=10$

∴ $\frac{3}{2}x=15$, $\frac{6}{5}x=12$, $\frac{6}{5}x+3=15$

∴甲、乙、丙、丁一共生产零件 $12+15+10+15=52$ (个).

23、(1) -6 , 9 .

(2) $p=2015$ 时, m 的值为 1209; $p=2034$, m 的值 1216.

(3) 15.

24、(1) $a=-24$, $b=-10$, $c=10$.

(2) 设 x 秒后, 甲到 A 、 B 、 C 的距离和为 40 个单位, 此时甲表示的数为 $-24+4x$

①甲在 AB 之间时, 甲到 A 、 B 的距离和为 $AB=14$

甲到 C 的距离为 $10 - (-24+4x) = 34-4x$

依题意, $14+(34-4x)=40$, 解得 $x=2$.

②甲在 BC 之间时, 甲到 B 、 C 的距离和为 $BC=20$, 甲到 A 的距离为 $4x$

依题意, $20+4x=40$, 解得 $x=5$.

即 2 秒或 5 秒, 甲到 A 、 B 、 C 的距离和为 40 个单位.

(3) 根据题意: 当 $t = \frac{14}{3}$ 秒时

$$x_p = -10 - 4 \times \frac{14}{3} = -28\frac{2}{3}, \quad x_Q = 10 - 5 \times \frac{14}{3} = -13\frac{1}{3}, \quad x_T = -24 - 1 \times \frac{14}{3} = -28\frac{2}{3}$$

当 $t = \frac{17}{2}$ 秒时

$$x_p = -10 - 4 \times \frac{17}{2} = -44, \quad x_Q = 10 - 5 \times \frac{17}{2} = -32\frac{1}{2}, \quad x_T = -24 - 1 \times \frac{17}{2} = -32\frac{1}{2}$$

∴当 $\frac{14}{3} < t < \frac{17}{2}$ 时

点 P 在点 T 的左边, 点 Q 在点 T 的右边

$$|x_p - x_T| + |x_T - x_Q| - |x_Q - x_p| = x_T - x_p + x_Q - x_T - x_Q + x_p = 0.$$

2017—2018 学年武汉市江岸区七年级上学期期中考试数学试卷答案

一、选择题

1	2	3	4	5	6	7	8	9	10
B	C	B	C	B	D	D	B	D	A

二、填空题

11、0

12、 1.3×10^3

13、5

14、-2

15、12

16、 $9a + 27$

三、解答题

17、略

18、(1) a^2 ; (2) $6x^2 - x - 5$.

19、 $x = -\frac{1}{2}$.

20、设全班有 x 名学生

$$3x + 20 = 4x - 25, \text{ 解得 } x = 45$$

答：全班有 45 人。

21、(1) 由图可知 $a < b < c < d$

$$\therefore a - c < 0, \quad b - a > 0, \quad b - d < 0$$

$$\therefore \text{原式} = c - d.$$

(2) $a = 2$.

22、(1) $x = -1$;

(2) 原式 = 0.

23、(1) $2 \times 12 + 2 \times 1.5 \times (20 - 12) + 2 \times 2 \times (28 - 20) = 80$ 元

答：该用户这个月应缴纳 80 元水费.

(2) $2an - 16a$.

(3) \because 甲用户缴纳的水费超过了 24 元

$\therefore x > 12$

① $12 < x \leq 20$

甲： $2 \times 12 + 3 \times (x - 12) = 3x - 12$

乙： $12 \times 2 + 8 \times 3 + 4 \times (40 - x - 20) = 128 - 4x$

共计： $3x - 12 + 128 - 4x = 116 - x$;

② $20 < x \leq 28$

甲： $2 \times 12 + 3 \times 8 + 4(x - 20) = 4x - 32$

乙： $2 \times 12 + 3 \times (40 - x - 12) = 108 - 3x$

共计： $4x - 32 + 108 - 3x = x + 76$;

③ $28 < x \leq 40$

甲： $2 \times 12 + 3 \times 8 + 4(x - 20) = 4x - 32$

乙： $2 \times (40 - x) = 80 - 2x$

共计： $4x - 32 + 80 - 2x = 2x + 48$.

24、(1) 60.

(2) $P: x, Q: x + 15$

$AP = |x - (-40)| = |x + 40|, BQ = |x + 15 - 20| = |x - 5|$

$\therefore |x + 40| + |x - 5| = 45$

① $x < -40$

$-x - 40 - x + 5 = 45$, 解得 $x = -40$ (舍)

② $-40 \leq x \leq 5$

$x + 40 - x + 5 = 45$, 恒成立



$$\textcircled{3} x > 5$$

$$x + 40 + x - 5 = 45, \text{ 解得 } x = 5 \text{ (舍)}$$

$$\therefore -40 \leq x \leq 5.$$

$$(3) |x + 40| + |x - 20| \geq 60, \quad |y| + |y - 15| \geq 15$$

$$\therefore (|x + 40| + |x - 20|) \cdot (|y| + |y - 15|) \geq 900$$

$$\text{又} \because (|x + 40| + |x - 20|) \cdot (|y| + |y - 15|) \leq 900$$

$$\therefore (|x + 40| + |x - 20|) \cdot (|y| + |y - 15|) = 900$$

$$\therefore |x + 40| + |x - 20| = 60, \quad |y| + |y - 15| = 15$$

$$\therefore 0 \leq y \leq 15.$$

2017—2018 学年武汉市二中广雅七年级上学期期中考试数学试卷答案

一、选择题

1	2	3	4	5	6	7	8	9	10
D	B	A	D	B	D	D	B	C	B

二、填空题

11、2

12、 $\frac{(-a)^{n+1}}{n}$

13、-4 或 -10

14、③④

15、2 或 4

16、19

三、解答题

17、(1) -30;

(2) 4.

18、(1) $x = \frac{14}{5}$;

(2) $x = -\frac{9}{7}$.

19、原式 = $-x^2y + xy^2 = -6$.

20、原式 = $(3+n)x^2 + (m-2)x + y + 2$

∵ 多项式与 x 无关

∴ $m-2=0$, $m=2$; $3+n=0$, $n=-3$

∴ 原式 = -74.

21、 $\because a+b < 0, b+2 < 0, a-2c < 0$

$$\therefore d = -a - b + 2 + b + a - 2c - 5 = -2c - 3$$

$$\therefore d + 2c = 3$$

$$\therefore \text{原式} = 57.$$

22、(1) 4, 3;

(2) 2;

(3) $x=0, 1, 2, 4.$

23、(1) 设 10 月份实际用水 $x\text{m}^3$

$$10 \times 0.5 + (x - 10) = 32, \text{ 解得 } x = 37.$$

(2) 11 月份前 6 天用水 $36.14 - 33.14 = 3\text{m}^3$

$$11 \text{ 份共用水 } 5 \times 3 = 15\text{m}^3$$

$$\text{应缴费用为 } 10 \times 0.5 + (15 - 10) \times 1 = 10 \text{ 元}.$$

24、(1) 设乙火车的长度为 $x\text{cm}$

$$2 \times 24 \times 5 + 20 + x = 300, \text{ 解得 } x = 40.$$

(2) 设隧道模型的长为 $y\text{cm}$

$$y + 40 = 14 \times 5, \text{ 解得 } y = 30.$$

(3) 设隧道模型移动的速度为 $z\text{cm/s}$

$$\text{同向运动: } 25(5 - z) = 30 + 20, \text{ 解得 } z = 3$$

$$\text{相向运动: } 25(5 + z) = 30 + 20, \text{ 解得 } z = -3 \text{ (舍)}$$

$$\therefore \text{火车追上隧道的时间 } \frac{10}{5-3} = 5\text{s}$$

$$\text{火车运动的距离: } 5 \times (5 + 25) = 150\text{cm}$$

① 火车头在站牌左侧: $40 + 150 = 190\text{cm}$;

② 火车头在站牌右侧: $150 - 40 = 110\text{cm}$.



2017-2018 学年度第一学期部分学校七年级期中联合测试

英语试卷答案

26~30 AADBA 31~35 CCADA 36~40 BCBBA 41~45 CCBDD 45~50 CDACA

51~55 DBCCD 56~60 BCDAC 61~65 DCBDD

66~70 does, mine, play, photos, takes

71. meet, at 72. some, of 73. sounds, interesting/ fun 74. Difficult/hard, for

75. At/in, with

76. sports 77. boring 78. have 79. easy 80. let

81. next 82. head 83. small 84. go 85. relaxing

【2017-2018 学年江岸区七年级上学期期中测试】

参考答案

26-30 BCBBA 31-35 DDDAB 36-40 ABDAA

41-45 ABCCD 46-50 BABAC 51-55 BCABD

56-60 DCCCB 61-65 ABDCD 66-70 ADCBD

71-75.e-mail; must; thanks for; head; always

76-80 yellow; family; brothers; find; cousins

81-85 bananas; like/love; welcome; English; day



【2017-2018 学年江汉区七年级上学期期中测试】

参考答案

26-30 FABDC 31-35 EGHJ

36-40 CBBAC 41-45 ABBAC 46-50 BCACA

51-55 EADBC

56-60 ABCAC 61-65 CBCAB

66-70 erasers; nine; library; under; What

71-75. parents; meet; Excuse; know; their

76. Here are two nice photos.

77. What's his telephone number?

78. Is this his green pen?/ Is this green pen his?

79. Where is the map?

80. Her pencil box is under the chair.

81-85 No; aren't Is that Where are Those are are not

86-90 BADBA 91-95 DBCCC

96-100 CDABC 101-105 BCACD

106-110 no; free; bag; children; put

111-115 calls; please; girl; yours; tell

书面表达

My name is Kate. I'm twelve years old. I study in a middle school in Wuhan. I am in Class 7, Grade 7. I like reading books. I have many books. I am tidy and I put them on my desk. I also like English because I think it is interesting to study English.