

2020—2021 学年度一年级上学期  
数学参考试卷

同学们，本学期的学习你们一定有很多收获吧！让我们一起来检验学习的收获吧！

基础知识	计算	填空	操作	解决问题	总分	
基本习惯	卷面整洁 1分	书写规范 1分	操作规范 1分	单位答语 1分	自我评价 1分	评价等级

**计算**

(第1题每题1分，第2题每题2分，共20分。)


1.  $2+3=$                        $8-2=$                        $3+9=$   
 $5+7=$                        $3+6=$                        $7+8=$   
 $8+2=$                        $0+5=$                        $9-9=$   
 $14-4=$                        $13-10=$                        $19-0=$


2.  $4+4+6=$                        $8-3+6=$   
 $17+1-4=$                        $12-2-5=$


**填空**


(每空1分，共30分。)

1. 看图写数。









2. 18 里面有( )个十和( )个一。  
 它前面一个数是( )，后面一个数是( )。

3. 在  里填上合适的数。  
 $8 + \square = 11$        $\square - 7 = 2$        $2 + 3 < \square$        $7 + \square > 9$


4. 找规律填数。

5
10

10


14


5. 两个加数都是8，和是( )。被减数和减数都是9，差是( )。

6. 

(1) 上面一共有( )只。      (2) 再添上( )只就是20只了。  
 (3) 把左边的4只圈起来。      (4) 从右边数，给第4只涂上颜色。

7. 写出钟面上的时间。




8. 在  里填上“>”“<”或“=”。
- $9-4$    $6$        $2+9$    $10$        $10-3$    $3+4$

**操作** (15分)

1. 数一数，填一填。(4分)



长方体	( )个
正方体	( )个
圆柱	( )个
球	( )个



学 校

班 级

姓 名

考 号

密封线内不能答题



2. 看一看, 连一连。(5分)



2:00      3时      4:00      快8时了      4时刚过

3. 读一读, 画一画。(6分)

明明画的是这样: ○○○○○○○○

(1) 你比他多画2个, 你画的是这样: \_\_\_\_\_

(2) 你比他少画2个, 你画的是这样: \_\_\_\_\_

**解决问题** (每题5分, 共35分。)

1. 3个  
?个  
 $\square \bigcirc \square = \square ( )$

2. ?个  
18个  
 $\square \bigcirc \square = \square ( )$

3. ?本  
12本  
 $\square \bigcirc \square = \square ( )$

4. ?个  
13个  
 $\square \bigcirc \square \bigcirc \square = \square ( )$

5. 原来有多少个苹果?

$\square \bigcirc \square = \square ( )$

答: 原来有  个。



6. 两只兔子一共拔了几个萝卜?

我拔了9个萝卜。

我和你拔的同样多。

$\square \bigcirc \square = \square ( )$

答: 两只兔子一共拔了  个萝卜。

7. 小猴原来有10个桃子。

我送给小猴3个桃子。

小猴送给我2个桃子。

小猴现在有多少个桃子?

答: 小猴现在有  个桃子。



试卷全部做完了, 请你检查并自我评价! 请在下面等级后打“√”。

我可以得 甲 ( ) 乙 ( ) 丙 ( ) 丁 ( )。

密

封

线

○密封线内不要答题○

密

封

线