

2020—2021 学年度一年级上学期
数学参考试卷

同学们，本学期的学习你们一定有很多收获吧！让我们一起来检验数学知识吧！

基础知识	计算	填空	操作	解决问题	总分
基本习惯	看算整理 1分	书写规范 1分	操作规范 1分	作业整洁 1分	自我评价 1分
					评价等级

计算

(第1题每题4分，第2题每题2分，共20分。)

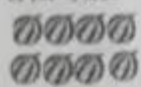
1. $2+3=5$ $8-2=6$ $3+9=12$
 $5+7=12$ $3+6=9$ $7+8=15$
 $8+2=10$ $0+5=5$ $9-9=0$
 $14-4=10$ $13-10=3$ $19-0=19$

2. $4+4+6=14$ $8-3+6=11$
 $17+1-4=14$ $12-2-5=5$

填空

(每空1分，共30分。)

1. 看图写数。



8



15



16



10


2. 18 里面有 (1) 个十和 (8) 个一。

它前面一个数是 (17)，后面一个数是 (19)。


3. 在 \square 里填上合适的数。

$8 + \square = 11$ $\square - 7 = 2$ $2 + 3 < \square$ $7 + \square > 9$

4. 找规律填数。



5. 两个加数都是 8，和是 (16)，被减数和减数都是 9，差是 (0)。
 $8+8=16$ $9-9=0$



6. (1) 上面一共有 (13) 只。 (2) 再添上 (7) 只就是 20 只了。 $20-13=7$

(3) 把左边的 3 只圈起来。 (4) 从右边数，给第 4 只涂上颜色。

7. 写出钟面上的时间。



9:00



6:00



3:00



4:00

8. 在 \bigcirc 里填上 “>” “<” 或 “=”。

$\frac{9-4}{5} < 6$

$\frac{2+9}{11} > 10$

$\frac{10-3}{7} = \frac{3+4}{7}$

操作 (15分)

1. 数一数，填一填。(4分)



长方体	(2) 个
正方体	(5) 个
圆柱	(1) 个
球	(2) 个

2. 看一看, 连一连。(5分)



3. 读一读, 画一画。(6分)

明明画的是这样: ○○○○○○○○ 8

(1) 你比他多画2个, 你画的是这样: ○○○○○○○○○○ 10

(2) 你比他少画2个, 你画的是这样: ○○○○○○ 6

解决问题

(每题5分, 共35分。)

1. 7个

$$\boxed{6} + \boxed{3} = \boxed{9} (\uparrow)$$

2. 18个

$$\boxed{18} - \boxed{4} = \boxed{14} (\uparrow)$$

3. 12本

$$\boxed{12} - \boxed{5} = \boxed{7} (\uparrow)$$

4. 13个

$$\boxed{13} - \boxed{3} - \boxed{3} = \boxed{7} (\uparrow)$$

5. 原来有多少个苹果?

$$\square + \square + \square = \square (\uparrow)$$

答: 原来有 \square 个。



6. 两只兔子一共拔了几个萝卜?

我拔了 \square 个萝卜,

我和你拔的同样多。

$$\boxed{9} + \boxed{9} = \boxed{18} (\uparrow)$$

答: 两只兔子一共拔了 \square 个萝卜。

7. 小猴原来有 10 个桃子。

我送给小猴 3 个桃子

小猴送给我 2 个桃子

小猴现在有多少个桃子?

$$\underline{10 + 3 - 2 = 11 (\uparrow)}$$

答: 小猴现在有 \square 个桃子。



试卷全部做完了, 请你检查并自我评价! 请在下面等级后打“√”。

我可以得 甲 (✓) 乙 () 丙 () 丁 ()。

密封线内不要答题