

六年制小学一年级期末调研测试


数学试题

2021.1

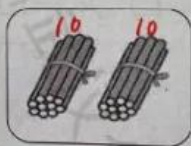
题号	一	二	三	总分
应得分	29	40	31	100
实得分				

一、填一填

1. 看图写数。



8



20



14

2. 画一画：在☀的下面画♡，上面画◇，右边画△，左边画○。

3. 两个加数都是5，和是（10）。

4. 被减数是18，减数是3，差是（15）。

5. 拼成一个大正方体至少需要（8）个☐。



6. 看图写时间。



小红 4:00 回家。

7. 数一数，填一填。

长方体有（6）个，

正方体有（4）个，

圆柱有（2）个，

球有（3）个。



8. 与10相邻的两个数是（9）和（11）。

9. 按规律填数：（17） 15 13 （11） 9。

10.


8	7	1	5	2	6	4
---	---	---	---	---	---	---

(1) 这些数中，最大的是（8），最小的是（1）。

(2) 上面一共有（7）个数，最右边的两个数相差（2）。

(3) 从右边数，6排在第（2）个，它的左边有（5）个数。

(4) 从左边数，第（4）个数和第（6）个数相加得11。



二、算一算

1. 直接写得数。

$9-6=3$ $4+2=6$ $5-3=2$ $8+4=12$ $13-10=3$
 $6+7=13$ $8-7=1$ $12+5=17$ $16-5=11$ $5+9=14$
 $5+5=10$ $2+9=11$ $7+5=12$ $10-6=4$ $6+6=12$
 $8+10=18$ $17-6=11$ $19+0=19$ $4+7=11$ $19-5=14$
 $13+3=16$ $3+7=10$ $11-10=1$ $8+9=17$ $7-2=5$
 $\frac{3+5+6}{8}=14$ $\frac{18-6-2}{2}=10$ $\frac{9-3+9}{6}=15$ $\frac{9+7-3}{16}=13$ $\frac{17-7-7}{10}=3$

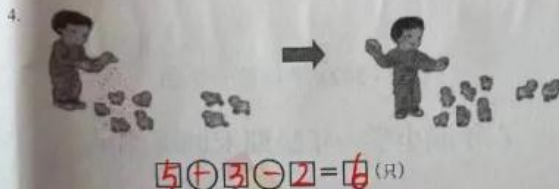

2. 在（ ）里填上合适的数。

$4 + (9) = 13$ $(14) - 4 = 10$ $9 + (2) < 12$
 $\frac{16 - (10)}{6} = 6$ $(10) + 7 - 0 = 17$

3. 在○里填上“>”、“<”或“=”。

$\frac{10-4}{6} < 7$ $14 < \frac{8+7}{5}$ $5 > \frac{14-10}{4}$
 $\frac{6+2}{8} = \frac{10-2}{8}$ $\frac{18-5}{13} = \frac{8+5}{13}$

三、解决问题



5. 一共有多少块积木?

