

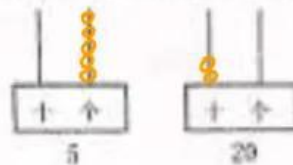

- 二. 1. (13) (15) (7)
 2. (7), (1); (20)
 3. (个), (二)
 4. (12), (7)
 5. (12)
 6. (16)
 7. (5)
 8. ②, ③, ④
 9. (1) 9
 (2) 4, 6
 10. ③, ⑨+④ (答案不唯一), ⑪ (答案不唯一)
 11. (11)
 12. (7)

- 三. 1. ② 2. ① 3. ③ 4. ① 5. ①

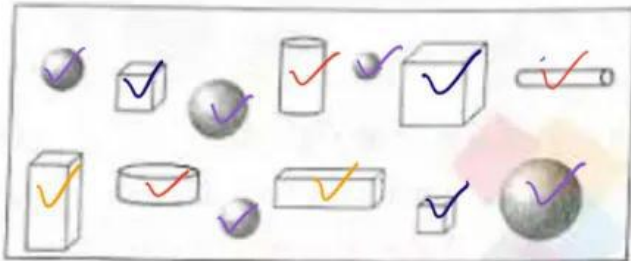
四. 1.

● 和 ♥ 同样多		$5 = 5$	
● 比 ♥ 多		$6 > 5$	答案不唯一
▲ 比 ♥ 少		$4 < 5$	

2. (1分) 比一比, 把最长的铅笔涂上颜色。 3. (2分) 用珠子表示下面的数。



4. (5分) 数一数, 填一填。



(1) 数一数。

□ (3) 个

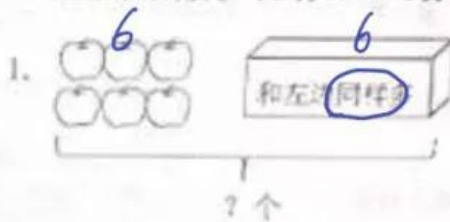
○ (2) 个

● (3) 个


● (5) 个

(2) 一共有 (13) 个立体图形。

五、看图列式计算。(3分×4=12分)

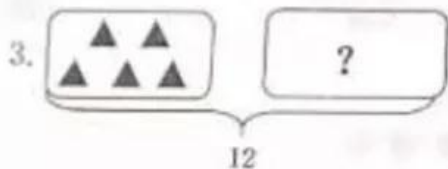


$$6 + 6 = 12 \text{ (个)}$$




$$8 - 3 - 1 = 4 \text{ (个)}$$

?只



$$5 + 7 = 12$$



9只

$$9 - 2 = 7 \text{ (只)}$$

六、我会解决问题。(4分×6=24分)

1. (4分)

我昨天写了7个大字, 今天写了8个。



两天一共写了多少个大字?

$$7 + 8 = 15 \text{ (个)}$$

2. (4分) 树上原来有多少个苹果?



我摘了6个苹果，树上还有9个苹果。



我摘了3个梨。

$$9 + 6 + 3 = 18 \text{ (个)}$$

3. (4分) 两人一共折了多少只千纸鹤?

$$7 + 7 = 14 \text{ (只)}$$



这是我折的。

我折的和你同样多。



4. (4分)



我吃了4条

我吃了2条

还剩多少条?

$$10 - 4 - 2 = 4 \text{ (条)}$$

5. (4分) 一(1)班15名男生参加运动会，每人发一瓶水，还需要准备几瓶水?

$$15 - 4 = 11 \text{ (瓶)}$$



我们已经有了4瓶。



6. (4分) 一共有多少个球?



$$6 + 7 = 13 \text{ (个)}$$

$$5 + 8 = 13 \text{ (个)}$$