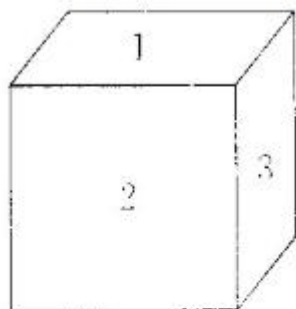


人教版五年级上册数学第四单元试题三

1. 填一填。

1. 口袋里只有10个白色围棋子，任意摸出一个，肯定是（ ）色的。



盒子里有9个红色跳棋子，2个黄色跳棋子。任意摸出一个，可能出现（ ）种情况，分别是（ ）和（ ），摸出（ ）色跳棋子的可能性大。

正方体的各个面上分别写着1, 2, 3, 4, 5, 6，抛掷这个正方体，看看哪一面朝上，有（ ）种可能出现的结果，每种结果出现的可能性（ ），出现其中任意一种结果的可能性是（ ）。

连一连，从下面的5个盒子里，分别摸出1个球。



可能是白球

很可能是白球

根本不可能是白球

一定是白球


不太可能是白球



三、涂一涂。







看到的花没有红色的。



拿到的花可能有红色的。

四、一定的画“√”，不可能的画“×”，可能的画“○”。


<p>1.  ( )</p> <p>今天是星期二，明天是星期日。</p>	<p>2.  ( )</p> <p>飞机能在天上飞。</p>
<p>3.  ( )</p> <p>冬天下雨。</p>	<p>4.  ( )</p> <p>体育彩票中奖。</p>


五、解决问题。


1. 新年联欢会有一项抽签游戏。小明抽一张，最有可能的是什么？


奖 品	1 张
唱 歌	5 张
讲故事	3 张

2.

 我统计了一下班里喜欢吃水果的人数。

 8 人

 32 人

 14 人

(1)全班共有多少人？

(2)喜欢吃香蕉的人数比喜欢吃苹果的人数多多少人？

(3)猜一猜，小红很可能喜欢吃哪种水果。

(4)你还能提出什么**数学**问题？写在下面并解答。

3. 盒子里有2张一等奖和5张二等奖的奖券，任意摸出一张，会有几种可能出现的结果？出现每一种结果的可能性相同吗？出现哪种结果的可能性大一些？

#### 六、**数学**小天地。

把小明的眼睛蒙上，让他猜一猜哪个格子里有书包，是猜到的可能性大，还是猜不到的可能性大？

